

DO NOT OPEN THIS BOOKLET UNTIL TOLD TO DO SO
इस पुस्तिका को आदेश मिलने पर ही खोलें।

Time Allowed : 2 Hours 30 Minutes
अनुमत समय: 2 घंटे 30 मिनट

Total No. Questions : 160
प्रश्नों की कुल संख्या : 160

Roll No: _____
अनुक्रमांक: _____

Total No. of printed pages :- _____
मुद्रित पृष्ठों की कुल संख्या: - _____

Name of the Candidate (in Capital letters) : _____
अभ्यर्थी का नाम:

Candidate's Signature अभ्यर्थी के हस्ताक्षर.....	Invigilator's Signature कक्ष निरीक्षक के हस्ताक्षर.....
---	--

READ THE FOLLOWING INSTRUCTIONS CAREFULLY BEFORE USING THIS BOOKLET			इस पुस्तिका को प्रयोग करने से पहले निम्नलिखित निर्देश ध्यानपूर्वक पढ़ें		
1	This booklet contains _ pages including the blank. As soon as you open the booklet, please ensure that all the pages are intact and printed correctly.		1	इस प्रश्न-पुस्तिका में खाली पृष्ठों सहित _ पृष्ठ हैं। जैसे ही आप प्रश्न-पुस्तिका खोलते हैं, यह सुनिश्चित करें कि सभी पृष्ठ मौजूद हैं एवं सही तरह से मुद्रित हैं।	
2	Candidates are allowed to take the Question booklet after the Examination is over.		2	परीक्षा समाप्ति के उपरान्त अभ्यर्थी प्रश्न-पुस्तिका अपने साथ ले जा सकते हैं।	
3	All candidates have to answer all questions in Part-I, Part-II & Part-III. In Part-IV, choose your relevant language out of Hindi/Odia. All questions carry equal marks.		3	सभी अभ्यर्थियों को भाग-I, भाग-II, एवं भाग-III के सभी प्रश्नों के उत्तर देने हैं। भाग-IV में अपनी प्रासंगिक भाषा का चयन हिन्दी / उड़िया में से करें। सभी प्रश्नों के अंक समान हैं।	
4	Each question carries four options i.e., A, B, C and D. You have to mark the most appropriate option.		4	प्रत्येक प्रश्न के चार विकल्प A, B, C, एवं D हैं। आपको इनमें से सबसे उपयुक्त विकल्प चुनना है।	
5	There would be negative marking of the value of 0.25 marks for each wrong answer.		5	प्रत्येक गलत उत्तर के लिये 0.25 का ऋणात्मक अंकन होगा।	
6	All rough work should be done only on the blank pages provided for this purpose at the end of this Booklet. No extra page will be provided.		6	सभी कच्चे कार्य केवल इस प्रश्न-पुस्तिका के अन्त में दिये गये खाली पृष्ठों पर ही किया जाना है। कोई भी अतिरिक्त पृष्ठ प्रदान नहीं किया जायेगा।	
7	No candidate will be allowed to leave the examination hall during the exam. Candidates are allowed to leave the hall only after the OMR Sheets from all have been collected and accounted for.		7	परीक्षा के दौरान किसी भी अभ्यर्थी को परीक्षा कक्ष छोड़ने की अनुमति प्रदान नहीं की जायेगी। अभ्यर्थी को सभी OMR उत्तर पत्रिका कक्ष निरीक्षक द्वारा वापस ले लिये जाने एवं इसकी गणना पूरी हो जाने पर ही परीक्षा कक्ष छोड़कर जाने के लिए अनुमति प्रदान की जाती है।	
8	Questions in this booklet span across the following parts:		8	इस पुस्तिका में प्रश्न निम्न भागों में विभाजित हैं:	
		Marks			अंक
Part-I	General awareness (Questions 1-40)	40	भाग-I	सामान्य ज्ञान (प्रश्न 1-40)	40
Part-II	General Intelligence (Questions 41-80)	40	भाग-II	सामान्य बुद्धिमत्ता (प्रश्न 41-80)	40
Part-III	English Language (Questions 81-120)	40	भाग-III	अंग्रेजी भाषा (प्रश्न 81-120)	40
Part-IV	Hindi/Odia Language (Questions 121-160)	40	भाग-IV	हिन्दी/उड़िया (प्रश्न 121-160)	40
	Total	160		योग	160
9			9		
	Total Marks allotted	160		कुल अंक	160
	No. of Questions	160		प्रश्नों की कुल संख्या	160
	Time allotted	2 Hours 30 Minutes		अनुमत समय	2 घंटे 30 मिनट
	Sectional time limit	No		खण्ड समय सीमा	नहीं
	Sectional cut off	No		खण्ड कट ऑफ	नहीं
	Negative marking	Yes		ऋणात्मक अंकन	हाँ

Part-I/भाग-I (GENERAL AWARENESS/सामान्य ज्ञान)

1	Which of the following countries is not a Republic? (A) France (B) Germany (C) Britain (D) USA	1	निम्नलिखित में से कौन सा देश गणतन्त्र नहीं है? (A) फ्रांस (B) जर्मनी (C) ब्रिटेन (D) संयुक्त राज्य अमरीका
2	On which date Surgical Strike was carried out by Indian Army? (A) 25 th June, 2016 (B) 29 th September, 2016 (C) 20 th October, 2017 (D) 19 th November, 2017	2	भारतीय सेना ने 'सार्जिकल स्ट्राइक' किस तारीख को की थी? (A) 25 जून, 2016 (B) 29 सितम्बर, 2016 (C) 20 अक्टूबर, 2017 (D) 19 नवम्बर, 2017
3	Which of the following provides for special status to the State of Jammu & Kashmir? (A) Article 320 (B) Article 356 (C) Article 365 (D) Article 370	3	निम्नलिखित में से किसके अन्तर्गत जम्मू और कश्मीर राज्य को विशेष दर्जा प्रदान किया गया है? (A) अनुच्छेद 320 (B) अनुच्छेद 356 (C) अनुच्छेद 365 (D) अनुच्छेद 370
4	Who unveiled "Me too" movement in India? (A) Priya Dutta (B) Arundhati Roy (C) Tanushree (D) Aishwarya Rai	4	भारत में "मी टू" आन्दोलन की शुरुआत किसने की? (A) प्रिया दत्ता (B) अरुंधती राय (C) तनुश्री (D) ऐश्वर्या राय
5	Which country is associated with India in the BrahMos Project? (A) France (B) Russian Federation (C) USA (D) Germany	5	ब्रह्मोस परियोजना में भारत का सहयोगी देश कौन सा है? (A) फ्रांस (B) रूसी राज्य संघ (C) संयुक्त राज्य अमरीका (D) जर्मनी

6	In which State Cryogenic Engine of Chandrayaan-II was successfully tested? (A) Andhra Pradesh (B) Odisha (C) Tamil Nadu (D) Rajasthan	6	चन्द्रयान-2 के क्रायोजेनिक इंजन का सफल परीक्षण किस राज्य में किया गया था? (A) आन्ध्र प्रदेश (B) उड़ीसा (C) तमिलनाडु (D) राजस्थान
7	How many votes were polled by India in the UNHRC Elections held recently in the 193- member United Nations? (A) 127 (B) 188 (C) 178 (D) 158	7	संयुक्त राष्ट्र संघ मानवाधिकार परिषद् (यू. एन. एच. आर.सी.) के लिए हाल ही में हुए चुनावों में भारत को संयुक्त राष्ट्र संघ के 193 सदस्य देशों में से कुल कितने देशों के मत प्राप्त हुए थे? (A) 127 (B) 188 (C) 178 (D) 158
8	NASA's "Chandra X-ray Observatory" was named after Indian-American? (A) Chandrasekhar Azad (B) Subramanian Chandrasekhar (C) Ravi Chandra (D) Prof. S. Chandrasekhar	8	नासा की 'चन्द्र एक्सरे वेधशाला' (आर्बिटेररी) का नामकरण किस भारतीय-अमरीकी के नाम पर रखा गया था? (A) चन्द्रशेखर आजाद (B) सुब्रहमण्यम चन्द्रशेखर (C) रवि चन्द्र (D) प्रो. एस. चन्द्रशेखर
9	Drone Technology is one of the Projects undertaken by (A) "Industry 4.0" (B) "ISRO" (C) "NASA" (D) "BrahMos"	9	ड्रोन प्रौद्योगिकी पर निम्नलिखित में किस परियोजना के अन्तर्गत काम किया जा रहा है? (A) "इन्डस्ट्री 4.0" (B) "इसरो" (C) "नासा" (D) "ब्रह्मोस"
10	Who founded the World Economic Forum? (A) Richard Nixon (B) James Alexander (C) Meira Gold (D) Klaus Schwab	10	विश्व आर्थिक मंच (डब्ल्यू. ई. एफ.) की स्थापना किसने की थी? (A) रिचर्ड निक्सन (B) जेम्स अलेक्जेंडर (C) मायरा गोल्ड (D) क्लास स्वाब

11	Who was recently appointed as the Solicitor-General of India? (A) N.A. Palkiwala (B) Fali Nariman (C) Thushar Mehta (D) K.K. Venugopal	11	हाल ही में भारत के सॉलिसिटर जनरल के रूप में किसे नियुक्त किया गया था? (A) एन.ए. पालकीवाला (B) फॉली नरीमन (C) तुषार मेहता (D) के.के. वेणुगोपाल
12	Who is known as the Frontier Gandhi of India? (A) Abdul Ghaffar Khan (B) Attaullah Khan (C) Ayatollah Ali (D) Shaik Muzbur	12	भारत के "फ्रन्टियर गांधी" के रूप में किसे जाना जाता है? (A) अब्दुल गफ्फार खान (B) अताउल्लाह खान (C) अयातुल्लाह अली (D) शाइक मुज्बूर
13	Which is the highest wartime Gallantry Award in the Indian Army? (A) Mahavir Chakra (B) Ashok Chakra (C) Shourya Chakra (D) Paramvir Chakra	13	भारतीय सेना में युद्ध-काल का उच्चतम शौर्य पुरस्कार कौन सा है? (A) महावीर चक्र (B) अशोक चक्र (C) शौर्य चक्र (D) परमवीर चक्र
14	Which Article in the Indian Constitution provides the Right to Constitutional Remedies? (A) Article 25 (B) Article 32 (C) Article 52 (D) Article 14	14	भारत के संविधान में किस अनुच्छेद में संवैधानिक उपचारों के लिए अधिकार प्रदान किया गया है? (A) अनुच्छेद 25 (B) अनुच्छेद 32 (C) अनुच्छेद 52 (D) अनुच्छेद 14
15	Under which Article in the Constitution of India the Inter-State Council is constituted? (A) Article 1 (B) Article 163 (C) Article 263 (D) Article 356	15	भारत के संविधान में किस अनुच्छेद के अन्तर्गत अन्तर राज्यीय परिषद् का गठन किया जाता है? (A) अनुच्छेद 1 (B) अनुच्छेद 163 (C) अनुच्छेद 263 (D) अनुच्छेद 356
16	"The Statue of Unity" is located at (A) Sadhu Bet (B) Beda Ghat (C) Kanyakumari (D) Mount Abu	16	"दि स्टैच्यू ऑफ यूनिटी" कहाँ स्थित है? (A) साधु बेट (B) बेडा घाट (C) कन्याकुमारी (D) माउंट आबू

17	Name the Sports Minister who said "My Ministry will strive to ensure that Athletes get Sammaan and Suvidha (respect and facility). (A) Vijay Goel (B) Sarbananda Sonowal (C) Rajyavardhan Rathore (D) Ajay Maken	17	"मेरा मंत्रालय" यह सुनिश्चित करने के लिए प्रयास करेगा कि एथलीटों को सम्मान और सुविधा मिले" यह किस खेल मंत्री ने कहा था? (A) विजय गोयल (B) सर्वानन्द सोनोवाल (C) राज्यवर्धन राठौर (D) अजय माकन
18	In which case the Bharat Ratna Award announcement had to be withdrawn following a Supreme Court Order? (A) Annie Besant (B) Subhash Chandra Bose (C) CN Annadorai (D) PV Narasimha Rao	18	उच्चतम न्यायालय के आदेश के पश्चात् किसके मामले में भारत रत्न पुरस्कार दिए जाने की घोषणा को वापस लिया गया था? (A) एनी बेसेंट (B) सुभाष चन्द्र बोस (C) सी.एन. अन्नादुरै (D) पी. वी. नरसिंह राव
19	Who is the Leader of the House in the Rajya Sabha? (A) Rajnath Singh (B) Arun Jaitley (C) Ghulam Nabi Azad (D) Nirmala Sitharaman	19	राज्य सभा में सभा के नेता कौन हैं? (A) राजनाथ सिंह (B) अरुण जेटली (C) गुलाम नबी आजाद (D) निर्मला सीतारामन
20	A Bill passed by both Houses of Parliament becomes an Act after it is signed by (A) Prime Minister (B) The Speaker (C) Chairman of Rajya Sabha (D) President of India	20	संसद के दोनों सदनों द्वारा पारित विधेयक किसके हस्ताक्षर के पश्चात् अधिनियम बनता है? (A) प्रधानमंत्री (B) लोकसभाध्यक्ष (C) राज्य सभा के सभापति (D) भारत के राष्ट्रपति
21	The Blockchain technology was conceptualised by (A) Satoshi Nakamoto (B) Merkel (C) Garner (D) Scott	21	"ब्लॉकचेन प्रौद्योगिकी" की संकल्पना किसकी थी? (A) सातोशी नाकामोटो (B) मर्केल (C) गार्नर (D) स्कॉट

22	<p>Founder of Amazon</p> <p>(A) Bill Gates</p> <p>(B) Warren Buffett</p> <p>(C) Jeff Bezos</p> <p>(D) Brion Acton</p>	22	<p>'अमेज़ॉन' का संस्थापक कौन है?</p> <p>(A) बिल गेट्स</p> <p>(B) वॉरेन बफेट</p> <p>(C) जेफ बेज़ॉस</p> <p>(D) ब्रायन एक्टन</p>
23	<p>Which of the following is said to be the first metal used in ancient India</p> <p>(A) Gold</p> <p>(B) Copper</p> <p>(C) Silver</p> <p>(D) Iron</p>	23	<p>प्राचीन भारत में निम्नलिखित में से किस धातु को कथित रूप से सबसे पहले उपयोग में लाया गया था?</p> <p>(A) सोना</p> <p>(B) तांबा</p> <p>(C) चाँदी</p> <p>(D) लौह</p>
24	<p>Insulin controls the metabolism of</p> <p>(A) Hormones</p> <p>(B) Carbohydrates</p> <p>(C) Proteins</p> <p>(D) Fats</p>	24	<p>इन्सुलिन निम्नलिखित में से किसके उपापचय को नियंत्रित करती है?</p> <p>(A) हार्मोन</p> <p>(B) कार्बोहाइड्रेट्स</p> <p>(C) प्रोटीन</p> <p>(D) वसा</p>
25	<p>Chlorophyll is a naturally occurring chelate compound in which central metal is</p> <p>(A) Iron</p> <p>(B) Copper</p> <p>(C) Magnesium</p> <p>(D) Calcium</p>	25	<p>क्लोरोफिल स्वाभाविक रूप से उत्पन्न होने वाला कीला युक्त (कीलेट) मिश्र पदार्थ है, जिसमें प्रमुख धातु है:</p> <p>(A) लौह</p> <p>(B) तांबा</p> <p>(C) मैग्नेशियम</p> <p>(D) कैल्सियम</p>
26	<p>If a moving body turns its speed to 1.5 times, what will be the impact on its kinetic energy?</p> <p>(A) 2.25 times</p> <p>(B) 1.5 times</p> <p>(C) 3 times</p> <p>(D) 6 times</p>	26	<p>यदि कोई गतिमान पदार्थ अपनी गति को डेढ़ गुना बढ़ा लेता है तो इसकी गतिक ऊर्जा पर कितना प्रभाव पड़ेगा?</p> <p>(A) 2.25 गुना</p> <p>(B) 1.5 गुना</p> <p>(C) 3 गुना</p> <p>(D) 6 गुना</p>
27	<p>Who was the last Governor General of India?</p> <p>(A) Warren Hastings</p> <p>(B) Winston Churchill</p> <p>(C) Chakravarthi Rajagopalachari</p> <p>(D) Lord Mount Baton</p>	27	<p>भारत के अन्तिम गवर्नर जनरल कौन थे?</p> <p>(A) वॉरेन हेस्टिंग</p> <p>(B) विंस्टन चर्चिल</p> <p>(C) चक्रवर्ती राजगोपालाचारी</p> <p>(D) लार्ड माउंटबेटन</p>

28	Who pilots the Private Member's Bill? (A) Parliamentary Affairs Minister (B) M.P. (C) Home Minister (D) The Speaker	28	गैर सरकारी सदस्य के विधेयक को कौन प्रस्तुत करता है? (A) संसदीय कार्य मंत्री (B) संसद सदस्य (C) गृह मंत्री (D) लोकसभाध्यक्ष
29	From which Party the present Deputy Chairman of Rajya Sabha hails? (A) BJP (B) Congress (C) BSP (D) JD(U)	29	राज्य सभा के वर्तमान उपसभापति किस दल से हैं? (A) भाजपा (B) कांग्रेस (C) बसपा (D) जेडी(यू)
30	Which language is used for the official proceedings in the Supreme Court of India? (A) Hindi (B) English (C) Urdu (D) Sanskrit	30	भारत के उच्चतम न्यायालय की आधिकारिक कार्यवाही में कौन सी भाषा प्रयोग में लाई जाती है? (A) हिन्दी (B) अंग्रेजी (C) ऊर्दू (D) संस्कृत
31	Who coined the word "BREXIT"? (A) Peter Wilding (B) Theresa May (C) David Cameron (D) Merkel	31	"ब्रेक्जिट" शब्द पहली बार किसने प्रयोग किया था? (A) पीटर विल्डिंग (B) थेरेसा मे (C) डेविड केमरॉन (D) मर्केल
32	In which State, Brihadishvara temple is located? (A) Karnataka (B) Maharashtra (C) Tamil Nadu (D) Kerala	32	बृहदेश्वर मंदिर किस राज्य में स्थित है? (A) कर्नाटक (B) महाराष्ट्र (C) तमिलनाडु (D) केरल
33	In which State, "Sundarbans" Forest is located? (A) West Bengal (B) Rajasthan (C) Himachal Pradesh (D) Uttarakhand	33	"सुन्दरबन" वन किस राज्य में स्थित है? (A) पश्चिमी बंगाल (B) राजस्थान (C) हिमाचल प्रदेश (D) उत्तराखंड

34	Which of the following is called the "Land of the Blue Sky"? (A) Bhutan (B) Indonesia (C) Mongolia (D) Singapore	34	निम्नलिखित में से किसे "लैंड ऑफ द ब्लू स्काई" कहा जाता है? (A) भूटान (B) इन्डोनेशिया (C) मंगोलिया (D) सिंगापुर
35	What was the age at which Mahatma Gandhi's marriage took place? (A) 13 years (B) 16 Years (C) 15 Years (D) 17 years	35	महात्मा गांधी का विवाह किस आयु में हुआ था? (A) 13 वर्ष (B) 16 वर्ष (C) 15 वर्ष (D) 17 वर्ष
36	Which country will host the 2022 Youth Olympic Games? (A) Mexico (B) Sri Lanka (C) Senegal (D) Nigeria	36	2022 के युवा ओलिम्पिक खेलों का आयोजन किस देश में किया जाएगा? (A) मैक्सिको (B) श्रीलंका (C) सेनेगल (D) नाइजीरिया
37	In which Schedule of the Indian Constitution the Anti-Defection provisions are incorporated? (A) 7 th Schedule (B) 9 th Schedule (C) 10 th Schedule (D) 12 th Schedule	37	दल बदल विरोधी प्रावधानों को भारत के संविधान की किस अनुसूची में अन्तर्विष्ट किया गया है? (A) 7 वीं अनुसूची (B) 9 वी अनुसूची (C) 10 वीं अनुसूची (D) 12 वीं अनुसूची
38	The Golden Couple" — a pair of golden snub-nosed monkeys are found in (A) Sri Lanka (B) China (C) South Africa (D) USA	38	सुनहरी चपटी नाक वाले बन्दरों की जोड़ी- "द गोल्डन कपल" किस देश में पाई जाती है? (A) श्रीलंका (B) चीन (C) दक्षिणी अफ्रीका (D) संयुक्त राज्य अमरीका
39	In which country, Rohingyas were found in largest-number? (A) Bangladesh (B) Pakistan (C) Iran (D) Myanmar	39	किस देश में बड़ी संख्या में रोहिंग्या रहते हैं? (A) बांग्लादेश (B) पाकिस्तान (C) ईरान (D) म्यांमार

40	Who is the Ex-Officio President of Indian Council of World Affairs? (A) External Affairs Minister (B) President of India (C) Vice President (D) Prime Minister	40	इंडियन काउंसिल ऑफ वर्ल्ड अफेयर्स के पदेन अध्यक्ष कौन है? (A) विदेश मंत्री (B) भारत के राष्ट्रपति (C) उपराष्ट्रपति (D) प्रधानमंत्री
----	--	----	--

Part-II/ भाग-II (General Intelligence / सामान्य बुद्धिमत्ता)

41	'Foundation' is related to 'Edifice' in the same way as 'Constitution' is related to (A) Government (B) Stage (C) Nation (D) Cabinet	41	"नींव" का सम्बन्ध "भवन" से उसी प्रकार से है जिस प्रकार से संविधान का सम्बन्ध (A) सरकार (B) मंच (C) राष्ट्र (D) मंत्रिमंडल से है।
	Choose the word that is least like the other words in the group. (Qs: 42 & 43)		निम्नलिखित (प्रश्न: 42 और 43) में से वह कौन सा शब्द है जो दूसरे समूह के किसी शब्द से थोड़ा बहुत भी समान है।
42	(A) Ghosts (B) Spirits (C) Phantoms (D) Skeletons	42	(A) भूत (B) प्रेतात्मा (C) बेताल (D) कंकाल
43	(A) Pituitary (B) Pancreas (C) Thalamus (D) Adrenal	43	(A) पीयूषिका (B) अग्नाशय (C) अंतःपुर (D) अधिवृक्क ग्रंथि
44	In a certain code '123' means 'hot filtered coffee'. '356' means 'very hot day' and '589' means 'day and night'. Which digit stands for 'very'? (A) 6 (B) 5 (C) 8 (D) 9	44	एक निश्चित कूट संकेत के अन्तर्गत '123' का अर्थ 'गर्म फिल्टर्ड कॉफी', '356' का अर्थ 'अत्यन्त गर्म दिन' और '589' का अर्थ 'दिन और रात' है। 'अत्यन्त' के लिए प्रयोग में लाया गया अंक कौन सा है? (A) 6 (B) 5 (C) 8 (D) 9
45	Fill in the blank: QAR, RAS, SAT, TAU, _____ (A) UAV (B) UAT (C) TAS (D) TAT	45	खाली स्थान को भरें : क्यू ए आर, आर ए एस, एस ए टी, टी ए यू, _____ (A) यू ए वी (B) यू ए टी (C) टी ए एस (D) टी ए टी

	Complete the word associations. (Qs: 46 & 47)		शब्द संगति को पूरा कीजिए । (प्रश्न : 46 और 47)
46	Bee: Stings :- Dog : ? (A) Pet (B) Barks (C) Cat (D) Tail	46	मधुमक्खी : डंक :- कुत्ता : ? (A) पालतू पशु (B) भौंकना (C) बिल्ली (D) पूंछ
47	Motorcycle: Cylinder :- ? : Rack (A) Bicycle (B) Boat (C) Horse (D) Walking	47	मोटरसाइकिल : सिलिंडर :- ? : रैक (A) बाइसिकिल (B) नाव (C) घोड़ा (D) पैदल-चालन
48	'Philatelist' is related to 'stamps' just as 'Demographer' is related to (A) Music (B) Photography (C) Fossils (D) People	48	'टिकट संग्राहक' का सम्बन्ध जिस प्रकार टिकट से है उसी प्रकार 'जनसांख्यिकीविद्' का सम्बन्ध (A) संगीत (B) फोटोग्राफी (C) जीवाश्म (D) जनता से है।
	Read the given statements carefully. On the basis of the given statements, which of the following options is true? (Qs: 49 & 50)		निम्नलिखित कथन को ध्यान से पढ़िए। दिए गए कथन के आधार पर निम्नलिखित विकल्पों में से कौन सा सही है? (प्रश्न : 49 और 50)
49	All TV commercials give information. Some TV commercials are without humour. (A) All information is with humour (B) All TV commercials are with humour (C) Some information is humourless (D) TV commercials have no humour	49	टेलीविजन पर दिए जाने वाले सभी विज्ञापन जानकारी देते हैं। टेलीविजन के कुछ विज्ञापन हास-परिहास से रहित होते हैं। (A) सभी जानकारी हास-परिहास से युक्त होती है। (B) टेलीविजन के सभी विज्ञापन हास-परिहास युक्त होते हैं। (C) कुछ जानकारी हास-परिहास से रहित होती हैं। (D) टेलीविजन के विज्ञापनों में कोई हास-परिहास नहीं होता है।

50	<p>Christopher is a surgeon. Christopher can legally perform brain surgery.</p> <p>(A) Only surgeons can legally perform brain surgery</p> <p>(B) Surgeons cannot legally perform brain surgery</p> <p>(C) Christopher cannot perform brain surgery</p> <p>(D) Some doctors can perform brain surgery</p>	50	<p>क्रिस्टोफर शल्य-चिकित्सक हैं। क्रिस्टोफर वैधानिक तौर पर मस्तिष्क की शल्य चिकित्सा कर सकते हैं।</p> <p>(A) केवल शल्य चिकित्सक ही वैधानिक तौर पर मस्तिष्क की शल्य चिकित्सा कर सकते हैं।</p> <p>(B) शल्य चिकित्सक वैधानिक तौर पर मस्तिष्क की शल्य चिकित्सा नहीं कर सकते हैं।</p> <p>(C) क्रिस्टोफर मस्तिष्क की शल्य चिकित्सा नहीं कर सकते हैं।</p> <p>(D) कुछ डॉक्टर मस्तिष्क की शल्य चिकित्सा कर सकते हैं।</p>
	Read the following information and answer (Qs: 51-52).		निम्नलिखित जानकारी को पढ़िए और (प्रश्न : 51-52) के उत्तर दीजिए।
	<p>Manish, Rishi, Rhea and Kavya are 4 creative artists of great talent. One is a dancer, one is a painter, one is a singer, and one is a writer, not necessarily in that order. Read the given premises and answer the following questions.</p> <p>I. Manish and Rhea were in the audience the night the singer made his debut on stage.</p> <p>II. Both Rishi and the writer have had their portraits painted by the painter.</p> <p>III. The writer, whose biography of Kavya was a best seller is planning to write a biography of Manish.</p> <p>IV. Manish has never heard Rhea.</p>		<p>मनीष, रिषि, रिया और काव्या चार अत्यधिक योग्यता वाले सृजनशील कलाकार हैं। एक नृतक है, एक चित्रकार है, एक गायक है, और एक लेखक है, यह आवश्यक नहीं है कि उनकी यह योग्यता उनके नामों के क्रमानुसार है। नीचे दिए गए आमुख को पढ़कर निम्नलिखित प्रश्नों के उत्तर दीजिए।</p> <p>I. जिस रात्रि को गायक ने मंच पर प्रथम बार अपने गायकी का कार्यक्रम प्रस्तुत किया, मनीष और रिया श्रोताओं में बैठे थे।</p> <p>II. रिषि और लेखक दोनों के पास चित्रकार द्वारा बनाए गए अपने-अपने छायाचित्र थे।</p> <p>III. लेखक, जिसके द्वारा लिखित काव्या की जीवनी सबसे अधिक बिकने वाली पुस्तक थी, मनीष की जीवनी लिखने पर विचार कर रहा है।</p> <p>IV. मनीष ने रिया को गाते हुए कभी नहीं सुना।</p>
51	<p>Kavya is a</p> <p>(A) Dancer</p> <p>(B) Writer</p> <p>(C) Singer</p> <p>(D) painter</p>	51	<p>काव्या एक</p> <p>(A) नृत्यांगना</p> <p>(B) लेखिका</p> <p>(C) गायिका</p> <p>(D) चित्रकार है।</p>
52	<p>Rishi is a</p> <p>(A) Dancer</p> <p>(B) Writer</p> <p>(C) Singer</p> <p>(D) Painter</p>	52	<p>रिषि एक</p> <p>(A) नृतक</p> <p>(B) लेखक</p> <p>(C) गायक</p> <p>(D) चित्रकार है।</p>

	Directions for (Qs: 53-54)		प्रश्न : 53-54 के लिए निर्देश:
	<p>Six people were playing a game sitting in a circle and everyone facing the center.</p> <p>I. Vijay was to the left of Sudhir.</p> <p>II. Amar was between Rakesh and Saurav.</p> <p>III. Neeru was second to the left of Amar.</p>		<p>छ: व्यक्ति गोलाकार स्थिति में बैठे हुए खेल रहे थे और प्रत्येक व्यक्ति का मुख केन्द्र की ओर था।</p> <p>क. विजय सुधीर की बायीं ओर था।</p> <p>ख. अमर, राकेश और सौरव के बीच में था।</p> <p>ग. नीरू, अमर की बायीं ओर से दूसरे स्थान पर थी।</p>
53	<p>Who is second to the right of Vijay?</p> <p>(A) Rakesh</p> <p>(B) Saurav</p> <p>(C) Neeru</p> <p>(D) None of these</p>	53	<p>विजय की दायीं ओर से दूसरा कौन है?</p> <p>(A) राकेश</p> <p>(B) सौरव</p> <p>(C) नीरू</p> <p>(D) इनमें से कोई नहीं।</p>
54	<p>Who is/are between Amar and Vijay?</p> <p>(A) Saurav and Sudhir</p> <p>(B) Rakesh and Saurav</p> <p>(C) Sudhir and Rakesh</p> <p>(D) None of these</p>	54	<p>अमर और विजय के बीच कौन-कौन हैं?</p> <p>(A) सौरव और सुधीर</p> <p>(B) राकेश और सौरव</p> <p>(C) सुधीर और राकेश</p> <p>(D) इनमें से कोई नहीं।</p>
55	<p>According to recent studies, people whose diet is unusually high in protein are more likely to suffer from insomnia than people whose diet contains moderate amounts of protein. It is therefore likely that a diet high in protein is a cause, though perhaps not the only cause, of insomnia. Which of the following, if true, casts the most serious doubt on the conclusion drawn above?</p> <p>(A) People whose diet is unusually high in protein often have other characteristics in common, some of which are likely to cause insomnia.</p> <p>(B) Diets that are high in protein are often low in foods that help keep the immune system working effectively.</p> <p>(C) Reducing the amount of protein in one's diet can be harmful.</p> <p>(D) People whose diets are unusually low in protein often experience insomnia.</p>	55	<p>हाल ही के अध्ययनों के अनुसार, अपने आहार में प्रोटीन की नियंत्रित मात्रा लेने वाले लोगों की तुलना में अपने आहार में असाधारण रूप से अधिक मात्रा में प्रोटीन लेने वाले लोगों के अनिद्रा से ग्रस्त होने की संभावना अधिक है। यद्यपि प्रोटीन की अधिक मात्रा वाला आहार, अनिद्रा का एक कारण हो सकता है तथापि शायद यही एकमात्र कारण नहीं हो सकता। निम्नलिखित में से कौन सा कथन, यदि सत्य हो, ऊपर दिए गए निष्कर्ष पर सबसे अधिक गम्भीर संदेह व्यक्त करता है?</p> <p>(A) उन लोगों में, जिनके आहार में प्रोटीन की मात्रा असाधारण रूप से अधिक होती है, प्रायः कुछ ऐसे लक्षण होते हैं जिनमें से कुछ के कारण अनिद्रा से ग्रस्त होने की संभावना होती है।</p> <p>(B) अधिक मात्रा में प्रोटीन वाले आहारों में प्रायः भोजन की मात्रा कम होती है जिससे शरीर की रोग-प्रतिरोधक प्रणाली प्रभावी ढंग से काम करती है।</p> <p>(C) किसी व्यक्ति के आहार में से प्रोटीन की मात्रा में कमी करना हानिकारक हो सकता है।</p> <p>(D) उन लोगों को, जिनके आहार में प्रोटीन की मात्रा असाधारण रूप से कम होती है, प्रायः अनिद्रा से ग्रस्त हो जाते हैं।</p>


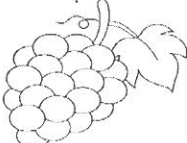
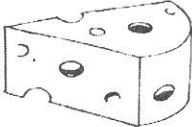





56	<p>A four-person crew from Classic Colours is painting Mr. Khan's house. Michael is painting the front of the house. Rajesh is in the alley behind the house painting the back side. Rahul is painting the window frames on the North side, Aditya is on the South. If Michael switches places with Rahul, and Rahul then switches places with Aditya, where is Aditya?</p> <p>(A) in the alley behind the house (B) on the North side of the house (C) in front of the house (D) on the South side of the house</p>	56	<p>'क्लासिक कलर्स' का चार सदस्यीय कर्मी-दल श्री खान के घर की रंगाई-पुताई का काम कर रहा है। माइकल घर के सामने वाले हिस्से की रंगाई-पुताई कर रहा है। राहुल उत्तरी भाग में खिड़कियों के फ्रेमों पर रंग-रोगन कर रहा है। आदित्य दक्षिण की ओर है। यदि माइकल राहुल के स्थान पर आ जाए और फिर राहुल आदित्य के स्थान पर आ जाए तो आदित्य कहाँ है?</p> <p>(A) घर के पीछे गली में (B) घर के उत्तरी भाग में (C) घर के सामने वाले भाग में (D) घर के दक्षिणी भाग में</p> <p>✓ राजेश गली में घर के पीछे वाले हिस्से की रंगाई-पुताई कर रहा है।</p>
57	<p>In a group of cows and hens, the number of legs are 14 more than twice the number of heads. The number of cows is</p> <p>(A) 5 (B) 7 (C) 10 (D) 12</p>	57	<p>गायों और मुर्गियों के समूह में टांगों की संख्या सिरों की संख्या से 14 अधिक है। गायों की संख्या कितनी है?</p> <p>(A) 5 (B) 7 (C) 10 (D) 12</p>
58	<p>In a class, $\frac{3}{5}$th of the students are girls and rest are boys. If $\frac{2}{9}$th of the girls and $\frac{1}{4}$ of the boys are absent, what part of the total number of students is present in class?</p> <p>(A) $\frac{17}{25}$ (B) $\frac{18}{49}$ (C) $\frac{23}{30}$ (D) $\frac{23}{36}$</p>	58	<p>एक कक्षा में छात्रों/छात्राओं में से $\frac{3}{5}$ हिस्सा लड़कियों का है और शेष लड़के हैं। यदि लड़कियों में से $\frac{2}{9}$ और लड़कों में से $\frac{1}{4}$ हिस्सा अनुपस्थित हैं तो छात्रों/छात्राओं में कुल कितने उपस्थित हैं?</p> <p>(A) $\frac{17}{25}$ (B) $\frac{18}{49}$ (C) $\frac{23}{30}$ (D) $\frac{23}{36}$</p>
59	<p>In a family, a couple has a son and a daughter. The age of the father is three times that of his daughter and the age of the son is half of that of his mother. The wife is 9 years younger to her husband and the brother is seven years older than his sister. What is the age of the mother?</p> <p>(A) 40 years (B) 45 years (C) 50 years (D) 60 years</p>	59	<p>एक परिवार में दंपति के एक लड़का और एक लड़की है। पिता की आयु उसकी लड़की की आयु से तीन गुना है और लड़के की आयु अपनी मां की आयु से आधी है। पत्नी अपने पति से 9 वर्ष छोटी है और भाई अपनी बहिन से सात वर्ष बड़ा है। मां की आयु कितनी है?</p> <p>(A) 40 वर्ष (B) 45 वर्ष (C) 50 वर्ष (D) 60 वर्ष</p>

<p>Read the information given below carefully and answer (Qs: 60 - 64) on its basis.</p>	<p>नीचे दी गई जानकारी को ध्यानपूर्वक पढ़ें और इसके आधार पर प्रश्न सं. 60-64 के उत्तर दीजिए।</p>
<p>Following is the criteria for selecting team leader for the software company XYZ.</p> <p>The candidate should</p> <ol style="list-style-type: none"> Have a work experience of at least four years as an Associate Engineer. Be fluent in English. Have scored at least 90% in the selection interview. Know either Telugu or Hindi. Be at least 30 years and not more than 40 years as on 01-12-2013. <p>If the candidate satisfies all the above criteria, the candidate may be selected.</p> <p>If the candidate fulfils all the criteria except,</p> <ol style="list-style-type: none"> Criterion (A), but has a work experience of at least five years as a Testing Engineer, then he/she is referred to Senior Software Engineer. Criterion (E), but has a work experience of at least nine years as a Software Engineer then he/she is referred to Manager. <p>In each question below given is the details of one candidate. You have to take one of the suggested courses of action based on the information provided and the conditions and sub conditions given above and mark the number of that course of action as your answer. You are not to assume anything other than the information provided in each question. All these cases are given to you as on 01-12-2013.</p>	<p>साफ्टवेयर कम्पनी 'एक्स वाई जेड' के लिए 'टीम लीडर के चयन' हेतु निम्नलिखित मानदंड हैं।</p> <p>अभ्यर्थी के पास निम्नलिखित होना चाहिए</p> <ol style="list-style-type: none"> एसोशिएट इंजीनियर के रूप में कम से कम चार वर्षों तक कार्य करने का अनुभव धाराप्रवाह अंग्रेजी बोलने में सक्षम हो चयन हेतु साक्षात्कार में कम से कम 90% अंकों का अर्जित करना तेलुगु या हिन्दी का ज्ञान होना 01/12/2013 को न्यूनतम आयु 30 वर्ष तथा अधिकतम आयु का 40 वर्ष होना। <p>यदि अभ्यर्थी उपरोक्त सभी मानदंडों को पूरा करता है तो अभ्यर्थी का चयन किया जा सकता है। यदि अभ्यर्थी निम्नलिखित को छोड़कर सभी मानदंड पूरा करने की स्थिति में,</p> <ol style="list-style-type: none"> मानदंड(क) परन्तु 'टेस्टिंग इंजीनियर' के रूप 5 वर्षों का कार्य करने का अनुभव रखता है तो उसके मामले को सीनियर साफ्टवेयर इंजीनियर के विचारार्थ भेजा जाता है। मानदंड (ड.), परन्तु साफ्टवेयर इंजीनियर के रूप में कम से कम नौ वर्षों तक कार्य करने का अनुभव रखता है तो उसके मामले को मैनेजर के विचारार्थ भेजा जाता है। <p>नीचे दिए गए प्रत्येक प्रश्न में एक अभ्यर्थी का ब्यौरा दिया गया है। आपको ऊपर दी गई जानकारी और उल्लिखित शर्तों तथा उप-शर्तों के आधार पर सुझायी गई कार्यवाहियों में किसी एक का चयन करना है और आपको उस कार्यवाही की संख्या को अपने उत्तर के रूप में चिन्हित करना है। आपको प्रत्येक प्रश्न में दी गई जानकारी के अतिरिक्त कोई अनुमान नहीं लगाना है। आपको ये सभी मामले 01/12/2013 की स्थिति के अनुसार दिए गए हैं।</p>

60	<p>Bheem has scored 92% in the selection interview and he is fluent in English. He has six years of work experience as an Associate Engineer and knows Hindi. He was born in 30th March 1981.</p> <p>(A) The candidate is to be rejected. (B) The candidate may be selected. (C) The candidate is to be referred to the Manager. (D) The candidate is to be referred to the Senior Software Engineer.</p>	60	<p>भीम ने चयन हेतु साक्षात्कार में 92 % अंक अर्जित किए और वह धाराप्रवाह अंग्रेजी बोलता है। उसे एसोशिएट इंजीनियर के रूप में 6 वर्षों तक कार्य करने का अनुभव है तथा वह हिन्दी का ज्ञान रखता है। उसकी जन्मतिथि 30 मार्च 1981 है।</p> <p>(A) अभ्यर्थी को अस्वीकृत करना होगा। (B) अभ्यर्थी को चयनित करना होगा। (C) अभ्यर्थी को मैनेजर के पास भेजना होगा। (D) अभ्यर्थी को सीनियर सॉफ्टवेयर इंजीनियर के पास भेजना होगा।</p>
61	<p>Seema was born in 1979 and she knows both Telugu and Hindi. She has three years of work experience as an Associate Engineer. She scored 90% in the interview and speaks English fluently. She also has six years of work experience as a Testing Engineer.</p> <p>(A) The candidate is to be rejected. (B) The candidate may be selected. (C) Data is inadequate to take any decision. (D) The candidate is to be referred to the Senior Software Engineer.</p>	61	<p>सीमा का जन्म 1979 में हुआ था और वह तेलुगु और हिन्दी दोनों का ज्ञान रखती है। उसके पास एसोशिएट इंजीनियर के रूप में कार्य करने का तीन वर्ष का अनुभव है। उसने साक्षात्कार में 90% अंक अर्जित किए और वह धाराप्रवाह अंग्रेजी बोलती है। उसके पास टेस्टिंग इंजीनियर के रूप में कार्य करने का छः वर्षों का अनुभव भी है।</p> <p>(A) अभ्यर्थी को अस्वीकृत करना होगा। (B) अभ्यर्थी को चयनित करना होगा। (C) कोई निर्णय लेने के लिए डाटा अपर्याप्त है। (D) अभ्यर्थी को सीनियर सॉफ्टवेयर इंजीनियर के पास भेजना होगा।</p>
62	<p>Charu scored 90% in the interview and is fluent in English. She knows Telugu and is 34 years old. She has ten years of work experience as a Software Engineer and has six years of work experience as a Testing engineer.</p> <p>(A) The candidate is to be rejected. (B) The candidate may be selected. (C) Data is inadequate to take any decision. (D) The candidate is to be referred to the Manager.</p>	62	<p>चारु ने साक्षात्कार में 90% अंक अर्जित किए और वह धाराप्रवाह अंग्रेजी बोलती है। उसे तेलुगु का ज्ञान है और उसकी आयु 34 वर्ष है। उसे सॉफ्टवेयर इंजीनियर के रूप में दस वर्षों तक तथा टेस्टिंग इंजीनियर के रूप में छः वर्षों तक कार्य करने का अनुभव है।</p> <p>(A) अभ्यर्थी को अस्वीकृत करना होगा। (B) अभ्यर्थी को चयनित करना होगा। (C) कोई निर्णय लेने के लिए डाटा अपर्याप्त है। (D) अभ्यर्थी को मैनेजर के पास भेजना होगा।</p>

63	<p>Gourav was born on 10th September 1985. He has six years of work experience as an Associate Engineer, and is fluent in English. He knows both Hindi and English and scored 85% in the interview. He has nine years work experience as a Software Engineer.</p> <p>(A) The candidate is to be rejected. (B) The candidate may be selected. (C) Data is inadequate to take any decision. (D) The candidate is to be referred to the Senior Software Engineer.</p>	63	<p>गौरव का जन्म 10 सितम्बर, 1985 को हुआ था। उसे एसोशिएट इंजीनियर के रूप में कार्य करने का छः वर्षों का अनुभव है और धाराप्रवाह अंग्रेजी बोलता है। वह हिन्दी और अंग्रेजी दोनों का ज्ञान रखता है और उसने साक्षात्कार में 85% अंक अर्जित किए हैं। उसे सॉफ्टवेयर इंजीनियर के रूप में कार्य करने का नौ वर्षों का अनुभव है।</p> <p>(A) अभ्यर्थी को अस्वीकृत करना होगा। (B) अभ्यर्थी को चयनित करना होगा। (C) कोई निर्णय लेने के लिए डाटा अपर्याप्त है। (D) अभ्यर्थी को सीनियर सॉफ्टवेयर इंजीनियर के पास भेजना होगा।</p>
64	<p>Prekshi has nine years of work experience as a Software Engineer and knows Telugu. She is fluent in English and has five years of work experience as an Associate Engineer and scored 97% in the interview. Her age is 41 years.</p> <p>(A) The candidate is to be rejected. (B) The candidate may be selected. (C) Data is inadequate to take any decision. (D) The candidate is to be referred to the Manager.</p>	64	<p>प्रेक्षी को सॉफ्टवेयर इंजीनियर के रूप में नौ वर्षों तक कार्य करने का अनुभव है तथा उसे तेलुगु का ज्ञान है। वह धाराप्रवाह अंग्रेजी बोलती है और उसे एसोशिएट इंजीनियर के रूप में कार्य करने का पांच वर्षों का अनुभव है तथा उसने साक्षात्कार में 97 % अंक अर्जित किए हैं। उसकी आयु 41 वर्ष है।</p> <p>(A) अभ्यर्थी को अस्वीकृत करना होगा। (B) अभ्यर्थी को चयनित करना होगा। (C) कोई निर्णय लेने के लिए डाटा अपर्याप्त है। (D) अभ्यर्थी को मैनेजर के पास भेजना होगा।</p>
65	<p>Consider the series: 22, 21, 23, 22, 24, 23,...What number should come next?</p> <p>(A) 22 (B) 24 (C) 25 (D) 26</p>	65	<p>इस अनुक्रम पर विचार कीजिए : 22,21,23,22,24,23-----इससे अगली संख्या कौन सी आनी चाहिए?</p> <p>(A) 22 (B) 24 (C) 25 (D) 26</p>

<p>66 Light bulbs that emit lower intensity light save energy by requiring less electricity. Therefore, if home owners use only low-intensity light bulbs, their electric bill will decrease. Which of the following, represents a necessary assumption for the above argument?</p> <p>(A) The low-intensity light bulbs are as effective in providing light as standard light bulbs.</p> <p>(B) Home owners are always concerned with lowering their utility bills.</p> <p>(C) Home owners can help decrease pollution levels in their communities by lowering electricity consumption.</p> <p>(D) Low-intensity light bulbs are less expensive than standard light bulbs.</p>	<p>66 निम्न तीव्रता प्रकाश बाहर निकालने वाले लाइट बल्बों को कम बिजली की आवश्यकता होती है जिससे वे ऊर्जा की बचत करते हैं। अतः, यदि गृहस्वामी केवल निम्न तीव्रता वाले लाइट बल्बों को प्रयोग में लाएं तो उनके बिजली के बिल में कमी आएगी। निम्नलिखित में से कौन सा कथन उपरोक्त तर्क के लिए आवश्यक धारणा को दर्शाता है?</p> <p>(A) निम्न तीव्रता वाले लाइट बल्ब रोशनी देने के मामले में उतने ही प्रभावी हैं जितने कि स्टैंडर्ड लाइट बल्ब।</p> <p>(B) गृहस्वामी अपने उपयोगिता सम्बन्धी बिलों में कमी लाने के लिए चिंतित रहते हैं।</p> <p>(C) गृहस्वामी बिजली की खपत में कमी लाकर अपने समुदायों में प्रदूषण के स्तर में कमी लाने में मदद कर सकते हैं।</p> <p>(D) निम्न तीव्रता वाले लाइट बल्ब स्टैंडर्ड लाइट बल्ब की तुलना में कम कीमत वाले हैं।</p>
<p>Directions for Qs:-67-68</p>	<p>प्रश्न : 67-68 के लिए निर्देश:</p>
<p>In a certain number system, there are only two notations to represent numbers - '@' and '&'. The digit '0' is represented by '@' and '1' by '&'. The subsequent numbers are represented in the following manner:</p> <p>2 is represented as &@,</p> <p>3 is represented as && ,</p> <p>4 is represented as &@@;</p> <p>5 is represented as &@& and so on.</p> <p>Based on this coded language, answer the following questions.</p>	<p>कतिपय संख्या पद्धति में केवल दो प्रकार के संकेतकों अर्थात् '@' तथा '&' द्वारा संख्याओं को दर्शाया जाता है। '0' के अंक को '@' तथा '1' के अंक को '&' द्वारा दर्शाया जाता है। इनके बाद वाले अंकों को निम्नलिखित प्रकार से दर्शाया जाता है:-</p> <p>2 को &@ के रूप में दर्शाया जाता है</p> <p>3 को && के रूप में दर्शाया जाता है</p> <p>4 को &@@ के रूप में दर्शाया जाता है</p> <p>5 को &@& के रूप में तथा इसी तरह अन्य को दर्शाया जाता है</p> <p>इस सांकेतिक अथवा कूट बद्ध भाषा के आधार पर निम्नलिखित प्रश्नों के उत्तर दीजिए।</p>

67	Which number below is not odd? (A) @&& (B) &@& (C) &&@ (D) &&&	67	नीचे दी गई संख्याओं में से कौन सी संख्या विषम नहीं है ? (A) @&& (B) &@& (C) &&@ (D) &&&
68	What is "&@&"% of "&@&@&" (A) &@& (B) @&@ (C) &&@ (D) @&&	68	"&@&@&" का "&@&" % कितना है? (A) &@& (B) @&@ (C) &&@ (D) @&&
69	In a certain code 'EASIER' is written as TGKUCG. How is 'CUTTER' written in that code? (A) TWVVG (B) TGWWVE (C) TGVVWE (D) TVGVWE	69	कतिपय कूटबद्ध भाषा में "EASIER" को TGKUCG के रूप में लिखा जाता है। उस कूटबद्ध भाषा में "CUTTER" को कैसे लिखा जाता है? (A) TWVVG (B) TGWWVE (C) TGVVWE (D) TVGVWE
70	<p>Choose the picture that would go in the empty box so that the two bottom pictures are related in the same way as the top two are related.</p> <p>उस चित्र को चुनिए जो खाली बक्से में इस प्रकार से जाएगा जिससे कि नीचे वाले दो चित्र उसी प्रकार से सम्बद्ध हों जिस प्रकार कि ऊपर वाले दो चित्र सम्बद्ध हैं।</p> <div style="display: flex; justify-content: space-around; align-items: center;">   </div> <div style="display: flex; justify-content: space-around; align-items: center; margin-top: 20px;">   <div style="display: flex; justify-content: space-around;">     </div> </div> <div style="display: flex; justify-content: space-around; margin-top: 10px;"> (A) (B) (C) (D) </div>		
71	Roshan invested some amount at the rate of 6% pa and at the end of 3 years he got Rs.8730 simple interest. How much compound interest he will get on same amount at same rate of interest after 2 years? (A) Rs.5820 (B) Rs.5949.60 (C) Rs.5900 (D) Rs.5994.60	71	रोशन ने 6 प्रतिशत की वार्षिक दर से कुछ धनराशि का निवेश किया और 3 वर्षों के पश्चात् उसे 8730 रुपए का साधारण ब्याज प्राप्त हुआ। इसी धनराशि पर इतनी ही ब्याज की दर पर 2 वर्षों के पश्चात् उसे चक्रवृद्धि ब्याज के रूप में कितनी राशि प्राप्त होती? (A) 5820 रुपए (B) 5949.60 रुपए (C) 5900 रुपए (D) 5994.60 रुपए

72

According to the Table A below, the number of Fellows is approximately what per cent of the total membership of Organization X?

- (A) 12%
(B) 18%
(C) 25%
(D) 35%

Table A: Membership of Organisation X, 1988

Honorary Members	78
Fellows	9,209
Members	35,509
Associate Members	27,909
Affiliate Members	2,372

72

नीचे दी गई तालिका 'क' के अनुसार 'संगठन एक्स' के अध्येताओं की संख्या संगठन की कुल सदस्य संख्या का कितने प्रतिशत है?

- (A) 12 %
(B) 18 %
(C) 25 %
(D) 35 %

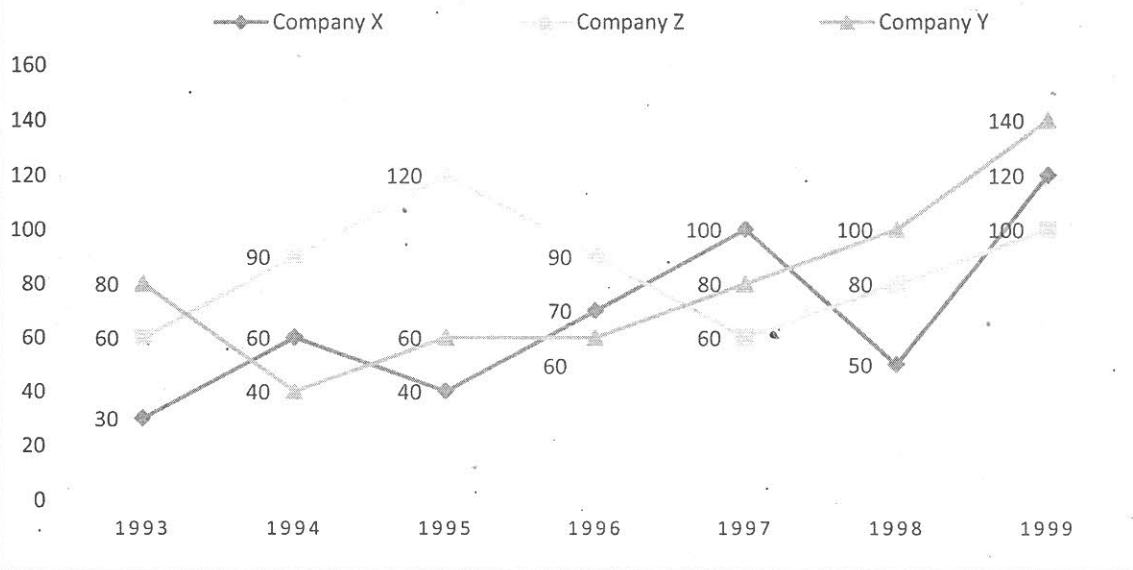
तालिका क: 1988 में संगठन एक्स की सदस्यता

अवैतनिक सदस्य	78
अध्येता (फेलो)	9,209
सदस्य	35,509
सहयोगी सदस्य	27,909
सहबद्ध सदस्य	2,372

Directions for (Qs: 73-77): Study the following line graph and answer Qs:73-77.

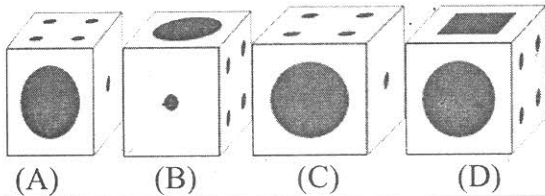
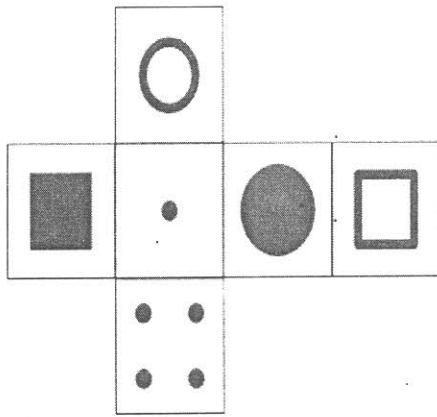
प्रश्न 73-77 के लिए निर्देश: निम्नलिखित रेखीय ग्राफ का अध्ययन करके प्रश्न: 73-77 के उत्तर दीजिए।

EXPORTS FROM THREE COMPANIES OVER THE YEARS (IN EUROS)
वर्षों के दौरान तीन कम्पनियों का निर्यात (यूरो में)

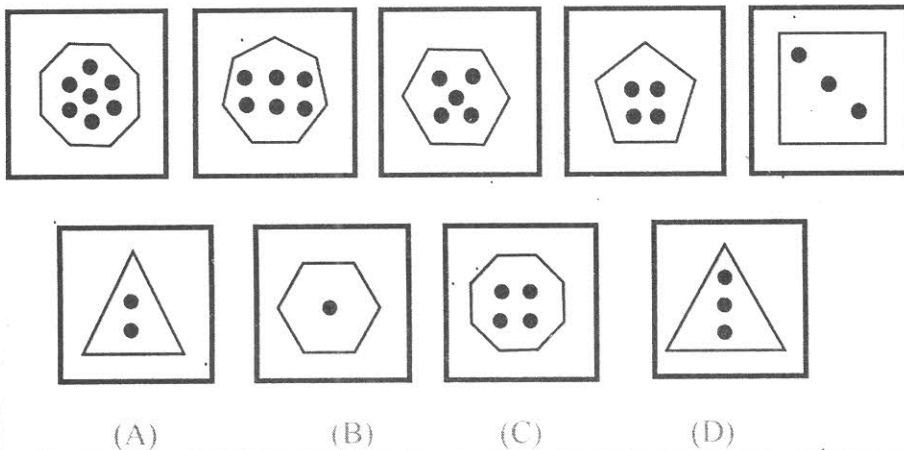


73	For which of the following pairs of years the total exports from the three Companies together are equal? (A) 1995 and 1998 (B) 1996 and 1998 (C) 1997 and 1998 (D) 1995 and 1996	73	निम्नलिखित किन वर्षों की जोड़ी के दौरान तीनों कम्पनियों का निर्यात कुल मिलाकर एक समान है? (A) 1995 और 1998 (B) 1996 और 1998 (C) 1997 और 1998 (D) 1995 और 1996
74	Average annual exports during the given period for Company Y is approximately what percent of the average annual exports for Company Z? (A) 93.33% (B) 87.12% (C) 89.64% (D) 91.21%	74	कम्पनी 'वाई' के लिए दी गई अवधि के दौरान औसत वार्षिक निर्यात कम्पनी 'जेड' के औसत वार्षिक निर्यात का लगभग कितना प्रतिशत है? (A) 93.33 % (B) 87.12 % (C) 89.64 % (D) 91.21 %
75	In which year was the difference between the exports from Companies X and Y the minimum? (A) 1994 (B) 1995 (C) 1996 (D) 1997	75	कम्पनी 'एक्स' और 'वाई' द्वारा किए गए निर्यात का अन्तर किस वर्ष में न्यूनतम था? (A) 1994 (B) 1995 (C) 1996 (D) 1997
76	What was the difference between the average exports of the three Companies in 1993 and the average exports in 1998? (A) 15.33 (B) 18.67 (C) 20 (D) 22.17	76	तीनों कम्पनियों द्वारा 1993 में किए गए औसत निर्यात और 1998 में किए गए औसत निर्यात के बीच अन्तर कितना था? (A) 15.33 (B) 18.67 (C) 20 (D) 22.17
77	In how many of the given years, were the exports from Company Z more than the average annual exports over the given years? (A) 3 (B) 4 (C) 5 (D) 1	77	दिए गए वर्षों में से कितने वर्षों में कम्पनी जेड का निर्यात दिए गए वर्षों के औसत वार्षिक निर्यात से अधिक था? (A) 3 (B) 4 (C) 5 (D) 1

- 78 Which cube cannot be made based on the unfolded cube given below?
नीचे खोलकर रखे गए घनों (क्यूब) के आधार पर किस घन को बनाया नहीं जा सकता है?



- 79 Which of the shapes given below will complete this sequence?
निम्नलिखित में कौन सी आकृति से यह अनुक्रम पूरा होगा ?



- 80 According to one psychological theory, in order to be happy, one must have an intimate relationship with another person. Yet the world's greatest composers spent their time in solitude and had no intimate relationships. So my conclusion is that the psychological theory must be wrong.
The conclusion above assumes that, according to me:
(A) The world's greatest composers chose to avoid intimate relationships.
(B) The world's greatest composers were happy.
(C) Solitude is necessary for the composition of great music.
(D) People who have intimate relationships spend less time in solitude.

- 80 एक मनोवैज्ञानिक सिद्धान्त के अनुसार किसी व्यक्ति को खुश रहने के लिए किसी अन्य व्यक्ति के साथ घनिष्ठ सम्बन्ध अवश्य रखने होंगे। फिर भी विश्व के महानतम संगीतकारों ने अपना समय एकान्त में व्यतीत किया और उनके किसी से घनिष्ठ सम्बन्ध नहीं थे। अतः मेरा निष्कर्ष यह है कि मनोवैज्ञानिक सिद्धान्त अवश्य ही गलत होना चाहिए। मेरे अनुसार उपरोक्त निष्कर्ष यह स्वीकार करता है कि :
(A) विश्व के महानतम संगीतकारों ने घनिष्ठ संबंधों से बचने को चुना।
(B) विश्व के महानतम संगीतकार खुश थे।
(C) महान संगीत की रचना के लिए एकाकीपन आवश्यक है।
(D) घनिष्ठ संबंध रखने वाले व्यक्ति एकान्त में कम समय व्यतीत करते हैं।

Part-III/भाग-III
(English Language/ अंग्रेजी भाषा)

81	Fill in the blank using the most appropriate word: The inaugural ceremony was a grand_____. (A) Speculum (B) Spectacle (C) Speculation (D) Sphincter	85	Which of the following words is <u>nearest in meaning</u> to the underlined one in the sentence? Due to the impending cyclone people from the coast were <u>evacuated</u> . (A) Financed (B) Deceived (C) Destroyed (D) Transferred
82	Fill in the blank using the most appropriate word: For having spent so many years in prison, his sentence was _____. (A) Commuted (B) Corroborated (C) Codified (D) Counted	86	Which of the following words is <u>nearest in meaning</u> to the underlined one in the sentence? The director called for <u>optimal</u> utilization of manpower. (A) Minimal (B) Maximum (C) Indifferent (D) Expensive
83	What would be the best way of combining these two sentences? He was really unhappy in his job and in the city. He quit and went away from the city. (A) He was really unhappy in his job and city because he quit and went away. (B) Since he was really unhappy in his job and city, he quit and went away. (C) Though really unhappy in his job and city, he quit and went away. (D) Being really unhappy in his job and city, therefore he quit and went away.	87	Which of the following words is <u>nearest in meaning</u> to the underlined one in the sentence? When asked a question, please do not <u>prevaricate</u> . (A) Assert (B) Fabricate (C) Testify (D) Argue
84	Which of the following words is <u>nearest in meaning</u> to the underlined one in the sentence? Ever the <u>optimist</u> man, he was confident he would win. (A) Desperate (B) Sad (C) Hopeful (D) Competent	88	Which of the following words is <u>opposite in meaning</u> to the underlined one in the sentence? Newspaper reports ought to be <u>clear</u> in their analysis for the readers to understand. (A) Argumentative (B) Puzzled (C) Obfuscatory (D) Extended

89	<p>Which of the following words is <u>opposite in meaning</u> to the underlined one in the sentence?</p> <p>Today's generation may find the songs from the earlier era too <u>melancholic</u>.</p> <p>(A) Cheerful (B) Unhappy (C) Irritating (D) Uninteresting</p>	94	<p>What is the closest interpretation of the <u>idiomatic expression</u> underlined in the following sentence?</p> <p>As we raced to finish the project despite so many obstacles, the failure of electricity came as <u>the last straw</u>.</p> <p>(A) A final unbearable situation. (B) An early unbearable solution. (C) A confusing situation. (D) A shift in thinking about the solution.</p>
90	<p>Which of the following words is <u>opposite in meaning</u> to the underlined one in the sentence?</p> <p>The test of character is how the person reacts to <u>adverse</u> circumstances.</p> <p>(A) Warm (B) Cold (C) Supportive (D) Negative</p>	95	<p>Fill in the blank using the most appropriate Conditional word/phrase:</p> <p>He settled in, _____ he had always lived there.</p> <p>(A) Even if (B) As if (C) As far as (D) As soon as</p>
91	<p>Which of the following words is <u>opposite in meaning</u> to the underlined one in the sentence?</p> <p>The disaster was averted, and so everybody was <u>elated</u>.</p> <p>(A) Downcast (B) Upbeat (C) Cheery (D) Thrilled</p>	96	<p>Fill in the blank using the most appropriate word/phrase:</p> <p>_____ you promise, you should keep the promise.</p> <p>(A) Whether (B) As if (C) As far as (D) Whenever</p>
92	<p>Fill in the blank with the appropriate word.</p> <p>Where have you been _____ morning?</p> <p>(A) For (B) Since (C) Toward (D) Besides</p>	97	<p>Fill in the blank using the most appropriate word/phrase:</p> <p>_____ in his place, I would not have done that.</p> <p>(A) Whenever (B) If I were (C) If I am (D) Whether</p>
93	<p>What is the closest interpretation of the <u>idiomatic expression</u> underlined in the following sentence?</p> <p>He is ready to go for any recreational activity <u>at the drop of a hat</u>.</p> <p>(A) With prior notice. (B) At very short notice. (C) Wearing a good hat. (D) Without a hat.</p>	98	<p>Fill in the blank using the most appropriate word/phrase:</p> <p>The house _____ burnt down in the fire belonged to my friend.</p> <p>(A) That was (B) Thus was (C) This was (D) Therefore</p>

99	<p>Fill in the blank using the most appropriate word/phrase: His role in the play, _____, lasted only three minutes</p> <p>(A) Which consisted of a small part (B) Which consisting of a small part (C) That consisting of a small part (D) Which had a small part</p>	105	<p>The given sentence has to be rewritten in <u>reported</u> speech. Which of the options is the best form of the rewritten sentence? "The guest came last Sunday," she told me.</p> <p>(A) She told me that the guest had come last Sunday. (B) The guest may come last Sunday, she said. (C) She tells me the guest will come last Sunday. (D) I was told by the guest she came last Sunday.</p>
100	<p>Fill in the blank using the most appropriate word/phrase: I met him when I was walking _____ the grounds.</p> <p>(A) Away (B) Across (C) Beyond (D) During</p>	106	<p>The given sentence has to be rewritten in <u>reported</u> speech. Which of the options is the best form of the rewritten sentence? He said to me, 'I prefer fiction to poetry'.</p> <p>(A) He said to me he prefer fiction to poetry. (B) He told to me he prefers fiction to poetry. (C) He said to me that he preferred fiction to poetry. (D) He said he prefers fiction to me.</p>
101	<p>Fill in the blank using the most appropriate word/phrase It is easier if you take a cab _____ the station.</p> <p>(A) Beyond (B) From (C) Across (D) Between</p>	107	<p>The following sentence is to be rewritten in <u>direct</u> speech. Which of the options is the best form of the rewritten sentence? He informed me that the work was completed last week before I came.</p> <p>(A) "The work was completed last week before you came," he informed me. (B) "Last week you came and the work was completed," he informed me. (C) "The week you came last the work was completed," he informed me. (D) "The week work was completed you came," he informed me.</p>
102	<p>Fill in the blank using the most appropriate word/phrase: It would be unsafe to lean the glass _____ the wall.</p> <p>(A) Between (B) Across (C) Within (D) Against</p>	108	<p>The following sentence is to be rewritten in <u>direct</u> speech. Which of the options is the best form of the rewritten sentence? He advised me that I ought to consult a doctor.</p> <p>(A) "I ought to consult a doctor," he advised me. (B) "I may consult a doctor," he advised me. (C) "You ought to consult a doctor," he advised me. (D) "You must consult some doctor," he advised me.</p>
103	<p>Fill in the blank using the most appropriate word/phrase: He is tall; _____ his brother is not.</p> <p>(A) Therefore (B) Because (C) However (D) Hence</p>	109	<p>Fill in the blank with the appropriate tense of the verb given in the <u>bracket</u>. The post is delayed but is likely _____ (come) soon.</p> <p>(A) Came (B) To come (C) Coming (D) Will come</p>
104	<p>Fill in the blank using the most appropriate word/phrase: _____ he or I will have to finish the job.</p> <p>(A) Neither (B) Because (C) Whether (D) Either</p>	110	<p>Fill in the blank with the appropriate tense of the verb given in the <u>bracket</u>. I grew tired of _____ (carry) the bag all the way.</p> <p>(A) Carries (B) Carried (C) To carry (D) Carrying</p>

Read the passage given below and answer the questions Nos.111-120, basing your answers strictly on the passage itself.

If there is a country in the world where concord, according to common calculation, would be least expected, it is America. Made up as it is of people from different nations, accustomed to different forms and habits of government, speaking different languages, and more different in their modes of worship, it would appear that the union of such a people was impracticable; but by the simple operation of constructing government on the principles of society and the rights of man, every difficulty retires, and all the parts are brought into cordial unison. There the poor are not oppressed, the rich are not privileged. Industry is not mortified by the splendid extravagance of a court rioting at its expense. Their taxes are few, because their government is just; and as there is nothing to render them wretched, there is nothing to engender riots and tumults.

Whatever is the cause of taxes to a Nation, becomes also the means of revenue to Government. Every war terminates with an addition of taxes, and consequently with an addition of revenue, and in any event of war, in the manner they are now commenced and concluded, the power and interest of Governments are increased. War, therefore, from its productiveness, as it easily furnishes the pretence of necessity for taxes and appointments to places and offices, becomes a principal part of the system of old governments; and to establish any mode to abolish war, however advantageous it might be to Nations, would be to take from such Government the most lucrative of its branches. The frivolous matters upon which war is made, show the disposition and avidity of Governments to uphold the system of war, and betray the motives upon which they act.

111	Why, according to the author, was concord unexpected in America? (A) Due to too many differences. (B) Due to its geography. (C) Due to its high taxes. (D) Due to its monarchy.	116	What are conditions of the poor and the rich in America? (A) The poor pay high taxes, the rich pay low taxes. (B) The poor are given jobs by the rich. (C) The poor are oppressed, just like the rich. (D) The poor are not oppressed, the rich are not privileged.
112	America achieved concord by following. (A) The principles of society and the rights of man. (B) Their monarchs loyally. (C) A low-tax system. (D) The rights of man.	117	Why are there no riots in America? (A) Because the poor are very quiet. (B) Because their laws are very tough. (C) Because their government is just. (D) Because their government imposes high taxes.
113	Why does America have low taxes? (A) Because the people refuse to pay more. (B) Because the people have no money. (C) Because the government pays the taxes. (D) Because their government is just.	118	What is the old governments' attitude towards wars? (A) That wars kill too many people. (B) That wars are lucrative. (C) That wars are a waste of time. (D) That wars finish off governments.
114	What role do taxes play in the government? (A) They are a source of judicial inquiries. (B) They are a means of revenue. (C) They are the means of social justice. (D) They pay salaries in the government.	119	What kind of reasons do governments offer to justify war? (A) Logical reasons. (B) Emotional reasons. (C) Economic reasons. (D) Frivolous reasons.
115	What happens to taxes when a war ends? (A) Taxes are reduced. (B) Taxes are paid in instalments. (C) Taxes are added. (D) Taxes remain unpaid.	120	What is the author's view regarding the government's tendency to wage war? (A) Supports it. (B) Is neutral about it. (C) Is critical of it. (D) Is ignorant of it.

नोट: इस भाग का उत्तर सिर्फ संसदीय भाषान्तरकार (अंग्रेजी/हिन्दी) पद के आवेदकों को ही देना है।

Note: This part is to be answered only by the candidates for the Post of Parliamentary Interpreter (English/Hindi)

121	हिंदी का पहला समाचार पत्र कौन सा है? (A) समाचार सुधावर्षण (B) प्रजा हितैषी (C) उदंत मार्तण्ड (D) हरिश्चंद्र मैगजीन	127	'रिकमेन्डेशन' के लिए सही हिंदी शब्द है - (A) अनुमति (B) संस्तुति (C) अनुरोध (D) स्वीकृति
122	निम्नलिखित में से किस कवि ने अवधी भाषा में काव्य रचना की है? (A) रत्नाकर (B) रसरखान (C) मीराबाई (D) जायसी	128	'नोटिंग' का हिंदी प्रतिशब्द है- (A) आलेखन (B) प्रारूपण (C) टिप्पण (D) प्रतिवेदन
123	पूर्वी हिंदी की एक बोली नहीं है- (A) अवधी (B) मगही (C) बघेली (D) छत्तीसगढ़	129	'खाक छानना' मुहावरे का सही अर्थ है- (A) भटकना (B) राख में कुछ खोजना (C) व्यर्थ की बातें करना (D) विलाप करना
124	किसी काम को चित्त लगाकर करने वाला- (A) तपस्वी (B) त्राता (C) दत्तक (D) दत्तचित्त	130	निम्नलिखित में से शुद्ध वाक्य चुनिए- (A) आपका पत्र सधन्यवाद मिला। (B) आपका पत्र धन्यवाद सहित मिला। (C) आपका पत्र मिला। धन्यवाद। (D) धन्यवाद सहित आपका पत्र मिला।
125	हाथी का तत्सम रूप बताइए- (A) हस्तिन (B) अश्व (C) अंगिरा (D) भाटक	131	उचित क्रिया प्रयोग की दृष्टि से सर्वाधिक शुद्ध वाक्य है- (A) बालक दुकान से मिठाई लेकर भागता हुआ घर आया। (B) बालक दुकान से मिठाई लेकर दौड़ता हुआ घर आया। (C) दुकान से मिठाई बालक लेकर भागता हुआ घर आया। (D) बालक भागता हुआ मिठाई लेकर घर पहुँचा।
126	दोपहर से पहले का समय क्या कहा जाता है? (A) अपराह्न (B) पूर्वाह्न (C) मध्याह्न (D) प्रातः	132	'मुकुंद' किसका पर्याय है- (A) विष्णु (B) शिव (C) सूर्य (D) कामदेव

133	'निष्कपट' शब्द का सन्धि-विच्छेद है— (A) निष्+कपट (B) निः+कपट (C) नि+कपट (D) निश्+ कपट	139	निधि ने नैनीताल में प्रकृति का.....देखा। (A) सुन्दरता (B) शोभा (C) सौन्दर्य (D) छटा
134	निम्नलिखित शब्दों में से वर्तनी वाला शब्द चुनिए— (A) अनुग्रहीत (B) अनुगृहीत (C) अनग्रहीत (D) अनुग्रहित	140	निम्नलिखित में से शुद्ध वाक्य चुनिए— (A) मेरा और आपका घोर सम्बन्ध है। (B) तुम अपने मत का स्पष्टीकरण करो। (C) सीता अत्यंत ही सुन्दर थीं। (D) मेरा और आपका घनिष्ठ सम्बन्ध है।
135	किस वाक्य में 'अच्छा' शब्द का प्रयोग विशेषण के रूप में हुआ है? (A) तुमने अच्छा किया जो आ गए। (B) यह स्थान बहुत अच्छा है। (C) अच्छा, तुम घर जाओ। (D) अच्छा है वह अभी आ जाए।	141	अव्ययीभाव समास का उदाहरण है— (A) आजन्म (B) राजपुत्र (C) लम्बोदर (D) चौराहा
136	'संन्यास' में कौन सा उपसर्ग है— (A) सन् (B) सम (C) सम् (D) सन	142	'अस्ताचल' का सन्धि विच्छेद है— (A) अतः+चल (B) अस्ता+ चल (C) अस्त+ अचल (D) अस्+ अचल
137	'अंग' शब्द का उचित विशेषण है— (A) आंगिक (B) अंगीकृत (C) अंगना (D) अंगिक	143	'पीपर पात सरिस मन डोला' में कौन सा अलंकार है— (A) रूपक (B) यमक (C) उत्प्रेक्षा (D) उपमा
138	'नवरात्र' में कौन सा समास है— (A) द्वन्द्व (B) कर्मधारय (C) तत्पुरुष (D) द्विगु	144	'नोटिफिकेशन' के लिए सही हिंदी शब्द है— (A) विज्ञप्ति (B) विज्ञापन (C) अधिसूचना (D) अनुसूची

145	'एजेन्डा' का हिंदी प्रतिशब्द है— (A) कार्य-सूची (B) कार्य-वृत्त (C) कार्यक्रम (D) कार्यवाही	151	'उल्टे बांस बरेली को' का सही अर्थ है— (A) बांस को उल्टा करना (B) मूर्खतापूर्ण कार्य करना (C) विपरीत कार्य (D) आपराधिक कृत्य
146	'तथैव' में कौन सी सन्धि है— (A) गुण (B) वृद्धि (C) स्वर (D) विसर्ग	152	'अहि' शब्द का समानार्थी नहीं है (A) सूर्य (B) सर्प (C) जल (D) साधु
147	'चार गज मलमल' में कौन सा विशेषण है? (A) संख्यावाचक (B) गुणवाचक (C) परिमाणवाचक (D) सार्वनामिक	153	निम्नलिखित शब्दों को उनके विलोम शब्दों के साथ सुमेलित कीजिए— (क) सौम्य 1. विग्रह (ख) अनुग्रह 2. व्यतिरेक (ग) गौरव 3. उग्र (घ) उपमा 4. लाघव (A) क-1, ख -2, ग-4, घ-3 (B) क-4, ख -3, ग-2, घ-1 (C) क-3, ख -1, ग-4, घ-2 (D) क-3, ख -4, ग-3, घ-2
148	'कर्पट' का तद्भव रूप है— (A) कपूर (B) कपाट (C) कपड़ा (D) कपटी	154	मोक्ष की इच्छा— (A) मुमुक्षु (B) मुमुक्षा (C) मुमूर्षा (D) निर्वाण
149	'शहद' शब्द है— (A) तत्सम (B) तद्भव (C) देशज (D) आगत	155	'नशीला' में कौन सा प्रत्यय है— (A) इला (B) ईला (C) ला (D) शीला
150	निम्नलिखित में से शुद्ध वर्तनी वाला शब्द है— (A) अन्तरराष्ट्रीय (B) अन्तार्राष्ट्रीय (C) अर्न्तराष्ट्रीय (D) अन्तराष्ट्रीय	156	'पाहुना' का तत्सम शब्द है— (A) प्राघूर्ण (B) पूर्ण (C) प्राहुणा (D) जामाता

157	'चिकना घड़ा' का क्या अर्थ है? (A) सीधा व्यक्ति (B) निर्लज्ज व्यक्ति (C) गंजा व्यक्ति (D) बुद्धिहीन व्यक्ति	159	निम्नलिखित में से 'नदी' का पर्यायवाची नहीं है— (A) निर्झरिणी (B) अपगा (C) तनूजा (D) लरमाला
158	'बेलन' में प्रत्यय है— (A) अन (B) यन (C) न (D) इनमें से कोई नहीं	160	नागरी प्रचारिणी सभा की स्थापना हुई— (A) 1888 ई. (B) 1887 ई. (C) 1891 ई. (D) 1893 ई.

**Answer Key of Written Test (Paper I - Objective Type) for the post of Parliamentary
Interpreter (English/Hindi)-Advt. No. 1/2017 held on 09.02.2019**

Sl. No.	General Awareness	Sl. No.	General Intelligence	Sl. No.	General English	Sl. No.	Hindi Language
1	C	41	C	81	B	121	C
2	B	42	D	82	A	122	D
3	D	43	C	83	B	123	B
4	C	44	A	84	C	124	D
5	B	45	A	85	D	125	A
6	C	46	B	86	B	126	B
7	B	47	A	87	B	127	B
8	B	48	D	88	C	128	C
9	A	49	C	89	A	129	A
10	D	50	A	90	C	130	C
11	C	51	B	91	A	131	B
12	A	52	C	92	B	132	A
13	D	53	C	93	B	133	B
14	B	54	D	94	A	134	B
15	C	55	A	95	B	135	B
16	A	56	C	96	D	136	C
17	C	57	B	97	B	137	A
18	B	58	C	98	A	138	D
19	B	59	D	99	A	139	C
20	D	60	B	100	B	140	D
21	A	61	D	101	B	141	A
22	C	62	C	102	D	142	C
23	B	63	A	103	C	143	D
24	B	64	D	104	D	144	C
25	C	65	C	105	A	145	A
26	A	66	A	106	C	146	B
27	C	67	C	107	A	147	C
28	B	68	A	108	C	148	C
29	D	69	C	109	B	149	D
30	B	70	D	110	D	150	A
31	A	71	D	111	A	151	C
32	C	72	A	112	A	152	D
33	A	73	D	113	D	153	C
34	C	74	A	114	B	154	B
35	A	75	C	115	C	155	B
36	C	76	C	116	D	156	A
37	C	77	B	117	C	157	B
38	B	78	D	118	B	158	C
39	D	79	A	119	D	159	C
40	C	80	B	120	C	160	D

समयावधि: 2 घंटे

Time: 2 Hours

पूर्णांक-100

Full Marks: 100

सभी प्रश्नों के उत्तर दें।

ANSWER ALL QUESTIONS

1. निम्नलिखित अवतरण का हिंदी में अनुवाद कीजिए।

(Marks: 25)

Translate the following passage into Hindi.

Language is merely a means of expression of ideas, satisfaction of wants and exchange of views. Different groups of men speak different language because all the language of the world did not come into existence at the same time. Just as different nations are born, develop, grow old and die, similar is the case with languages. That man is really alive who grows and makes progress because change is the law of life.

If fairy tales and legends, in wonderful ballads and poems the tale is often told of happy kings and queens to whom God sent an only son or an only daughter. These princes and princesses always bring with them enhancing beauty and happiness. In these stories even the most hazardous adventures, involving the intervention of evil spirits fore told by some wicked fan, only take place in order to emphasize the success of the hero.

Poetry is the health and final spirit of all knowledge. Emphatically may it be said of the poet, as Shakespeare hath said of man, "he looks before and after" he is the rock of defenses for human nature: as upholder and preserver, carrying everywhere with him relationship and love. The poet binds together by passion and knowledge the vast empire of human society; it is immortal as heart of man.

In the study of poetry, therefore, as in the study of all other kinds of literature, our attention must first be directed to the poet himself, to his personality and outlook upon the world, to the interpretation of life expressly given by or held in solution in his work, to the individual note in it. However, deeply we may presently become interested in questions of art and form, origins and historical importance, these primary aspects of poetry must never be permitted to slip out of our sight...

2. निम्नलिखित अवतरण का अंग्रेजी में अनुवाद कीजिए।

(Marks: 25)

Translate the following passage into English.

स्वराज्य का अर्थ कौन नहीं जानता। कौन नहीं इसे चाहता। क्या आप यह पसंद करेंगे कि मैं आपके घर में प्रवेश कर जाऊँ और आपके रसोई घर पर अधिकार जमा लूँ? मुझे घरेलू मामले की व्यवस्था का अधिकार अवश्य है। हम लोग को कहा गया कि हम स्वराज्य के काबिल नहीं हैं। एक शताब्दी के व्यतीत हो जाने के बाद भी अंग्रेजी हुकूमत हम लोगों को स्वराज्य के योग्य नहीं मानती। अब हम लोग खुद को योग्य बनाने के लिये खुद ही प्रयास करेंगे। व्यवहारिक राजनीति में हमारे स्वराज्य की इच्छा का प्रतिकार करने के लिये कुछ तुच्छ आपत्तियाँ उठाई जाती हैं। हमारे अधिकांश लोगों की निरक्षरता उन आपत्तियों में से एक है। परन्तु मेरे विचारानुसार उसे अपने मार्ग में बाधा के तौर पर नहीं आने देना चाहिए। हम लोगों के लिये यह कहना पर्याप्त होगा कि हमारे देश के निरक्षर लोगों के पास मात्र स्वराज्य की स्पष्ट विचारधारा है, उसी तरह से जैसे ईश्वर के बारे में उनकी अस्पष्ट धारणा है।

3. निम्नांकित संसदीय अभिव्यक्ति को हिंदी में अनुवाद कीजिए।

(Marks: 10x1= 10)

Translate the following parliamentary expressions and terms into Hindi.

- i) Adjournment of the sitting of house.
- ii) Calendar of sittings.
- iii) Half-an- Hour Discussion.
- iv) Maiden speech.
- v) Matters raised with permission.
- vi) Short notice question.
- vii) Table of the house.
- viii) Financial Business.
- ix) Expunction.
- x) Crossing the floor.

4. निम्नांकित संसदीय अभिव्यक्ति को अंग्रेजी में अनुवाद कीजिए।

(Marks: 10x1=10)

Translate the following parliamentary expressions and terms into English:

- a) संचित निधि
- b) प्रतिनिहित विधान
- c) प्रत्यनुदान
- d) संकल्प
- e) सहायक प्रस्ताव
- f) अतारांकित प्रश्न
- g) विघटन
- h) सदन में गणपूर्ति
- i) सत्रावसान
- j) अनुषंगी प्रस्ताव

5. निम्नलिखित मुहावरों को हिंदी में लिखिए।

(Marks: 1x5 = 5)

Write the Hindi equivalence of the following idioms:

- a) Actions speak louder than words.
- b) A journey of a thousand miles begins with a single step.
- c) An idle brain is the devil's workshop.
- d) A stitch in time saves nine.
- e) As you sow, so you shall reap.

6. निम्नलिखित मुहावरों को अंग्रेजी में लिखिए।

(Marks: 1x5 = 5)

Write the English equivalence of the following idioms:

- a) सौ सुनार की, एक लोहार की
- b) जान है तो जहान है
- c) अधजल गगरी छलकत जाय
- d) अंत भला तो सब भला
- e) आ बैल मुझे मार

7. निम्नलिखित शब्दावली का यथानुसार अंग्रेजी या हिंदी में अनुवाद कीजिए। (Marks: 10x1= 10)

Translate the following terms in English or Hindi as the case may be:

- i) परामर्श, कदाचार, प्रतिधारण, प्राधिकरण, अतिव्याप्त
- ii) Nullify, Note of dissent, Allocation, Ratification, Segregate

8. निम्नलिखित का हिन्दी में पर्यायवाची बताइए।

(Marks: 1x5= 5)

Give the synonyms of the following in Hindi:

- a) नदी
- b) शत्रु
- c) वाटिका
- d) अरण्य
- e) ध्वज

9. निम्नलिखित को अंग्रेजी के एक शब्द में अभिव्यक्त करें।

(Marks: 1x5= 5)

Write one word expressions in English for the following:

- a) A government's planned or expected financial position for a specified period of time.
- b) A governmental organization composed of non-elected, highly trained people to perform administrative duties.
- c) The existing stock of goods which are to be used in the production of other goods or service
- d) The amount by which total government spending is more than government income during a specified period.
- e) A legally binding agreement between two or more competent parties fixing the precise terms and details.

