

Section 1 - Part A

No. of Questions: 50

1) M, N, O, P and Q are the members of a family. P weighs 78 kg. M weighs 48 kg. O weighs 11 kg less than P and 12 kg more than N. Who is the heaviest person in the family if Q weighs 70 kg? / M, N, O, P और Q एक परिवार के सदस्य हैं। P का वजन 78 किग्रा है। M का वजन 48 किग्रा है। O का वजन P से 11 किग्रा कम है और N से 12 किग्रा ज्यादा है। परिवार का सबसे अधिक वजन वाला व्यक्ति कौन है यदि Q का वजन 70 किग्रा है?

- A) N
- B) P
- C) Q
- D) M

2) X number of boys decided to raise Rs. 200000 by equal distributions from each. Had they contributed an extra of Rs. 40 each, the contribution would have been Rs.250000. How many boys were there? / लड़कों की X संख्या ने प्रत्येक से बराबर भाग लेने द्वारा 200000 रु इकट्ठा करने का निर्णय लिया। उनमें से प्रत्येक द्वारा 40 रु का अतिरिक्त योगदान देने पर, यह राशि 250000 हो सकती है। वहां कितने लड़के थे?

- A) 1590
- B) 2300
- C) 1250
- D) 1030

3) Among the given four options, three are related in a same way. Select the option that is odd one out. / दिए गए चार विकल्पों में तीन एक तरीके से आपस में संबंधित हैं। वह विकल्प चुनिए जो सबसे भिन्न हो।

- A) 576
- B) 772
- C) 196
- D) 324

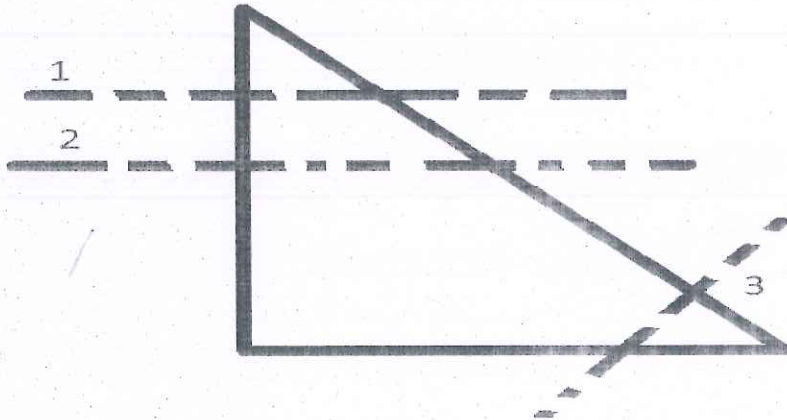
4) In a certain code, ADUWI is written as 27, then how is OFGEJ written in the same code? / एक निश्चित कूट में ADUWI को 27 के रूप में लिखा जाता है, तो उसी कूट में OFGEJ को कैसे लिखा जाएगा?

- A) 68
- B) 37
- C) 23
- D) 62

5) Three out of the given four items are similar. Find the odd one. / दिए गए चार आयटमों में से तीन एक जैसे हैं। भिन्न आयटम की पहचान करें

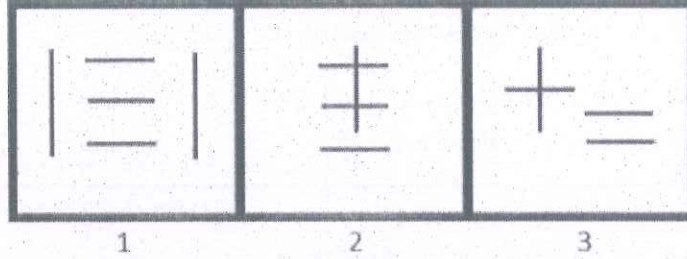

- A) 39
- B) 25
- C) 21
- D) 15

6) The paper sheet given below is folded along the given dotted line(s) in the sequence as mentioned. First fold is made along the dotted line 1, then along the dotted line 2 and so on. How many edges would the shape in the resultant paper sheet have, after the folds? / नीचे दिए गए पेपर शीट को उल्लिखित अनुक्रम में दिए गए बिन्दुओं की रेखा(ओं) के समानांतर मोड़ा जाता है। पहला मोड़ बिन्दुओं की रेखा 1 के समानांतर किया जाता है, फिर बिन्दुओं की रेखा 2 के समानांतर और इत्यादि। मोड़ के बाद परिणामी पेपर शीट में कितने किनारे होंगे?



- A) 8
- B) 7
- C) 6
- D) 5

7) An image is given in the left and a set of three numbered images on the right. Observe and find out which of these three images can be formed using exactly the same number of straight lines as used to form the image on the left? / एक चित्र बाईं ओर दी गई है और तीन संख्यांकित चित्रों का एक सेट दाईं ओर दिया गया है। ध्यानपूर्वक देखिए और बताइए कि इन तीन चित्रों में से किसे ठीक उतनी ही संख्या कि सरल रेखाओं के इस्तेमाल से बनाया जा सकता है, जितनी बाईं ओर की चित्र को बनाने में इस्तेमाल की गई है?



- A) 2
B) 1
C) 3
D) Both 1 and 2 / 1 और 2 दोनों

8) There are three words given here. The first two words are related in a certain manner. Select the proper word among the given four alternatives which bears the same relationship with the third word as in the manner first and second words are related.

Austria : Vienna :: Zambia : ? /

यहाँ पर तीन शब्द दिए गए हैं। पहले दो शब्द एक निश्चित शैली से संबंधित हैं। दिए गए चार विकल्पों में से उस सही शब्द का चयन करें, जो तीसरे शब्द से वैसा ही संबंध रखता हो, जैसा कि पहले और दूसरे शब्द संबंध रखते हों।

ऑस्ट्रिया : वियना :: ज़ाम्बिया : ?

- A) Caracas / कैराकस
B) Harare / हारारे
C) Montevideo / मोंटेवीडियो
D) Lusaka / लुसाका

Following are the conditions for selecting assistant-engineer in a Software Firm. The candidate must:

- (i) be a graduate in mechanical engineering with atleast 70% marks.
(ii) be a post-graduate with 75% marks.

निम्नलिखित एक सॉफ्टवेयर कंपनी में सहायक-इंजीनियर के चयन के लिए शर्तें हैं। उम्मीदवार को:

- (i) कम से कम 70% अंकों के साथ मैकेनिकल इंजीनियरिंग में एक ग्रेजुएट होना चाहिए।

(iii) have a work experience of 3 years post qualification.

(iv) have secured atleast 80% in the selection interview.

In the case of a candidate who satisfies all the conditions:

(A) EXCEPT (i) above, but has work experience of 5 years after post-graduation, then the case may be referred to General Manager.

(B) EXCEPT (ii) above, but has experience of 7 years or more after post-graduation, then the case may be referred to Vice-President.

(C) EXCEPT (iv) above, but has more than 90% in Class X, then the case may be referred to President.

Based on the above information and criteria given in each of the following questions, you have to take decision. These cases are given to you as on 1st November, 2016.

(ii) 75% अंकों के साथ एक पोस्ट-ग्रेजुएट होना चाहिए।

(iii) क्वालिफिकेशन के बाद 3 साल का कार्यानुभव होना चाहिए।

(iv) सेलेक्शन इंटरव्यू में कम से कम 80% हासिल किया होना चाहिए।

अगर एक उम्मीदवार सभी शर्तों को पूरा करता है:

(A) सिवाय उपरोक्त (i) के, लेकिन पोस्ट-ग्रेजुएशन के बाद 5 साल का कार्यानुभव है तो, मामला महाप्रबंधक को भेजा जाए।

(B) सिवाय उपरोक्त (ii) के, लेकिन पोस्ट-ग्रेजुएशन के बाद 7 या उससे अधिक साल का कार्यानुभव है तो, मामला उपाध्यक्ष को भेजा जाए।

(C) सिवाय उपरोक्त (iv) के, लेकिन दसवीं कक्षा में 90% से अधिक है तो, मामला अध्यक्ष को भेजा जाए।

उपरोक्त जानकारी और नीचे दिए गए प्रत्येक प्रश्न में दिए गए मापदंडों के आधार पर आपको निर्णय लेना होगा। ए सभी मामले आपको नवंबर 1, 2016 की तारीख को दिए गए हैं।

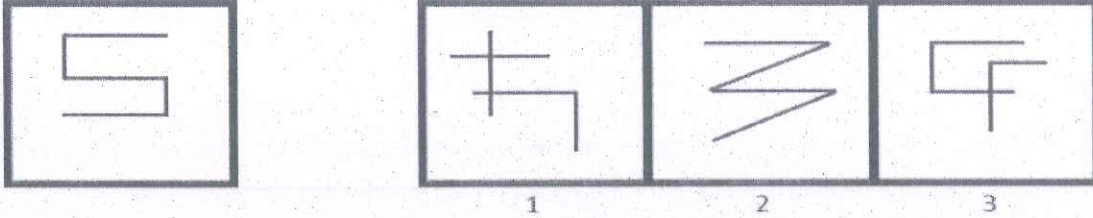
9) Pooja Shah secured 74% marks in mechanical engineering and 69% in post graduation. She has work experience of 9 years after post graduation and has secured 84% marks in selection interview. She should be :

/

पूजा शाह ने मैकेनिकल इंजीनियरिंग में 74% अंक और पोस्ट-ग्रेजुएशन में 69% हासिल किए हैं। पोस्ट-ग्रेजुएशन के बाद उसके पास 9 साल का कार्यानुभव है और उसने सेलेक्शन इंटरव्यू में 84% अंक हासिल किए हैं। उसे

- A) referred to the Vice-President / उपाध्यक्ष के पास भेजा जाना चाहिए
- B) referred to the General Manager / महाप्रबंधक के पास भेजा जाना चाहिए
- C) referred to the President / अध्यक्ष के पास भेजा जाना चाहिए
- D) rejected / चयन नहीं करना चाहिए

10) An image is given in the left and a set of three numbered images on the right. Observe and find out which of these three images can be formed using exactly the same number of straight lines as used to form the image on the left? / एक चित्र बाईं ओर दी गई है और तीन संख्यांकित चित्रों का एक सेट दाईं ओर दिया गया है। ध्यानपूर्वक देखिए और बताइए कि इन तीन चित्रों में से किसे ठीक उतनी ही संख्या कि सरल रेखाओं के इस्तेमाल से बनाया जा सकता है, जितनी बाईं ओर की चित्र को बनाने में इस्तेमाल की गई है?



- A) 2
B) 3
C) Both 1 and 2 / 1 और 2 दोनों
D) 1

11) There are three words given here. The first two words are related in a certain manner. Select the proper word among the given four alternatives which bears the same relationship with the third word as in the manner first and second words are related.

Assam : Dispur :: Mizoram : ? /

यहाँ पर तीन शब्द दिए गए हैं। पहले दो शब्द एक निश्चित शैली से संबंधित हैं। दिए गए चार विकल्पों में से उस सही शब्द का चयन करें, जो तीसरे शब्द से वैसा ही संबंध रखता हो, जैसा कि पहले और दूसरे शब्द संबंध रखते हों।

असम : दिसपुर :: मिज़ोरम : ?

- A) Aizawl / आइजोल
B) Itanagar / इटानगर
C) Gangtok / गंगटोक
D) Kohima / कोहिमा

12) In a certain code, RERIEI is written as 23, then how is AFJKUR written in the same code? / एक निश्चित कूट में RERIEI को 23 के रूप में लिखा जाता है, तो उसी कूट में AFJKUR को कैसे लिखा जाएगा?

- A) 32
B) 39
C) 46
D) 35

13) Find the number similar to the number 32 in a certain manner. / उस संख्या को खोजें जो एक निश्चित तरीके से संख्या 32 के समान है।

- A) 2
- B) 46
- C) 13
- D) 17

14) There are three words given here. The first two words are related in a certain manner. Select the proper word among the given four alternatives which bears the same relationship with the third word as in the manner first and second words are related.

carnivores : walruses :: herbivores : ? /

यहाँ पर तीन शब्द दिए गए हैं। पहले दो शब्द एक निश्चित शैली से संबंधित हैं। दिए गए चार विकल्पों में से उस सही शब्द का चयन करें, जो तीसरे शब्द से वैसा ही संबंध रखता हो, जैसा कि पहले और दूसरे शब्द संबंध रखते हों।

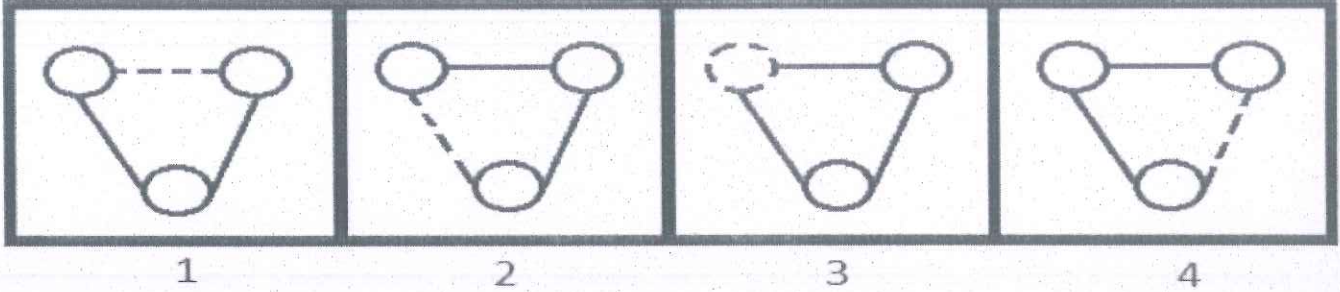
मांसाहारी : बालरस :: शाकाहारी : ?

- A) koalas / कोआला
- B) cougars / तेंदुआ
- C) owls / उल्लू
- D) sea lions / जलसिंह

15) What would be the sum of first 100 terms of this sequence: 0, 3, 8, 15, 24, 35,? / इस श्रृंखला की पहली 100 संख्याओं का योग क्या होगा: 0, 3, 8, 15, 24, 35,?

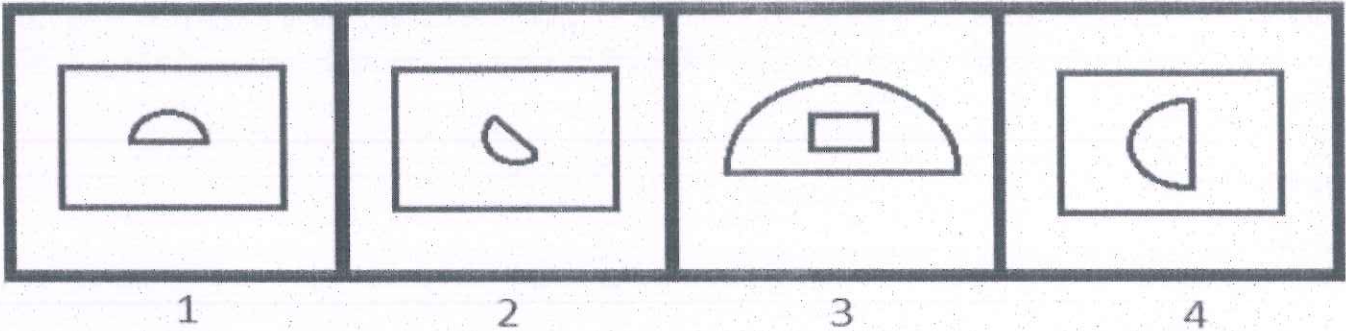
- A) 338150
- B) 338250
- C) 338450
- D) 338350

16) Among the given group of 4 images, which set of images can be classified as a group? / दिए गए 4 चित्रों के समूह में से किन समुच्चय चित्रों को एक समूह के रूप में वर्गीकृत किया जा सकता है?



- A) (1, 2, 3)
- B) (2, 3, 4)
- C) (1, 2, 4)
- D) (1, 3, 4)

17) Among the given group of 4 images, which set of images can be classified as a group? / दिए गए 4 चित्रों के समूह में से किन समुच्चय चित्रों को एक समूह के रूप में वर्गीकृत किया जा सकता है?



- A) (1, 2, 4)
- B) (1, 2, 3)
- C) (1, 3, 4)
- D) (2, 3, 4)

18) Three out of the given four items are similar. Find the odd one. / दिए गए चार आयटमों में से तीन एक जैसे हैं। भिन्न आयटम की पहचान करें

- A) 39#
- B) 19#
- C) 48#
- D) 28#


19) 14 persons went for a dinner in a restaurant. Thirteen of them spent Rs. 20 each on their meals & fourteenth person spent Rs.13 more than the average expenditure of all the fourteen. What was the total money spent by them? / 14 व्यक्ति एक रेस्तरां में भोजन के लिए जाते हैं। उनमें से तेरह अपने अपने भोजन पर 20 रु खर्च करते हैं और चौदहवां व्यक्ति सभी चौदह व्यक्तियों के औसत व्यय से 13 रु अधिक खर्च करता है। उनके द्वारा कुल कितना पैसा खर्च किया गया है?

- A) Rs.168 / 168 रु
- B) Rs.226 / 226 रु
- C) Rs.294 / 294 रु
- D) Rs.316 / 316 रु

20) Deepa and Kiran started a business investing Rs. 35000 and Rs. 28000 respectively. Out of a total profit of Rs.7200, Kiran's share is / दीपा और किरण ने क्रमशः 35000रु और 28000रु निवेशित करके एक व्यापार शुरू किया। 7200रु के कुल लाभ में से किरण का हिस्सा कितना है?

- A) Rs.4000 / 4000 रु
- B) Rs.3200 / 3200 रु
- C) Rs.2800 / 2800 रु
- D) Rs.3600 / 3600 रु

21) Given are two views of a dice. What should come in place of the question mark? / पासे (डाइस) के दो दृश्य दिए गए हैं। प्रश्न चिह्न के स्थान पर क्या आना चाहिए?



- A) 6
- B) 5
- C) 4
- D) 1

22) Introducing Neha, Rohan said, "The son of her only brother is the brother of my wife." How is Neha related to Rohan? / नेहा का परिचय देते हुए, रोहन ने कहा, "उनके इकलौते भाई का बेटा मेरी पत्नी का भाई है।" नेहा का रोहन से क्या रिश्ता है?

- A) Sister of father-in-law / ससुर की वहन
- B) Aunt / चाची
- C) Grandmother / दादी
- D) Mother-in-law / सास

23) In a certain code, JLD is written as NUL, then how is FGM written in the same code? / एक निश्चित कूट में JLD को NUL के रूप में लिखा जाता है, तो उसी कूट में FGM को कैसे लिखा जाएगा?

- A) VFF
- B) JPU
- C) MKJ
- D) KUY

24) Six friends were checking their heights. All of them have different heights. Jack is taller than Rose, who is taller than Sakshi and Shashank. Only two persons are shorter than Ayan, but none of the two is Shashank. Shashank is 160 cm tall. Sakshi is taller than only one person. Kaushal is the remaining friend. If all were standing in a line in descending order of their heights, and then Jack and Rose, Shashank and Ayan, Sakshi and Kaushal interchange their positions, then find the position of Shashank in the new arrangement. / छः मित्र अपनी-अपनी लंबाई जांच रहे थे। उन सभी की लंबाई अलग-अलग हैं। जैक की लंबाई रोज़ से अधिक है, जो साक्षी और शशांक से लंबा है। केवल दो व्यक्ति अयान से छोटे हैं, लेकिन दोनों में से कोई शशांक नहीं है। शशांक की लंबाई 160 सेमी है। साक्षी सिर्फ एक व्यक्ति से लंबी है। वचा हुआ मित्र कौशल है। यदि वे सभी अपनी घटती लंबाई के क्रम में खड़े होते हैं, और फिर जैक और रोज़, शशांक और अयान, साक्षी और कौशल अपनी-अपनी स्थिति को आपस बदल लेते हैं, तो नई व्यवस्था में शशांक किस स्थान पर है?

- A) 6th / छठे
- B) 5th / पांचवें
- C) 2nd / दूसरे
- D) 4th / चौथे

25) Looking at a portrait of a man, Sushil said, "His mother is the wife of my grandfather's only grandson. Brothers and sisters I have none." At whose portrait was Sushil looking? / एक पुरुष की तस्वीर की ओर देखते हुए सुशील ने कहा, "उसकी मां मेरे दादा की इकलौता पोता की पत्नी है।" मेरे कोई भाई-बहन नहीं हैं।" सुशील किसकी तस्वीर देख रहा था?

- A) Son / बेटा
- B) Nephew / भतीजा
- C) Brother / भाई
- D) Brother-in-law / साला

26) A man's speed with the current is 30 kmph and the speed of the current is 3.5 kmph. The man's speed against the current is / करंट के साथ एक आदमी की गति 30 किमी प्रति घंटा है और करंट की गति 3.5 किमी प्रति घंटा है। करंट के खिलाफ आदमी की गति है

- A) 25 kmph / 25 किमी प्रति घंटा
- B) 23 kmph / 23 किमी प्रति घंटा
- C) 7 kmph / 7 किमी प्रति घंटा
- D) 19 kmph / 19 किमी प्रति घंटा

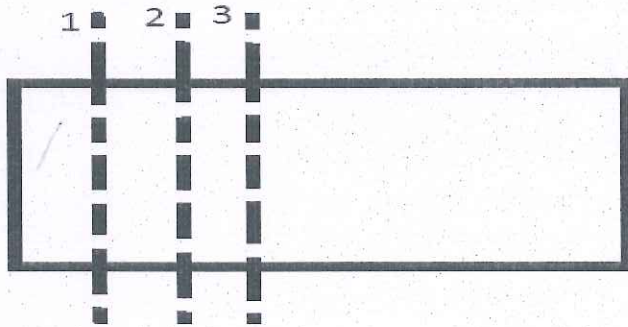
27) Among the given four options, three are related in a same way. Select the option that is odd one out. / दिए गए चार विकल्पों में तीन एक तरीके से आपस में संबंधित हैं। वह विकल्प चुनिए जो सबसे भिन्न हो।

- A) Day : Week / दिन : सप्ताह
- B) Year : Century / वर्ष : शताब्दी
- C) Week : Month / सप्ताह : माह
- D) Hour : Minute / घंटे : मिनट

28) Two identical dices P and Q are taken. On faces of P, months of first half of the year are written. On faces of Q, months of second half of the year are written. Now the two dices are glued together along the faces that have a month with equal number of days. Which of these cannot be there on one of the glued faces? / दो समरूप पासे P और Q लिए जाते हैं। P के फलक पर साल के पहली छमाही के महीने लिखे जाते हैं। Q के फलक पर साल के दूसरी छमाही के महीने लिखे जाते हैं। अब उस फलक पर जहाँ समान संख्या वाले दिन के महीने हैं उसके समानांतर दोनों पासों को सरेस से एक साथ जोड़ा जाता है। इनमें से कौन सा सरेस के साथ जोड़े गए फलक पर नहीं हो सकता?

- A) May / मई
- B) January / जनवरी
- C) February / फरवरी
- D) June / जून

29) The paper sheet given below is folded along the given dotted line(s) in the sequence as mentioned. First fold is made along the dotted line 1, then along the dotted line 2 and so on. How many edges would the resultant paper sheet have, after the folds? / नीचे दिए गए पेपर शीट को उल्लिखित अनुक्रम में दिए गए बिन्दुओं की रेखा(ओं) के समानांतर मोड़ा जाता है। पहला मोड़ बिन्दुओं की रेखा 1 के समानांतर किया जाता है, फिर बिन्दुओं की रेखा 2 के समानांतर और इत्यादि। मोड़ के बाद परिणामी पेपर शीट में कितने किनारे होंगे?



- A) 6
- B) 4
- C) 7
- D) 3

Following are the eligibility criteria for applying for the post of Assistant Manager.

(i) The candidate should be a graduate with minimum 80% aggregate marks.

(ii) The candidate should have minimum 60% marks in graduation if she is a post graduate with minimum 65%

(iii) The candidate should have minimum 70% marks in graduation if he has done diploma in marketing.

According to the details of the candidate, he/she may be eligible under one or more of the criteria given above.

Read the following information given below and find out which of the criteria under which the candidate is eligible?

सहायक प्रबंधक के पद के लिए आवेदन करने के लिए पात्रता मानदंड नीचे दिया गया है।

(i) उम्मीदवार कम से कम 80% अंकों के साथ स्नातक होना चाहिए।

(ii) यदि उम्मीदवार कम से कम 65% अंकों के साथ स्नातकोत्तर है, तो स्नातक स्तर में उसके अंक कम से कम 60% होने चाहिए।

(iii) यदि उम्मीदवार ने विपणन में डिप्लोमा प्राप्त किया है, तो स्नातक स्तर में उसके अंक कम से कम 70% होने चाहिए।

उम्मीदवार के विवरण के अनुसार, वह ऊपर दिए गए एक या अधिक मापदंड के अंतर्गत पात्र हो सकता है।

नीचे दी गई जानकारी पढ़ें और जात करें कि कौन सा मापदंड उम्मीदवार की जानकारी अंतर्गत आता है:

30) Candidates information - Komal is working in a company since 4 years after her post graduation, in which she secured 67% marks. She is a graduate with 80% marks and has secured diploma in Computer Science from Mumbai.

/

उम्मीदवार कि जानकारी-कोमल अपनी स्नातकोत्तर की पढ़ाई के बाद 4 वर्षों से कंपनी में काम कर रही है, स्नातकोत्तर में उसने 67% अंक प्राप्त किए हैं। उसने स्नातक में 80% अंक प्राप्त किए हैं और मुंबई से कंप्यूटर साइंस में डिप्लोमा हासिल किया है।

A) (ii) only / केवल (ii)

B) (i) and (ii) only / केवल (i) और (ii)

C) (i) and (iii) only / केवल (i) और (iii)

D) (i) only / केवल (i)

31) Bharti, who is Akshay's daughter, says to Kartika, "Your mother Nikita is the elder sister of my brother's father, who is the third child of Meena." How is Kartika's maternal uncle related to Meena ? / भारती, जो अक्षय की बेटी है, कार्तिक से कहती है, "तुम्हारी मां निकिता मेरे भाई के पिता की बड़ी बहन है, जो मीना की तीसरी संतान है।" कार्तिक का मामा का मीना से क्या रिश्ता है?

- A) Son-in-law / दामाद
- B) Brother / भाई
- C) Nephew / भतीजा
- D) Son / बेटा

32) In a certain code, NMFERW is coded as OOIFTZ. What will be the code of the word DFHRCF? / एक निश्चित कूट में NMFERW को OOIFTZ के रूप में कूट वद्ध किया जाता है। शब्द DFHRCF का कूट क्या होगा?

- A) DERWES
- B) EHKSEI
- C) SEREWE
- D) JFSHSR

Following are the eligibility criteria for applying for the post of Junior Officer in a bank.

(i) The candidate should be a graduate with atleast 60% aggregate marks.

(ii) The candidate should have atleast 60% marks in graduation if he is a post graduate with atleast 65%

(iii) The candidate should have atleast 50% marks in graduation and atleast 60% marks in post graduation if he holds a doctoral degree (Ph.D)

(iv) The candidate should have atleast 60% in graduation if he has atleast 4 year experience after post graduation.

(v) The candidate should have atleast 55% marks in graduation if he has atleast 9 year work experience after graduation.

According to the details of the candidate, he / she may be eligible under one or more of the criteria given above.

बैंक में कनिष्ठ अधिकारी के पद के लिए आवेदन करने के लिए पात्रता मानदंड नीचे दिया गया है।

(i) उम्मीदवार कम से कम 60% कुल अंकों के साथ स्नातक होना चाहिए।

(ii) यदि उम्मीदवार कम से कम 65% अंकों के साथ स्नातकोत्तर है, तो स्नातक स्तर में उसके अंक कम से कम 60% होने चाहिए।

(iii) यदि उम्मीदवार ने डॉक्टरेट की डिग्री (Ph.D) प्राप्त की है, तो स्नातक स्तर में उसके अंक कम से कम 50% और स्नातकोत्तर स्तर पर कम से कम 60% होने चाहिए।

(iv) यदि स्नातकोत्तर स्तर के बाद, उम्मीदवार के पास कम से कम 4 वर्ष का कार्य अनुभव है, तो स्नातक स्तर में उसके अंक कम से कम 60% होने चाहिए।

(v) यदि स्नातक स्तर के बाद, उम्मीदवार के पास कम से कम 9 वर्ष का कार्य अनुभव है, तो स्नातक स्तर में उसके अंक कम से कम 55% होने चाहिए।

उम्मीदवार के विवरण के अनुसार, वह ऊपर दिए गए एक या अधिक मापदंड के अंतर्गत पात्र हो सकता है।

Read the following information given below and find out which of the criteria the candidate belongs to?

नीचे दी गई जानकारी पढ़ें और जात करें कि कौन सा मापदंड उम्मीदवार की जानकारी अंतर्गत आता है:

33) Candidate's information : Raj completed his engineering 4 years ago with 70% aggregate marks and postgraduation with 68% marks. He has been working for a firm since 3 years. /

उम्मीदवार कि जानकारी-राज ने 4 वर्ष पहले 70% अंकों के साथ अपनी इंजीनियरिंग और 68% अंकों के साथ स्नातकोत्तर की पढ़ाई पूरी की है। वो पिछले 3 वर्षों से एक फर्म में काम कर रहा है।

- A) (i) and (ii) only / केवल (i) और (ii)
- B) (iii) only / केवल (iii)
- C) (i), (ii) and (iv) / (i), (ii) और (iv)
- D) (iv) only / केवल (iv)

34) Six friends were checking their heights. All of them have different heights. Jack is taller than Rose, who is taller than Sakshi and Shashank. Only two persons are shorter than Ayan, but none of the two is Shashank. Shashank is 160 cm tall. Sakshi is taller than only one person. What can be the height of the shortest person if the height of Sakshi is 148cm / छः मित्र अपनी-अपनी लंबाई जांच रहे थे। उन सभी की लंबाई अलग-अलग हैं। जैक की लंबाई रोज से अधिक है, जो साक्षी और शशांक से लंबा है। केवल दो व्यक्ति अयान से छोटे हैं, लेकिन दोनों में से कोई शशांक नहीं है। शशांक की लंबाई 160 सेमी है। साक्षी सिर्फ एक व्यक्ति से लंबी है। सबसे छोटे व्यक्ति की लंबाई क्या हो सकती है यदि साक्षी की लंबाई 148 सेमी है?

- A) 156 cms / 156 सेमी
- B) 155 cms / 155 सेमी
- C) 147 cms / 147 सेमी
- D) 159 cms / 159 सेमी

Following are the conditions for selection of translator in various departments of the government in India. The candidate must:

- (i) be a graduate in any discipline with atleast 65% marks.
- (ii) have the ability to read, write and speak Hindi and English besides the regional language of the state to which he/she belongs.
- (iii) be less than 30 years of age.
- (iv) must have Indian Passport.

In the case of a candidate who satisfies all the conditions:

निम्नलिखित भारत सरकार के विभिन्न विभागों में अनुवादक के चयन के लिए शर्तें हैं। उम्मीदवार को:

- (i) कम से कम 65% अंकों के साथ किसी भी विषय में ग्रेजुएट होना चाहिए।
- (ii) अपने राज्य के क्षेत्रीय भाषा के अलावा हिंदी और अंग्रेजी पढ़ने, लिखने और बोलने की क्षमता होनी चाहिए।
- (iii) 30 वर्ष से कम आयु होना चाहिए।
- (iv) भारतीय पासपोर्ट होना आवश्यक है।

अगर एक उम्मीदवार सभी शर्तों को पूरा करता है:

(A) EXCEPT (i) above, but has a post graduation degree, then his/her case may be referred to State Employment Officer.

(B) EXCEPT (iii) above, but has experience of 3 years after post-graduation, then the case may be referred to Personal assistant, State Employment Officer.

Based on the above information and criteria given in each of the following questions, you have to take decision. These cases are given to you as on 1st September, 2016.

(A) सिवाय उपरोक्त (i) के, लेकिन एक्स्ट्रा-ग्रेजुएशन की डिग्री है तो, उसके मामले को राज्य रोजगार अधिकारी को भेजा जाए।

(B) सिवाय उपरोक्त (iii) के, लेकिन पोस्ट-ग्रेजुएशन के बाद 3 साल का अनुभव है तो, मामले को निजी सहायक, राज्य रोजगार अधिकारी को भेजा जाए।

उपरोक्त जानकारी और नीचे दिए गए प्रत्येक प्रश्न में दिए गए मापदंडों के आधार पर आपको निर्णय लेना होगा। ए सभी मामले आपको सितंबर 1, 2016 की तारीख को दिए गए हैं।

35) Hemant Puri, who is 26 years old, belongs to Karnataka and has secured 76% marks in his graduation. He knows to read, write and speak Hindi and Kannada. He has an Indian Passport. He must be : /

हेमंत पुरी जिसकी आयु 26 वर्ष है, कर्नाटक का रहने वाला है और उसने अपने ग्रेजुएशन में 76% अंक हासिल किए हैं। वह हिन्दी और कन्नड़ पढ़ना, लिखना और बोलना जानता है। उसके पास भारतीय पासपोर्ट है। उसे

- A) rejected / नहीं चुना जाना चाहिए
- B) selected / चुना जाना चाहिए
- C) referred to Personal Assistant, State Employment Officer / निजी सहायक, राज्य रोजगार अधिकारी के पास भेजा जाना चाहिए
- D) referred to State Employment Officer. / राज्य रोजगार अधिकारी के पास भेजा जाना चाहिए

36) Which of the given option will NOT share the same property as the elements of the given set: (Chess, Checkers, Ludo)? / प्रदत्त विकल्पों में से कौन सा एक दिए गए सेट: (शतरंज, चेकर्स, लूडो) के तत्वों जैसी प्रकृति को साझा नहीं करेगा?

- A) Hockey / हॉकी
- B) Backgammon / बैकगैमोन
- C) Carom / कैरम
- D) Cards / कार्ड

Following are the eligibility criteria for applying for the post of Assistant Manager.

- (i) The candidate should be a graduate with minimum 80% aggregate marks.
- (ii) The candidate should have minimum 60% marks in graduation if he is a post graduate with minimum 65%
- (iii) The candidate should have minimum 70% marks in graduation if he has done diploma in marketing.

According to the details of the candidate, he/she may be eligible under one or more of the criteria given above.

Read the following information given below and find out which of the criteria the candidate belongs to?

सहायक प्रबंधक के पद के लिए आवेदन करने के लिए पात्रता मानदंड नीचे दिया गया है।

- (i) उम्मीदवार कम से कम 80% अंकों के साथ स्नातक होना चाहिए।
- (ii) यदि उम्मीदवार कम से कम 65% अंकों के साथ स्नातकोत्तर है, तो स्नातक स्तर में उसके अंक कम से कम 60% होने चाहिए।
- (iii) यदि उम्मीदवार ने विपणन में डिप्लोमा प्राप्त किया है, तो स्नातक स्तर में उसके अंक कम से कम 70% होने चाहिए।

उम्मीदवार के विवरण के अनुसार, वह ऊपर दिए गए एक या अधिक मापदंड के अंतर्गत पात्र हो सकता है।

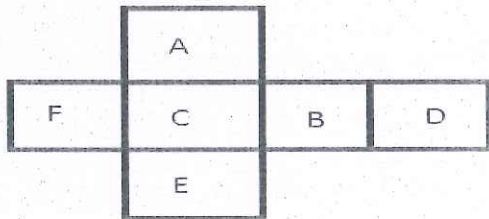
नीचे दी गई जानकारी पढ़ें और जात करें कि कौन सा मापदंड उम्मीदवार की जानकारी अंतर्गत आता है:

37) Candidate details: Simran is just a graduate with 50% aggregate marks. /

उम्मीदवार का विवरण: सिमरन ने कुल 50% अंकों के साथ स्नातक की पढ़ाई की है।

- A) All / सभी
- B) (i) only / केवल (i)
- C) She is not eligible. / वह बिल्कुल पात्र नहीं है
- D) (iii) only / केवल (iii)

38) Below is given an opened up dice. Which of the following pairs of alphabets would be adjacent to each other? / नीचे एक खुला पासा (डाइस) दिया गया है। निम्न में से अक्षरों की कौन सी जोड़ी एक दूसरे के सन्निकट होगी?



- A) A and E / A और E
- B) C and D / C और D
- C) B and F / B और F
- D) E and B / E और B

39) There are three words given here. The first two words are related in a certain manner. Select the proper word among the given four alternatives which bears the same relationship with the third word as in the manner first and second words are related.

India : Ganga :: Mexico : ? /

यहाँ पर तीन शब्द दिए गए हैं। पहले दो शब्द एक निश्चित शैली से संबंधित हैं। दिए गए चार विकल्पों में से उस सही शब्द का चयन करें, जो तीसरे शब्द से वैसा ही संबंध रखता हो, जैसा कि पहले और दूसरे शब्द संबंध रखते हों।

भारत : गंगा :: मेक्सिको : ?

- A) Rio Grande / रियो ग्रैंड
- B) Ob / ओब
- C) Selenga / सेलेंगा
- D) Yukon / युकोन

40) What should come in the blank space so that the series formed is meaningful: BZ, CY, EW, HT, _____? / रिक्त स्थान में क्या आना चाहिए ताकि श्रृंखला सार्थक रूप ले: BZ, CY, EW, HT, _____?

- A) LP
- B) LO
- C) LM
- D) KP

41) Find the code similar to ABDG / दिए कोड ABDG के जैसा कोड खोजिए।

- A) CDEF
- B) MNPS
- C) PQRT
- D) XYAZ

42) A ladder leans against a wall. The base of the ladder is 3 metre away from the wall. The ladder reaches a height of 4 metre on the wall. Find the length of the ladder in metres. / एक सीढ़ी एक दीवार के सहारे खड़ी है। उस सीढ़ी का आधार दीवार से 3 मी. दूर है। सीढ़ी दीवार पर 4 मी की ऊंचाई तक पहुंचती है। सीढ़ी की मीटर में लंबाई कितनी है?

- A) 6
- B) 10
- C) 5
- D) 2

43) Some alphabetical patterns are given in each of the option. Three of them are similar in a way, while one is different. Find the pattern that is different from others. / हर एक विकल्प में कुछ वर्णमाला पैटर्न दिए गए हैं। उनमें से तीन एक तरीके से समान हैं, जबकि उनमें से एक भिन्न है। ऐसा पैटर्न खोजिए जो दूसरों से भिन्न है।

- A) TIFS
- B) FSOT
- C) SOFT
- D) TOSF

A company decided to recruit Sales Executive trainees. The company laid down the following criteria for selecting the candidates.

- A. should be a graduate securing atleast 70% marks.
- B. should have scored 65% marks in the selection interview.
- C. should know fluent English.
- D. should have scored atleast 75% in the written test.

In the case of a candidate who satisfies all the conditions :

- (i) Except A above ,but has completed MBA, his/her case may be referred to the Managing Director (MD).
- (ii) Except B above, but has a work experience of atleast 2 years after graduation, his/her case may be referred to the the President.

Based on the above information and criteria given in each of the following questions, you have to take decision.

एक कंपनी ने विक्री कार्यकारी प्रशिक्षुओं की भर्ती करने का फैसला किया है। कंपनी ने उम्मीदवारों के चयन के लिए निम्न मानदंड निर्धारित किए हैं।

- A. उम्मीदवार कम से कम 70% अंकों के साथ स्नातक होना चाहिए।
- B. उम्मीदवार ने चयन साक्षात्कार में 65% अंक प्राप्त किए हों।
- C. उम्मीदवार अंग्रेजी में धाराप्रवाह वक्ता होना चाहिए।
- D. उम्मीदवार ने लिखित परीक्षा में कम से कम 75% अंक प्राप्त किए हों।

इन सभी शर्तों को पूरा करने वाले उम्मीदवार के मामले में:

- (i) उपरोक्त में से A को छोड़कर, उम्मीदवार ने MBA किया है, उसके मामले को प्रबंध निदेशक (MD) को भेजा जा सकता है।
- (ii) उपरोक्त में से B को छोड़कर, उम्मीदवार के पास स्नातक स्तर की पढ़ाई के बाद कम से कम 2 वर्ष का कार्य अनुभव है, उसके मामले को राष्ट्रपति को भेजा जा सकता है।

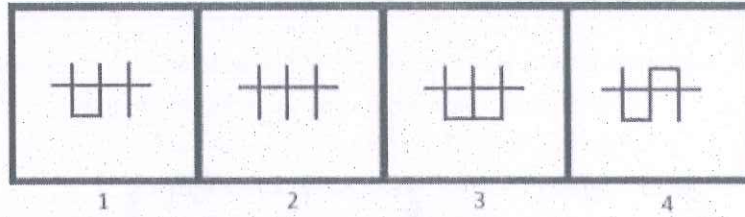
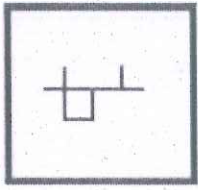
उपरोक्त जानकारी और नीचे प्रत्येक प्रश्न में दिए मानदंडों के आधार पर, आपको निर्णय लेना है।

44) These cases are given to you as on 21st October, 2016. Mahesh Sawarkar secured 67% marks in graduation and did MBA securing 72% marks. He has fluency in English and qualified the written test with 79% marks. He scored 80% marks in the interview. He should be : /

ये मामले आपको 21 अक्टूबर, 2016 की स्थिति के अनुसार दिए गए हैं: महेश सावरकर ने स्नातक में 67% अंक प्राप्त किए हैं और 72% अंकों के साथ MBA की है। वह अंग्रेजी में धाराप्रवाह वक्ता है और उसने 79% अंकों के साथ लिखित परीक्षा उत्तीर्ण की है। उसने साक्षात्कार में 80% अंक प्राप्त किए हैं। तो उसको:

- A) referred to the President / राष्ट्रपति के पास भेजना चाहिए
 B) rejected / अस्वीकृत करना चाहिए
 C) referred to the Managing Director / प्रबंधक निदेशक के पास भेजना चाहिए
 D) selected / चयनित करना चाहिए

45) A figure is given on the left with a pattern. In which of the four images on the right we CANNOT find this pattern as a part of that image? / बाईं ओर एक पैटर्न के साथ एक चित्र दी गई है। दाईं ओर की चार चित्रों में से किसमें हमें उस चित्र के हिस्से के रूप में यह पैटर्न नहीं मिल सकता?



- A) 4
 B) 3
 C) 1
 D) 2

46) Between two bottles kept in the shelf, seven packets are arranged. If you decide to arrange those seven packets in every possible way and do just one arrangement every minute, how long would it take to make all the possible arrangements? / शेल्फ में रखी दो बोतलों के बीच सात पैकेट्स व्यवस्थित हैं। यदि आप उन सात पैकेटों को हर संभव तरीके से सजाने का फैसला लेते हैं और हर मिनट केवल एक विन्यास बनाते हैं, तो सभी संभव विन्यास बनाने में आपको कितना समय लगेगा?

- A) 5040 minutes / 5040 मिनट
 B) 49 minutes / 49 मिनट
 C) 120 minutes / 120 मिनट
 D) 720 minutes / 720 मिनट

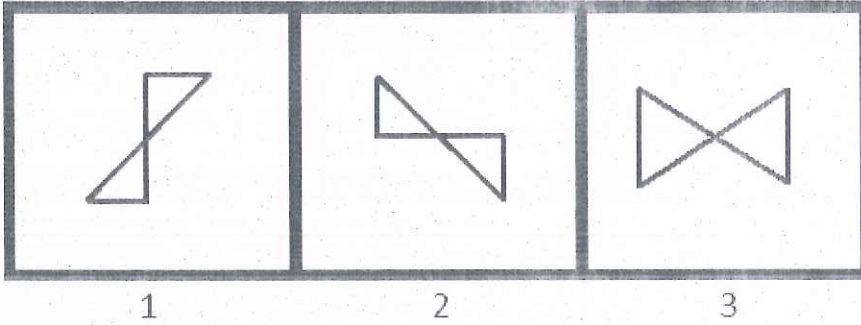
47) Which term of the given series would be the first one to be negative: 1034, 1032, 1028, 1020, 1004,? / दी गई श्रृंखला में पहला ऋणात्मक पद कौन सा होगा: 1034, 1032, 1028, 1020, 1004,?

- A) 10th/10वां
 B) 13th/13वां
 C) 11th/11वां
 D) 12th/12वां

48) A set is given, (Weight, Length, Volume). The sets given in options are similar to it in a certain way EXCEPT one. Find the set that is different. / एक सेट (वजन, लंबाई, मात्रा) दिया गया है। विकल्प में दिए गए सेट्स में से एक को छोड़कर बाकी सभी एक निश्चित तरीके से समान हैं। भिन्न सेट जात करें।

- A) (kilogram, metre, litre) / (किलोग्राम, मीटर, लीटर)
- B) (kilogram, kilometre, litre) / (किलोग्राम, किलोमीटर, लीटर)
- C) (gram, kilometre, litre) / (ग्राम, किलोमीटर, लीटर)
- D) (kilogram, gallon, litre) / (किलोग्राम, गैलन, लीटर)

49) Three images are given below. Observe and find which pair of the given images are similar to each other? / नीचे तीन चित्र दी गई हैं। ध्यानपूर्वक देखिए और बताइए नीचे दी गई चित्रों का कौन सा युग्म एक-दूसरे से मिलता-जुलता है?



- A) All three can be superimposed on each other / सभी तीनों को एक-दूसरे पर आच्छादित किया जा सकता है
- B) 2 and 3 / 2 और 3
- C) 1 and 3 / 1 और 3
- D) 1 and 2 / 1 और 2

50) If $p = -$, $q = +$, $z = x$, find $4q5p10z2$ / यदि $p = -$, $q = +$, $z = x$ है, तो $4q5p10z2$ जात करें

- A) 11
- B) -11
- C) -9
- D) 9

Section 2 - Part B

No. of Questions: 50

51) "Bhangra", a popular dance form has originated from which Indian state? / "भांगड़ा", एक लोकप्रिय नृत्य शैली कौन से भारतीय राज्य से उत्पन्न हुआ?

- A) Karnataka / कर्नाटक
- B) Madhya Pradesh / मध्य प्रदेश
- C) Uttar Pradesh / उत्तर प्रदेश
- D) Punjab / पंजाब

52) Jitu Rai represented India at Rio Olympics 2016 in which of the following sporting events? / जीतू राय ने रियो ओलंपिक 2016 के किस खेल में भारत का प्रतिनिधित्व किया था?

- A) Shooting / शूटिंग
- B) Wrestling / कुश्ती
- C) Boxing / मुक्केबाजी
- D) Archery / तीरंदाजी

53) In which of the following states in India was the Earthquake Warning System (EWS) installed successfully? / निम्न में से भारत के किस राज्य में अर्थक्वेक बार्निंग सिस्टम (EWS) को सफलतापूर्वक स्थापित किया गया था?

- A) Tamil Nadu / तमिलनाडु
- B) Karnataka / कर्नाटक
- C) Uttarakhand / उत्तराखंड
- D) Gujarat / गुजरात

54) What is 'Chapter-IV of Part-V' of the Indian Constitution? / भारतीय संविधान के 'भाग-V का अध्याय-IV' क्या है?

- A) The Union Judiciary / संघीय न्यायपालिका
- B) Comptroller and Auditor-General of India / भारत के नियंत्रक और महालेखा परीक्षक
- C) Legislative Powers of Parliament / संसद की विधायी शक्तियाँ
- D) The Executive / कार्यकारिणी

55) Which of the following defect of vision is NOT corrected by any type of spectacle lenses? / निम्नलिखित में से कौन सा दृष्टिदोष किसी भी प्रकार के स्पेक्टैकल लेंस द्वारा दूर नहीं किया जा सकता?

- A) Presbyopia / प्रेसबायोपिया
- B) Cataract / मोतियाबिंद
- C) Hypermetropia / हाइपरमेट्रोपिया
- D) Astigmatism / अस्टिग्मैटिज्म

56) How many islands are there in the Andaman & Nicobar Island group? / अंडमान एवं निकोबार द्वीप समूह में कितने द्वीप हैं?

- A) 572
- B) 675
- C) 650
- D) 682

57) Which of the following banks has signed an agreement for the Eastern Dedicated Freight Corridor Project with Government of India? / निम्नांकित में से किस बैंक ने भारत सरकार के साथ इस्टर्न डेडिकेटेड फ्रेट कॉरिडोर प्रोजेक्ट के लिए एक समझौते पर हस्ताक्षर किया?

- A) Asian Development Bank / एशियन विकास बैंक
- B) New Development Bank / न्यू डेवलपमेंट बैंक
- C) Industrial Development Bank of India / भारतीय औद्योगिक विकास बैंक
- D) World Bank / विश्व बैंक

58) In October 2016, the Union Cabinet, has given its ex-post facto approval for formation of a new Indian Institute of Science Education and Research (IISER) at which of the following places? / अक्टूबर 2016 में केंद्रीय मंत्रिमंडल ने निम्नलिखित स्थानों में से कहाँ एक नए भारतीय विज्ञान शिक्षा एवं अनुसंधान संस्थान (IISER) के गठन के लिए अपनी पूर्व कार्योत्तर स्वीकृति दे दी है?

- A) Bhopal, Madhya Pradesh / भोपाल, मध्य प्रदेश
- B) Berhampur, Odisha / बरहामपुर, ओडिशा
- C) Pune, Maharashtra / पुणे, महाराष्ट्र
- D) Kolkata, West Bengal / कोलकाता, पश्चिम बंगाल

59) Which is the day of "Ashura", in the mourning month of Muharram? / मुहर्रम के शोक महीने में "अशुरा" का दिन कौन सा है?

- A) twentieth day / बीसवां दिन
- B) tenth day / दसवां दिन
- C) seventeenth day / सत्रहवां दिन
- D) eleventh day / ग्यारहवां दिन

60) Which of the following is known as the National Waterways-3 ? / निम्न में से किसे राष्ट्रीय जलमार्ग-3 के रूप में जाना जाता है?

- A) Kakinada-Puducherry Canals system along with Godavari and Krishna rivers / गोदावरी और कृष्णा नदियों के साथ काकीनाडा-पुडुचेरी नहर प्रणाली
- B) Ganga River System / गंगा नदी प्रणाली
- C) Brahmaputra River System / ब्रह्मपुत्र नदी प्रणाली
- D) West Coast Canal from Kottapuram to Kollam with Udyogmandal and Champakara Canals / उद्योगमंडल और चम्पकर नहरों के साथ कोट्टापुरम से कोल्लम तक पश्चिम तटीय नहर

61) In August 2016, the Central Reserve Police Force (CRPF) had decided to appoint who among the following as its brand ambassador? / अगस्त 2016 में केंद्रीय रिजर्व पुलिस बल (CRPF) ने निम्नलिखित में से किसे अपना ब्रांड एम्बेसेडर के रूप में नियुक्त करने का फैसला किया था?

- A) P. V. Sindhu / P. V. सिंधू
- B) Chetan Anand / चेतन आनंद
- C) Ashwini Ponnappa / अश्विनी पोनप्पा
- D) Saina Nehwal / साइना नेहवाल

62) Fundamental Rights are found in Indian Constitution covering articles from / भारतीय संविधान में मौलिक अधिकार इनमें से कितने अनुच्छेदों में दिए गए हैं?

- A) 36 to 51 / 36 से 51 तक
- B) 12 to 35 / 12 से 35 तक
- C) 239 to 242 / 239 से 242 तक
- D) 52 to 151 / 52 से 151 तक

63) Silver articles tarnish when kept in open for long. It is an example of the silver metal undergoing / चांदी के सामग्री को लंबे समय के लिए खुले में रखने पर वह फीका हो जाता है। यह किसका एक उदाहरण है?

- A) Abrasion / चांदी धातु के अपघर्षण से गुजरने का उदाहरण है
- B) Reduction / चांदी धातु के लघुकरण से गुजरने का उदाहरण है
- C) Oxidation / चांदी धातु के ऑक्सीकरण से गुजरने का उदाहरण है
- D) Amalgamation / चांदी धातु के समामेलन से गुजरने का उदाहरण है

64) NAD is a unique, innovative and progressive initiative, approved for establishment in October 2016, for digital enablement of the education records in India. What does NAD stand for? / NAD एक अनूठा, अभिनव और प्रगतिशील पहल है, जिसे भारत में शैक्षणिक अभिलेखों के डिजिटल समर्थकारी के लिए अक्टूबर, 2016 में स्थापना के लिए अनुमोदन दिया गया। NAD का असंक्षिप्त रूप क्या है?

- A) National Academic Depository / नेशनल अकैडमिक डेपॉजिटरी
- B) National Academic Department / नेशनल अकैडमिक डिपार्टमेंट
- C) Natural Academic Depository / नेचुरल अकैडमिक डेपॉजिटरी
- D) Numerous Academic Deposits / न्युमरस अकैडमिक डेपॉजिट्स

65) In which 'Part' of the Indian Constitution, the relations between the Union and the States is discussed? / भारतीय संविधान के किस 'भाग' में, संघ और राज्यों के बीच के संबंधों पर चर्चा की गई है?

- A) XI
- B) XIII
- C) X
- D) XII

66) What is the correct chronological order of formation of Andhra Pradesh, Haryana, Chhattisgarh and Arunachal Pradesh? / आंध्रप्रदेश, हरियाणा, छत्तीसगढ़ और अरुणाचल प्रदेश के गठन का सही अनुक्रम क्या है?

- A) Andhra Pradesh, Haryana, Arunachal Pradesh, Chhattisgarh / आंध्रप्रदेश, हरियाणा, अरुणाचल प्रदेश, छत्तीसगढ़
- B) Arunachal Pradesh, Chhattisgarh, Haryana, Andhra Pradesh / अरुणाचल प्रदेश, छत्तीसगढ़, हरियाणा, आंध्रप्रदेश
- C) Haryana, Arunachal Pradesh, Chhattisgarh, Andhra Pradesh / हरियाणा, अरुणाचल प्रदेश, छत्तीसगढ़, आंध्रप्रदेश
- D) Haryana, Andhra Pradesh, Chhattisgarh, Arunachal Pradesh / हरियाणा, आंध्रप्रदेश, छत्तीसगढ़, अरुणाचल प्रदेश

67) In which year was the Emergency imposed by the Indian President Fakhruddin Ali? / किस वर्ष में भारत के राष्ट्रपति फखरुद्दीन अली द्वारा आपातकाल लगाया गया था?

- A) 1978
- B) 1976
- C) 1974
- D) 1975

68) Among the following fruits, probiotics are found in / निम्नलिखित फलों के बीच, किसमें प्रोबायोटिक्स पाए जाते हैं?

- A) Coconut / नारियल
- B) Bananas / केले
- C) Apple / सेब
- D) Cabbage / पत्तागोभी

69) In which of the following cities will be the Association of Tennis Professionals (ATP) World Tour Finals held from 14th to 20th November, 2016? / 14 से 20 नवम्बर 2016 तक एसोसिएशन ऑफ टेनिस प्रोफेशनल्स (ATP) वर्ल्ड टूर फाइनल्स का आयोजन किस शहर में किया जाएगा?

- A) Paris / पेरिस
- B) Istanbul / इस्तांबुल
- C) Berlin / बर्लिन
- D) London / लंदन

70) Barcelona FC is the spanish club in which sports fraternity? / बार्सिलोना एफसी किस खेल श्रेणी का स्पेनिश क्लब है?

- A) Football / फुटबॉल
- B) Ice-Hockey / आइस हॉकी
- C) Basket ball / बास्केट बॉल
- D) Badminton / बैडमिंटन

71) Who among the following has won the Men's Singles All England Badminton Title 2016? / निम्न में से किसने मैन्स सिंगल ऑल इंग्लैंड बैडमिंटन टाइटल 2016 जीता है?

- A) Chen Long Lee / चेन लॉग ली
- B) Parveen Jordan / परवीन जॉर्डन
- C) Vladimir Ivanov / व्लादिमीर इवानोव
- D) Lin Dan / लिन डैन

72) Which of the following banks conferred the "Gold Award" amongst the supporting institutions in Niryat Shree and Niryat Bandhu Awards celebrations of FIEO? / निम्नांकित में से किस बैंक को, एफआईओ (FIEO) के निर्यात श्री एवं निर्यात बंधु अवार्ड समारोह के सहायक संस्थानों में "गोल्ड अवार्ड" दिया गया?

- A) HDFC / एचडीएफसी
- B) SBI / एसबीआई
- C) Punjab National Bank / पंजाब नेशनल बैंक
- D) Canara Bank / कैनरा बैंक

73) In the preamble to the Indian Constitution, what is substituted for ' Sovereign Democratic Republic'? / भारतीय संविधान की उद्देशिका में, 'संप्रभु लोकतांत्रिक गणराज्य' के स्थान पर इनमें से क्या रखा गया है?

- A) Sovereign Socialist Democratic Republic / संप्रभु समाजवादी लोकतांत्रिक गणराज्य
- B) Sovereign Socialist Secular Democratic Republic / संप्रभु समाजवादी धर्मनिरपेक्ष लोकतांत्रिक गणराज्य
- C) Sovereign Secular Republic / संप्रभु धर्मनिरपेक्ष गणराज्य
- D) Sovereign Socialist Republic / संप्रभु समाजवादी गणराज्य

74) Why is "Lohri festival" celebrated? / "लोहड़ी त्योहार" क्यों मनाया जाता है?

- A) It denotes the end of spring season / यह वसन्त ऋतु के मौसम के अंत का संकेत करता है
- B) It marks the last of the coldest days of winter / यह सर्दी के सबसे ठंडे दिनों के अंत का इशारा करता है
- C) It denotes the start of the winter / यह सर्दियों की शुरुआत का संकेत करता है
- D) It marks the start of the monsoon season / यह मानसून के मौसम की शुरुआत का इशारा करता है

75) Where was the first International Arbitration Centre of India inaugurated? / भारत के पहले इंटरनेशनल आर्बिट्रेशन सेंटर का उद्घाटन कहाँ हुआ था?

- A) Bengaluru / बेंगलूरु
- B) Pune / पुणे
- C) Mumbai / मुंबई
- D) New Delhi / नई दिल्ली

76) Ben Stokes included in the list of Wisden Top five Cricketers for 2015 belongs to which of the following teams? / 2015 विज्डन शीर्ष पांच क्रिकेटरों की सूची में शामिल बेन स्टोक्स किस टीम से जुड़े हुए हैं?

- A) South Africa / दक्षिण अफ्रीका
- B) England / इंग्लैंड
- C) New Zealand / न्यूजीलैंड
- D) Australia / ऑस्ट्रेलिया

77) Who of the following is credited with invention of eight of the fourteen vaccines used in routine vaccination schedules today? / आज के नियमित टीकाकरण कार्यक्रम में प्रयुक्त चौदह टीकों में से आठ के आविष्कार का श्रेय निम्न में से किसे जाता है?

- A) Christiane Nusslein-Volhard / क्रिस्टियन नसलीन-वोलहार्ड
- B) Bill Nye / बिल नाय
- C) Maurice Hilleman / मौरिस हिलेमन
- D) Carl Friedrich Gauss / कार्ल फ्रेडरिक गॉस

78) Which is the longest river that originates in India? / निम्न में से कौन सी एक सबसे लंबी नदी है जिसका उद्गम भारत में होता है?

- A) Brahmaputra / ब्रह्मपुत्र
- B) Ganga / गंगा
- C) Yamuna / यमुना
- D) Indus / सिंधु

79) Which two books were translated by Abul Fazl into Persian? / किन दो पुस्तकों का अनुवाद अबुल फजल द्वारा फारसी भाषा में किया गया था?

- A) Tazkiratul-Waqiat and Akbarnama / तजकिरतुल-वाकित तथा अकबरनामा
- B) Tabaqat-i-Akbari and Tuzuk-i-Jehangiri / तबाकत-ए-अकबरी तथा तुजुक-ए-जहांगिरी
- C) Panch Tantra (Anwar-i-Sahili) and (Faizi) the story of Nal-Damayanti / पंच तंत्र (अनवर-ए-साहिली) और (फैजी) नल-दमयंती की कथा
- D) Baburnama and Humayunama / बाबरनामा तथा हमायूनामा

80) The title as the "Father of the Indian Renaissance" is conferred to whom among the following? / "भारतीय पुनर्जागरण के पितामह" यह शीर्षक निम्न में से किसे दिया गया है?

- A) Acharya Vinoba Bhave / आचार्य विनोबा भावे
- B) Jamnalal Bajaj / जमनालाल बजाज
- C) Raja Rammohan Roy / राजाराम मोहनराय
- D) Gopal Hari Deshmukh / गोपाल हरि देशमुख

81) What is the rank of India among developing countries, as per Global Retail Development Index (GRDI) 2016 released by London-based business consultancy A. T. Kearney? / लंदन स्थित बिजनेस कंसल्टेंसी ए.टी. केर्नी द्वारा जारी ग्लोबल रिटेल डेवलपमेंट इंडेक्स (GRDI) 2016 में विकासशील देशों में भारत का क्या स्थान है?

- A) 2
- B) 3
- C) 1
- D) 4

82) Identify the article of Indian Constitution wherein 'procedure for impeachment of president' is discussed. / भारतीय संविधान के उस अनुच्छेद की पहचान कीजिए जिसमें 'राष्ट्रपति पर महाभियोग के लिए प्रक्रिया' पर चर्चा की गई है।

- A) 63
- B) 62
- C) 60
- D) 61

83) Who was the founder of the Central Hindu College in Banaras? / बनारस में सेंट्रल हिन्दू कॉलेज की स्थापना किसने की थी?

- A) Annie Besant / एनी बेसेंट
- B) Sarojini Naidu / सरोजिनी नायडु
- C) Gopal Hari Deshmukh / गोपाल हरि देशमुख
- D) Ishwar Chandra Vidyasagar / ईश्वर चंद्र विद्यासागर

84) Rath Yatra in Puri (Odisha) is taken out to honour which Hindu deity? / पुरी (ओडिशा) में रथयात्रा कौन से हिंदू देवता के सम्मान में निकाली जाती है?

- A) Lord Brahma / भगवान ब्रह्मा
- B) Lord Jagannath / भगवान जगन्नाथ
- C) Lord Shiva / भगवान शिव
- D) Goddess Parvati / देवी पार्वती

85) Lord Dalhousie annexed which of the following states when their rulers died without leaving a natural heir to the throne? / लॉर्ड डलहौजी ने निम्न राज्यों में से किस पर कब्जा कर लिया जब उनके शासक सिंहासन के लिए एक स्वाभाविक उत्तराधिकारी छोड़े बिना मर गए?

- A) Jaintiapur / जैन्तियापुर
- B) Satara / सतारा
- C) Bijapur / बीजापुर
- D) Lucknow / लखनऊ

86) Nagarhole National Park is located in which of the following states of India? / नागरहोल राष्ट्रीय उद्यान भारत के किस राज्य में स्थित है?

- A) Gujarat / गुजरात
- B) Tamil nadu / तमिल नाडु
- C) Maharashtra / महाराष्ट्र
- D) Karnataka / कर्नाटक

87) Who was the author of Harshacharita? / हर्षचरित के लेखक कौन थे?

- A) Patanjali / पतंजलि
- B) Panini / पाणिनी
- C) Bana Bhatta / बाण भट्ट
- D) Kalidas / कालिदास

88) Which of the following is the Space Agency of France? / निम्न में से कौन सी एक फ्रांस का अंतरिक्ष अभिकरण है?

- A) French Space Research Organization (FSRO) / फ्रेंच स्पेस रीसर्च ऑर्गेनाइजेशन (FSRO)
- B) National Centre for Space Studies (CNES) / नेशनल सेंटर फॉर स्पेस स्टडीज़ (CNES)
- C) National Space Research and Administration of France (NSRAF) / नेशनल स्पेस रीसर्च एंड एडमिनिस्ट्रेशन ऑफ़ फ्रांस (NSRAF)
- D) French Space Program and Research (SPRF) / फ्रेंच स्पेस प्रोग्राम एंड रीसर्च (SPRF)

89) Who has been selected for the 23rd Rajiv Gandhi National Sadbhavana Award 2016? / किसे 23 वें राजीव गांधी राष्ट्रीय सद्भावना पुरस्कार 2016 के लिए चयनित किया गया है?

- A) Shubha Mudgal / शुभा मुद्गल
- B) Lata Mangeshkar / लता मंगेशकर
- C) K. S. Chithra / K. S. चित्रा
- D) Shreya Ghoshal / श्रेया घोषाल

90) What is Article 21 of the Indian Constitution? / भारतीय संविधान के अनुच्छेद 21 में क्या है?

- A) Protection in respect of conviction for offences / अपराधों के लिए दोषसिद्धि के संबंध में संरक्षण
- B) Right to education / शिक्षा का अधिकार
- C) Protection of certain rights regarding freedom of speech, etc. / अभिव्यक्ति की स्वतंत्रता, आदि के बारे में कुछ अधिकारों का संरक्षण
- D) Protection of life and personal liberty / जीवन और व्यक्तिगत स्वतंत्रता का संरक्षण

91) Making of mortar using cement, sand and water is an example of / सीमेंट, रेत और पानी का उपयोग से मसाला (मॉर्टर) बनाना, इनमें से किसका उदाहरण है?

- A) Biological change / जैविक परिवर्तन
- B) Physical change / भौतिक परिवर्तन
- C) Chemical change / रासायनिक परिवर्तन
- D) Weather change / मौसम का परिवर्तन

92) Which house of the Parliament is known as the Permanent house? / संसद का कौन सा सदन स्थायी सदन कहा जाता है?

- A) Rajya Sabha / राज्य सभा
- B) Lok Sabha / लोक सभा
- C) Vidhan Parishad / विधान परिषद
- D) Vidhan Sabha / विधान सभा

93) Which of the following are the two broadly classified classes of research? / निम्न में से कौन से अनुसंधान के मोटे तौर पर वर्गीकृत दो वर्ग हैं?

- A) Hypothetical Research and Objective Research / काल्पनिक अनुसंधान और वस्तुपरक अनुसंधान
- B) Generalized Research and Strategic Research / सामान्यीकृत अनुसंधान और सामरिक अनुसंधान
- C) Abstract Research and Conceptive Research / अमूर्त अनुसंधान और वैचारिक अनुसंधान
- D) Fundamental Research and Applied Research / मूलभूत अनुसंधान और व्यावहारिक अनुसंधान

94) With respect to the jagir system, the jagirs assigned in lieu of salary were known as / जागीर व्यवस्था के संबंध में, वेतन के एवज में दिया गया जागीर क्या कहलाता था?

- A) Watan jagirs / वतन जागीर
- B) Inam jagirs / इनाम जागीर
- C) Mashrut jagirs / मशरुत जागीर
- D) Tankhwah jagirs / तनख्वा जागीर

95) Which of the following companies has launched the first India-made electric bus? / निम्नांकित में से किस कंपनी ने पहली भारत निर्मित इलेक्ट्रिक बस का आरंभ किया है?

- A) Mahindra & Mahindra / महिंद्रा एंड महिंद्रा
- B) Eicher Motors / आइकर मोटर्स
- C) Hindustan Motors / हिंदुस्तान मोटर्स
- D) Ashok Leyland Limited / अशोक लेलैंड लिमिटेड

96) What is the age of retirement of Judges from the Supreme Court of India, as of April 2016? / अप्रैल, 2016 के अनुसार भारत के सर्वोच्च न्यायालय के न्यायाधीशों की सेवानिवृत्ति की आयु क्या है?

- A) 58 years / 58 वर्ष
- B) 60 years / 60 वर्ष
- C) 65 years / 65 वर्ष
- D) 62 years / 62 वर्ष

97) Which article of Indian Constitution speaks about 'Equality of opportunity in matters of public employment'? / भारतीय संविधान का कौन सा अनुच्छेद 'लोक नियोजन के विषय में अवसर की समानता' के बारे में बताता है?

- A) 15
- B) 18
- C) 16
- D) 17

98) In which state of India is the Bhilai steel plant located? / भारत के किस राज्य में भिलाई इस्पात संयंत्र स्थित है?

- A) Chattisgarh / छत्तीसगढ़
- B) Karnataka / कर्नाटक
- C) Bihar / बिहार
- D) Rajasthan / राजस्थान

99) Which of the following states of India has the highest number of Tiger Population in India as on July 2016? / जुलाई 2016 की स्थिति के अनुसार भारत के किस राज्य में बाघों की संख्या सबसे उच्च है?

- A) Maharashtra / महाराष्ट्र
- B) Kerala / केरल
- C) Telangana / तेलंगाना
- D) Karnataka / कर्नाटक

100) Who appoints the judges of the Supreme Court of India? / भारत के सर्वोच्च न्यायालय के न्यायाधीशों की नियुक्ति कौन करता है?

- A) Vice President / उप-राष्ट्रपति
- B) Governor / राज्यपाल
- C) Prime Minister / प्रधानमंत्री
- D) President / राष्ट्रपति

Section 3 - Part C

No. of Questions: 50

101) Choose the Noun in the given sentence:

He could barely conceal his disappointment.

- A) barely
- B) conceal
- C) his
- D) disappointment

102) Fill in the blanks with the correct option:

Usually _____ child would fall asleep during _____ second song but that evening it took three.

- A) the, the
- B) a, an
- C) an, the
- D) the, an

103) Fill in the blanks with correct option:

The property was divided equally _____ the two sisters.

- A) for
- B) among
- C) with
- D) between

104) Choose the correct meaning of the phrase /idiom underlined in the sentence:

Don't be taken in by his polished manners, he is a wolf in sheep's clothing.

- A) an enemy
- B) a gentle person
- C) in disguise
- D) a polite person

105) Fill in the blanks with the correct option.

I _____ hypocrisy

- A) hating
- B) hate
- C) hates
- D) hated

106) Fill in the blanks with the correct form of verb:

It _____ him to think that was all his work.

- A) gratify
- B) gratifying
- C) gratified
- D) is gratified

107) Identify the correct synonym:

Benign

- A) Kind
- B) Sad
- C) Cruel
- D) Happy

108) Identify the error in the following sentence. The error, if any, will be in one part of the sentence, the number of that part is your answer. If there is no error, mark your answer as (D). (A)The apartments are very small, / (B)which is fine / (C) for one persons. / (D) No Error.

- A) A
- B) D
- C) C
- D) B

109) Chose the word that is spelt correctly and fill the blank:

The _____ of Shimla is cool and pleasant.

- A) weather
 - B) weader
 - C) wether
 - D) whether
-

110) Identify the correct synonym:

Vain

- A) Proud
 - B) Serious
 - C) Valid
 - D) Humble
-

111) Identify the error in the following sentence. The error, if any, will be in one part of the sentence, the number of that part is your answer. If there is no error, mark your answer as (D). (A)There is / (B) an full moon / (C) tonight. / (D) No Error.

- A) A
 - B) D
 - C) C
 - D) B
-

112) Choose the correct meaning of the phrase /idiom underlined in the sentence:

He is head and shoulder above his colleagues.

- A) taller
- B) stronger
- C) better
- D) popular

113) Fill in the blanks with the correct option:

Shreya ghoshal _____ melodiously.

- A) been singing
- B) singing
- C) were singing
- D) sings

114) Identify the error in the following sentence. The error, if any, will be in one part of the sentence, the number of that part is your answer. If there is no error, mark your answer as (D). (A)They made a / (B) desperate pleas / (C) for help. / (D) No Error.

- A) C
- B) D
- C) A
- D) B

115) Choose the correct option to complete the sentence:

The volunteers rendered all the assistance that they _____ could.

- A) suitably
- B) never
- C) possibly
- D) ever

116) Choose a suitable option to complete the sentence:

One who is humble and decorous in manner and conduct is _____.

- A) irritating
- B) flashy
- C) modest
- D) proud

117) Change the given sentence into a complex sentence:

He is wealthy, but unhappy.

- A) Although he is wealthy, he is unhappy.
- B) In spite of having great wealth, he is unhappy.
- C) In spite of his wealth, he is unhappy.
- D) He is a wealthy man, yet he is unhappy.

118) Fill in the blanks with the correct option.

Lord Vishnu _____ Jalandharasura for his deeds.

- A) punished
- B) punishing
- C) punisher
- D) punish

119) Fill in the blanks with the correct option:

I had _____ feeling I was discovering _____ individuals in yesterday's flock of sheep, their tales of woe all fell into _____ sea of slogans.

- A) a, the, the
- B) a, an, the.
- C) an, a, the
- D) the, a, an

120) Fill in the blanks with the correct option:

The mistress of _____ house was in _____ living room.

- A) the, the
- B) the, a
- C) a, an
- D) a, the

121) Fill in the blanks with the correct option:

Rachel Carson started _____ ecological revolution unknowingly.

- A) an
- B) the
- C) a
- D) No article required.

122) Identify the antonym of the underlined word:

My mother was absent minded, as she was worried about my sister's health.

- A) on the spot
- B) not present
- C) attentive
- D) preoccupied

123) Choose the correct meaning of the phrase / idiom underlined in the sentence:

All his kith and kin deserted him in the time of need.

- A) blood relations
- B) friends
- C) colleagues
- D) class mates

124) Choose the Noun in the given sentence:

A lighthouse marks the entrance to the harbour.

- A) marks
- B) to
- C) a
- D) lighthouse

125) Identify the antonym of the underlined word:

The train arrived on time.

- A) entered
- B) departed
- C) came
- D) approached

126) Fill in the blanks with the correct option:

She was ____ ignorant woman

- A) a
- B) No article required
- C) an
- D) the

127) Fill in the blanks with correct option:

Mother Teresa laboured ____ the good of humanity.

- A) to
- B) for
- C) of
- D) at

128) Fill in the blanks with the correct form of verb:

She _____ certain to win an Oscar.

- A) have looked
- B) looks
- C) look
- D) will be looking

129) Fill in the blanks with the correct form of verb:

Let's have a look at the TV guide and _____ what's on.

- A) see
- B) seeing
- C) seen
- D) saw

130) Fill in the blanks with the correct form of verb:

Legislation _____ approval by both houses of parliament.

- A) was requiring
- B) require
- C) requires
- D) requiring

131) Identify the antonym of the underlined word:

Most decent people abhor corruption in government.

- A) encourage
- B) detest
- C) loathe
- D) approve

132) Choose the correct meaning of the phrase/idiom underlined in the sentence:

Ritesh bore away many prizes at the school sports.

- A) to win
- B) to distribute
- C) to carry
- D) to give

133) Chose the word that is spelt correctly and fill the blank:

_____ makes a man perfect.

- A) practice
- B) practiss
- C) practise
- D) practics

134) Choose the Noun in the given sentence:

The novelist draws heavily on her personal experiences.

- A) heavily
- B) her
- C) novelist
- D) on

135) Choose the Pronoun in the given sentence:

I wonder who that letter was from.

- A) wonder
- B) was
- C) who
- D) from

136) Fill in the blanks with the correct form of verb:

The debate _____ in front of a live audience.

- A) televises
- B) televised
- C) was televised
- D) have been televised

137) Choose the word that is spelt correctly and fill the blank:

He will _____ many examples to prove his point.

- A) cite
- B) site
- C) scite
- D) sight

138) Fill in the blanks with correct option:

My brother loses his temper _____ the drop of a hat.

- A) at
- B) for
- C) on
- D) in

139) Identify the error in the following sentence. The error, if any, will be in one part of the sentence, the number of that part is your answer. If there is no error, mark your answer as (D). (A)He plans to / (B) defends his /(C)Olympic crown. / (D) No Error.

- A) C
- B) A
- C) D
- D) B

140) Choose the correct option to complete the sentence:

what she said was an _____ lie.

- A) by and by
- B) in and out
- C) out and out
- D) out and in

141) Fill in the blanks with the correct option:

They _____ to run away from the situation.

- A) choses
- B) chose
- C) chosen
- D) choose

142) Identify the Simple sentence from the following options:

- A) Robin is absent because he is ill.
- B) The children are playing in the garden.
- C) Tell me where you want to go.
- D) The sun is shining, and the birds are singing.

143) Fill in the blanks with correct option:

The cat lay _____ the table.

- A) for
- B) at
- C) under
- D) in

144) Choose the word that is spelt correctly and fill the blank:

The appetizers served at the party were so _____, that the people forgot about the main course.

- A) scrumtious
- B) scrumptious
- C) scrumpious
- D) scrumptus

145) Identify the antonym of the underlined word:

The overloaded boat will sink unless some boxes are off loaded.

- A) sail
- B) drown
- C) submerge
- D) float

146) Change the given sentence into a compound sentence:

Besides teaching us the game, he encouraged us.

- A) While teaching us the game, he encouraged us.
- B) Along with teaching us the game, he encouraged us.
- C) Apart from teaching us the game, he encouraged us.
- D) He taught us the game and he encouraged us.

147) Choose the correct option to complete the sentence:

Here are _____ of our suggestions.

- A) much
- B) such
- C) some
- D) any

148) Identify the correct synonym:

Agony

- A) Happiness
- B) Comfort
- C) Pleasure
- D) Pain

149) Identify the correct synonym: Toil

- A) Amusement
- B) Indolence
- C) Drudgery
- D) Luxury

150) Change the given sentence into a complex sentence:

He worked hard to complete the task on time.

- A) He worked hard so that he could complete the task on time.
- B) He completed the task on time by working hard.
- C) He worked hard and he completed the task on time.
- D) He worked hard, so he completed the task on time.

Section 4 - Part D

No. of Questions: 50

151) शुद्ध वर्तनी वाला शब्द चुनिए?

- A) स्थई
- B) धराशाई
- C) उत्तरदाई
- D) लड़ाई

152) वाक्यांश का उपयुक्त शब्दों से मिलान कीजिए -

1- जगत के नाथ	a. शैव
2- शिव का भक्त	b. जगन्नाथ
3- अवज्ञा करने वाला	c. सर्वज्ञ
4- सब कुछ जानने वाला	d. अवज्ञ

- A) 1-a, 2-b, 3-c, 4-d
- B) 1-b, 2-a, 3-d, 4-c
- C) 1-c, 2-a, 3-d, 4-b
- D) 1-d, 2-c, 3-a, 4-b

153) "उर्विका ने दर्जी से कपड़े मिलवाए।" वाक्य में क्रिया का कौन-सा भेद है ?

- A) प्रेरणार्थक
- B) सामान्य
- C) नामधातु
- D) संयुक्त

154) 'कनक धतूरे सों कहत, गहनों गढ़त न जात' लोकोक्ति हेतु सही अर्थ का चयन कीजिए -

- A) सभी को एक-दूसरे की सहायता लेनी पड़ती है।
- B) नाम के आकर्षक होने से काम नहीं चलता।
- C) झूठी शान जताना।
- D) वेईशानी बार-बार नहीं फलती।

155) "का, की, के, रा, री, रे" का कारक क्या है?

- A) अधिकरण
- B) सम्बन्ध
- C) सम्बोधन
- D) सम्प्रदान

156) "यद्यपि वह मेहनती है, तब भी सफलता प्राप्त नहीं करता।" वाक्य का शुद्ध रूप होगा -

- A) मेहनती होने के बाद भी उसे सफलता नहीं मिलती।
- B) वह मेहनती है, तब भी सफलता प्राप्त नहीं करता।
- C) यद्यपि वह मेहनती है, तथापि वह सफलता प्राप्त नहीं करता।
- D) वह मेहनती है किंतु सफलता प्राप्त नहीं करता।

157) 'राष्ट्रकवि की उपाधि को दी गई थी।' उचित कवि का नाम लिखकर वाक्य पूरा कीजिए -

- A) महादेवी वर्मा
- B) अयोध्यासिंह उपाध्याय 'हरिऔध'
- C) सुमित्रानंदन पंत
- D) मैथिलीशरण गुप्त

158) अशुद्ध रूप चुनिए?

- A) जंगल
- B) नंद
- C) छटांक
- D) जाऊंगा

159) कर्तृवाच्य में कौन प्रधान होता है -

- A) भाव
- B) लिंग
- C) कर्म
- D) क्रिया को करने वाला

160) 'पहला मौलिक उपन्यास श्रीनिवासदास काथा।' उचित उपन्यास का नाम लिखकर वाक्य पूरा कीजिए

- A) परीश्रागुरू
- B) नरेन्द्र मोहिनी
- C) धूर्त रसिकलाल
- D) नूतन ब्रह्मचारी

161) "विधीपूर्वक" का शुद्ध रूप इनमें से कौन सा है?

- A) विधिपूर्वक
- B) विदिपूर्वक
- C) विधीपूर्वक
- D) विधिपूर्वक

162) लोकोक्तियों को उनके सही अर्थ से मिलाइए –

1-कवहु निरामिष होय न कागा	a. बनावटी परहेज
2-गुल खाए, गुलगुलों से परहेज	b. सभी लोगों के विचार भिन्न होते हैं।
3-जंगल में मोर नाचा, किसने देखा	c. दुष्ट अपनी कुटिलता नहीं छोड़ता।
4-जितने नर उतनी बुद्धि	d. योग्यता और वैभव का प्रदर्शन ऐसे स्थान पर करना जहाँ उसकी कद्र न हो।

- A) 1-c,2-b,3-a,4-d
- B) 1-a,2-b,3-c,4-d
- C) 1-c,2-a,3-d,4-b
- D) 1-d,2-c,3-b,4-a

163) "अधिकरण" कारक की विभक्ति इनमें से कौन सी है?

- A) से
- B) के लिए
- C) को
- D) में,पर

164) शुद्ध शब्द कौन सा है?

- A) नरीक्षण
- B) निरीक्षण
- C) निरीछन
- D) निरिक्षण

165) उचित मुहावरे का प्रयोग कर रिक्त स्थान की पूर्ति कीजिए - 'सुबह से शाम तक काम करते-करते श्याम का----- हो गया।

- A) अंग-अंग ढीला होना
- B) आँख खुलना
- C) आँखों का तारा
- D) अपना उल्लू सीधा

166) "यौवन" का विलोम क्या है?

- A) बुढापा
- B) युवा
- C) विरक्त
- D) व्यापक

167) "साक्षरता" का विलोम शब्द क्या है?

- A) विपक्ष
- B) पंडित
- C) उत्थान
- D) निरक्षरता

168) "राधा पत्र को पढ़ती है।" यह किस कारक की विभक्ति है?

- A) कर्म
- B) कर्ता
- C) अपादान
- D) करण

169) हिन्दी वर्तनी शब्द का अंग्रेजी रूप इनमें से कौन सा है?

- A) लैन्गुएज
- B) वर्ड
- C) स्पेलिंग
- D) मेटेन्स

170) 'शुभ की कामना करने वाला' वाक्यांश के लिए एक शब्द होगा -

- A) शुभेच्छु
- B) शुभकामना
- C) शुभीच्छा
- D) शुभाशीष

171) द्वार का अर्थ "पत्नी" होता है तो "द्वार" का अर्थ क्या होगा?

- A) दरवाजा
- B) निकट
- C) छाछ
- D) तरह

172) प्रमुख-शब्द का पर्यायवाची शब्द लिखिए

- A) वर
- B) मान
- C) प्रवर
- D) मुख्य

173) मुहावरों को उनके उचित अर्थ से मिलाइए –

1. अपनी खिचड़ी अलग पकाना	a. विनाश करना
2. ईंट से ईंट बजाना	b. एक वस्तु के अनेक चाहने वाले
3. कान पर जूँ न रेंगना	c. सबसे अलग रहना
4. एक अनार सौ वीमार	d. जरा भी ध्यान न देना

A) 1-c,2-a,3-d,4-b

B) 1-b,2-d,3-a,4-c

C) 1-d,2-c,3-b,4-a

D) 1-a,2-b,3-c,4-d

174) शुद्ध वर्तनी वाला शब्द कौन सा है?

A) धुँआ

B) वधु

C) तूफान

D) दुसरा

175) पर्चा-शब्द का पर्यायवाची शब्द लिखिए

A) समय

B) पन्ना

C) अध्याय

D) कागज

176) 'सभी दिशाओं पर विजय' वाक्यांश के लिए एक शब्द होगा –

A) सर्वशक्तिशाली

B) सर्वव्यापक

C) सर्वज्ञानी

D) दिग्विजय

177) 'दूसरों का बुरा चाहने वाला' वाक्यांश के लिए उचित एक शब्द होगा –

- A) दयालु
- B) कठोर
- C) कुटिल
- D) निर्दयी

178) 'मेरा ध्यान मेरी माँ की ओर था।' वाक्य में कौन-सा शब्द किस अशुद्धि को व्यक्त करता है ?

- A) मेरी - सर्वनाम
- B) ध्यान - सर्वनाम
- C) माँ - संज्ञा
- D) मेरा - -संज्ञा

179) "बच्चों लिए पुस्तक लाओ" इस वाक्य को सही विकल्प की सहायता से पूरा करें?

- A) पाम
- B) के
- C) में
- D) बाद

180) 'क्या राधिका विद्यालय जाएगी?' को कर्मवाच्य में बदलने पर बना वाक्य होगा –

- A) क्या राधिका के द्वारा विद्यालय जाया जाएगा ?
- B) क्या राधिका से विद्यालय नहीं जाया जाएगा ?
- C) राधिका विद्यालय जाएगी ।
- D) क्या राधिका विद्यालय गई ?

181) प्रभास-शब्द का पर्यायवाची शब्द लिखिए

- A) विश्वास
- B) आश्वास
- C) दीप्ति
- D) आभास

182) 'न नौ मन तेल होगा न राधा नाचेगी' लोकोक्ति का प्रयोग किस अर्थ में होता है –

- A) संदेह करना
- B) न तो शर्त पूरी होगी न काम होगा
- C) व्यर्थ टाँग अड़ाना
- D) दूसरों के दोष निकालना

183) भाववाच्य प्रधान वाक्य में लिंग, पुरुष और वचन किस प्रकार के होते हैं –

- A) एकवचन, स्त्रीलिंग, प्रथम पुरुष
- B) बहुवचन, स्त्रीलिंग, उत्तम पुरुष
- C) बहुवचन, पुल्लिंग, अन्य पुरुष
- D) एकवचन, पुल्लिंग, अन्य पुरुष

184) अशुद्ध वर्तनी वाला शब्द कौन सा है?

- A) अधोगति
- B) निस्पक्ष
- C) अतएव
- D) निष्फल

185) 'मिसेज चौधरी कार्यालय जाती हैं' वाक्य में कौन-सा वाच्य है –

- A) भाववाच्य
- B) कर्मवाच्य
- C) कृतवाच्य
- D) कर्तृवाच्य

186) दही वड़ी अच्छा है।

- A) लाली
- B) सुंदर
- C) पानी
- D) अच्छी

187) वाच्य का शाब्दिक अर्थ क्या है ?

- A) क्रिया
- B) लिंग
- C) वचन
- D) बोलने का विषय

188) कंकाल का अर्थ "हड्डियों का ढाँचा" है तो "कंगाल" का अर्थ क्या होगा?

- A) भिखमंगा
- B) सरल
- C) पतला
- D) गूदड़

189) अशुद्ध शब्द को शुद्ध शब्दों में से अलग कीजिए?

- A) परंतु
- B) परेम
- C) प्रणाम
- D) परिणाम

190) मुहावरे किस अर्थ को व्यक्त करते हैं ?

- A) शाब्दिक
- B) रूढ़
- C) लाक्षणिक
- D) प्रचलित

191) "करण और अपादान" कारक दोनों के लिए कौन सी विभक्ति लगती है?

- A) की
- B) से
- C) को
- D) का

192) कुंजर -शब्द का पर्यायवाची शब्द लिखिए

- A) हाथी
- B) बैल
- C) गाय
- D) बैसा

193) सहायक क्रिया किसे कहते हैं ?

- A) मुख्य क्रिया की पूर्णता में सहयोगी क्रिया
- B) प्रेरणादायक क्रिया
- C) दो या दो से अधिक क्रियाओं से मिलकर बनी क्रिया
- D) नाम पर आधारित क्रिया

194) 'मोहनी' शब्द में से मूल शब्द अलग करें।

- A) मोह
- B) ई
- C) नी
- D) हनी

195) कपड़ा-शब्द का पर्यायवाची शब्द लिखिए

- A) कपड़
- B) टुकड़ा
- C) वस्त्र
- D) दुप्पटा

196) "रुचि" का विलोम क्या है?

- A) सुरुचि
- B) अरुची
- C) मुक्ति
- D) अचल

197) इनमें से विलोम शब्द की सही जोड़ी चुनिए?

- A) तीव्र-मंद
- B) जटिल-क्लिष्ट
- C) जीवित-जीना
- D) जागरण-उठना

198) दादी जी ने जन्मदिन पर मुझे.....दिया। हिंदी का उचित शब्द लिखकर वाक्य पूरा करें –

- A) बाड़ीगाई
- B) तोहफा
- C) रेल
- D) उपहार

199) 'ऑल इंडिया रेडियो' की स्थापनामें हुई।

- A) 1936
- B) 1927
- C) 1947
- D) 1930

200) प्रत्यय-शब्द का पर्यायवाची शब्द लिखिए

- A) त्याग
- B) प्रत्ययशास्त्र
- C) जोड़
- D) तन्मय

Question Paper No:

31489_5

Answer Key

1. B	24. D	47. C
2. C	25. A	48. D
3. B	26. B	49. D
4. C	27. D	50. B
5. B	28. C	51. D
6. D	29. B	52. A
7. B	30. B	53. C
8. D	31. D	54. A
9. A	32. B	55. B
10. B	33. A	56. A
11. A	34. C	57. D
12. D	35. A	58. B
13. B	36. A	59. B
14. A	37. C	60. D
15. B	38. D	61. A
16. C	39. A	62. B
17. A	40. A	63. C
18. B	41. B	64. A
19. C	42. C	65. A
20. B	43. A	66. A
21. C	44. C	67. D
22. A	45. D	68. B
23. B	46. A	69. D

70. A	97. C	124. D
71. D	98. A	125. B
72. B	99. D	126. C
73. B	100. D	127. B
74. B	101. D	128. B
75. C	102. A	129. A
76. B	103. D	130. C
77. C	104. A	131. D
78. B	105. B	132. A
79. C	106. C	133. A
80. C	107. A	134. C
81. A	108. C	135. C
82. D	109. A	136. C
83. A	110. A	137. A
84. B	111. D	138. A
85. B	112. C	139. D
86. D	113. D	140. C
87. C	114. D	141. B
88. B	115. C	142. B
89. A	116. C	143. C
90. D	117. A	144. B
91. C	118. A	145. D
92. A	119. A	146. D
93. D	120. A	147. C
94. D	121. A	148. D
95. D	122. C	149. C
96. C	123. A	150. A

151. D	168. A	185. D
152. B	169. C	186. D
153. A	170. A	187. D
154. B	171. A	188. A
155. B	172. D	189. B
156. C	173. A	190. C
157. D	174. C	191. B
158. C	175. D	192. A
159. D	176. D	193. A
160. A	177. C	194. A
161. D	178. A	195. C
162. C	179. B	196. B
163. D	180. A	197. A
164. B	181. C	198. D
165. A	182. B	199. D
166. A	183. D	200. C
167. D	184. B	