

Section 1 - PART A

No. of Questions: 60

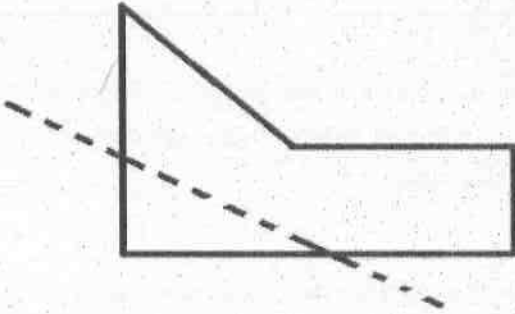
1) A field of dimension 100 m x 100 m needs to be fenced. The cost of fencing is Rs. 25 per meter. The total amount spent on fencing the field is: / 100 मीटर x 100 मीटर आयाम के एक क्षेत्र को घेरा बांधने की आवश्यकता है। घेराबन्दी की लागत प्रति मीटर रु. 25 है। क्षेत्र के घेराबन्दी पर खर्च किया गया कुल राशि है:

- A) Rs. 10000 / रु. 10000
- B) Rs. 8500 / रु. 8500
- C) Rs. 7500 / रु. 7500
- D) Rs. 5000 / रु. 5000

2) Suman's age after 7 years will be twice her age 9 years back. What is the present age of Suman? / सुमन की आयु 7 वर्षों के बाद 9 वर्ष पूर्व अपनी आयु की दोगुनी होगी। सुमन की मौजूदा आयु क्या है?

- A) 23
- B) 25
- C) 19
- D) 20

3) The paper sheet given below is cut along the dotted line. How many corners will the resultant paper sheet on right have? / नीचे दी गई पेपर शीट को बिंदीदार रेखा के साथ काटा गया है। दाईं ओर परिणामी पेपर शीट में कितने कोने होंगे?



- A) 6
- B) 7
- C) 3
- D) 4

4) Select the option that is odd one out among the given four options. / उस विकल्प का चयन करें जो दिए गए चार विकल्पों में से भिन्न है।

- A) Methane / मीथेन
- B) Nitrogen / नाइट्रोजन
- C) Helium / हीलियम
- D) Oxygen / ऑक्सीजन

Following are the conditions for selecting an assistant in Income Tax Department. The candidate must:

- (i) be a graduate in any discipline with atleast 60% marks.
- (ii) have qualified tier-1 exam scoring more than 130 marks and tier-2 exam scoring atleast 250 marks.
- (iii) have secured atleast 60 marks in the interview.
- (iv) be less than 27 years of age as on 1st October, 2016.

In the case of a candidate who satisfies all the conditions:

- (a) If NOT (iii), but more than 55 marks in the interview and has scored more than 92% marks in class X, then be considered for selection in the 2nd merit list.
- (b) If NOT (iv), but is less than 33 years of age and under backward castes reservation, then be considered for selection in the 3rd merit list.

Based on the above information and criteria given in each of the following questions, you have to take decision.

निम्नलिखित आयकर विभाग में एक सहायक के चयन के लिए शर्तें हैं।
उम्मीदवार को:

- (i) कम से कम 60% अंकों के साथ किसी भी विषय में एक ग्रेजुएट होना चाहिए।
- (ii) टियर-1 परीक्षा में 130 से अधिक अंक और टियर-2 परीक्षा में कम से कम 250 अंक स्कोर करके योग्यता प्राप्त किया होना चाहिए।
- (iii) इंटरव्यू में कम से कम 60 अंक हासिल किया होना चाहिए।
- (iv) 1 अक्टूबर, 2016 की तारीख को 27 साल से कम आयु होना चाहिए।

अगर एक उम्मीदवार सभी शर्तों को पूरा करता है:

- (a) सिवाय (iii) के, लेकिन इंटरव्यू में 55 से अधिक अंक और दसवीं कक्षा में 92% से अधिक अंक प्राप्त किया है तो, दूसरे योग्यता क्रम सूची में चयन के लिए विचार किया जाना चाहिए।
- (b) सिवाय (iv) के, लेकिन उम्र 33 साल से कम है और पिछड़ी जाति आरक्षण के अन्दर आता है तो, तीसरे योग्यता क्रम सूची में चयन के लिए विचार किया जाना चाहिए।

उपरोक्त जानकारी और नीचे दिए गए प्रत्येक प्रश्न में दिए गए मापदंडों के आधार पर आपको निर्णय लेना होगा।

5) These cases are given to you as on 1st October, 2016.

Candidate Information : Mrunal Tagore is a graduate in engineering with 75% marks. He qualified tier-1 and tier-2 exam with 154 and 278 marks respectively. He secured 71 marks in the interview. He belongs to backward caste category and hence under reservation. He was born on 12-10-1987. He should be:

/ ये सभी मामले आपको अक्टूबर 1, 2016 की तारीख को दिए गए हैं।

उम्मीदवार की जानकारी: मृणाल टैगोर 75% अंकों के साथ इंजीनियरिंग में ग्रेजुएट है। उसने क्रमशः 154 और 278 अंकों के साथ टियर-1 और टियर-2 परीक्षा में योग्यता प्राप्त किया है। उसने इंटरव्यू में 71 अंक हासिल किए हैं। वह पिछड़ी जाति वर्ग का है और इसलिए आरक्षण के अंतर्गत है। वह 12-10-1987 को पैदा हुआ था। उसे

- A) selected / चयन करना चाहिए
- B) considered for selection in the 2nd merit list / दूसरे योग्यता क्रम सूची में चयन के लिए विचार किया जाना चाहिए
- C) considered for selection in the 3rd merit list / तीसरे योग्यता क्रम सूची में चयन के लिए विचार किया जाना चाहिए
- D) rejected / अस्वीकृत करना चाहिए

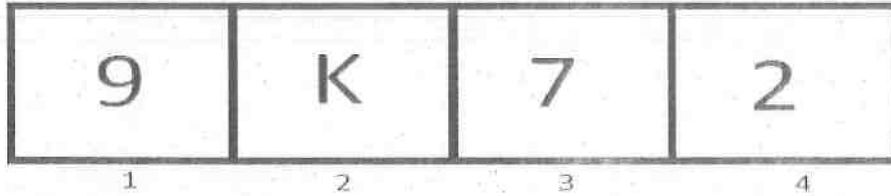
6) What is the difference between the number of edges and number of corners in a cube? / किसी घन में किनारों और कोनों की संख्या के बीच क्या अंतर होता है?

- A) 0
- B) 4
- C) 2
- D) 6

7) A set is given, (B, D, F, H). The sets given in options are similar to it in a certain way EXCEPT one. Find the set that is different. / एक सेट दिया गया है (B, D, F, H)। सेट में दिए गए विकल्पों में से एक को छोड़कर, अन्य एक निश्चित शैली में समान हैं। उस सेट को ज्ञात करें जो अलग है।

- A) (M, O, Q, S)
- B) (J, L, M, O)
- C) (P, R, T, V)
- D) (C, E, G, I)

8) Among the given group of 4 images, which set of images can be classified as a group? / दिए गए 4 चित्रों में से, चित्रों के किस समूह को एक समूह में वर्गीकृत किया जा सकता है?



- A) (1, 2, 3)
 B) (2, 3, 4)
 C) (1, 3, 4)
 D) (1, 2, 4)

9) Which term of the given series would be the first one to have three different digits: 11, 20, 29, 38,? / दी गई श्रृंखला में तीन भिन्न अंकीय पहली संख्या कौन सी होगी: 11, 20, 29, 38,?

- A) 11th/11वीं
 B) 14th/14वीं
 C) 12th/12वीं
 D) 13th/13वीं

Following are the conditions for selecting a Programmer in Firm.

The candidate must :

- (i) be a graduate in Bachelor of Computers Applications (BCA) with at least 70% marks.
- (ii) have completed Master in Computer Application (MCA) with 75% marks
- (iii) have a post qualification work experience of 1 year.
- (iv) be less than 30 years of age.

In the case of a candidate who satisfies all the conditions :

- (A) Except (i) above, but has scored more than 80% in Class XII, the case may be referred to the Vice President.
- (B) Except (ii) above, but has scored more than 80% in Class X , the case may be referred to President.

फर्म में प्रोग्रामर के चयन के लिए निम्न शर्तें हैं। उम्मीदवार

- (i) 70% अंकों के साथ बैचलर ऑफ कंप्यूटर एप्लीकेशन (BCA) में स्नातक होना चाहिए
- (ii) कम से कम 75% अंकों के साथ मास्टर इन कंप्यूटर एप्लीकेशन (MCA) में स्नातकोत्तर होना चाहिए।
- (iii) उसके पास अर्हता के बाद 1 वर्ष का कार्य अनुभव होना चाहिए।
- (iv) 30 वर्ष से कम आयु का होना चाहिए।

इन सभी शर्तों को पूरा करने वाले उम्मीदवार के मामले में:

- (A) उपरोक्त में से (i) को छोड़कर, उम्मीदवार ने बारहवीं कक्षा में 80% से अधिक अंक प्राप्त किए हैं, मामले को उपराष्ट्रपति के पास भेजा जा सकता है।
 - (B) उपरोक्त में से (ii) को छोड़कर, उम्मीदवार पे दसवीं कक्षा में 80% से अधिक अंक प्राप्त किए हैं, मामले को राष्ट्रपति के पास भेजा जा सकता है।
- उपरोक्त जानकारी और प्रत्येक प्रश्न में दिए मापदंडों के आधार पर, आपको निर्णय लेना है।

Based on the above information and criteria given in each of the following questions, you have to take decision.

10) These cases are given to you as on 31st March, 2016. Raj Mohite is graduate in BCA, secured 65% in graduation and 85% in MCA. He has a post qualification work experience of 8 years. He scored 89% in Class XII board exam. He was born on 8th of November, 1991. He should be:

/ यह मामले 31 मार्च 2016 की स्थिति के अनुसार आपको दिए गए हैं: राज मोहिते BCA में स्नातक है, उसने स्नातक में 65% और MCA में 85% अंक प्राप्त किए हैं। उसके पास अर्हता के बाद 8 वर्ष का कार्य अनुभव है। उसने बारहवीं की बोर्ड परीक्षा में 89% अंक प्राप्त किए हैं। उसका जन्म 8 नवंबर, 1991 को हुआ था। तो उसको:

- A) rejected / अस्वीकृत करना चाहिए
- B) selected / चयनित करना चाहिए
- C) referred to the Vice-President / उपराष्ट्रपति के पास भेजना चाहिए
- D) referred to the President / राष्ट्रपति के पास भेजना चाहिए

11) Which of the following is an appropriate number to replace the question mark (?) in the sequence given below? / निम्न में से कौन, नीचे दिए गए अनुक्रम में प्रश्न चिह्न (?) का स्थान लेने के लिए उचित संख्या है?

89, 77, 54, 25, 15, 10, ?

- A) 8
- B) 7
- C) 6
- D) 5

12) Raman pointing to a photograph says, "The man in the photograph is my nephew's maternal grandfather. I have only one sibling." How is the grandson of the man related to Raman's only daughter? / एक तस्वीर की ओर इशारा करते हुए रमण ने कहा, "तस्वीर में दिखने वाले पुरुष मेरे भतीजे के नाना हैं। मेरा एक ही सगा भाई/बहन है।" उस पुरुष के पोते का रमण की इकलौती बेटी से क्या रिश्ता है?

- A) Son-in-law / दामाद
- B) Cousin / वुआ का बेटा
- C) Nephew / भतीजा
- D) Brother-in-law / साला

13) There are three words given here. The first two words are related in a certain manner. Select the proper word among the given four alternatives which bears the same relationship with the third word as in the manner first and second words are related.

Boy : Husband :: Girl : _____ /

यहाँ तीन शब्द दिए गए हैं। पहले दो शब्द एक निश्चित तरीके से संबंधित हैं। दिए गए चार विकल्पों में से उस उचित शब्द का चयन करें जो तीसरे शब्द के साथ उसी प्रकार से संबंधित हो जिस तरीके से पहला और दूसरा शब्द संबंधित हैं।

लड़का : पति :: लड़की : _____

- A) Woman / नारी
- B) Spouse / जीवनसाथी
- C) Mother / माँ
- D) Wife / पत्नी

14) Find the missing term in the sequence: 8, 4, 27, 9, 64, _____, 125, 25. / श्रृंखला में लापता संख्या ज्ञात करें: 8, 4, 27, 9, 64, _____, 125, 25.

- A) 48
- B) 32
- C) 16
- D) 4

15) There are three words given here. The first two words are related in a certain manner. Select the proper word among the given four alternatives which bears the same relationship with the third word as in the manner first and second words are related.

Mountain : Lithosphere :: Ozone Layer : _____ /

यहाँ तीन शब्द दिए गए हैं। पहले दो शब्द एक निश्चित तरीके से संबंधित हैं। दिए गए चार विकल्पों में से उस उचित शब्द का चयन करें जो तीसरे शब्द के साथ उसी प्रकार से संबंधित हो जिस तरीके से पहला और दूसरा शब्द संबंधित हैं।

पर्वत : लिथोस्फियर :: ओजोन परत : _____

- A) Ionosphere / आयनोस्फियर
- B) Exosphere / एक्सोस्फियर
- C) Troposphere / ट्रोपोस्फियर
- D) Stratosphere / स्ट्रेटोस्फियर

16) In a certain code, if the word "EDUCATION" is represented by "DETDZUHPM", then how will the word "JOURNALIST" represented in the same language? / एक निश्चित कूट में यदि शब्द "EDUCATION" को "DETDZUHPM" द्वारा निरूपित किया जाता है, तो उसी भाषा में शब्द "JOURNALIST" को कैसे निरूपित किया जाएगा?

- A) IPTSMKBJRU
- B) IPTSMBJKRU
- C) IPTSMBKRJU
- D) IPTSMBKJRU

17) If $M \div N$ means M is the son of N

If $M * N$ means M is the mother of N

If $M + N$ means M is the father of N

If $M \times N$ means M is the sister of N

If $M \$ N$ means M is the wife of N

What should come in the place of the question mark (?) to establish that Q is the brother of R in the expression

$Q \div X * Y (?) R * Z$

/ यदि $M \div N$ का अर्थ M, N का बेटा है,

यदि $M * N$ का अर्थ M, N की माँ है,

यदि $M + N$ का अर्थ M N का पिता है,

यदि $M \times N$ का अर्थ M, N की बहन है,

यदि $M \$ N$ का अर्थ M, N की पत्नी है,

तो यह स्थापित करने के लिए कि व्यंजन में Q, R का भाई है तो प्रश्नवाचक चिह्न (?) के स्थान पर क्या आना चाहिए?

$Q \div X * Y (?) R * Z$

- A) \$
- B) x
- C) +
- D) ÷

18) In a certain code, DJSF is written as ORXH, then how is FGKT written in the same code? / एक निश्चित कूट में DJSF को ORXH के रूप में लिखा जाता है, तो उसी कूट में FGKT को कैसे लिखा जाएगा?

- A) QYRI
- B) QOPV
- C) QHKK
- D) QSQW

19) If the word "COMTEMPLATION" is coded as "5148396028714", then "POTENTIAL" can be coded as / यदि शब्द "COMTEMPLATION" को "5148396028714" के रूप में कूट बद्ध किया जाता है, तो "POTENTIAL" को किस के रूप में कूट बद्ध किया जा सकता है?

- A) 618433720
- B) 618343270
- C) 618343620
- D) 618348720

Following are the conditions for selecting a Cartoon Animator. The candidate must:

- (i) have completed an Animation course.
- (ii) be a graduate in any discipline with 65% marks.
- (iii) have a post qualification work experience of atleast 2 years in any multimedia company.
- (iv) be less than 30 years of age.

In the case of a candidate who satisfies all the conditions:

- (A) If NOT (ii) above, but has scored more than 70% in Class X, the case may be referred to the General Manager.
- (B) If NOT (iii) above, but has a post-graduation degree, the case may be referred to Chief Executive Officer (CEO).
- (C) If NOT (iv) above, but has a work experience of atleast 4 years in any multimedia company, the case may be referred to the Managing Director.

Based on the above information and criteria given in each of the following questions, you have to take decision.

एक कार्टून एनिमेटर के चयन के लिए शर्तें निम्नलिखित हैं। उम्मीदवार को:

- (i) एनीमेशन कोर्स पूरा किया होना चाहिए।
- (ii) 65% अंकों के साथ किसी भी विषय में ग्रेजुएट होना चाहिए।
- (iii) इग्नॉरिफिकेशन के बाद किसी भी मल्टिमीडिया कंपनी में कम से कम 2 साल का कार्यानुभव होना चाहिए।
- (iv) 30 साल से कम उम्र का होना चाहिए।

अगर एक उम्मीदवार सभी शर्तों को पूरा करता है:

- (A) सिवाय उपरोक्त (ii) के, लेकिन दसवीं कक्षा में 70% से अधिक प्राप्त किया है तो, मामला महाप्रबन्धक को भेजा जाए।
- (B) सिवाय उपरोक्त (iii) के, लेकिन एक पोस्ट-ग्रेजुएशन डिग्री है तो, मामला मुख्य कार्यपालन अधिकारी (CEO) को भेजा जाए।
- (C) सिवाय उपरोक्त (iv) के, लेकिन किसी भी मल्टिमीडिया कंपनी में कम से कम 4 साल का कार्यानुभव है तो, मामला प्रबंध संचालक को भेजा जाए।

उपरोक्त जानकारी और नीचे दिए गए प्रत्येक प्रश्न में दिए गए मापदंडों के आधार पर आपको निर्णय लेना होगा।

20) These cases are given to you as on 10th November, 2016.

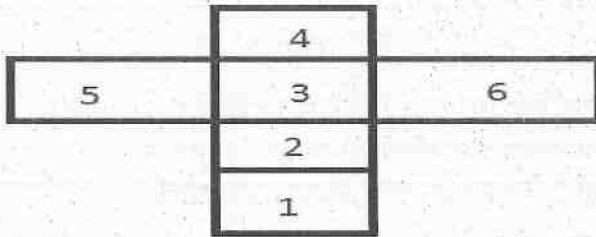
Candidate's Information : Aditi Roy, a graduate in Commerce, has secured 57% in graduation. She has completed a diploma in animation technology and has a post qualification work experience of 5 years in a multimedia company. She scored 80% in class X. She was born on 20th of November, 1988. She should be:

/ ये सभी मामले आपको नवंबर 10, 2016 की तारीख को दिए गए हैं।

उम्मीदवार की जानकारी: अदिति रॉय ने जो वाणिज्य में ग्रेजुएट है, ग्रेजुएशन में 57% हासिल किया है। उसने एनीमेशन प्रौद्योगिकी के क्षेत्र में डिप्लोमा पूरा किया है और उसे क्वालिफिकेशन के बाद एक मल्टीमीडिया कंपनी में 5 साल का कार्यानुभव है। उसने दसवीं कक्षा में 80% प्राप्त किया है। वह नवंबर 20, 1988 को पैदा हुई थी। उसे

- A) referred to the CEO / CEO के पास भेजा जाना चाहिए
- B) referred to the Managing Director / प्रबंध संचालक के पास भेजा जाना चाहिए
- C) Selected / चयन करना चाहिए
- D) referred to the General Manager / महाप्रबन्धक के पास भेजा जाना चाहिए

21) Below is given an opened up dice. What number would come opposite to 4 in this dice? / नीचे एक खुला पासा (डाइस) दिया गया है। इस पासे में 4 के विपरीत कौन सी संख्या होगी?

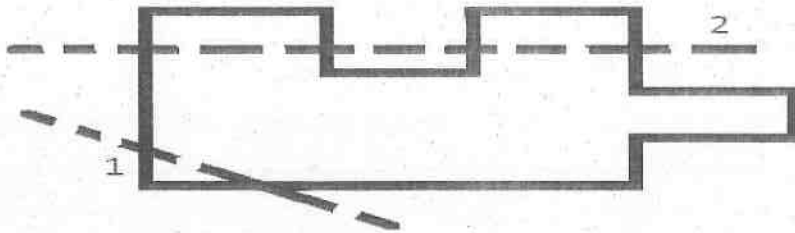


- A) 2
- B) 5
- C) 1
- D) 6

22) In the given sequence, one of the term is not in a proper manner. Select that term. The sequence is (43, 142, 240, 337, 432) / दिए गए क्रम में एक अंक सही क्रम में नहीं है। उस अंक को चुनिए। क्रम है (43, 142, 240, 337, 432)

- A) 432
- B) 337
- C) 240
- D) 142

23) The paper sheet given below is folded along the given dotted line(s) in the sequence as mentioned. First fold is made along the dotted line 1, then along the dotted line 2. How many edges would the shape in the resultant paper sheet have, after the folds? / नीचे दिए गए पेपर शीट को उल्लिखित अनुक्रम में दिए गए बिन्दुओं की रेखा(ओं) के समानांतर मोड़ा जाता है। पहला मोड़ बिन्दुओं की रेखा 1 के समानांतर किया जाता है, फिर बिन्दुओं की रेखा 2 के समानांतर। मोड़ के बाद परिणामी पेपर शीट में कितने किनारे होंगे?



- A) 16
- B) 13
- C) 12
- D) 14

A company decided to recruit Sales Executive trainees. The company laid down the following criteria for selecting the candidates.

- A. should be a graduate securing atleast 70% marks.
- B. should have scored 65% marks in the selection interview.
- C. should know fluent English.
- D. should have scored atleast 75% in the written test.

In the case of a candidate who satisfies all the conditions :

- (i) Except A above but has completed MBA, his/her case may be referred to the Managing Director (MD).
- (ii) Except B above but has a work experience of atleast 2 years after graduation, his/her case may be referred to the the President.

Based on the above information and criteria given in each of the following questions, you have to take decision.

एक कंपनी ने विक्री कार्यकारी प्रशिक्षुओं की भर्ती करने का फैसला किया है। कंपनी ने उम्मीदवारों के चयन के लिए निम्न मानदंड निर्धारित किए हैं।

- A. उम्मीदवार कम से कम 70% अंकों के साथ स्नातक होना चाहिए।
- B. उम्मीदवार ने चयन साक्षात्कार में 65% अंक प्राप्त किए हों।
- C. उम्मीदवार अंग्रेजी में धाराप्रवाह वक्ता होना चाहिए।
- D. उम्मीदवार ने लिखित परीक्षा में कम से कम 75% अंक प्राप्त किए हों।

इन सभी शर्तों को पूरा करने वाले उम्मीदवार के मामले में:

- (i) उपरोक्त में से A को छोड़कर, उम्मीदवार ने MBA किया है, उसके मामले को प्रबंध निदेशक (MD) को भेजा जा सकता है।
- (ii) उपरोक्त में से B को छोड़कर, उम्मीदवार के पास स्नातक स्तर की पढ़ाई के बाद कम से कम 2 वर्ष का कार्य अनुभव है, उसके मामले को राष्ट्रपति को भेजा जा सकता है।

उपरोक्त जानकारी और नीचे प्रत्येक प्रश्न में दिए मानदंडों के आधार पर, आपको निर्णय लेना है।

24) These cases are given to you as on 21st October, 2016. Vinod passed engineering with 70% marks. He joined XYZ firm in 10-12-2010 as a junior sales executive and has been working there till the selection date. He scored 60% and 78% marks in the interview and the written test respectively. His English is very fluent. He should be:

/ ये मामले आपको 21 अक्टूबर, 2016 की स्थिति के अनुसार दिए गए हैं: विनोद ने 70% अंकों के साथ इंजीनियरिंग पास की है। 10-12-2010 में उसने कनिष्ठ बिक्री कार्यकारी के रूप में XYZ फर्म में काम करना शुरू किया और चयन की तारीख तक वहीं काम कर रहा है। उसने साक्षात्कार एवं लिखित परीक्षा में क्रमशः 60% और 78% अंक प्राप्त किए हैं। वह अंग्रेजी में बहुत ही अच्छा धाराप्रवाह वक्ता है। तो उसको:

- A) rejected / अस्वीकृत करना चाहिए
- B) referred to the President / राष्ट्रपति के पास भेजना चाहिए
- C) selected / चयनित करना चाहिए
- D) referred to the Managing director / प्रबंधक निदेशक के पास भेजना चाहिए

25) Three out of the given four items are similar. Find the odd one. / दिए गए चार आयटमों में से तीन एक जैसे हैं। भिन्न आयटम की पहचान करें

- A) HIG24
- B) ABC6
- C) ZYX38
- D) PAC20

26) Find the missing term in the sequence: 101, 203, 305, _____, 509. / क्रम में लापता संख्या ज्ञात करें: 101, 203, 305, _____, 509.

- A) 505
- B) 406
- C) 407
- D) 506

27) If "World is mine" is written as 213, "round the world" is 157 and "circle is round" is written as 376, then what is code for "world is round"? / यदि "World is mine" को 213 के रूप में लिखा जाता है, "round the world" को 157 के रूप में और "circle is round" को 376 के रूप में लिखा जाता है, तो "world is round" का कूट क्या है?

- A) 126
- B) 153
- C) 673
- D) 137

28) Three of the four following expressions belong to the same group or class in a certain manner. Find the odd one out. / निम्नलिखित चार एक्सप्रेशन में से तीन एक निश्चित तरीके से एक ही समूह या वर्ग से संबंधित हैं। विषम का ज्ञात करें।

- A) Cellphone : Battery / सेलफोन : बैटरी
- B) Sofa : Foam / सोफा : फोम
- C) Money : Wallet / पैसा : बटुआ
- D) Tank : Water / टंकी : पानी

29) Mr. Bajaj, Mr. Desai, Mr. Khan, Mr. Parmar and Mr. Chopra live in a 5 storey building each of them on different floors. The bottom-most floor is numbered as floor 1, above floor 1 is the floor 2 and so on upto floor 5. Mr. Desai lives on a floor above Mr. Khan's floor but below Mr. Bajaj's floor. There is a gap of two floors between Mr. Khan and Mr. Parmar. Mr. Khan lives immediately above Mr. Chopra's floor. Mr. Parmar lives on floor number: / श्री वजाज, श्री देसाई, श्री खान, श्री परमार और श्री चोपड़ा, हर कोई अलग अलग मंजिलों पर एक 5 मंजिल इमारत में रहते हैं। सब से नीचे वाली मंजिल को मंजिल 1 के रूप में क्रमांकित किया गया है, मंजिल 1 के ऊपर मंजिल 2 है और मंजिल 5 तक इत्यादि। श्री देसाई, श्री खान के मंजिल के ऊपर का मंजिल लेकिन श्री वजाज के मंजिल के नीचे के मंजिल में रहते हैं। श्री खान और श्री परमार के बीच दो मंजिलों का अंतर है। श्री खान, श्री चोपड़ा की मंजिल के ठीक ऊपर रहते हैं। श्री परमार कौनसे मंजिल पर रहते हैं?

- A) 1
- B) 5
- C) 2
- D) 4

Following are the conditions for selecting a Cartoon Animator. The candidate must:

- (i) have completed an Animation course.
- (ii) be a graduate in any discipline with 65% marks.
- (iii) have a post qualification work experience of atleast 2 years in any multimedia company.
- (iv) be less than 30 years of age.

In the case of a candidate who satisfies all the conditions:

- (A) If NOT (ii) above, but has scored more than 70% in Class X, the case may be referred to the General Manager.
- (B) If NOT (iii) above, but has a post-graduation degree, the case may be referred to Chief Executive Officer (CEO).
- (C) If NOT (iv) above, but has a work experience of atleast 4 years in any multimedia company, the case may be referred to the Managing Director.

Based on the above information and criteria given in each of the following questions, you have to take decision.

एक कार्टून एनिमेटर के चयन के लिए शर्तें निम्नलिखित हैं। उम्मीदवार को:

- (i) एनीमेशन कोर्स पूरा किया होना चाहिए।
- (ii) 65% अंकों के साथ किसी भी विषय में ग्रेजुएट होना चाहिए।
- (iii) क्वालिफिकेशन के बाद किसी भी मल्टिमीडिया कंपनी में कम से कम 2 साल का कार्यानुभव होना चाहिए।
- (iv) 30 साल से कम उम्र का होना चाहिए।

अगर एक उम्मीदवार सभी शर्तों को पूरा करता है:

- (A) सिवाय उपरोक्त (ii) के, लेकिन दसवीं कक्षा में 70% से अधिक प्राप्त किया है तो, मामला महाप्रबन्धक को भेजा जाए।
- (B) सिवाय उपरोक्त (iii) के, लेकिन एक पोस्ट-ग्रेजुएशन डिग्री है तो, मामला मुख्य कार्यपालन अधिकारी (CEO) को भेजा जाए।
- (C) सिवाय उपरोक्त (iv) के, लेकिन किसी भी मल्टिमीडिया कंपनी में कम से कम 4 साल का कार्यानुभव है तो, मामला प्रबंध संचालक को भेजा जाए।

उपरोक्त जानकारी और नीचे दिए गए प्रत्येक प्रश्न में दिए गए मापदंडों के आधार पर आपको निर्णय लेना होगा।

30) These cases are given to you as on 10th November, 2016.

Candidate's Information : Zoya Momin was born on 4th of May, 1990. She has secured 75% marks in graduation. She has a post-qualification work experience of 5 years in a BPO (Business Process Outsourcing). She has completed a certificate course in animation technology. She is not a post-graduate. She should be:

/ ये सभी मामले आपको नवंबर 10, 2016 की तारीख को दिए गए हैं।

उम्मीदवार की जानकारी: ज़ोया मोमिन मई 4, 1990 को पैदा हुई थी। उसने ग्रेजुएशन में 75% अंक हासिल किया है। उसे क्वालिफिकेशन के बाद BPO (बिज़नेस प्रॉसेस आउटसोर्सिंग) में 5 साल का कार्यानुभव है। उसने एनीमेशन प्रौद्योगिकी के क्षेत्र में सर्टिफिकेट कोर्स पूरा किया है। वह एक पोस्ट-ग्रेजुएट नहीं है। उसे

- A) referred to the Managing Director / प्रबंध संचालक के पास भेजा जाना चाहिए
- B) referred to the CEO / CEO के पास भेजा जाना चाहिए
- C) Rejected / चयन नहीं करना चाहिए
- D) Selected / चयन करना चाहिए

31) Three of the four following words belong to the same group or class in a certain manner. Find the odd one out. / निम्नलिखित चार शब्दों में से तीन एक निश्चित तरीके से एक ही समूह या वर्ग से संबंधित हैं। विषम का ज्ञात करें।

- A) Dove / कबूतर
- B) Bat / चमगादड़
- C) Eagle / गरुड़
- D) Peacock / मयूर

32) A is the mother of P. B is the brother of A. D is B's grandfather. M is the brother-in-law of A. M's daughter is Q. How is P related to D? / A, P की मां है। B, A का भाई है। D, B का दादा है। M, A का साला है। Q, M की बेटी है। P, का D से क्या रिश्ता है?

- A) Cannot be determined / निर्धारित नहीं किया जा सकता है
- B) Grandson / पोता
- C) Great granddaughter / परपोती
- D) Great grandson / परपोता

33) Mr. Bajaj, Mr. Desai, Mr. Khan, Mr. Parmar and Mr. Chopra live in a 5 storey building each of them on different floors. The bottom-most floor is numbered as floor 1, above floor 1 is the floor 2 and so on upto floor 5. Mr. Desai lives on a floor above Mr. Khan's floor but below Mr. Bajaj's floor. There is a gap of two floors between Mr. Khan and Mr. Parmar. Mr. Khan lives immediately above Mr. Chopra's floor. Mr. Bajaj lives on floor number: / श्री बजाज, श्री देसाई, श्री खान, श्री परमार और श्री चोपड़ा, हर कोई अलग अलग मंजिलों पर एक 5 मंजिल इमारत में रहते हैं। सबसे नीचे वाली मंजिल को मंजिल 1 के रूप में क्रमांकित किया गया है, मंजिल 1 के ऊपर मंजिल 2 है और मंजिल 5 तक इत्यादि। श्री देसाई, श्री खान के मंजिल के ऊपर का मंजिल लेकिन श्री बजाज के मंजिल के नीचे के मंजिल में रहते हैं। श्री खान और श्री परमार के बीच दो मंजिलों का अंतर है। श्री खान, श्री चोपड़ा की मंजिल के ठीक ऊपर रहते हैं। श्री बजाज कौनसे मंजिल पर रहते हैं?

- A) 2
- B) 1
- C) 4
- D) 3

34) Two numbers are in the ratio 9 : 11. If 5 is added to each of them, the ratio becomes 5 by 6. The greater number is / दो संख्याएं 9 : 11 के अनुपात में हैं। यदि उनमें से प्रत्येक में 5 जोड़ा जाता है, तो अनुपात 5 गुणा 6 हो जाता है। बड़ी संख्या क्या है?

- A) 45
- B) 55
- C) 25
- D) 85

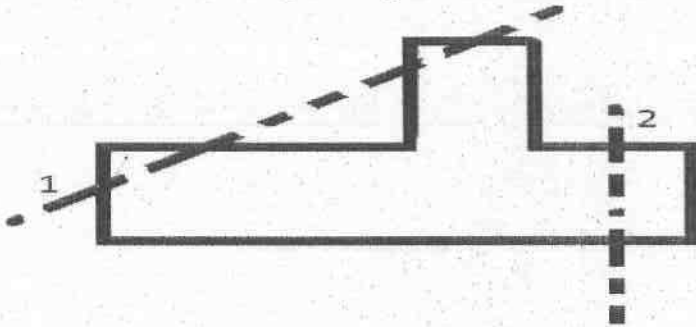
35) Four similar looking patterns are given. Observe closely and find which of them are actually different. (FF34G7, FF34G7, FF34G7, FF43G7) / चार एक जैसे दिखने वाले पैटर्न दिए गए हैं। ध्यान पूर्वक देखिए और पता लगाइए कि उनमें से कौन वास्तव में भिन्न है। (FF34G7, FF34G7, FF34G7, FF43G7)

- A) Third and Fourth / तीसरा और चौथा
- B) Second and Third / दूसरा और तीसरा
- C) All are similar / सभी समान हैं
- D) First and Second / पहला और दूसरा

36) 20 kg of coffee having a rate of Rs.80 per kg is mixed with 12 kg of coffee having a rate of Rs.60 per kg. What is the average rate of the mixture ? / रु.80 प्रति किलो की दर से 20 किलो कॉफी को रु.60 प्रति किलो दर की 12 किलो कॉफी में मिलाया जाता है। मिश्रण की औसत दर क्या है?


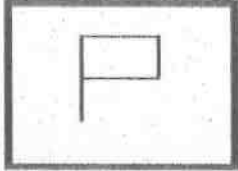
- A) Rs. 79.1 / 79.1 रु
- B) Rs. 83.5 / 83.5 रु
- C) Rs. 72.5 / 72.5 रु
- D) Rs. 81.2 / 81.2 रु

37) The paper sheet given below is folded along the given dotted line(s) in the sequence as mentioned. First fold is made along the dotted line 1, then along the dotted line 2. How many edges would the figure in the resultant paper sheet have, after the folds? / नीचे दिए गए पेपर शीट को उल्लिखित अनुक्रम में दिए गए बिन्दुओं की रेखा(ओं) के समानांतर मोड़ा जाता है। पहला मोड़ बिन्दुओं की रेखा 1 के समानांतर किया जाता है, फिर बिन्दुओं की रेखा 2 के समानांतर। मोड़ों के बाद परिणामी पेपर शीट में कितने किनारे होंगी?



- A) 9
- B) 10
- C) 8
- D) 12

38) An image is given in the left and a set of three numbered images on the right. Observe and find out which among these three images CANNOT be formed using exactly the same number of straight lines as used to form the image on the left? / एक चित्र बाई ओर दी गई है और तीन संख्यांकित चित्रों का एक सेट दाई ओर दिया गया है। ध्यानपूर्वक देखिए और बताइए कि इन तीन चित्रों में से किसे ठीक उतनी ही संख्या के सरल रेखाओं के इस्तेमाल से नहीं बनाया जा सकता है, जितनी बाई ओर की चित्र को बनाने में इस्तेमाल किया गया है?



- A) 2
B) 1
C) 3
D) Both 1 and 2 / 1 और 2 दोनों

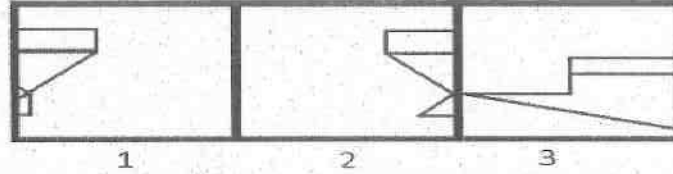
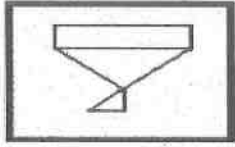
39) Four cows are tethered at four corners of a square plot of side 70 metres with ropes of length 35 metres. The minimum area left ungrazed is / चार गायों को 35मी लंबी रस्सियों से 70मी पक्षों वाले वर्गाकार खेत के चार कोनों में बांधा गया है। बिना चरा हुआ न्यूनतम क्षेत्रफल बितना है?

- A) 1050
B) 2010
C) 4900
D) 1670

40) Find the option that is different from the elements in the given set: (HHG, LLK, TTS, VVU) / उस विकल्प को ज्ञात करें जो दिए गए सेट के तत्वों से अलग है: (HHG, LLK, TTS, VVU)

- A) JJI
B) ZZY
C) PPO
D) EEF

41) A figure is given on the left with a pattern. Observe and find out which of the three images on the right looks similar to the right half of this pattern? / बाईं ओर एक पैटर्न के साथ एक चित्र दी गई है। ध्यानपूर्वक देखिए और बताइए कि दाईं ओर की तीन चित्रों में से कौन इस पैटर्न के दाईं अर्ध हिस्से के समान दिखाई पड़ती है?

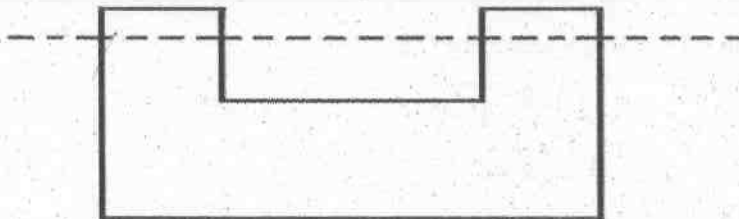


- A) 3
B) Both 1 and 2 / 1 और 2 दोनों
C) 1
D) 2

42) In a running race, Madhu finishes the race only after Dimple. Jay finishes the race only before Kiran. If there were 10 candidates in the race, who is at 5th position? / एक चलने वाले रेस में, मधु डिम्पल के बाद ही रेस पूरा करती है। जय किरण के पहले ही रेस पूरा करता है। यदि रेस में 10 उम्मीदवार हैं, तो पांचवें स्थान पर कौन है?

- A) Madhu / मधु
B) Kiran / किरण
C) Cannot be determined / ज्ञात नहीं किया जा सकता
D) Jay / जय

43) The paper sheet given below is folded along the dotted line. How many edges will the resultant paper sheet have? / नीचे दी गई पेपर शीट को बिंदीदार रेखा के साथ फोल्ड किया गया है। परिणामी पेपर शीट में कितने किनारे होंगे?



- A) 5
B) 6
C) 8
D) 7

Following are the conditions for selecting assistant-engineer in a Software Firm. The candidate must:

- (i) be a graduate in mechanical engineering with atleast 70% marks.
- (ii) be a post-graduate with 75% marks.
- (iii) have a work experience of 3 years post qualification.
- (iv) have secured atleast 80% in the selection interview.

In the case of a candidate who satisfies all the conditions:

- (A) EXCEPT (i) above, but has work experience of 5 years after post-graduation, then the case may be referred to General Manager.
- (B) EXCEPT (ii) above, but has experience of 7 years or more after post-graduation, then the case may be referred to Vice-President.
- (C) EXCEPT (iv) above, but has more than 90% in Class X, then the case may be referred to President.

Based on the above information and criteria given in each of the following questions, you have to take decision. These cases are given to you as on 1st November, 2016.

निम्नलिखित एक सॉफ्टवेयर कंपनी में सहायक-इंजीनियर के चयन के लिए शर्तें हैं। उम्मीदवार को:

- (i) कम से कम 70% अंकों के साथ मैकेनिकल इंजीनियरिंग में एक ग्रेजुएट होना चाहिए।
 - (ii) 75% अंकों के साथ एक पोस्ट-ग्रेजुएट होना चाहिए।
 - (iii) क्वालिफिकेशन के बाद 3 साल का कार्यानुभव होना चाहिए।
 - (iv) सेलेक्शन इंटरव्यू में कम से कम 80% हासिल किया होना चाहिए।
- अगर एक उम्मीदवार सभी शर्तों को पूरा करता है:

- (A) सिवाय उपरोक्त (i) के, लेकिन पोस्ट-ग्रेजुएशन के बाद 5 साल का कार्यानुभव है तो, मामला महाप्रबंधक को भेजा जाए।
- (B) सिवाय उपरोक्त (ii) के, लेकिन पोस्ट-ग्रेजुएशन के बाद 7 या उससे अधिक साल का कार्यानुभव है तो, मामला उपाध्यक्ष को भेजा जाए।
- (C) सिवाय उपरोक्त (iv) के, लेकिन दसवीं कक्षा में 90% से अधिक है तो, मामला अध्यक्ष को भेजा जाए।

उपरोक्त जानकारी और नीचे दिए गए प्रत्येक प्रश्न में दिए गए मापदंडों के आधार पर आपको निर्णय लेना होगा। ए सभी मामले आपको नवंबर 1, 2016 की तारीख को दिए गए हैं।

44) 36 year old Farhan Qazi is a mechanical engineer with 89% marks in graduation and 73% marks in post-graduation. He has been working since 11 years in IT industry, after completion of post-graduation. He secured 85% marks in selection interview. He should be/

36 वर्ष आयु वाला फरहान काजी ग्रेजुएशन में 89% अंक और पोस्ट-ग्रेजुएशन में 73% अंक के साथ एक मैकेनिकल इंजीनियरिंग है। पोस्ट-ग्रेजुएशन पूरा करने के बाद वह IT उद्योग में पिछले 11 साल से काम कर रहा है। उसने सेलेक्शन इंटरव्यू में 85% अंक हासिल किए हैं। उसे

- A) referred to the President. / अध्यक्ष के पास भेजा जाना चाहिए
- B) selected / चुना जाना चाहिए
- C) referred to the Vice-President / उपाध्यक्ष के पास भेजा जाना चाहिए
- D) rejected / नहीं चुना जाना चाहिए

Following are the conditions for selection of a Clerk in various departments of the Government of India.

The candidate must :

- (i) be a graduate in any discipline with atleast 60% marks.
- (ii) have the ability to read, write and speak Hindi and English.
- (iii) be less than 28 years of age.
- (iv) must have a bank account in any of the nationalised banks.

In the case of a candidate who satisfies all the conditions :

(A) Except (i) above, but has post qualification work experience of 1 years, his/her case may be referred to Senior Employment Officer.

(B) Except (iii) above, but has scored atleast 80% in graduation, his/her case may be referred to Junior Employment Officer.

Based on the above criteria and the information given below, you have to take decision.

भारत सरकार के विभिन्न विभागों में लिपिक के चयन के लिए निम्न शर्तें हैं। उम्मीदवार:

- (i) कम से कम 60% अंकों के साथ किसी भी विषय में स्नातक होना चाहिए।
- (ii) हिंदी और अंग्रेजी पढ़ने, लिखने एवं बोलने में सक्षम होना चाहिए।
- (iii) आयु 28 से कम होनी चाहिए।
- (iv) किसी भी राष्ट्रीयकृत बैंक में खाता होना चाहिए।

इन सभी शर्तों को पूरा करने वाले उम्मीदवार के मामले में:

(A) उपरोक्त में से (i) को छोड़कर, उम्मीदवार के पास अर्हता के बाद 1 वर्ष का कार्य अनुभव है, उसके मामले को वरिष्ठ रोजगार अधिकारी को भेजा जा सकता है।

(B) उपरोक्त में से (ii) को छोड़कर, उम्मीदवार ने स्नातक में कम से कम 80% अंक प्राप्त किए हैं, उसके मामले को कनिष्ठ रोजगार अधिकारी को भेजा जा सकता है।

उपरोक्त मानदंडों और नीचे दी गई जानकारी के आधार पर, आपको निर्णय लेना है।

45) These cases are given to you as on 1st September, 2016. Harshada Khurana, who is 27 year old, belongs to Gujarat and has secured 64% marks in her graduation and 71% marks in her post-graduation. She knows to read, write and speak English and Hindi. She has a savings account in a nationalised bank. She must be:

यह मामले 1 सितंबर 2016 की स्थिति के अनुसार आपको दिए गए हैं: 27 वर्षीय हर्षदा खुराना गुजरात की है और उसने अपनी स्नातक की पढ़ाई में 64% अंक प्राप्त किए हैं और अपनी स्नातकोत्तर की पढ़ाई में 71% अंक प्राप्त किए हैं। वह अंग्रेजी और हिन्दी पढ़ने, लिखने और बोलने में सक्षम है। राष्ट्रीयकृत बैंक में उसका बचत खाता है। तो उसको:

- A) referred to the Senior Employment Officer / वरिष्ठ रोजगार अधिकारी के पास भेजना चाहिए
- B) selected / चयनित करना चाहिए
- C) rejected / अस्वीकृत करना चाहिए
- D) referred to the Junior Employment Officer. / कनिष्ठ रोजगार अधिकारी के पास भेजना चाहिए

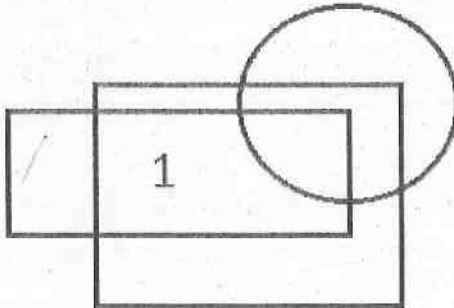
46) A set is given, (36, 39, 45). The sets given in options are similar to it considering the HCF of elements, EXCEPT one. Find the set that is different. / एक सेट (36, 39, 45) दिया गया है। विकल्प में दिए गए सेट्स में से एक को छोड़कर बाकी सभी तत्वों के HCF पर विचार करने पर समान हैं। भिन्न सेट जात करें।

- A) (24, 16, 32)
- B) (12, 18, 21)
- C) (27, 33, 6)
- D) (48, 15, 9)

47) Shalini is the wife of Kapil, who is brother of Renuka's husband. How is Renuka's mother-in-law related to Kapil? / शालिनी, कपिल की पत्नी है, जो रेणुका के पति का भाई है। रेणुका की सास का कपिल से क्या रिश्ता है?


- A) Daughter-in-law / बहू
- B) Daughter / बेटी
- C) Mother / मां
- D) Mother-in-law / सास

48) An image is made from some geometric figures. In the image, some regions are formed. In each of these regions, as many dots are to be placed as the number of geometric figures that has this as a part of it. One of these regions is marked with number 1. How many dots will be placed in region 1? / एक चित्र को कई ज्यामितीय आकृतियों से बनाया गया है। चित्र में, कुछ क्षेत्रों को बनाया गया है। इस प्रत्येक क्षेत्र में, उतने ही बिंदु स्थापित करने हैं, जितनी ज्यामितीय आकृतियों की संख्या, जो इसका हिस्सा है। इनमें से एक क्षेत्र को संख्या 1 से चिह्नित किया गया है। क्षेत्र 1 में कितने बिंदु स्थापित करने होंगे?



- A) 2
- B) 1
- C) 3
- D) 4

49) Among the given group of 4 images, which set of images can be classified as a group? / दिए गए 4 चित्रों के समूह में से किन समुच्चय चित्रों को एक समूह के रूप में वर्गीकृत किया जा सकता है?

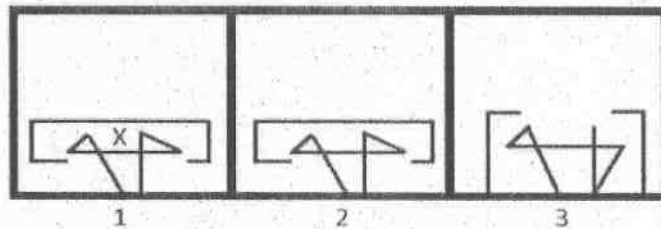
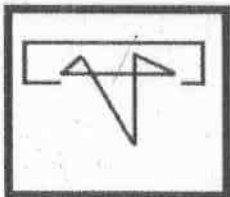


- A) (1, 2, 4)
 B) (1, 2, 3)
 C) (2, 3, 4)
 D) (1, 3, 4)

50) Find the next term in the sequence: M10G, K9G, I8G, _____. / क्रम में अगला पद ज्ञात करें: M10G, K9G, I8G, _____.

- A) H7G
 B) G8G
 C) G7G
 D) H8G

51) Given below is a figure on the left with a pattern. Observe and find which of the three images on the right looks similar to the top half of this pattern? / नीचे एक पैटर्न के साथ बाईं ओर एक आकृति दी गई है। ध्यान से देखें और बताएं कि दाईं ओर की तीन में से कौन सा एक चित्र इस पैटर्न के शीर्ष अर्ध जैसा दिखता है?



- A) 1
 B) 2
 C) Both 1 and 2 / दोनों 1 और 2
 D) 3

52) Three out of the given four items are similar. Find the odd one. / दिए गए चार आयटमों में से तीन एक जैसे हैं। भिन्न आयटम की पहचान करें

- A) Y
- B) Z
- C) D
- D) H

53) An employee of a company gets incentive for every deal he cracks. During one month, his incentives were $\frac{7}{8}$ of his salary. What fraction of his income came from incentives ? / एक कंपनी के एक कर्मचारी को उसके द्वारा हासिल किए हर मौदे पर इन्सेंटिव मिलता है। एक महीने के दौरान, उसका इन्सेंटिव इसके वेतन का $\frac{7}{8}$ गुना था। इन्सेंटिव से उसकी आय का कितना हिस्सा आया?

- A) $\frac{8}{9}$
- B) $\frac{7}{15}$
- C) $\frac{15}{7}$
- D) $\frac{15}{9}$

54) There are three words given here. The first two words are related in a certain manner. Select the proper word among the given four alternatives which bears the same relationship with the third word as in the manner first and second words are related.

Harm : Benefit :: Harmony : ?

/ यहाँ पर तीन शब्द दिए गए हैं। पहले दो शब्द एक निश्चित शैली से संबंधित हैं। दिए गए चार विकल्पों में से उस सही शब्द का चयन करें, जो तीसरे शब्द से वैसा ही संबंध रखता हो, जैसा कि पहले और दूसरे शब्द संबंध रखते हों।

हानि : लाभ :: सामंजस्य : ?

- A) Filthy / गंदा
- B) Discord / कलह
- C) Hell / दुर्दशा
- D) Wild / डरपोक

55) There are three words given here. The first two words are related in a certain manner. Select the proper word among the given four alternatives which bears the same relationship with the third word as in the manner first and second words are related.

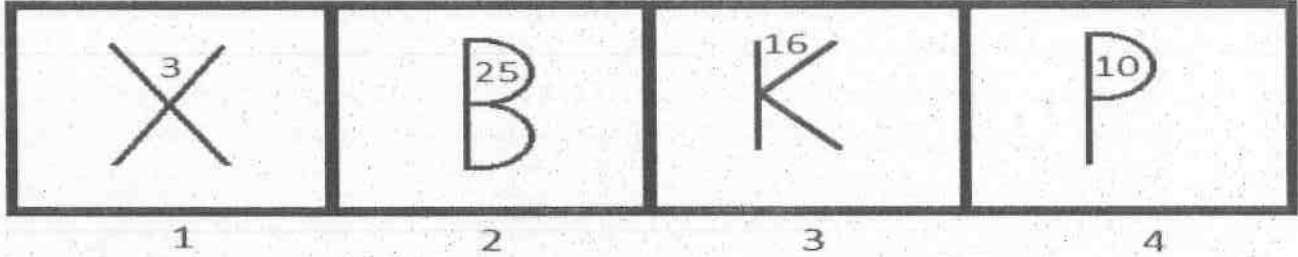
Dog : Bitch :: Stallion : ?

/ यहाँ पर तीन शब्द दिए गए हैं। पहले दो शब्द एक निश्चित शैली से संबंधित हैं। दिए गए चार विकल्पों में से उस सही शब्द का चयन करें, जो तीसरे शब्द से वैसा ही संबंध रखता हो, जैसा कि पहले और दूसरे शब्द संबंध रखते हों।

कुत्ता : कुतिया :: स्टैलियन : ?

- A) Duck / बत्तख
- B) Ewe / भेड़
- C) Sow / सुअरी
- D) Mare / घोड़ी

56) Among the given group of 4 images, which set of images can be classified as a group? / दिए गए 4 चित्रों के समूह में से किन समुच्चय चित्रों को एक समूह के रूप में वर्गीकृत किया जा सकता है?



- A) (1, 2, 3)
- B) (2, 3, 4)
- C) (1, 3, 4)
- D) (1, 2, 4)

57) Find the missing term in the sequence: 32, 39, 46, 117, 202, 365, 684, _____. / क्रम में लापता संख्या ज्ञात करें: 32, 39, 46, 117, 202, 365, 684, _____.

- A) 1251
- B) 1206
- C) 1391
- D) 1368

58) In a certain code, SJFK is coded as UNLS. What will be the code of the word DGEJ? / एक निश्चित कूट में SJFK को UNLS के रूप में कूट बदल किया जाता है। शब्द DGEJ का कूट क्या होगा?

- A) FGEW
- B) FKRR
- C) FSDE
- D) FSWS

59) In a certain code, DGHFA is written as EJMMJ, then how is SFGFI written in the same code? / एक निश्चित कूट में DGHFA को EJMMJ के रूप में लिखा जाता है, तो उसी कूट में SFGFI को कैसे लिखा जाएगा?

- A) TILMR
- B) QWEAS
- C) KTNSA
- D) KLYGG

60) Mr. Khan gave 20% of the amount he had to his mother. He also gave 10% of the remaining amount to his three daughters. Half of the amount he had was transferred to his sister's account and the remaining amount of Rs. 14,000 was spent by him on shopping. How much money did Mr. Khan have initially (approximately)? / श्री खान ने अपने पास रखी राशि का 20% अपनी मां को दे दिया। उसने बची हुई राशि का 10% अपनी तीन बेटियों को भी दिया। अपनी राशि का आधा उसने अपनी बहन के खाते में हस्तांतरित कर दिया था और 14,000 रु की शेष राशि को उसने खरीदारी पर खर्च कर दिया था। शुरुआत में श्रीमान खान के पास (लगभग) कितनी राशि थी?

- A) Rs.42,000 / 42,000 रु
- B) Rs.39,989 / 39,989 रु
- C) Rs.40,000 / 40,000 रु
- D) Rs.38,889 / 38,889 रु

Section 2 - PART B

No. of Questions: 60

61) The total number of Ministers, including the Prime Minister, in the Council of Ministers shall not exceed what percentage of the total number of members of the House of the people? / मंत्रीपरिषद में प्रधानमंत्री सहित मंत्रियों की कुल संख्या लोक सभा के सांसदों की कुल संख्या के कितने प्रतिशत से अधिक नहीं हो सकती?

- A) Ten percent / दस प्रतिशत
- B) Fifteen percent / पंद्रह प्रतिशत
- C) Twenty percent / बीस प्रतिशत
- D) Twenty Five percent / पच्चीस प्रतिशत

62) How long a person who is NOT a member of the parliament may be appointed as a minister? \ एक व्यक्ति जो संसद का सदस्य नहीं है, एक मंत्री के रूप में कब तक नियुक्त किया जा सकता है?

- A) One year \ एक वर्ष
- B) As long as parliament permits \ जब तक संसद अनुमति दे
- C) Three months \ तीन माह
- D) Six months \ छः माह

63) How many medals were won by India in the 12th South Asian Games held in Guwahati and Shillong, in 2016? / 2016 में, गुवाहाटी और शिलांग में आयोजित 12वें दक्षिण एशियाई खेलों में भारत ने कितने पदक जीते हैं?

- A) 259
- B) 308
- C) 220
- D) 350

64) The International Kabaddi Federation (IKF) hosted the 2016 Kabaddi World Cup in which of the following states in India? / अंतरराष्ट्रीय कबड्डी महासंघ (IKF) ने भारत में निम्न राज्यों में से किसमें 2016 कबड्डी विश्व कप की मेजबानी की?

- A) Andhra Pradesh / आंध्र प्रदेश
- B) Maharashtra / महाराष्ट्र
- C) Rajasthan / राजस्थान
- D) Gujarat / गुजरात

65) Which is the source of origin for river Bhagirathi? / कौन सा एक भागीरथी नदी का उद्गम स्रोत है?

- A) Devaprayag / देवप्रयाग
- B) Gaumukh / गौमुख
- C) Manasarovar / मानसरोवर
- D) Yamunotri / यमुनोत्री

66) India shares its border with how many countries? / भारत कितने देशों के साथ अपनी सीमा को साझा करता है?

- A) Five / पांच
- B) Six / छह
- C) Seven / सात
- D) Eight / आठ

67) Which of the following is a protected natural harbour located 90 km away from the mouth of the Gulf Of Kachchh? / निम्न में से कौन सी एक कच्छ की खाड़ी के मुहाने से 90 किमी की दूरी पर स्थित संरक्षित प्राकृतिक बंदरगाह है?

- A) Mormugao port / मोरमुगांव बंदरगाह
- B) Kandla port / कांडला बंदरगाह
- C) Mumbai port / मुंबई बंदरगाह
- D) Mundra port / मुंद्रा बंदरगाह

68) The Civil Services Act of 1870, provided for the Indianisation of Civil services. Who implemented it in the year 1879? / लोकसेवा अधिनियम 1870, सिविल सेवाओं के भारतीयकरण के लिए लाया गया था। 1879 में इसे किसने लागू किया था?

- A) Lord Curzon / लॉर्ड कर्जन
- B) Lord Mayo / लॉर्ड मेयो
- C) Lord Reading / लॉर्ड रीडिंग
- D) Lord Lytton / लॉर्ड लिटन

69) The Constitution (Forty-third Amendment) Act 1977 repealed article 31D of the Indian Constitution'. Title the article. / संविधान (चौत्तीसवाँ संशोधन) अधिनियम 1977, ने भारतीय संविधान के अनुच्छेद 31 डी को निरस्त कर दिया। अनुच्छेद का शीर्षक बताइए।

- A) Equal justice and free legal aid / समान न्याय और मुफ्त कानूनी सहायता
- B) Living wage, etc. for workers / श्रमिकों के लिए मजदूरी आदि
- C) Saving of laws in respect of anti-national activities / राष्ट्र विरोधी गतिविधियों के बारे में कानूनों की रक्षा
- D) Organization of village panchayats / ग्राम पंचायतों की संरचना

70) Which Badami Chalukya ruler assumed the titles like Ururanaparakrama, Ranavikrama and Paramabhagavata? / किस बादामी चालुक्य शासक को उरुराणापराक्रम, रणविक्रम और परमभागवत जैसे खिताब दिए गए थे?

- A) Mangalesa / मंगलेसा
- B) Kirtivarman I / कीर्तिवर्मन I
- C) Vikramaditya I / विक्रमादित्य I
- D) Pulakesi II / पुलकेसी II

71) When an electric current is passed through copper sulphate solution, the blue colour of the solution gradually fades. This is an example of / जब कॉपर सल्फेट विलयन के माध्यम से विद्युत प्रवाह पारित किया जाता है, तब विलयन का नीला रंग धीरे-धीरे उतर जाता है। यह किसका एक उदाहरण है?

- A) Physical change / भौतिक बदलाव
- B) Solubility change / घुलनशीलता बदलाव
- C) Nuclear change / परमाणु बदलाव
- D) Chemical change / रासायनिक बदलाव

72) When was the decision to replace Planning Commission with NITI Aayog announced in India? / भारत में योजना आयोग को नीति आयोग से बदलने के निर्णय की घोषणा कब की गई थी?

- A) 2016
- B) 2014
- C) 2010
- D) 2012

73) According to the annual Forbes Fab 40 list, who is the most valued Indian athlete in 2016? / वार्षिक फोर्ब्स फैब 40 सूची के अनुसार, 2016 में सबसे अहम भारतीय एथलीट कौन हैं?

- A) Virat Kohli / विराट कोहली
- B) M. S. Dhoni / एम.एस. धोनी
- C) Sania Mirza / सानिया मिर्जा
- D) Saina Nehwal / साइना नेहवाल

74) Right to education is provided to all children between six and / छः वर्ष और निम्नलिखित में से कितनी आयु के बीच के बच्चों को शिक्षा का अधिकार प्रदान किया जाता है?

- A) Sixteen years / सोलह वर्ष
- B) Fourteen years / चौदह वर्ष
- C) Twelve years / बारह वर्ष
- D) Eighteen years / अठारह वर्ष

75) Who among the following was the first Indian woman to win Paralympics medal in September 2016? / सितंबर 2016 में पैरालिम्पिक्स पदक जीतने वाली पहली भारतीय महिला निम्नलिखित में से कौन थी?

- A) Karamjyoti Dalal / करमज्योति दलाल
- B) Deepa Malik / दीपा मलिक
- C) Seema Antil / सीमा अंतिल
- D) Pooja Rani / पूजा रानी

76) Name the defect of vision caused when cornea loses its perfect spherical shape. / दृष्टिदोष का नाम जब कॉर्निया का सही गोलीय आकार घट जाता है।

- A) Hypermetropia / हाइपरमेट्रोपिया
- B) Astigmatism / अस्टिग्मैटिज्म
- C) Cataract / मोतियाबिंद
- D) Myopia / मायोपिया

77) The period of low economic growth, when rate of unemployment and inflation rise above their conventional level simultaneously, is termed as \ जब युगपत रूप से बेरोजगारी और मुद्रास्फीति स्तर की दर अपने अभिसामयिक स्तर से ऊपर उठ जाती है, तब निम्न आर्थिक विकास की अवधि को क्या कहा जाता है?

- A) Stagnation \ गतिहीनता
- B) Stagflation \ मुद्रास्फीतिजनित मंदी
- C) Take-off Stage in Economy \ अर्थव्यवस्था में अनुवर्णीय चरण
- D) Deflation \ अपस्फीति

78) The chemical sometimes used in hospitals to sterilize surgical instruments and purify water in stinking wells is /

एक रासायन जिसका इस्तेमाल कभी-कभी सर्जिकल उपकरणों को स्टरलाइज करने के लिए अस्पतालों में और बदबूदार कुओं में पानी साफ करने के लिए किया जाता है, निम्न में से कौन सा है?

- A) Potassium permanganate / पोटेशियम परमैंगेनेट
- B) Potassium chlorate / पोटेशियम क्लोरेट
- C) Potassium dichromate / पोटेशियम डायक्रोमेट
- D) Bleaching powder / ब्लैचिंग पाउडर

79) White meat is made up of muscles with fibers that are called fast-twitch. Which of the following is an example of white meat? / श्वेत मांस फास्ट-ट्विच नामक फाइबर वाले मांसपेशियों से बना होता है। निम्न में से कौन सा श्वेत मांस का एक उदाहरण है?

- A) Poultry / पोल्ट्री
- B) Lamb / लैम्ब
- C) Veal / वील
- D) Beef / बीफ

80) "Ramcharitmanas" was composed by which famous writer? / "रामचरितमानस" को किस प्रसिद्ध लेखक द्वारा संलेखन किया गया था?

- A) Tulasi Das / तुलसी दास
- B) Surdas / सूरदास
- C) Ras Khan / रास खान
- D) Abdur Rahim Khan-e-Khana / अब्दुल रहीम खान-ए-खाना

81) Thongchai Jaidee who voted as the 'Hilton Asian Tour Golfer of the Month' for July 2016 belongs to which country? / तोंगचाई जैदी जिसे जुलाई 2016 के लिए 'हिल्टन एशियन टूर गोल्फर ऑफ़ द मन्थ' के रूप में घोषित किया गया था, वह किस देश से संबंधित है?

- A) Vietnam / वियतनाम
- B) Thailand / थाईलैंड
- C) India / भारत
- D) Singapore / सिंगापुर

82) Which of the following is the INCORRECT option pertaining to secondary colours of light (i.e. Primary colours when mixed together in equal quantities)? / निम्न में से कौन सा प्रकाश की द्वितीयक रंग से संबंधित गलत विकल्प है (अर्थात् प्राथमिक रंग जब बराबर मात्रा में एक साथ मिश्रित हों)?

- A) Cyan / सियान
- B) Red / लाल
- C) Orange / ऑरेंज
- D) Magenta / मैजेंटा

83) On which river is the Jog Falls located? / जोग फॉल्स किस नदी पर स्थित है?

- A) Tungabhadra / तुंगभद्रा
- B) Kaveri / कावेरी
- C) Bhima / भीमा
- D) Sharavathi / शरावती

84) Match the name of the books in list-2 with their corresponding writers in list1.

list1	list2
Name of the Writer	Name of the Book
1-Bilhana	a-Gaudabaho
2-Kautilya	b- Mudarakshasa
3-Vishakhadatta	c- Manusmriti
4-Bakpatiraja	d-Vikramankadevacharita

/ सूची 2 में दी गई पुस्तकों के नाम को सूची 1 में दिए संगत लेखकों से सुमेलित करें।

सूची1	सूची2
लेखक का नाम	पुस्तक का नाम
1-बिलहाना	a-गौडाबाहो
2-कौटिल्या	b-मुद्राराक्षसा
3-विशाखादत्ता	c-मनुस्मृति
4-वक्रपतिराजा	d-विक्रमांकदेवचरिता

- A) 1-a, 2-b, 3-c, 4-d
- B) 1-b, 2-a, 3-d, 4-c
- C) 1-b, 2-c, 3-d, 4-a
- D) 1-d, 2-c, 3-b, 4-a

85) Supercomputer 'Param Kanchenjunga' was unveiled at which of the following organization? / सुपरकंप्यूटर 'परम कंचनजंगा' का उद्घाटन किस संगठन में किया गया था?

- A) Sikkim NIT / सिक्किम NIT
- B) IIT Kharagpur / IIT, खड़गपुर
- C) ISRO / ISRO
- D) NID, Ahmedabad / NID, अहमदाबाद

86) "Laws inconsistent with or in derogation of the fundamental rights are void". The article of the Indian constitution that confirms the same is / "मौलिक अधिकारों के साथ असंगत या उनकी अवमानना करने वाले कानून निष्प्रभावी हैं"। भारतीय संविधान का कौन सा अनुच्छेद इस बात की पुष्टि करता है?

- A) 12
- B) 13
- C) 14
- D) 15

87) A conducting wire offers resistance to the flow of electrons because / एक तार इलेक्ट्रॉनों के प्रवाह के लिए प्रतिरोध प्रदान करता है, क्योंकि

- A) electrons drift through the wire / इलेक्ट्रॉन तार के माध्यम से ड्रिफ्ट करते हैं
- B) electrons repel each other / इलेक्ट्रॉन एक दूसरे को प्रतिकर्षित करते हैं
- C) electrons collide with atoms of wire / इलेक्ट्रॉन, तार के परमाणुओं के साथ टकराते हैं
- D) electrons attract each other / इलेक्ट्रॉन एक दूसरे को आकर्षित करते हैं

88) PM Narendra Modi will inaugurate India's flagship biennial international oil and gas conference and exhibition, PETROTECH-2016 in December 2016 in which of the following places? / प्रधानमंत्री नरेंद्र मोदी दिसंबर 2016 में भारत के प्रमुख द्विवार्षिक अंतरराष्ट्रीय तेल और गैस सम्मेलन और प्रदर्शनी, PETROTECH-2016 का उद्घाटन निम्नलिखित स्थानों में से कहीं करेंगे?

- A) New Delhi / नई दिल्ली
- B) Kolkata / कोलकाता
- C) Bangalore / बैंगलोर
- D) Mumbai / मुंबई

89) Fatehpur Sikri was built by which Mughal Emperor? / फतेहपुर सीकरी का निर्माण किस मुगल शासक द्वारा किया गया था?

- A) Akbar / अकबर
- B) Humayun / हुमायूँ
- C) Jahangir / जहांगीर
- D) Shah Jahan / शाहजहाँ

90) The system of land settlement and land revenue collection known as Permanent Settlement of Bengal was introduced by / भूमि वंदोवस्त व्यवस्था और भू राजस्व वसूली जिसे बंगाल का स्थायी वंदोवस्ती कहा जाता है, किसके द्वारा चलाई गई थी?

- A) Lord Mountbatten / लॉर्ड माउंटबेटन
- B) Lord Cornwallis / लॉर्ड कॉर्नवालिस
- C) Lord Willington / लॉर्ड विलिंगटन
- D) Lord Linlithgow / लॉर्ड लिनलिथगो

91) The world's first hydrogen-powered emission-free train which is set to begin service in 2017 was unveiled in / दुनिया का पहला हाइड्रोजन-चालित उत्सर्जन मुक्त ट्रेन जो 2017 में सेवा शुरू करने के लिए सेट है, वहाँ उद्घाटित किया गया था?

- A) Japan / जापान
- B) Germany / जर्मनी
- C) China / चीन
- D) Italy / इटली

92) As of 2016, which political party is ruling in the state of Assam? / 2016 से, इनमें से कौन सा राजनीतिक दल असम राज्य में राज कर रहा है?

- A) BJP \ भाजपा
- B) Congress \ कांग्रेस
- C) BSP \ बसपा
- D) Communist Party \ कम्युनिस्ट पार्टी

93) Thillana is one of the constituent items of which of the following traditional dance forms? / तिल्लाना, निम्नलिखित पारंपरिक नृत्य शैलियों में से किसके मौलिक आइटमों में से एक है?

- A) Bharatnatyam / भरतनाट्यम
- B) Kathak / कथक
- C) Manipuri / मणिपुरी
- D) Odissi / ओडिसी

94) Who among the following Indian players won the 2016 Australian Open Super Series by defeating Sun Yu of China? / निम्न में से किस भारतीय खिलाड़ी ने चीन की सुन यू को हराकर 2016 ऑस्ट्रेलियाई ओपन सुपर सीरीज़ जीता?

- A) Saina Nehwal / साइना नेहवाल
- B) P.V. Sindhu / पी.वी. सिंधू
- C) Jwala Gutta / ज्वाला गुट्टा
- D) Ashwini Ponnappa / अश्विनी पोनप्पा

95) Who of the following is said to be a pioneer in invention of Chloroform? / निम्न में से किसे क्लोरोफॉर्म के आविष्कार के क्षेत्र में अग्रणी कहा जाता है?

- A) Robert Koch / रॉबर्ट कॉख
- B) Ronald Ross / रोनल्ड रॉस
- C) Otto Hahn / ओटो हैन
- D) James Y Simpson / जेम्स वाई सिम्पसन

96) Which of the following team has won the FIFA U-17 Women's World Cup, 2016? / निम्नलिखित में से कौन से टीम ने FIFA U-17 महिला विश्व कप, 2016 जीता है?

- A) Korea DPR / कोरिया DPR
- B) China / चीन
- C) Saudi Arabia / सऊदी अरब
- D) Japan / जापान

97) In which state of India is the Kudremukh National Park located? / भारत के किस राज्य में कुद्रेमुख राष्ट्रीय उद्यान स्थित है?

- A) Karnataka / कर्नाटक
- B) Kerala / केरल
- C) Gujarat / गुजरात
- D) Rajasthan / राजस्थान

98) Which of the following sectors is NOT considered in a closed economy model? \ वंद अर्थव्यवस्था मॉडल में, निम्न में से किस क्षेत्र पर विचार नहीं किया गया है?

- A) Government \ सरकार
- B) Foreign Trade \ विदेशी व्यापार
- C) Households \ परिवार
- D) Firms \ फर्म

99) Who wrote the book Natya Shastra? / किताब नाट्य शास्त्र किसने लिखी है?

- A) Abhinava gupta / अभिनव गुप्त
- B) Thiruvalluvar / तिरुवल्लुवर
- C) Markandeya / मार्कंडेय
- D) Bharata Muni / भरत मुनि

100) How many islands are inhabited in the Nicobar group of islands? / निकोबार द्वीपसमूह में कितने द्वीप निवास करते हैं?

- A) 5
- B) 15
- C) 22
- D) 10

101) Which of the following is one of the schemes introduced in Foreign Trade Policy of India 2015-20? / निम्नांकित में से कौन सी योजना भारत की विदेश व्यापार नीति 2015-20 के तहत आरंभ की गई?

- A) UDAAN
- B) FMS
- C) SEIS
- D) MLFPS

102) Ayurveda, the traditional hindu system of medicines consists of how many parts? / दवाओं की पारंपरिक हिंदू प्रणाली, आयुर्वेद में कितने भाग शामिल हैं?

- A) 6
- B) 18
- C) 8
- D) 13

103) Viswanathan Anand drew his first round match against which Italian player in Norway Chess Tournament 2015? / विश्वनाथन आनंद ने नॉर्वे शतरंज टूर्नामेंट 2015 में किस इतालवी खिलाड़ी के खिलाफ अपने पहले दौर का मैच ड्रा किया था?

- A) Magnus Carlsen / मैग्नस कार्लसन
- B) Alexei Shirov / एलेक्सेई शिरोव
- C) Fabiano Caruana / फेबियानो करुना
- D) Veselin Topalov / वेसेलिन तोपालोव

104) Who is known as the 'Father of Indian National Congress'? / "भारतीय राष्ट्रीय कांग्रेस का पिता" किसे कहा जाता है?

- A) Bal Gangadhar Tilak / बाल गंगाधर तिलक
- B) Womesh Chandra Bonnerjee / वामेश चंद्र बनर्जी
- C) Mr. A.O. Hume / श्री. A.O. ह्यूम
- D) Dadabhai Naoroji / दादाभाई नौरोजी

105) The Dandi March signified the start of which National Movement? / दांडी मार्च किस राष्ट्रीय आंदोलन को दर्शाता है?

- A) Non-cooperation movement / असहयोग आंदोलन
- B) Indian Rebellion of 1857 / 1857 की भारतीय बगावत
- C) Tribal Movement / जनजातीय आंदोलन
- D) Civil Disobedience Movement / सविनय अवज्ञा आंदोलन

106) Dassam falls are formed out of which river? / दसम जलप्रपात किस नदी से बनता है?

- A) Kanchi / कांची
- B) Godavari / गोदावरी
- C) Ganga / गंगा
- D) Kaveri / कावेरी

107) By how much percentage The Union Cabinet, Government of India increases the limit for foreign investment in Stock Exchanges? / भारत सरकार की केंद्रीय कैबिनेट ने शेयर बाजारों में विदेशी निवेश की सीमा में कितने प्रतिशत का इजाफा किया?

- A) 15 to 20% / 15 से 20%
- B) 5 to 15% / 5 से 15%
- C) 10 to 15% / 10 से 15%
- D) 20 to 25% / 20 से 25%

108) The central bank of the country \ देश का केंद्रीय बैंक

- A) cannot influence deposit creation \ जमा सृजन को प्रभावित नहीं कर सकता है
- B) can influence deposit creation \ जमा सृजन को प्रभावित कर सकता है
- C) can not influence the volume of money in circulation \ धन की मात्रा के मुद्राचलन को प्रभावित नहीं कर सकता है
- D) can influence deposit creation only now and then \ केवल अब और बाद में जमा सृजन को प्रभावित कर सकता है

109) In which year, the first constitutional amendment took place? / पहला संवैधानिक संशोधन किस वर्ष में हुआ था?

- A) 1947
- B) 1951
- C) 1956
- D) 1962

110) Reservation policy in India strengthened through statutory bodies for / सांविधिक संस्थाओं के माध्यम से भारत में आरक्षण नीति को किसके लिए सशक्त बनाया जाता है

- A) promoting cultural inequality / सांस्कृतिक असमानता को बढ़ावा देने के लिए
- B) amelioration of the conditions of the depressed classes / दलित वर्गों की स्थिति में सुधार करने के लिए
- C) pushing certain classes into backwardness / कुछ वर्गों को पीछे धकेलने के लिए
- D) promoting mutual suspicion and distrust / आपसी संदेह और अविश्वास को बढ़ावा देने के लिए

111) As per the demand law, with other things remaining constant, when price per unit of a good falls, its \ मांग नियम के अनुसार, अन्य चीजों के स्थिर बने रहने के साथ जब प्रति इकाई वस्तुओं की कीमत में गिरावट आती है, इसकी

- A) quantity demanded will remain constant \ अनुरोधित मात्रा स्थिर रहेगी
- B) quantity demanded will decrease \ अनुरोधित मात्रा में कमी होगी
- C) quantity supplied will remain constant \ आपूर्ति मात्रा में स्थिर रहेगी
- D) quantity demanded will increase \ अनुरोधित मात्रा में वृद्धि होगी

112) Bifocal lens is the invention of which of the following scientists? / द्विफोकसी लेन्स निम्नलिखित वैज्ञानिकों में से किसका आविष्कार है?

- A) Benjamin Franklin / बेंजामिन फ्रेंकलिन
- B) Alois Senefelder / अलॉइस सेनेफेल्डर
- C) William Gilbert / विलियम गिलवर्ट
- D) Alexander Forsyth / अलेक्जेंडर फोरसाइथ

113) In which year the states of India were reorganised based on the recommendations of the State Reorganisation Commission (SRC)? / राज्य पुनर्गठन आयोग (SRC) की सिफारिशों के आधार पर भारत के राज्यों को किस वर्ष में पुनर्गठित किया गया था?

- A) 1956
- B) 1950
- C) 1954
- D) 1952

114) Which team won the 2016 Women's Asian Champions Trophy in Hockey? / किस टीम ने हॉकी में 2016 महिलाओं के एशियाई चैंपियंस ट्रॉफी जीती ?

- A) China / चीन
- B) Malaysia / मलेशिया
- C) India / भारत
- D) Japan / जापान

115) India will play for a five-test home series scheduled in November-December 2016 against which of the following countries? / नवंबर-दिसंबर 2016 में अनुसूचित एक पांच-टेस्ट घरेलू श्रृंखला में भारत निम्नलिखित देशों में से किसके खिलाफ खेलेंगे?

- A) New Zealand / न्यूजीलैंड
- B) Australia / ऑस्ट्रेलिया
- C) England / इंग्लैंड
- D) Sri Lanka / श्रीलंका

116) The Indian Union is an indestructible Union of destructible States. Which of the following countries is an indestructible Union composed of indestructible states? / भारतीय संघ ध्वंस्यशील राज्यों का अविनाशी संघ है। निम्नलिखित देशों में से कौन सा अविनाशी राज्यों से निर्मित एक अविनाशी संघ है?

- A) United Kingdom / यूनाइटेड किंगडम
- B) United States of America / संयुक्त राज्य अमेरिका
- C) Germany / जर्मनी
- D) France / फ्रांस

117) The Oath to the Union Ministers is administered by the / केंद्रीय मंत्रियों को शपथ इनमें से किसके द्वारा दिलवाई जाती है?

- A) Chief Justice of India / भारत के मुख्य न्यायाधीश
- B) Lok Sabha Speaker / लोकसभा अध्यक्ष
- C) President / राष्ट्रपति
- D) Rajya Sabha Chairman / राज्यसभा के सभापति

118) When copper articles are kept in open for long, they turn green because of formation of: / जब ताँबे की वस्तुएं लंबे समय के लिए खुले में रखी जाती हैं, वे किस कारण से हरी हो जाती हैं:

- A) Basic copper oxide / बेसिक कॉपर ऑक्साइड
- B) Basic copper hydroxide / बेसिक कॉपर हाइड्रॉक्साइड
- C) Basic copper carbonate / बेसिक कॉपर कार्बोनेट
- D) Basic copper sulphide / बेसिक कॉपर सल्फाइड

119) A metal essential for smooth functioning of our nervous system and whose main source is sea- water is / हमारे तंत्रिका तंत्र की सहज कार्यात्मकता के लिए आवश्यक धातु और जिसका मुख्य स्रोत समुद्री जल है, यह निम्न में से कौन सा है?

- A) Magnesium / मैग्नेशियम
- B) Zinc / जिंक
- C) Sodium / सोडियम
- D) Iron / लोहा

120) To which state is the dance form named "Nati" related to? / "नाटी" नामक नृत्य शैली कौन से राज्य से संबंधित है?

- A) Jammu-Kashmir / जम्मू-कश्मीर
- B) Jharkhand / झारखंड
- C) Himachal Pradesh / हिमाचल प्रदेश
- D) Haryana / हरियाणा

Section 3 - PART C

No. of Questions: 60

121) Identify the antonym of the underlined word:

The straight road leads to the forest.

- A) long
- B) short
- C) crooked
- D) uneven

122) Identify the antonym of the underlined word:

We walked forward in the darkness.

- A) backward
- B) fast
- C) further
- D) ahead

123) Fill in the blanks with correct option:

We stayed _____ Singapore for one week.

- A) at
- B) in
- C) to
- D) inside

124) Fill in the blanks with correct option:

The students came to the professor _____ guidance.

- A) by
- B) with
- C) for
- D) to

125) Fill in the blanks with the correct option:

When you arrive, I _____ at the airport.

- A) have waited
 - B) shall be waiting
 - C) shall wait
 - D) will wait
-

126) Identify the Simple sentence from the following options:

- A) If you are late, you will miss the show.
 - B) Rohan is a professional dancer.
 - C) He regretted that he had acted rudely.
 - D) You have to pay the bill, or return the goods.
-

127) Identify the simple sentence:

- A) She grabbed the child's hand and ran.
 - B) He grabbed at the branch, missed and fell.
 - C) Jim grabbed a cake from the plate.
 - D) I managed to grab a couple of hours' sleep on the plane before I landed.
-

128) Identify the antonym of the underlined word:

He confided in his friend about his financial crisis.

- A) buddy
 - B) mate
 - C) acquaintance
 - D) foe
-

129) Choose the Pronoun in the given sentence:

The children were arguing among themselves.

- A) among
 - B) were
 - C) arguing
 - D) themselves
-

130) Fill in the blanks with the correct option:

You would be better attired for the interview, if you _____ a suit.

- A) should wear
 - B) had worn
 - C) wore
 - D) wear
-

131) Choose the correct option to complete the sentence:

We need to _____ up the freezer.

- A) plough
 - B) stock
 - C) limp
 - D) stuff
-

132) Identify the correct synonym of the underlined word:

He felt very heavy and sluggish after the meal.

- A) Active
 - B) Nostalgic
 - C) Lethargic
 - D) Elated
-

133) Identify the error in the following sentence. The error, if any, will be in one part of the sentence, the number of that part is your answer. If there is no error, mark your answer as (D). (A) Computer skills / (B) makes you far / (C) more employable. / (D) No Error.

- A) C
 - B) D
 - C) B
 - D) A
-

134) Choose the Noun in the given sentence:

Several planes were shot down by enemy fire.

- A) down
 - B) several
 - C) enemy
 - D) were
-

135) Read the sentence carefully and select the underlined part that is incorrect:

When her sister won the student body election in her senior year, it immediately established herself as one of the most influential students in her class.

- A) as one
 - B) most influential
 - C) it
 - D) immediately established
-

136) Choose the correct meaning of the phrase / idiom underlined in the sentence:

At the political rally ,the crowd got out of hand and there was almost a riot.

- A) out of reach
 - B) out of control
 - C) angry
 - D) frustrated
-

137) Identify the correct synonym of the underlined word:

Please resume what you were doing.

- A) Hasten
 - B) Continue
 - C) Refuse
 - D) Return
-

138) Choose the correct meaning of the phrase / idiom underlined in the sentence:

Uniform civil code is a burning question of the day.

- A) an annoying question
 - B) a hotly debated question
 - C) a puzzling question
 - D) a difficult problem
-

139) Choose the correct option to complete the sentence:

Vegetarians have an _____ for eating meat.

- A) affection
 - B) enthusiasm
 - C) attraction
 - D) aversion
-

140) Fill in the blanks with the correct option:

Satyavathi agreed to marry him on ____ condition; ____ King agreed to it with ____ heavy heart.

- A) a, a, an
- B) a, the, a
- C) an, the, a
- D) a, an, the

141) Fill in the blanks with correct option:

We sat _____ the shade of a beach umbrella.

- A) under
 - B) on
 - C) near
 - D) below
-

142) Fill in the blanks with the correct verb:

The computer screen _____ eighty characters per line.

- A) have displayed
 - B) displays
 - C) display
 - D) displaying
-

143) Change the complex sentence into a compound sentence:

The house which is very old needs immediate repairs.

- A) As the house needs immediate repairs it is very old.
 - B) Unless the house is very old it needs immediate repairs.
 - C) The house is very old and it needs immediate repairs.
 - D) The house that is very old needs immediate repairs.
-

144) Fill in the blanks with the correct form of verb:

They _____ me that they probably wouldn't be coming.

- A) tells
- B) told
- C) tell
- D) telling

145) Fill in the blanks with the correct verb:

The tests _____ identical to those carried out last year.

- A) is
 - B) was
 - C) are
 - D) has been
-

146) Choose the Noun in the given sentence:

She is a person who hates to make mistakes.

- A) mistakes
 - B) hates
 - C) who
 - D) is
-

147) Identify the meaning of the underlined phrase/idiom:

He was found guilty, but he got off easy.

- A) light sentence
 - B) imprisonment
 - C) life imprisonment
 - D) heavy sentence
-

148) Fill in the blanks with the correct option:

The Ramans _____ in the east

- A) lived
 - B) live
 - C) living
 - D) lives
-

149) Fill in the blanks with the correct option:

He made a study of Shakespeare as _____ playwright and as man.

- A) the
 - B) no article
 - C) a
 - D) an
-

150) Choose the correct form of the verb in brackets:

I (work) last night when you called.

- A) have worked
 - B) worked
 - C) was working
 - D) will work
-

151) Fill in the blanks with the correct verb:

Tom _____ a wide circle of friends and acquaintances.

- A) having
 - B) has
 - C) have
 - D) were having
-

152) Identify the correct synonym: Dither

- A) Act
- B) Agitation
- C) Exaggerate
- D) Fight

153) Fill in the blanks with the correct option:

One night, a thief broke into _____ rich merchant's house and shocked all _____ villagers.

- A) a, the
- B) the, a
- C) a, an
- D) an, a

154) Fill in the blanks with correct option:

The accident occurred subsequent _____ my departure.

- A) in
- B) for
- C) on
- D) to

155) Fill in the blanks with the correct option:

The teachers asked the students to _____ hands.

- A) shaken
- B) shake
- C) shakes
- D) shook

156) Fill in the blanks with correct option:

He touched _____ the subject in his speech.

- A) in
- B) upon
- C) with
- D) for

149) Fill in the blanks with the correct option:

He made a study of Shakespeare as _____ playwright and as man.

- A) the
 - B) no article
 - C) a
 - D) an
-

150) Choose the correct form of the verb in brackets:

I (work) last night when you called.

- A) have worked
 - B) worked
 - C) was working
 - D) will work
-

151) Fill in the blanks with the correct verb:

Tom _____ a wide circle of friends and acquaintances.

- A) having
 - B) has
 - C) have
 - D) were having
-

152) Identify the correct synonym: Dither

- A) Act
 - B) Agitation
 - C) Exaggerate
 - D) Fight
-

157) Change the given sentence into a complex sentence:

The girl near me is my friend Deepa.

- A) The girl near me is Deepa, my friend.
 - B) The girl near me is my friend, whose name is Deepa.
 - C) The girl close to me is my friend Deepa.
 - D) My friend Deepa is the girl near me.
-

158) Choose the word that is spelt correctly and fill the blanks:

We have to believe in an _____ power who runs this world.

- A) omniscent
 - B) omniscient
 - C) omnescent
 - D) omnicient
-

159) Fill in the blanks with the correct option: She was primarily _____ scientist.

- A) an
 - B) No article required.
 - C) a
 - D) the
-

160) Choose the word that is spelt correctly and fill the blanks:

The car was driven by a _____.

- A) chauffeur
- B) chauffer
- C) cheuffar
- D) chaufaur

161) Identify the correct synonym; Industrious

- A) Diligent
 - B) Patience
 - C) Competence
 - D) Intelligence
-

162) Fill in the blanks with the correct option:

How _____ kilograms of rice do you want?

- A) many
 - B) some
 - C) much
 - D) any
-

163) Fill in the blanks with the correct option:

She has five other hats _____ the one she is wearing now.

- A) between
 - B) besides
 - C) after
 - D) beneath
-

164) Fill in the blanks with the correct form of verb: Their efforts _____ painful to watch.

- A) were
- B) was
- C) has been
- D) is

165) Choose the correct form of the verb in brackets:

Mira said that she (complete) the work.

- A) had completed
 - B) completed
 - C) will be completing
 - D) has completed
-

166) Choose the word that is spelt correctly and fill the blanks:

The farmers found it _____ to repair their thatched roofs before the monsoons set in.

- A) neccesary
 - B) necessary
 - C) necesary
 - D) nessecary
-

167) Identify the correct synonym of the underlined word:

The waiter was furious at being given such a paltry tip.

- A) Trivial
 - B) Major
 - C) Grand
 - D) Worthy
-

168) Choose the word that is spelt correctly and fill the blanks:

Her mother gave her a list of grocery items and some _____ things to be brought from the market.

- A) miscalleneous
- B) miscelanous
- C) miscellaneous
- D) missallanous

169) Identify the antonym of the underlined word: He was dejected when he heard the news.

- A) elated
 - B) depressed
 - C) gleeful
 - D) impressed
-

170) Complete the sentence with a possessive pronoun:

My drawing is better than _____.

- A) that
 - B) yours
 - C) those
 - D) mine
-

171) Identify the correct synonym: Stutter

- A) Promote
 - B) React
 - C) Recover
 - D) Stammer
-

172) Fill in the blanks with the correct option.

We _____ the tickets for the movies.

- A) books
- B) book
- C) booked
- D) booking

173) Identify the antonym of the underlined word:

The heart surgery was done by a competent surgeon.

- A) capable
 - B) unqualified
 - C) eminent
 - D) clever
-

174) Read the sentence carefully and select the underlined part that is incorrect:

The extraordinary attention to detail needed by pilots in flight are essential to their survival.

- A) are essential
 - B) to detail
 - C) to
 - D) their
-

175) Read the sentence carefully and select the underlined part that is incorrect:

The range of electric cars has always been smaller than gasoline-powered cars.

- A) gasoline-powered
 - B) has always been
 - C) smaller
 - D) of
-

176) Identify the antonym of the underlined word:

After two films his popularity began to dwindle

- A) decrease
- B) abate
- C) increase
- D) exaggerate

177) Choose the correct option to complete the sentence:

After the accident they found him lying _____ on the road.

- A) immobile
 - B) calm
 - C) erect
 - D) comfortable
-

178) Choose the correct option to complete the sentence:

_____ the power cuts, the hospital continued to function normally.

- A) Despite of
 - B) Despite
 - C) Instead of
 - D) Inspite
-

179) Identify the meaning of the underlined phrase/idiom:

The ministers put their heads together to formulate new schemes.

- A) compiled
 - B) consulted
 - C) concerted
 - D) concluded
-

180) Fill in the blanks with the correct option:

There is _____ food in the house.

- A) a few
- B) a little
- C) few
- D) little

		Question Paper No:	31554_43

Answer Key

1. A	21. A	41. C
2. B	22. A	42. C
3. A	23. B	43. C
4. A	24. B	44. C
5. C	25. C	45. B
6. B	26. C	46. A
7. B	27. D	47. C
8. C	28. C	48. A
9. B	29. B	49. B
10. C	30. C	50. C
11. D	31. B	51. B
12. B	32. A	52. A
13. D	33. C	53. B
14. C	34. B	54. B
15. D	35. A	55. D
16. D	36. C	56. A
17. B	37. B	57. A
18. B	38. C	58. B
19. D	39. A	59. A
20. D	40. D	60. D

61. B	85. A	109. B
62. D	86. B	110. B
63. B	87. C	111. D
64. D	88. A	112. A
65. B	89. A	113. A
66. C	90. B	114. C
67. B	91. B	115. C
68. D	92. A	116. B
69. C	93. A	117. C
70. A	94. A	118. C
71. D	95. D	119. C
72. B	96. A	120. C
73. B	97. A	121. C
74. B	98. B	122. A
75. B	99. D	123. B
76. B	100. D	124. C
77. B	101. C	125. B
78. A	102. C	126. B
79. A	103. C	127. C
80. A	104. C	128. D
81. B	105. D	129. D
82. B	106. A	130. C
83. D	107. B	131. B
84. D	108. B	132. C

133. C	150. C	167. A
134. C	151. B	168. C
135. C	152. B	169. A
136. B	153. A	170. B
137. B	154. D	171. D
138. B	155. B	172. C
139. D	156. B	173. B
140. B	157. B	174. A
141. A	158. B	175. A
142. B	159. C	176. C
143. C	160. A	177. A
144. B	161. A	178. B
145. C	162. A	179. B
146. A	163. B	180. D
147. A	164. A	
148. B	165. A	
149. B	166. B	

Section 1 - PART A

No. of Questions: 60

1) Which would be the first term of the given sequence that would have 6 in its ten thousands place: 4, 25, 64, 121, 196, ? / दी गई श्रंखला में वो पहली संख्या कौन सी होगी जिसमें उसके दस हजारवें स्थान में 6 होगा: 4, 25, 64, 121, 196, ?

- A) 82nd / 82वें
- B) 80th / 80वें
- C) 79th / 79वें
- D) 81th / 81वें

2) If in a certain code language, "VOICE" is written as "54", then how will "BOTTLE" be written in that language? / यदि एक निश्चित कूट-भाषा में "VOICE" को "54" के रूप में लिखा जाता है, तो उस भाषा में "BOTTLE" को कैसे लिखा जाएगा?

- A) 71
- B) 75
- C) 70
- D) 74

3) If numbers from 1 to 6 are written on 6 faces of a dice, then which of these cannot be the sum of numbers written on opposite faces? / यदि 1 से 6 तक की संख्या एक पासे के 6 फलक पर लिखे जाते हैं तो, इन में से कौन सा विपरीत फलक पर लिखे गए संख्याओं का योग नहीं हो सकता?

- A) 6
- B) 2
- C) 3
- D) 7

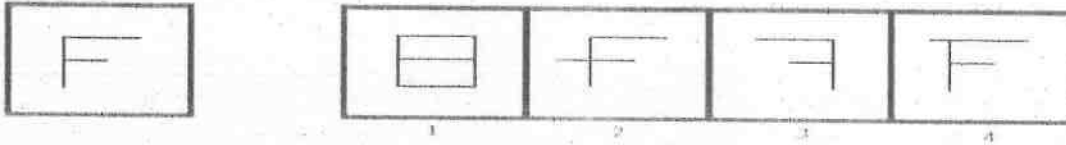
4) In how many different sets can the given set be classified if classification is done on the basis of number of unique alphabets in term: (BRICK, LOVELY, CREATE, EVEN, EVERY)? / कितने विभिन्न समुच्चयों में दिए गए समुच्चय को वर्गीकृत किया जा सकता है यदि वर्गीकरण निम्नलिखित पद में अनोखे वर्णों की संख्या के आधार पर किया जाता है: (BRICK, LOVELY, CREATE, EVEN, EVERY)?

- A) 2
- B) 5
- C) 4
- D) 3

5) If "PAT" is written as 231, "TON" is 536 and "NPR" is written as 186, then what is code for "NT"? / यदि "PAT" को 231 के रूप में लिखा जाता है, "TON" को 536 के रूप में और "NPR" को 186 के रूप में लिखा जाता है, तो "NT" का कूट क्या है?

- A) 26
- B) 36
- C) 81
- D) 13

6) A figure is given on the left with a pattern. In which of the four images on the right we CANNOT find this pattern as a part of that image? / बाईं ओर एक पैटर्न के साथ एक चित्र दी गई है। दाईं ओर की चार चित्रों में से किन्हीं में हमें उस चित्र के हिस्से के रूप में यह पैटर्न नहीं मिल सकता?



- A) 3
- B) 1
- C) 4
- D) 2

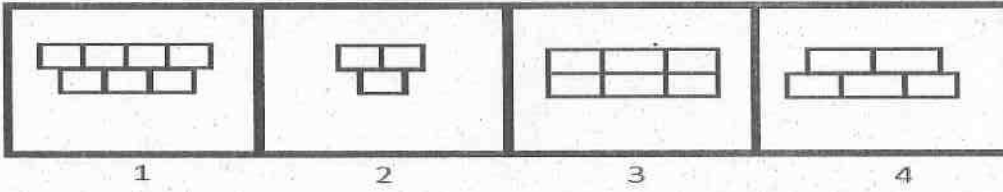
7) Among the given four options, three are related in a way. Select the option that is odd one out. / दिए गए चार विकल्पों में, तीन एक निश्चित तरीके से संबंधित हैं। उस विकल्प का चयन करें जो उनमें भिन्न है।

- A) 343
- B) 125
- C) 1001
- D) 729

8) Find the option that is not similar to the elements in the given set: (25YZ, 21UV, 11KL, 13MN). / उस विकल्प को ज्ञात करें जो दिए गए सेट के तत्वों के समान नहीं है: (25YZ, 21UV, 11KL, 13MN)

- A) 18RT
- B) 10JK
- C) 20TU
- D) 16PQ

9) Among the given group of 4 images, which set of images can be classified as a group? / दिए गए 4 चित्रों में से, चित्रों के किस समुच्चय को एक समूह में वर्गीकृत किया जा सकता है?



- A) (1, 2, 3)
- B) (2, 3, 4)
- C) (1, 2, 4)
- D) (1, 3, 4)

10) If Chintu is 135% fatter than Gopal, then Gopal is thinner than Chintu by / यदि चिंटू गोपाल से 135% मोटा है तो गोपाल चिंटू से कितना पतला है?

- A) 52%
- B) 37%
- C) 57%
- D) 25%

11) A point P outside a circle is taken. Two lines from P are drawn to circle such that both lines pass through the centre. Which of the following is true? / एक वृत्त के बाहर एक बिंदु P दिया गया है। P से वृत्त तक दो रेखाएं ऐसे खींची गई हैं कि दोनों रेखाएं केन्द्र से पारित होती हैं। निम्न में से कौन सा सही है?

- A) Both lines intersect circle in three points / दोनों रेखाएं तीन बिंदुओं में वृत्त को प्रतिच्छेदित करती हैं?
- B) Radius of circle is less than 2 cm / वृत्त की त्रिज्या 2 सेमी से कम है
- C) Point P is at a distance from centre that is equal to twice the radius / बिंदु P केन्द्र से त्रिज्या के दोगुने के बराबर दूरी पर है
- D) Both lines are coincident / दोनों रेखाएं सन्निपतित हैं

12) Three out of the given four items are similar. Find the odd one. / दिए गए चार आयटमों में से तीन एक जैसे हैं। भिन्न आयटम की पहचान करें

- A) V
- B) U
- C) S
- D) T

13) There are three words given here. The first two words are related in a certain manner. Select the proper word among the given four alternatives which bears the same relationship with the third word as in the manner first and second words are related.

Terrestrial : Earth :: Jovian : _____ /

यहाँ तीन शब्द दिए गए हैं। पहले दो शब्द एक निश्चित तरीके से संबंधित हैं। दिए गए चार विकल्पों में से उस उचित शब्द का चयन करें जो तीसरे शब्द के साथ उसी प्रकार से संबंधित हो जिस तरीके से पहला और दूसरा शब्द संबंधित हैं।

टेरेस्ट्रियल : पृथ्वी :: जोवियन : _____

- A) Mars / मंगल
- B) Mercury / बुध
- C) Venus / शुक्र
- D) Saturn / शनि

14) There are five members in a family viz Neeta, Geeta, Rita, Tina and Sita. Neeta is half the age of Geeta and thrice the age of Rita. Sita is younger than Tina by 3 years. Tina is 8 years younger than Neeta and Sita is 16 year old studying in class X. If all of them stand in ascending order of their ages, then the arrangement will be: / एक परिवार में पाँच सदस्य हैं नामशः नीता, गीता, रीटा, टीना और सीता। नीता का उम्र गीता के उम्र का आधा है और रीटा के उम्र का तिगुना है। सीता, टीना की तुलना में 3 साल छोटी है। टीना, नीता से 8 साल छोटी है और सीता का उम्र 16 साल है और वह दसवीं कक्षा में पढ़ रही है। अगर सभी अपने उम्र के आरोही क्रम में खड़े हैं, तो अरेन्जमेंट (क्रम से स्थापन) क्या होगा?

- A) Sita < Geeta < Tina < Neeta < Rita / सीता < गीता < टीना < नीता < रीटा
- B) Rita < Sita < Tina < Geeta < Neeta / रीटा < सीता < टीना < गीता < नीता
- C) Rita < Geeta < Tina < Neeta < Sita / रीटा < गीता < टीना < नीता < सीता
- D) Rita < Sita < Tina < Neeta < Geeta / रीटा < सीता < टीना < नीता < गीता

15) Three of the four following words belong to the same group or class in a certain manner. Find the odd one out. /

निम्नलिखित चार शब्दों में से तीन एक निश्चित तरीके से एक ही समूह या वर्ग से संबंधित हैं। विषम का ज्ञात करें।

- A) Vietnam / वियतनाम
- B) Chile / चिली
- C) China / चीन
- D) Laos / लाओस

16) Three out of the given four items are similar. Find the odd one. / दिए गए चार पदों में से तीन एक जैसे हैं। भिन्न पद की पहचान करें।

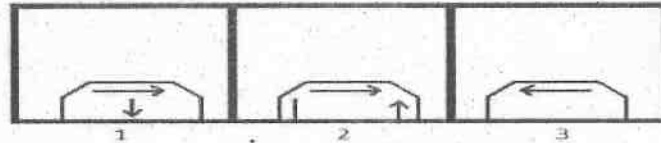
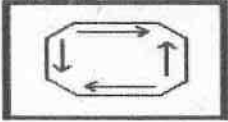
- A) 121
- B) 131
- C) 141
- D) 111

17) Four similar looking patterns are given. Observe closely and find which of them are actually different. (34178563,

34187563, 34178563, 34178563) / चार एक जैसे दिखने वाले पैटर्न दिए गए हैं। ध्यान पूर्वक देखिए और पता लगाइए कि उनमें से कौन वास्तव में भिन्न है। (34178563, 34187563, 34178563, 34178563)

- A) Fourth and Third / चौथा और तीसरा
- B) All are similar / सभी समान हैं
- C) Second and Fourth / दूसरा और चौथा
- D) First and Third / पहला और तीसरा

18) Given below is a figure on the left with a pattern. Observe and find which of the three images on the right looks similar to the top half of this pattern? / नीचे एक पैटर्न के साथ बाईं ओर एक आकृति दी गई है। ध्यान से देखें और बताएँ कि दाईं ओर की तीन में से कौन सा एक चित्र इस पैटर्न के शीर्ष अर्ध जैसा दिखता है?



- A) 2
- B) 1
- C) Both 1 and 2 / दोनों 1 और 2
- D) 3

19) There are three words given here. The first two words are related in a certain manner. Select the proper word among the given four alternatives which bears the same relationship with the third word as in the manner first and second words are related.

Neurologist : Brain :: Gastroenterologist : _____ /

यहाँ तीन शब्द दिए गए हैं। पहले दो शब्द एक निश्चित तरीके से संबंधित हैं। दिए गए चार विकल्पों में से उस उचित शब्द का चयन करें जो तीसरे शब्द के साथ उसी प्रकार से संबंधित हो जिस तरीके से पहला और दूसरा शब्द संबंधित हैं।

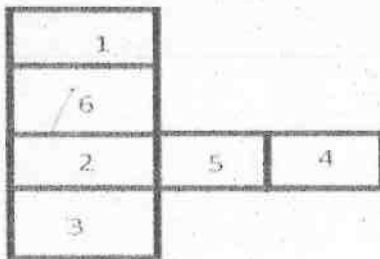
न्यूरोलॉजिस्ट : मस्तिष्क :: गैस्ट्रोएन्टेरोलॉजिस्ट : _____

- A) Kidney / गुर्दा
- B) Liver / जिगर
- C) Bones / हड्डियाँ
- D) Eyes / आँखें

20) P and Q can do a piece of work in 6 days, S and Q in 8 days and P and S in 10 days. P alone can do it in / P और Q एक काम को 6 दिन में कर सकते हैं, S और Q 8 दिन में और P और S 10 दिन में कर सकते हैं। P अकेले इसे कितने समय में करेगा?

- A) 330 / 19 days / 330 / 19 दिन
- B) 410 / 13 days / 410 / 13 दिन
- C) 319 / 5 days / 319 / 5 दिन
- D) 240 / 17 days / 240 / 17 दिन

21) Below is given an opened up dice. Which of these pairs of numbers will be on opposite faces? / नीचे एक खुला पासा (डाइस) दिया गया है। इनमें से संख्याओं की कौन सी जोड़ी विपरीत पक्षों पर होगी?



- A) 1 and 3 / 1 और 3
- B) 4 and 6 / 4 और 6
- C) 3 and 6 / 3 और 6
- D) 2 and 3 / 2 और 3

Following are the conditions for selecting assistant-engineer in a Software Firm. The candidate must:

- (i) be a graduate in mechanical engineering with atleast 70% marks.
- (ii) be a post-graduate with 75% marks.
- (iii) have a work experience of 3 years post qualification.
- (iv) have secured atleast 80% in the selection interview.

In the case of a candidate who satisfies all the conditions:

- (A) EXCEPT (i) above, but has work experience of 5 years after post-graduation, then the case may be referred to General Manager.
- (B) EXCEPT (ii) above, but has experience of 7 years or more after post-graduation, then the case may be referred to Vice-President.
- (C) EXCEPT (iv) above, but has more than 90% in Class X, then the case may be referred to President.

Based on the above information and criteria given in each of the following questions, you have to take decision. These cases are given to you as on 1st November, 2016.

निम्नलिखित एक सॉफ्टवेयर कंपनी में सहायक-इंजीनियर के चयन के लिए शर्तें हैं। उम्मीदवार को:

- (i) कम से कम 70% अंकों के साथ मैकेनिकल इंजीनियरिंग में एक ग्रेजुएट होना चाहिए।
- (ii) 75% अंकों के साथ एक पोस्ट-ग्रेजुएट होना चाहिए।
- (iii) क्वालिफिकेशन के बाद 3 साल का कार्यानुभव होना चाहिए।
- (iv) सेलेक्शन इंटरव्यू में कम से कम 80% हासिल किया होना चाहिए।

अगर एक उम्मीदवार सभी शर्तों को पूरा करता है:

- (A) सिवाय उपरोक्त (i) के, लेकिन पोस्ट-ग्रेजुएशन के बाद 5 साल का कार्यानुभव है तो, मामला महाप्रबंधक को भेजा जाए।
- (B) सिवाय उपरोक्त (ii) के, लेकिन पोस्ट-ग्रेजुएशन के बाद 7 या उससे अधिक साल का कार्यानुभव है तो, मामला उपाध्यक्ष को भेजा जाए।
- (C) सिवाय उपरोक्त (iv) के, लेकिन दसवीं कक्षा में 90% से अधिक है तो, मामला अध्यक्ष को भेजा जाए।

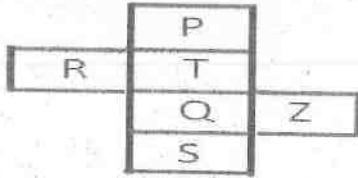
उपरोक्त जानकारी और नीचे दिए गए प्रत्येक प्रश्न में दिए गए मापदंडों के आधार पर आपको निर्णय लेना होगा। ए सभी मामले आपको नवंबर 1, 2016 की तारीख को दिए गए हैं।

22) Madhu Akolkar secured 71% in mechanical engineering and 77% in post graduation. She scored 90% in selection interview. Madhu is a fresher searching for a suitable job. She should be :

/ मधु अकोलकर ने मैकेनिकल इंजीनियरिंग में 71% और पोस्ट-ग्रेजुएशन में 77% हासिल किया है। उसने सेलेक्शन इंटरव्यू में 90% प्राप्त किए। मधु एक उपयुक्त नौकरी खोज रही एक नवसिखुआ है। उसे

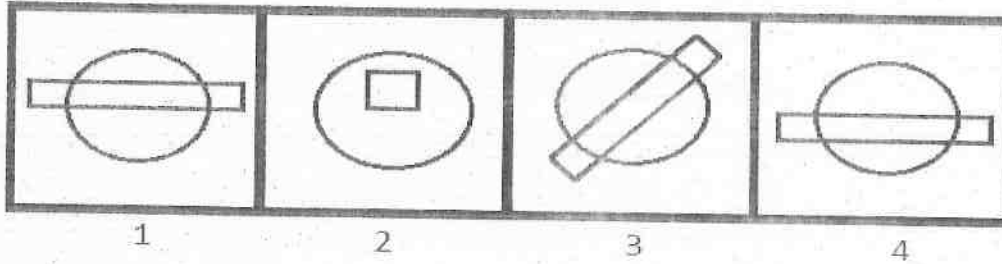
- A) referred to President. / अध्यक्ष के पास भेजा जाना चाहिए
- B) referred to Vice-President / उपाध्यक्ष के पास भेजा जाना चाहिए
- C) rejected / नहीं चुना जाना चाहिए
- D) selected / चुना जाना चाहिए

23) A dice is opened up to represent its faces in a single view together. What alphabet would be there opposite to T on the dice? / एक साथ एक ही दृश्य में अपने पक्षों को प्रस्तुत करने के लिए एक पासा (डाइस) खुला हुआ है। पासे पर T के विपरीत कौन सा वर्ण होगा?



- A) S
- B) P
- C) Z
- D) R

24) Among the given group of 4 images, which set of images can be classified as a group? / दिए गए 4 चित्रों में से, चित्रों के किस समुच्चय को एक समूह में वर्गीकृत किया जा सकता है?



- A) (1, 2, 3)
- B) (1, 2, 4)
- C) (1, 3, 4)
- D) (2, 3, 4)

For admission in College for MCA course, the following conditions apply. The applicant should:

- (i) be less than 30 year of age as on 11-11-2016.
- (ii) be a graduate in Computer Applications (BCA) with atleast 86% marks.
- (iii) have scored atleast 85% marks in the Common Entrance Test (CET).
- (iv) have scored atleast 65% marks in the interview.

In the case of a candidate who satisfies all the conditions:

- (a) If NOT (ii), but has a work experience of atleast 2 years and graduation score more than 70%, then be considered for admission in 2nd shift.
- (b) If NOT (iii), but has scored more than 60% in Common Entrance Test and more than 90% marks in class XII, then be considered for admission in night (shift) college.

In each of the questions below information of a candidate is given. You have to take one of the following four decisions based on the information provided and the conditions given above.

All the cases are given to you as on 11-11-2016. You have to indicate your decision by marking answers to each questions.

एक कॉलेज में MCA कोर्स के दाखिले के लिए, निम्न शर्तें लागू होती हैं। आवेदक:

- (i) की आयु 11-11-2016 की तारीख को 30 साल से कम होनी चाहिए।
 - (ii) को कम से कम 86% अंकों के साथ बैचलर आफ कंप्यूटर एप्लीकेशन (BCA) में ग्रेजुएट होना चाहिए।
 - (iii) को कॉमन एंट्रेंस टेस्ट (CET) में कम से कम 85% अंक प्राप्त किया होनी चाहिए।
 - (iv) को इंटरव्यू में कम से कम 65% अंक प्राप्त किया होना चाहिए। अगर एक उम्मीदवार सभी शर्तों को पूरा करता है:
 - (a) सिवाय (ii) के, लेकिन कम से कम 2 साल का कार्य अनुभव है और ग्रेजुएशन स्कोर 70% से अधिक है तो, दूसरे शिफ्ट में दाखिले के लिए विचार किया जाना है।
 - (b) सिवाय (iii) के, लेकिन कॉमन एंट्रेंस टेस्ट में 60% से अधिक और बारहवीं कक्षा में 90% अंक से अधिक स्कोर किया है तो, रात (शिफ्ट) कॉलेज में दाखिले के लिए विचार किया जाना है।
- नीचे दिए गए प्रत्येक प्रश्न में एक उम्मीदवार की जानकारी दी गई है। आपको उपलब्ध कराई गई जानकारी व उपरोक्त शर्तों के आधार पर निम्नांकित चार फैसलों में से एक लेना होगा।

आपको सभी मामले 11-11-2016 की तारीख को दिए गए हैं। प्रत्येक प्रश्न के उत्तर अंकन द्वारा आपको अपना निर्णय सूचित करना होगा।

25) Candidate's Information : Arjun Reddy is a graduate in Bachelor of Computer Applications (BCA) with 78% marks. He has a work experience of 3 years in a software company. He has scored 89% marks in Common Entrance Test and 71% marks in the interview. He was born on 20-1-1988. He should be:

/ उम्मीदवार की जानकारी: अर्जुन रेड्डी बैचलर आफ कंप्यूटर एप्लीकेशन (BCA) में 78% अंकों के साथ एक ग्रेजुएट है। उसे एक सॉफ्टवेयर कंपनी में 3 साल का कार्य अनुभव है। उसने कॉमन एंट्रेंस टेस्ट में 89% अंक और इंटरव्यू में 71% अंक प्राप्त किया है। वह 20-1-1988 को पैदा हुआ था। उसे

- A) considered for admission in the 2nd shift / दूसरे शिफ्ट में दाखिले के लिए विचार किया जाना चाहिए
- B) considered for admission in the night (shift) college / रात (शिफ्ट) कॉलेज में दाखिले के लिए विचार किया जाना चाहिए
- C) admitted / दाखिला देना चाहिए
- D) not admitted / दाखिला नहीं देना चाहिए

26) A set is given, (64, 49, 81, 36, 16). The sets given in options are similar to it in a certain way EXCEPT one. Find the set that is different. / एक सेट दिया गया है (64, 49, 81, 36, 16)। सेट में दिए गए विकल्पों में से एक को छोड़कर, अन्य एक निश्चित शैली में समान हैं। उस सेट की जात करें जो अलग है।

- A) (100, 326, 576)
- B) (121, 169, 196)
- C) (225, 256, 289)
- D) (144, 361, 400)

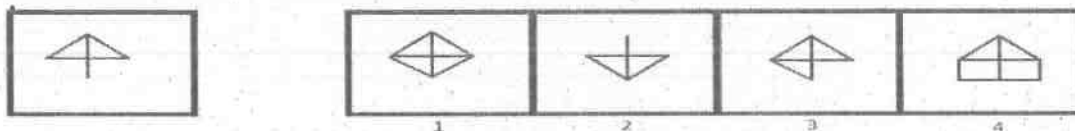
27) Find the 100th term of this sequence: 4, 3, 2, 1, 4, 3, 2, 1, 4, 3, / इस श्रृंखला की 100वीं संख्या जात करें: 4, 3, 2, 1, 4, 3, 2, 1, 4, 3, 2, 1, 4, 3,

- A) 3
- B) 4
- C) 2
- D) 1

28) A man rides 20 kmph and reaches his office 6 minutes late. The next day he increases his speed to 25 kmph and reaches office 6 minutes early. How far is his home from his office ? / एक आदमी एक सवारी पर 20 किमी प्रति घंटा की गति से जा कर अपने ऑफिस 6 मिनट की देरी से पहुँचता है। अगले दिन वह अपनी गति बढ़ा कर 25 किमी प्रति घंटा करता है और ऑफिस 6 मिनट पहले पहुँच जाता है। उसके घर की उसके ऑफिस से दूरी कितनी है?

- A) 30 km / 30 किमी
- B) 15 km / 15 किमी
- C) 20 km / 20 किमी
- D) 35 km / 35 किमी

29) A figure is given on the left with a pattern. In which of the four images on the right we CANNOT find this pattern as a part of that image? / बाईं ओर एक पैटर्न के साथ एक चित्र दी गई है। दाईं ओर की चार चित्रों में से किसमें हमें उस चित्र के हिस्से के रूप में यह पैटर्न नहीं मिल सकता?



- A) 2
B) 1
C) 3
D) 4

30) 80 litres of milk has 90% milk concentration. How much water be added to make its concentration 80% ? / 80 लीटर दूध की दुग्ध सांद्रता 90% है। इसकी सांद्रता 80% करने के लिए इसमें कितना पानी मिलाया जाना चाहिए?

- A) 8 litres / 8 लीटर
B) 28 litres / 28 लीटर
C) 24 litres / 24 लीटर
D) 10 litres / 10 लीटर

31) In a running race, Madhu finishes the race only after Dimple. Jay finishes the race only before Kiran. If there were 10 candidates in the race, what is the position of Kiran? / एक चलने वाले रेस में, मधु डिम्पल के बाद ही रेस पूरा करती है। जय किरण के पहले बाद ही रेस पूरा करता है। यदि रेस में 10 उम्मीदवार हैं, तो किरण किस स्थान पर है?

- A) 2nd / दूसरे
B) 10th / 10वें
C) 3rd / तीसरे
D) 9th / 9वें

32) If "JOY" = 150 and "ACID" = 68, then "VALID" = ? / यदि "JOY" = 150 है और "ACID" = 68 है, तो "VALID" = ?

- A) 90
B) 192
C) 240
D) 144

33) Select the option that is odd one out among the given four options. / उस विकल्प का चयन करें जो दिए गए चार विकल्पों में से भिन्न है।

- A) Genetics / आनुवंशिकी
- B) Homeostasis / समस्थापन
- C) Elasticity / लचिलता
- D) Organelle / कोशिकांग

A company decided to recruit Sales Executive trainees. The company laid down the following criteria for selecting the candidates.

- A. should be a graduate securing atleast 70% marks.
- B. should have scored 65% marks in the selection interview.
- C. should know fluent English.
- D. should have scored atleast 75% in the written test.

In the case of a candidate who satisfies all the conditions :

- (i) Except A above but has completed MBA, his/her case may be referred to the Managing Director (MD).
- (ii) Except B above but has a work experience of atleast 2 years after graduation, his/her case may be referred to the President.

Based on the above information and criteria given in each of the following questions, you have to take decision.

एक कंपनी ने बिक्री कार्यकारी प्रशिक्षुओं की भर्ती करने का फैसला किया है। कंपनी ने उम्मीदवारों के चयन के लिए निम्न मानदंड निर्धारित किए हैं।

- A. उम्मीदवार कम से कम 70% अंकों के साथ स्नातक होना चाहिए।
- B. उम्मीदवार ने चयन साक्षात्कार में 65% अंक प्राप्त किए हों।
- C. उम्मीदवार अंग्रेजी में धाराप्रवाह वक्ता होना चाहिए।
- D. उम्मीदवार ने लिखित परीक्षा में कम से कम 75% अंक प्राप्त किए हों।

इन सभी शर्तों को पूरा करने वाले उम्मीदवार के मामले में:

- (i) उपरोक्त में से A को छोड़कर, उम्मीदवार ने MBA किया है, उसके मामले को प्रबंध निदेशक (MD) को भेजा जा सकता है।
- (ii) उपरोक्त में से B को छोड़कर, उम्मीदवार के पास स्नातक स्तर की पढ़ाई के बाद कम से कम 2 वर्ष का कार्य अनुभव है, उसके मामले को राष्ट्रपति को भेजा जा सकता है।

उपरोक्त जानकारी और नीचे प्रत्येक प्रश्न में दिए मानदंडों के आधार पर, आपको निर्णय लेना है।

34) These cases are given to you as on 21st October, 2016. Ganga Patel, who is B.tech secured 86% marks in graduation and is working in a firm since 5 years. She has very good fluency in English and qualified the written test with 84% marks. She scored 93% marks in the selection interview. She should be:

/ ये मामले आपको 21 अक्टूबर, 2016 की स्थिति के अनुसार दिए गए हैं: गंगा पटेल जो एक B.tech है, उसने स्नातक में 86% अंक प्राप्त किए हैं और 5 वर्षों से एक फर्म में काम कर रही है। वह अंग्रेजी में बहुत अच्छा धाराप्रवाह वक्ता है और उसने 84% अंकों के साथ लिखित परीक्षा उत्तीर्ण की है। उसने चयन साक्षात्कार में 93% अंक प्राप्त किए हैं। तो उसको:

- A) referred to the President / राष्ट्रपति के पास भेजना चाहिए
- B) selected / चयनित करना चाहिए
- C) rejected / अस्वीकृत करना चाहिए
- D) referred to the Managing director / प्रबंधक निदेशक के पास भेजना चाहिए

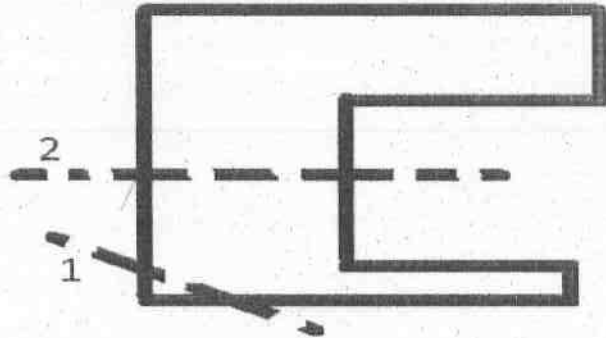
35) Rohit, Rohan and Rani are the three friends standing in a queue to pay their fees in the administrative office. Rohit stands 9th from the beginning of the queue. Rani is 14th from the end. Rohan and Rani have 4 students between them and Rohan and Rohit have 5 students between them. If Rani's position is 20th from the beginning, then Rohit's position from the end of the queue is: / रोहित, रोहन और रानी प्रशासनिक कार्यालय में अपने फीस का भुगतान करने के लिए एक कतार में खड़े तीन दोस्त हैं। रोहित कतार की शुरुआत से 9 वीं जगह पर खड़ा है। रानी अंत से 14 वीं है। रोहन और रानी के बीच 4 छात्र हैं और रोहन और रोहित के बीच 5 छात्र हैं। अगर रानी का पोजिशन शुरुआत से 20 वाँ है तो, कतार की अंत से रोहित का पोजिशन है:

- A) 26th / 26वाँ
- B) 25th / 25वाँ
- C) 30th / 30वाँ
- D) 28th / 28वाँ

36) Three out of the given four items are similar. Find the odd one. / दिए गए चार कोडों में से तीन एक जैसे हैं। भिन्न कोड की पहचान करें।

- A) O
- B) D
- C) E
- D) J

37) The paper sheet given below is folded along the given dotted line(s) in the sequence as mentioned. First fold is made along the dotted line 1, then along the dotted line 2. How many edges would the shape in the resultant paper sheet have, after the folds? / नीचे दिए गए पेपर शीट को उल्लिखित अनुक्रम में दिए गए बिन्दुओं की रेखा(ओं) के समानांतर मोड़ा जाता है। पहला मोड़ बिन्दुओं की रेखा 1 के समानांतर किया जाता है, फिर बिन्दुओं की रेखा 2 के समानांतर। मोड़ों के बाद परिणामी पेपर शीट में कितने किनारे होंगी?


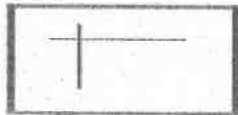


- A) 7
- B) 5
- C) 8
- D) 6

38) Pinto is the father of Pinky. Pinky is the sister of Divya's granddaughter, Jyoti. Pinto doesn't have any sibling. Divya is the grandmother of Pinky. How is Pinto's wife related to Divya? / पिंटो, पिकी का पिता है। पिकी दिव्या की पोती, ज्योति की बहन है। पिंटो का कोई भाई-बहन नहीं है। दिव्या पिकी की दादी है। पिंटो की पत्नी का दिव्या के साथ क्या रिश्ता है?

- A) Can't be determined / निर्धारित नहीं किया जा सकता
 B) Daughter / बेटी
 C) Sister / बहन
 D) Daughter-in-law / बहू

39) An image is given in the left and a set of three numbered images on the right. Observe and find which of these three images CANNOT be formed using exactly the same number of straight lines as used to form the image on the left? / एक चित्र बाईं ओर दी गई है और तीन संख्यांकित चित्रों का एक सेट दाईं ओर दिया गया है। ध्यानपूर्वक देखिए और बताइए कि इन तीन चित्रों में से किसे ठीक उतनी ही संख्या कि सरल रेखाओं के इस्तेमाल से नहीं बनाया जा सकता है, जितनी बाईं ओर की चित्र को बनाने में इस्तेमाल किया गया है?



- A) 1
 B) 3
 C) Both 1 and 2 / 1 और 2 दोनों
 D) 2

An Automobile company decided to recruit management trainees for its Manufacturing Plant. The company laid down the following criteria for selecting the candidates.

- A. should be automobile engineering graduate with minimum 60% marks.
 B. should have done atleast a diploma in automobile engineering.
 C. should be more than 21 year of age.
 D. should have scored atleast 70% in Common Entrance Test (CET).

In the case of a candidate who satisfies all the criteria:

- (i) EXCEPT (A) above, but has secured marks above 55% and below 60% and also have a working experience of 2 years, then his/her case may be referred to the Chief Executive Officer (CEO).
 (ii) EXCEPT (B) above, but has secured more than 90% in CET, then his/her case may be referred to the President.

एक ऑटोमोबाइल उद्योग ने अपने निर्माण संयंत्र के लिए प्रबंधन प्रशिक्षार्थियों को भर्ती करने का निर्णय लिया। कंपनी ने उम्मीदवारों के चयन के लिए निम्नलिखित मापदंड निर्धारित किए।

- A. कम से कम 60% अंकों के साथ ऑटोमोबाइल इंजीनियरिंग ग्रेजुएट होना चाहिए।
 B. ऑटोमोबाइल इंजीनियरिंग में कम से कम एक डिप्लोमा किया होना चाहिए।
 C. आयु 21 वर्ष से अधिक होनी चाहिए।
 D. सामान्य प्रवेश परीक्षा (CET) में कम से कम 70% प्राप्त किया होना चाहिए।

अगर एक उम्मीदवार सभी मापदंडों को पूरा करता है:

- (i) सिवाय उपरोक्त (A) के, लेकिन 55% से अधिक और 60% से कम अंक हासिल किया है और उसे 2 साल का कार्यानुभव भी है तो, उसका मामला मुख्य कार्यपालन अधिकारी (CEO) को भेजा जाएगा।
 (ii) सिवाय उपरोक्त (B) के, लेकिन CET में 90% से अधिक हासिल किया है तो, उसका मामला अध्यक्ष को भेजा जाएगा।

Based on the above information and the criteria given in each of the following questions, you have to take decision. These cases are given to you as on 1st October, 2016.

उपरोक्त जानकारी और नीचे दिए गए प्रत्येक प्रश्न में दिए गए मापदंडों के आधार पर आपको निर्णय लेना होगा। ए सभी मामले आपको अक्टूबर 1, 2016 की तारीख को दिए गए हैं।

40) Madhavi Singh is a fresher engineer, she has secured 90% marks in automobile engineering. She scored 79% marks in CET. Date of birth on her Driving license is 6-01-1991. She should be :

/ माधवी सिंह एक नवसिखुआ इंजीनियर है, उसने ऑटोमोबाइल इंजीनियरिंग में 90% अंक हासिल किया है। उसने CET में 79% अंक प्राप्त किए हैं। उसके चालन अनुज्ञप्ति पर जन्म तिथि 6-01-1991 है। उसे

- A) rejected / नहीं चुना जाना चाहिए
- B) selected / चुना जाना चाहिए
- C) referred to the President / अध्यक्ष के पास भेजा जाना चाहिए
- D) referred to the Chief Executive Officer / मुख्य कार्यपालन अधिकारी के पास भेजा जाना चाहिए

41) A dice is taken. Numbers from 1 to 6 are written on its faces. The faces with numbers 1 and 4 are adjacent to each other. Number 6 is on the face opposite to the face with number 3. Number 2 is not on the face opposite to face with number 4. Based on this information, answer the questions that follow.

Which of these numbers would be opposite to number 2?/

एक पांसा लिया जाता है। 1 से 6 तक की संख्या उसके फलक पर लिखे जाते हैं। संख्या 1 और 4 के फलक एक दूसरे के सन्निकट हैं। संख्या 6 वाला फलक संख्या 3 वाले फलक के विपरीत में है। संख्या 2, संख्या 4 वाले फलक के विपरीत फलक में नहीं है। इस जानकारी के आधार पर, नीचे दिए गए प्रश्नों के उत्तर दें।

इन संख्याओं में से कौन सी संख्या 2 के विपरीत हो सकती है?

- A) 3
- B) 1
- C) 4
- D) 5

42) A,B,C,D,E and F are the six members of the family. There are two married couples in the family. Each of them like different ice-cream flavours viz Vanilla, Mango, Butterscotch, Strawberry, Blackcurrant and Chocolate. A's wife likes Vanilla. E's daughter-in-law likes Mango. F's daughter likes Strawberry and his son likes Chocolate. If the youngest boy in the family is B, then the youngest girl doesn't seem to be D. The eldest person in the family likes Butterscotch. If all of them are arranged according (descending order) to their ages, then who will be the last female in the list ? / A, B, C, D, E और F एक परिवार के छः सदस्य हैं। परिवार में दो विवाहित जोड़े हैं। उनमें से हर एक को अलग अलग आइसक्रीम के स्वाद पसंद हैं नामशः वैनिला, मैंगो, बटरस्कोच, स्ट्रॉबेरी, ब्लैक करन्ट और चॉकलेट। A की पत्नी को वैनिला पसंद है। E की बहू को मैंगो पसंद है। F की बेटी को स्ट्रॉबेरी पसंद है और बेटे को चॉकलेट पसंद है। अगर परिवार में सबसे कम उम्र का लड़का B है तो, सबसे कम उम्र की लड़की D नहीं हो सकती है। परिवार में उम्र में सबसे बड़े व्यक्ति को बटरस्कोच पसंद है। अगर उन सभी को उनकी उम्र के हिसाब से क्रमित (अवरोही क्रम) किया जाए तो, सूची में अंतिम महिला कौन होगी?

- A) E
 B) C
 C) The one who likes mango / वो जो मैंगो पसंद करती है
 D) The one who likes Vanilla / वो जो वैनिला पसंद करती है

43) A,B,C,D,E and F are the six members of the family. There are two married couples in the family. Each of them like different ice-cream flavours viz Vanilla, Mango, Butterscotch, Strawberry, Blackcurrant and Chocolate. A's wife likes Vanilla. E's daughter-in-law likes Mango. F's daughter likes Strawberry and his son likes Chocolate. If the youngest boy in the family is B, then the youngest girl doesn't seem to be D. The eldest person in the family likes Butterscotch. If all of them are arranged according (descending order) to their ages and females are elder than their respective spouses, youngest girl is elder than the youngest boy, then who will be the 2nd male in the list? / A, B, C, D, E और F एक परिवार के छः सदस्य हैं। परिवार में दो विवाहित जोड़े हैं। उनमें से हर एक को अलग अलग आइसक्रीम के स्वाद पसंद हैं। नामशः वैनिला, मैंगो, बटरस्कोच, स्ट्रॉबेरी, ब्लैक करंट और चॉकलेट। A की पत्नी को वैनिला पसंद है। E की बहू को मैंगो पसंद है। F की बेटी को स्ट्रॉबेरी पसंद है और बेटे को चॉकलेट पसंद है। अगर परिवार में सबसे कम उम्र का लड़का B है तो, सबसे कम उम्र की लड़की D नहीं हो सकती है। परिवार में उम्र में सबसे बड़े व्यक्ति को बटरस्कोच पसंद है। अगर उन सभी को उनकी उम्र के हिसाब से क्रमित (अवरोही क्रम) किया जाए और महिलाएं अपने साथी की तुलना में उम्र में उनसे बड़ी हैं, सबसे छोटी लड़की उम्र में सबसे छोटे लड़के से बड़ी है तो, सूची में दूसरा पुरुष कौन होगा?

- A) B
 B) D
 C) F
 D) E

Following are the conditions for selection of an accounts officer in an organization.

The candidate must :

- (i) be a graduate in Commerce with atleast 65% marks.
- (ii) have knowledge of Computers.
- (iii) be less than 30 years of age.
- (iv) must have scored more than 70% in Common Entrance Test (CET).

In the case of a candidate who satisfies all the conditions :

- (A) Except (i) above, but has post qualification work experience of 3 years or more, his/her case may be referred to General Manager.
- (B) Except (iii) above, but has scored atleast 80% in CET, his/her case may be referred to Vice-President.

संगठन में खाता अधिकारी के चयन के लिए निम्न शर्तें हैं। उम्मीदवार

- (i) कम से कम 65% अंकों के साथ वाणिज्य में स्नातक होना चाहिए।
 - (ii) कंप्यूटर का ज्ञान होना चाहिए।
 - (iii) 30 वर्ष से कम आयु का होना चाहिए।
 - (iv) कॉमन एंट्रेंस टेस्ट (CET) में 70% से अधिक अंक प्राप्त होने चाहिए।
- इन सभी शर्तों को पूरा करने वाले उम्मीदवार के मामले में:
- (A) उपरोक्त में से (i) को छोड़कर, उम्मीदवार के पास अर्हता के बाद 3 या अधिक वर्षों का कार्य अनुभव है, उसके मामले को महाप्रबंधक को भेजा जा सकता है।
 - (B) उपरोक्त में से (iii) को छोड़कर, CET में कम से कम 80% अंक प्राप्त हुए हैं, उसके मामले को उपराष्ट्रपति को भेजा जा सकता है।
- उपरोक्त मानदंडों और नीचे दी गई जानकारी के आधार पर आपको निर्णय लेना है।

Based on the above criteria and the information given below, you have to take decision.

44) These cases are given to you as on 1st June, 2016. Archana Patil was born on 11-05-1991. She has secured 85% in graduation. She has good knowledge of Computers. She has scored 66% in CET. She must be:

/यह मामले 1 जून 2016 की स्थिति के अनुसार आपको दिए गए हैं: अर्चना पाटिल का जन्म 11-05-1991 को हुआ था। उसने स्नातक में 85% अंक प्राप्त किए हैं। उसे कंप्यूटर का अच्छा ज्ञान है। उसने CET में 66% अंक प्राप्त किए हैं। तो उसको:

- A) referred to the Vice-President / उपराष्ट्रपति के पास भेजना चाहिए
- B) rejected / अस्वीकृत करना चाहिए
- C) selected / चयनित करना चाहिए
- D) referred to the General Manager / महाप्रबंधक के पास भेजना चाहिए

45) A,B,C,D,E,F,G & H are the eight members of a family. A & D are the grandsons of B. H is the mother of F and wife of E. G is the grandfather of C.C & F are sisters. There are only 2 married couples in the family. If all the females are assumed as males and vice versa, then how will B be related to G? / A, B, C, D, E, F, G और H एक परिवार के आठ सदस्य हैं। A और D, B के पोते हैं। H, F की माँ और E की पत्नी है। G, C का दादा है। C और F बहनें हैं। परिवार में केवल 2 विवाहित जोड़े हैं। यदि सभी महिलाओं को पुरुष मान लिया जाए और विपरीततया तो, B, G से कैसे संबंधित होंगे?

- A) Wife / पत्नी
- B) Father / पिता
- C) Husband / पति
- D) Mother / माता

46) A training camp consists of college-going girls and boys. Number of girls is 9 times the number of boys. What could be the total strength of the camp? / एक ट्रेनिंग कैम्प में कॉलेज के लड़के और लड़कियां शामिल हैं। लड़कियों की कुल संख्या लड़कों की कुल संख्या का 9 गुना है, तो उस कैम्प में मौजूद लड़के-लड़कियों की संख्या कितनी हो सकती है?

- A) 41
- B) 101
- C) 450
- D) 93

47) Which of the given option will NOT share the same property as the elements of the given set: {Mouse, Keyboard, Printer)? / दिए गए विकल्पों में से कौन सा विकल्प उसी गुणस्वभाव को साझा नहीं करेगा जो दिए गए सेट के तत्व करते हैं: (माउस, कीबोर्ड, प्रिंटर) ?

- A) Scanner / स्कैनर
- B) Monitor / मॉनिटर
- C) Web Camera / वेब कैमरा
- D) Tennis / टेनिस

48) There are three words given here. The first two words are related in a certain manner. Select the proper word among the given four alternatives which bears the same relationship with the third word as in the manner first and second words are related.

Sericulture : silkworms :: Apiculture : ?

/ यहाँ पर तीन शब्द दिए गए हैं। पहले दो शब्द एक निश्चित शैली से संबंधित हैं। दिए गए चार विकल्पों में से उस सही शब्द का चयन करें, जो तीसरे शब्द से वैसा ही संबंध रखता हो, जैसा कि पहले और दूसरे शब्द संबंध रखते हों।

रेशम-उत्पादन : रेशम के कीड़े :: मधुमक्खी-पालन :

- A) Fish / मछली
- B) vegetables / सब्जियाँ
- C) Honey Bees / मधुमक्खियाँ
- D) Pearls / मोती

49) If 30 % of a number is subtracted from a second number, the second number reduces to its four-fifth. What is the ratio of the second number to the first number? / यदि किसी संख्या के 30% को एक दूसरी संख्या से घटाया जाता है, तब दूसरी संख्या अपने चार बटे पाँचवे हिस्से तक कम हो जाती है। तब दूसरी संख्या का पहली संख्या के साथ क्या अनुपात है?

- A) 2:5
- B) 2:3
- C) 1:2
- D) 3:2

Following are the conditions for selecting a Programmer in Firm.	फर्म में प्रोग्रामर के चयन के लिए निम्न शर्तें हैं। उम्मीदवार
The candidate must :	(i) 70% अंकों के साथ बैचलर ऑफ कंप्यूटर एप्लीकेशन (BCA) में स्नातक होना चाहिए
(i) be a graduate in Bachelor of Computers Applications (BCA) with at least 70% marks.	(ii) कम से कम 75% अंकों के साथ मास्टर इन कंप्यूटर एप्लीकेशन (MCA) में स्नातकोत्तर होना चाहिए।
(ii) have completed Master in Computer Application (MCA) with 75% marks	(iii) उसके पास अर्हता के बाद 1 वर्ष का कार्य अनुभव होना चाहिए।
(iii) have a post qualification work experience of 1 year.	(iv) 30 वर्ष से कम आयु का होना चाहिए।
(iv) be less than 30 years of age.	इन सभी शर्तों को पूरा करने वाले उम्मीदवार के मामले में:
In the case of a candidate who satisfies all the conditions :	(A) उपरोक्त में से (i) को छोड़कर, उम्मीदवार ने बारहवीं कक्षा में 80% से अधिक अंक प्राप्त किए हैं, मामले को उपराष्ट्रपति के पास भेजा जा सकता है।
(A) Except (i) above, but has scored more than 80% in Class XII, the case may be referred to the Vice President.	(B) उपरोक्त में से (ii) को छोड़कर, उम्मीदवार ने दसवीं कक्षा में 80% से अधिक अंक प्राप्त किए हैं, मामले को राष्ट्रपति के पास भेजा जा सकता है।
(B) Except (ii) above, but has scored more than 80% in Class X , the case may be referred to President.	उपरोक्त जानकारी और प्रत्येक प्रश्न में दिए मापदंडों के आधार पर, आपको निर्णय लेना है।
Based on the above information and criteria given in each of the following questions, you have to take decision.	

50) These cases are given to you as on 31st March, 2016. Yogesh Yadav is graduate in BCA, secured 81% in graduation and 70% in MCA. He scored 87% marks in Class X. He has a post qualification work experience of 4 years. He was born on 2nd of January, 1992. He should be :

/ यह मामले 31 मार्च 2016 की स्थिति के अनुसार आपको दिए गए हैं: योगेश यादव BCA में स्नातक है, उसने स्नातक में 81% अंक और MCA में 70% अंक प्राप्त किए हैं। उसने दसवीं कक्षा में 87% अंक प्राप्त किए हैं। उसके पास अर्हता के बाद 4 वर्ष का कार्य अनुभव है। उसका जन्म 2 जनवरी 1992 को हुआ था है। तो उसको:

- A) rejected / अस्वीकृत करना चाहिए
- B) referred to the President / राष्ट्रपति के पास भेजना चाहिए
- C) selected / चयनित करना चाहिए
- D) referred to the Vice-President / उपराष्ट्रपति के पास भेजना चाहिए

51) What replaces the question mark (?) in the following number series? / निम्नलिखित संख्या श्रृंखला में प्रश्न चिह्न (?) का स्थान कौन लेगा?

81, 80, 78, 75, 71, ?, 60

- A) 66
- B) 67
- C) 65
- D) 68

52) There are three words given here. The first two words are related in a certain manner. Select the proper word among the given four alternatives which bears the same relationship with the third word as in the manner first and second words are related.

Punjab : Baisakhi :: Tamil Nadu : _____ /

यहाँ तीन शब्द दिए गए हैं। पहले दो शब्द एक निश्चित तरीके से संबंधित हैं। दिए गए चार विकल्पों में से उस उचित शब्द का चयन करें जो तीसरे शब्द के साथ उसी प्रकार से संबंधित हो जिस तरीके से पहला और दूसरा शब्द संबंधित हैं।

पंजाब : बैसाखी :: तमिलनाडु : _____

- A) Pongal / पोंगल
- B) Rongali Bihu / रोंगाली बिहु
- C) Hareli / हरेली
- D) Onam / ओणम

Following are the conditions for selection of translator in various departments of the government in India. The candidate must :

- (i) be a graduate in any discipline with atleast 65% marks.
- (ii) have the ability to read, write and speak Hindi and English besides the regional language of the state to which he/she belongs.
- (iii) be less than 30 years of age.
- (iv) must have Indian Passport.

In the case of a candidate who satisfies all the conditions :

(A) EXCEPT (i) above, but has a post graduation degree, his/her case may be referred to State Employment Officer.

(B) EXCEPT (iii) above, but has experience of 3 years after post-graduation, the case may be referred to Personal assistant, State Employment Officer.

Based on the above information and criteria given in each of the following questions, you have to take decision.

These cases are given to you as on 1st September, 2016.

निम्नलिखित भारत सरकार के विभिन्न विभागों में अनुवादक के चयन के लिए शर्तें हैं। उम्मीदवार को:

- (i) कम से कम 65% अंकों के साथ किसी भी विषय में ग्रेजुएट होना चाहिए।
- (ii) अपने राज्य के क्षेत्रीय भाषा के अलावा हिंदी और अंग्रेजी पढ़ने, लिखने और बोलने की क्षमता होनी चाहिए।
- (iii) 30 वर्ष से कम आयु होना चाहिए।
- (iv) भारतीय पासपोर्ट होना आवश्यक है।

अगर एक उम्मीदवार सभी शर्तों को पूरा करता है:

(A) सिवाय उपरोक्त (i) के, लेकिन एक पोस्ट-ग्रेजुएशन की डिग्री है तो, उसके मामले को राज्य रोजगार अधिकारी को भेजा जाए।

(B) सिवाय उपरोक्त (iii) के, लेकिन पोस्ट-ग्रेजुएशन के बाद 3 साल का अनुभव है तो, मामले को निजी सहायक, राज्य रोजगार अधिकारी को भेजा जाए।

उपरोक्त जानकारी और नीचे दिए गए प्रत्येक प्रश्न में दिए गए मापदंडों के आधार पर आपको निर्णय लेना होगा।

ए सभी मामले आपको सितंबर 1, 2016 की तारीख को दिए गए हैं।

53) Prachi Kaur, who is 27 years old, belongs to Punjab and secured 59% marks in graduation and 65% in post graduation. She knows to read, write and speak Hindi, English and Punjabi. She has an Indian Passport. She must be: / प्राची कौर जिसकी आयु 27 वर्ष है, पंजाब की रहने वाली है और उसने ग्रेजुएशन में 59% अंक और पोस्ट-ग्रेजुएशन में 65% अंक हासिल किए हैं। वह हिन्दी, अंग्रेजी और पंजाबी पढ़ना, लिखना और बोलना जानती है। उसके पास भारतीय पासपोर्ट है। उसे

- A) referred to Personal Assistant, State Employment Officer / निजी सहायक, राज्य रोजगार अधिकारी के पास भेजा जाना चाहिए
- B) referred to State Employment Officer. / राज्य रोजगार अधिकारी के पास भेजा जाना चाहिए
- C) Selected / चयन करना चाहिए
- D) Rejected / चयन नहीं करना चाहिए

54) Which of the following is an appropriate number to replace the question mark (?) in the sequence given below? / निम्न में से कौन, नीचे दिए गए अनुक्रम में प्रश्न चिह्न (?) का स्थान लेने के लिए उचित संख्या है?

1, 22, 161, 810, 2433, ?

- A) 4870
- B) 4865
- C) 4868
- D) 4860

55) If 21 is coded as T441V, then 17 is coded as / यदि 21 को T441V के रूप में कूट बद्ध किया जाता है, तो 17 को कैसे कूट बद्ध किया जाएगा?

- A) P289R
- B) P289Q
- C) Q289P
- D) R289P

56) In a certain code, RSKPC is written as TVPWN, then how is DEJED written in the same code? / एक निश्चित कूट में RSKPC को TVPWN के रूप में लिखा जाता है, तो उसी कूट में DEJED को कैसे लिखा जाएगा?

- A) FJOLO
- B) FHMLP
- C) FHOLO
- D) FHOLP

57) What number should come in the place of "Y"? / "Y" के स्थान पर कौनसी संख्या आनी चाहिए?

2, 3, 4, 6, 6, 8, 24, 12, 12, 120, Y, 16, 720

- A) 12
- B) 36
- C) 18
- D) 24

58) Which of the following pairs replaces the question marks (?, ?) in the following number series? / निम्नलिखित संख्या श्रृंखला में प्रश्न चिह्नों (?, ?) का स्थान निम्नलिखित जोड़ों में से कौन लेगा?

3, 1, 5, 2, 7, 3, 11, 5, 15, 7, 21, 10, ?, ?

- A) 27, 12 respectively / क्रमशः 27, 12
- B) 28, 14 respectively / क्रमशः 28, 14
- C) 27, 13 respectively / क्रमशः 27, 13
- D) 26, 13 respectively / क्रमशः 26, 13

59) In a certain code, PKST is coded as KPNY. What will be the code of the word MOHU? / एक निश्चित कूट में PKST को KPNY के रूप में कूट बद्ध किया जाता है। शब्द MOHU का कूट क्या होगा?

- A) HSCZ
- B) SHCY
- C) HSCY
- D) HTCZ

60) Mr. Kapoor wants to arrange 159198 chairs in such a way that there are as many rows as there are chairs in each row. He may fall short of very few number of chairs in order to fulfill the special requirement. How many chairs will be there in 1st column after all the arrangements are done? / श्री कपूर 159198 कुर्सियों को इस तरह से व्यवस्थित करना चाहते हैं ताकि कतारों की उतनी ही संख्या हो जितनी हरेक कतार में कुर्सियां हो। विशेष जरूरत को पूरा करने के लिए उन्हें कुछ कुर्सियां कम पड़ सकती हैं। सभी व्यवस्था करने के बाद पहले स्तंभ में कितनी कुर्सियां होंगी?

- A) 399
- B) 297
- C) 201
- D) 197

Section 2 - PART B

No. of Questions: 60

61) "India shall have a President". Which article authenticates it? / "भारत में एक राष्ट्रपति होंगे"। इनमें से कौन सा अनुच्छेद इसकी पुष्टि करता है?

- A) 90
- B) 89
- C) 54
- D) 52

62) Vegetable cooking oil is healthy because it mainly contains / वनस्पति खाद्य तेल में क्या शामिल होने के कारण यह स्वास्थ्यवर्धक होता है?

- A) Saturated acids / संतृप्त अम्ल
- B) Saturated aldehydes / संतृप्त ऐल्डिहाइड
- C) Unsaturated aldehydes / असंतृप्त ऐल्डिहाइड
- D) Unsaturated acids / असंतृप्त अम्ल

63) The Vindhyachal Thermal Power Station is located in which state of India? / विंध्याचल थर्मल पावर स्टेशन भारत के किस राज्य में स्थित है?

- A) Maharashtra / महाराष्ट्र
- B) Bihar / बिहार
- C) Madhya Pradesh / मध्य प्रदेश
- D) Gujarat / गुजरात

64) Who among the following was NOT a prominent leader of the Congress Socialist Party? / निम्नलिखित में से कौन कांग्रेस सोशलिस्ट पार्टी के एक प्रमुख नेता नहीं थे?

- A) Jayaprakash Narayan \ जयप्रकाश नारायण
- B) Bal Gangadhar Tilak \ बाल गंगाधर तिलक
- C) Dr. Ram Manohar Lohia \ डॉ. राम मनोहर लोहिया
- D) Acharya Narendra Dev \ आचार्य नरेन्द्र देव

65) If a 100 Watts Bulb is ON for 10 hours, then what will be the amount of consumed Electricity? / यदि एक 100 वाट का बल्ब 10 घंटे के लिए जलता है, तो खपत विजली की मात्रा क्या होगी?

- A) 1000 Watts (1kW) / 1000 वाट (1 किलो वाट)
- B) 100 Watts per hour / 100 वाट प्रति घंटा
- C) 1 kWh = 1 Unit of electricity / 1 किलोवाट घंटा = 1 विजली की यूनिट
- D) 100 Watts / 100 वाट

66) Who among the following is/are awarded as the Sveriges Riksbank Prize in Economic Sciences in memory of Alfred Nobel 2016? / निम्नांकित में से किसे अल्फ्रेड नोबल की याद में बेरिंग्स रिस्कबैंक प्राइज इन इकोनॉमिक साइंसेज 2016 प्रदान किया गया?

- A) Oliver Hart and Bengt Holmström / ओलिवर हार्ट और बेंग्ट होमस्ट्रॉम
- B) Yoshinori Ohsumi / योशिनोरी ओहशुमी
- C) Juan Manuel Santos / जुआन मैनुअल सैंटोस
- D) Jean-Pierre Sauvage, Sir J. Fraser Stoddart and Bernard L. Feringa / जॉन-पिएर सॉवेज, सर जे फ्रेजर स्टोडर्ट और बर्नार्ड एल फेरिंगा

67) 'Moore's Law' is related to which of the following theories or instruments? / 'मूर की विधि' निम्न सिद्धांतों या उपकरणों में से किससे संबंधित है?

- A) Transistors / ट्रांजिस्टर
- B) DNA Sequencing / DNA अनुक्रमण
- C) Behaviour of Gases / गैसों का स्वभाव
- D) Satellite Broadcasting / सैटेलाइट प्रसारण

68) Which Indian state retained its position by being on top in literacy rate as per the census of 2011? / 2011 की जनगणना के अनुसार किस भारतीय राज्य ने साक्षरता दर में अपने शीर्ष स्थान को बनाए रखा है?

- A) Maharashtra / महाराष्ट्र
- B) Punjab / पंजाब
- C) Kerala / केरल
- D) Karnataka / कर्नाटक

69) "In terms of Article 358, an Article 19 can be suspended at times of emergencies". What is article 19? / "अनुच्छेद 358 के अनुसार, अनुच्छेद 19 आपात स्थिति के समय में स्थगित किया जा सकता है"। अनुच्छेद 19 क्या है?

- A) Right against exploitation / शोषण के विरुद्ध अधिकार
- B) Right to freedom of religion / धर्म की स्वतंत्रता का अधिकार
- C) Right to Constitutional Remedies / संवैधानिक उपचार का अधिकार
- D) Right to freedom / स्वतंत्रता का अधिकार

70) Martin Gibbs is the head of which of the following sports governing body? / मार्टिन गिब्स निम्नलिखित में से किस खेल के शामी निकाय के प्रमुख हैं?

- A) Federation Internationale des Echecs (FIDE) / फेडरेशन इंटरनेशनल डेम एच्चाक्स (FIDE)
- B) Federation Internationale de Football Association (FIFA) / फेडरेशन इंटरनेशनल डे फुटबॉल असोसिएशन (FIFA)
- C) Union Cycliste Internationale (UCI) / यूनियन साइक्लिस्ट इंटरनेशनल (UCI)
- D) National Basketball Association (NBA) / नेशनल बास्केटबॉल असोसिएशन (NBA)

71) Who of the following was declared as the Player of the Series in India - New Zealand three test cricket series, in Nov 2016? / नवंबर 2016 में, निम्न में से किसे भारत - न्यूजीलैंड तीन टेस्ट क्रिकेट श्रृंखला में प्लेयर ऑफ़ द सीरीज के रूप में घोषित किया गया था?

- A) Virat Kohli / विराट कोहली
- B) Ravindra Jadeja / रविंद्र जडेजा
- C) Ravichandran Ashwin / रविचंद्रन अश्विन
- D) Wriddhiman Saha / रिद्धिमान साहा

72) Who are the laureates of the 2016 Sakharov Prize for Freedom of Thought, the European Union's top human rights award? / विचारों की स्वतंत्रता के लिए यूरोपियन संघ के शीर्ष मानवाधिकार पुरस्कार 2016 सखारोव पुरस्कार पुरस्कृत व्यक्ति कौन हैं?

- A) Nadia Murad Basee and Lamiya Aji Bashar / नादिया मुराद बसेई और लामिया अजी बशर
- B) Aung San Suu Kyi and Malala Yousafzai / आंग सान सू की और मलाला यूसुफज़ई
- C) Anatoly Marchenko and Taslima Nasrin / अनातोली मार्चेनको और तस्लीमा नसरीन
- D) Dom Zacarias Kamwenho and Salih Mahmoud Osman / डॉम ज़कारियस कमेन्हो और सलीह महमूद उस्मान

73) In November 2016, RBI issued new series Rs. 2,000 currency notes, which is a first under the denomination, which of the following has been printed on the reverse of this new note? / नवंबर 2016 में, RBI ने रु. 2,000 मुद्रा नोटों की नई श्रृंखला जारी की, जो इस मूल्य वर्ग में सबसे पहला है, निम्न में से इस नए नोट के पीछे के भाग पर क्या मुद्रित किया गया है?

- A) Image of the Red Fort / लाल किले की छवि
- B) Economy of India / भारत की अर्थव्यवस्था
- C) Dandi March / दांडी मार्च
- D) Motif of Mangalyaan / मंगलयान का मूल भाव

74) When Lord Hanuman was crossing the ocean on his way to Lanka, his path was obstructed by sea demoness named / जब भगवान हनुमान लंका के लिए अपने रास्ते में समुद्र पार कर रहे थे, तब किस समुद्री राक्षसी ने उनका रास्ता रोका था?

- A) Kabuki / कावुकी
- B) Simhika / सिंहिका
- C) Vajrasura / वज्रासुरा
- D) Sisunaga / सिसुनागा

75) Who among the following scientists discovered Radium and Polonium? / निम्नलिखित वैज्ञानिकों में से किसने रेडियम और पोलोनियम की खोज की?

- A) Dmitri Mendeleev / डेमीट्री मेन्डेलीव
- B) Niels Bohr / नील्स बोर
- C) Marie Curie / मैरी क्यूरी
- D) Glenn Seaborg / ग्लेन सीबॉर्ग

76) Which German footballer, the World Cup's all time top scorer with 16 goals, announced his retirement in November 2016? / नवंबर 2016 में कौन से जर्मन फुटबॉलर ने अपने संन्यास की घोषणा की जो कि 16 गोल के साथ विश्व कप के अभी तक का सर्वश्रेष्ठ स्कोरर है?

- A) Bastian Schweinsteiger / बास्टियान श्वाइनस्टायगर
- B) Miroslav Klose / मिरोस्लाव क्लोसे
- C) Mario Gómez / मारियो गोमेज़
- D) Manuel Neuer / मैनुअल न्यूर

77) As per the Q4 report revealed by Akamai technologies in 2015, which country is at the topmost position in terms of internet speed? / 2015 में अकामई टेक्नोलॉजीस द्वारा अनावरित Q4 रिपोर्ट के अनुसार, कौन सा देश इंटरनेट की गति के मामले में सर्वोच्च स्थान पर है?

- A) South Korea / दक्षिण कोरिया
- B) United Kingdom / यूनाइटेड किंगडम
- C) Iran / ईरान
- D) Vietnam / वियतनाम

78) In which of the following sectors foreign direct investment (FDI) continues to be prohibited, even after the Union Government has eased FDI norms for nine sectors? / निम्नांकित में से किस सेक्टर में केंद्र सरकार द्वारा नौ सेक्टरों के लिए एफडीआई (FDI) नियमों को सुगम करने के बाद भी प्रत्यक्ष विदेशी निवेश (FDI) प्रतिबंधित है?

- A) Defence / डिफेन्स
- B) Real Estate Investment Trusts / रियल एस्टेट इन्वेस्टमेंट ट्रस्ट्स
- C) Pharmaceutical / फार्मास्युटिकल
- D) Aviation / एविएशन

79) Which among the following real estate groups of India has a branding partnership with the real estate wing of Trump Organization at Pune, and will be attending his inaugural ceremony at USA scheduled to be held in January, 2017? / भारत के निम्नलिखित रियल एस्टेट ग्रुप में से किसका पुणे में ट्रम्प संगठन के रियल एस्टेट विंग के साथ ब्रैंडिंग पार्टनरशिप है, और जो संयुक्त राज्य अमेरिका में जनवरी, 2017 में आयोजित होने वाले उनके उद्घाटन समारोह में भाग लेंगे?

- A) Kalpataru group / कल्पतरु ग्रुप
- B) Wadhwa group / वाधवा ग्रुप
- C) Runwal group / रनवाल ग्रुप
- D) Panchshil Group / पंचशील ग्रुप

80) Muga silk is produced in which of the following states of India? / मूगा रेशम का उत्पादन भारत के किस राज्य में किया जाता है?

- A) Chattisgarh / छत्तीसगढ़
- B) Assam / असम
- C) Karnataka / कर्नाटक
- D) Rajasthan / राजस्थान

81) Justice RM Lodha Committee for reforms in Cricket in India has been appointed by which of the following institutions? / भारतीय क्रिकेट में सुधारों के लिए न्यायमूर्ति आर एम लोधा समिति को किस संस्थान द्वारा नियुक्त किया गया है?

- A) Supreme Court / सर्वोच्च न्यायालय
- B) Enforcement Directorate / प्रवर्तन निदेशालय
- C) Ministry of Youth Affairs and Sports, GOI / युवा मामलों एवं खेल मंत्रालय, भारत सरकार
- D) Sports Authority of India / भारतीय खेल प्राधिकरण

82) Which town was an important trading centre of the Indus civilization? / कौन सा शहर सिंधु सभ्यता का एक महत्वपूर्ण व्यापारिक केंद्र था?

- A) Surkotada / सुरकोतडा
- B) Lothal / लोथल
- C) Chanhudaro / छन्हु-डारो
- D) Banawali / बनावली

83) Who among the following is the Union Sports Minister of India as on Oct 2016? / निम्न में से कौन अक्टूबर 2016 के अनुसार भारत के केंद्रीय खेल मंत्री हैं?

- A) Vijay Goel / विजय गोयल
- B) Anurag Thakur / अनुराग ठाकुर
- C) Piyush Goyal / पीयूष गोयल
- D) Anupriya Patel / अनुप्रिया पटेल

84) Part VI-A, which contains Fundamental Duties, was inserted in the Constitution by / भाग VI-A जिसमें मौलिक कर्तव्य शामिल हैं, किसके द्वारा संविधान में जोड़ा गया था?

- A) 44th Amendment / 44वाँ संशोधन
- B) 25th Amendment / 25वाँ संशोधन
- C) 19th Amendment / 19वाँ संशोधन
- D) 42nd Amendment / 42वीं संशोधन

85) Which of the following is the meeting place of the rivers Ramganga and Ganga? / निम्न में से कौन सा एक रामगंगा और गंगा नदियों का मिलन स्थल है?

- A) Delhi / दिल्ली
- B) Agra / आगरा
- C) Allahabad / इलाहाबाद
- D) Kannauj / कन्नौज

86) What is the total geographical area of the Lakshadweep Islands? / लक्षद्वीप द्वीपों का कुल भौगोलिक क्षेत्रफल कितना है?

- A) 52 sq km / 52 वर्गकिमी
- B) 32 sq km / 32 वर्गकिमी
- C) 72 sq km / 72 वर्गकिमी
- D) 62 sq km / 62 वर्गकिमी

87) Through which article of the Indian Constitution, Sikkim is associated with the Union. / भारतीय संविधान के किस अनुच्छेद के माध्यम से सिक्किम, संघ के साथ जुड़ा हुआ है?

- A) 1
- B) 2A / 2ए
- C) 2
- D) 3

88) Which country has won the Asian Kabaddi Championship 2016? / किस देश ने एशियाई कबड्डी चैंपियनशिप 2016 जीता?

- A) India / भारत
- B) Indonesia / इंडोनेशिया
- C) Iran / ईरान
- D) Pakistan / पाकिस्तान

89) Under which of the following ministries National Pharmaceutical Pricing Authority (NPPA) was established? / निम्नांकित में से किस मंत्रालय के अधीन नेशनल फार्मास्युटिकल प्राइसिंग ऑथोरिटी (NPPA) की स्थापना की गई थी?

- A) Ministry of AYUSH / आयुष मंत्रालय
- B) Ministry of Statistics and Programme Implementation / सांख्यिकी तथा कार्यक्रम कार्यान्वयन मंत्रालय
- C) Ministry of Chemicals and Fertilizers / रसायन तथा उर्वरक मंत्रालय
- D) Ministry of Health and Family Welfare / स्वास्थ्य तथा परिवार कल्याण मंत्रालय

90) Who is credited with the original scripting of "Panchatantra"? / "पंचतंत्र" की मूल लिखाई का श्रेय किसे दिया जाता है?

- A) Vishnu Sharma / विष्णु शर्मा
- B) Mohan Bhagwat / मोहन भागवत
- C) Tulsi Das / तुलसी दास
- D) Kalidas / कालिदास

91) The names of how many Deccan kings are mentioned in the Allahabad Pillar Inscription? / कितने डेक्कन राजाओं के नामों का उल्लेख इलाहाबाद स्तंभ शिलालेख में किया गया है?

- A) 10
- B) 6
- C) 12
- D) 15

92) The radius of curvature of a spherical mirror is 20 cm. What is its focal length? / एक गोलीय दर्पण का वक्रता त्रिज्या 20 सेंटीमीटर है। उसकी फोकस दूरी कितनी है?

- A) 40 cm / 40 सेंटीमीटर
- B) 10 cm / 10 सेंटीमीटर
- C) 20 cm / 20 सेंटीमीटर
- D) 5 cm / 5 सेंटीमीटर

93) Pierre de Coubertin medal, known as fourth medal in olympics was given to which of the following athletes in Rio 2016? / ओलंपिक में पियरे डे कोबर्टिन पदक जो ओलंपिक में चौथे पदक के रूप में जाना जाता है, निम्नलिखित एथलीटों में से किसे दिया गया था?

- A) Luz Long and Eugenio Monti / लूज लांग और यूजेनियो मोंटि
- B) Emil Zatopek / एमिल ज़टोपेक
- C) Lawrence Lemieux / लॉरेंस लेम्यु
- D) Nikki Hamblin and Abbey D'Agostino / निकी हैम्ब्लिन और ऐबी डी'एगोस्टिनो

94) Tabaqat-i-Nasiri is a famous original literary source of which period or era by Minhaj-us-Siraj? / मिनहज-उस-सिराज की तबाकत-ए-नासिरी किस काल या युग का एक प्रसिद्ध मूल साहित्य स्रोत है?

- A) Mauryas / मौर्य
- B) Kushans / कुषाण
- C) Sunga dynasty / शुंग वंश
- D) Muslim Dynasties / मुस्लिम वंश

95) Which one of the following Raga is sung early in the morning? / निम्न में से कौन सा राग भोर में (सुबह जल्दी) गाया जाता है?

- A) Kafi / काफ़ी
- B) Todi / टोड़ी
- C) Durbari Kannada / दरबारी कन्नड़
- D) Deepak / दीपक

96) Which of the following scientists discovered the HIV virus and determined that it was the cause of AIDS? / निम्नलिखित वैज्ञानिकों में से किसने HIV वायरस की खोज की और निर्धारित किया कि वह AIDS का कारण था?

- A) Felix Hoffmann and Joseph Lister / फेलिक्स हॉफमैन और जोसेफ लिस्टर
- B) Melville R. Bissell and Grand Rapids / मेलविल आर. बिसेल और ग्रेंड रेपिड्स
- C) Joseph F. Glidden and Claude Minie / जोसेफ एफ. ग्लिडेन और क्लाउड मिनि
- D) Luc Montagnier of France and Robert Gallo / फ्रांस के ल्युक मॉन्टेग्नियर और रॉबर्ट गालो

97) In which of the following states of India, are the iron ore deposits of Dalli-Rajhara found / निम्नांकित में से भारत के किस राज्य में दल्ली-राजहरा लौह अयस्क भंडार स्थित है?

- A) Bihar / बिहार
- B) Chhattisgarh / छत्तीसगढ़
- C) Rajasthan / राजस्थान
- D) Karnataka / कर्नाटक

98) The asset class money represents \ परिसंपत्ति वर्ग मुद्रा किसका प्रतिनिधित्व करती है?

- A) real assets \ अचल संपत्ति
- B) financial claims \ वित्तीय दावों
- C) commercial claims \ वाणिज्यिक दावों
- D) real wealth \ वास्तविक धन

99) The characteristics of money being converted into anything is known as \ धन की विशेषताओं को किसी भी रूप में परिवर्तित करने को क्या कहा जाता है?

- A) Acceptability- Acceptable only when it has intrinsic value \ स्वीकार्यता - स्वीकार्य केवल जब यह आंतरिक मूल्य है
- B) Constant in purchasing power \ क्रय शक्ति में निरंतरता
- C) Liquidity- The most liquid of all assets \ चल निधि - अधिकांशतः सभी चल परिसंपत्तियां
- D) Increase in purchasing power \ क्रय शक्ति में वृद्धि

100) Under the Maratha Administration Amatya or Mazumdar was a minister for which department? / मराठा शासन में अमात्य या मजूमदार किस विभाग का मंत्री होता था?

- A) Helped the king with his correspondence / अपनी संगतता से राजा की मदद करता था
- B) Minister for finance and revenue / वित्त एवं राजस्व मंत्री
- C) Was responsible for intelligence, posts and household affairs / निगरानी, डाक और घरेलू मामलों के लिए जिम्मेदार होता था
- D) Minister for justice / न्यायमंत्री

101) Which of the following is a mountain pass in the Western Ghats? / निम्नांकित में से कौन पश्चिमी घाट में स्थित एक पर्वतीय दर्रा है?

- A) Bhor Ghat / भोर घाट
- B) Shipki La / शिपकी ला
- C) Nama Pass / नाम दर्रा
- D) North Col / नॉर्थ कोल

102) Which of the following companies signed a deal with US-based Bell Helicopter to jointly develop the helicopter market in India? / निम्नांकित में से किस कंपनी ने यूएस-स्थित बेल हेलीकॉप्टर के साथ भारत में संयुक्त रूप से हेलीकॉप्टर बाजार के विकास के लिए एक सौदे पर हस्ताक्षर किया है?

- A) Hindustan Aeronautics Limited / हिंदुस्तान एरोनॉटिक्स लिमिटेड
- B) Tata Advanced Systems Limited / टाटा एडवांस्ड सिस्टम्स लिमिटेड
- C) Helicopters Gimbal / हेलीकॉप्टर्स गिम्बल
- D) Mahindra Aerospace / महिंद्रा एरोस्पेस

103) Who among the following appoints the Secretary General of Lok Sabha? / लोकसभा के महासचिव को निम्न में से कौन नियुक्त करते हैं?

- A) Speaker \ अध्यक्ष
- B) Prime minister \ प्रधानमंत्री
- C) Home Minister \ गृहमंत्री
- D) Minister for Parliamentary Affairs \ संसदीय मामलों के मंत्री

104) Identify the INCORRECT statement related to All India Muslim League. / अखिल भारतीय मुस्लिम लीग से संबंधित गलत कथन को पहचानें।

- A) Syed Ameer Ali established a branch of the League in London in 1908 / सैयद अमीर अली ने 1908 में लंदन में लीग की एक शाखा स्थापित की थी
- B) There were six vice-presidents, a secretary and two joint secretaries for a term of three years / इसमें तीन वर्ष की अवधि के लिए छह उपाध्यक्ष, एक सचिव और दो संयुक्त सचिव थे
- C) The headquarters of the All India Muslim League was established in Lucknow / अखिल भारतीय मुस्लिम लीग का मुख्यालय लखनऊ में स्थापित किया गया था
- D) Nawab Salim Ullah Khan was elected as its first president / नवाब सलीम उल्लाह खान को इसके पहले अध्यक्ष के रूप में निर्वाचित किया गया था

105) The Public Accounts Committee is headed by \ लोक लेखा समिति किसके नेतृत्व में काम करती है

- A) A Member of the opposition \ विपक्ष के एक सदस्य
- B) The Auditor General of India \ भारत के महालेखा परीक्षक
- C) The Chairman of the Rajya Sabha \ राज्य सभा के सभापति
- D) The Speaker of the Lok Sabha \ लोक सभा के अध्यक्ष

106) When was the Minimum Wages Act passed in India? / भारत में न्यूनतम वेतन अधिनियम कब पारित किया गया था?

- A) 1951
- B) 1936
- C) 1942
- D) 1948

107) Which of the following is the largest brackish water lagoon in India? / भारत की सबसे बड़ी खारे पानी की लगून कौन सी है?

- A) Wular lake / वुलर झील
- B) Chilika lake / चिल्का झील
- C) Vembanad lake / वेम्बनाड झील
- D) Loktak lake / लोकतक झील

108) Who was sworn in as the Prime Minister of Australia in July 2016? / जुलाई 2016 में किसने ऑस्ट्रेलिया के प्रधानमंत्री के रूप में शपथ ली थी?

- A) Julia Gillard / जूलिया गिलार्ड
- B) Malcolm Turnbull / मैल्कम टर्नबुल
- C) Tony Abbott / टोनी एबट्ट
- D) Kevin Rudd / केविन रूड

109) Which of the following political parties was formed before India got independence? \ आज़ादी से पहले निम्नलिखित में से किस राजनीतिक दल का गठन किया गया था?

- A) Communist Party of India \ कम्युनिस्ट पार्टी ऑफ इंडिया
- B) Bharatiya Janata Party \ भारतीय जनता पार्टी
- C) Bahujan Samaj Party \ बहुजन समाज पार्टी
- D) Telugu Desam Party \ तेलुगु देसम पार्टी

110) Identify the CORRECT reason for Bardoli Satyagraha. / बारडोली सत्याग्रह का सही कारण पहचानें।

- A) European planters forced desi farmers to grow the indigo in Eastern India, without paying right price / यूरोपीय बागान मालिक सही कीमत का भुगतान किए बिना पूर्वी भारत में इंडिगो (नील का पौधा) उगाने के लिए देशी किसानों पर दबाव डालते थे
- B) Land Revenue was increased by 22% / भू-राजस्व में 22% की वृद्धि हुई थी
- C) Hindu Zamindars (Jemnis) exploiting Muslim Moplah farmers / हिन्दू जमींदार (जमनीस) मुस्लिम मोपला किसानों का शोषण करते थे
- D) Government abolished linkhatia system and paid compensation to the farmers / सरकार ने लिखटिया प्रणाली को समाप्त कर दिया था और किसानों को मुआवजे का भुगतान किया था

111) The administrative expenses of the office of Comptroller and Auditor General of India shall be charged upon the / भारत के नियंत्रक एवं महालेखा परीक्षक कार्यालय के प्रशासनिक व्यय इनमें से कहाँ प्रभारित किए जाएंगे

- A) Jan-Dhan Scheme / जन-धन योजना
- B) Consolidated Fund of India / भारत की संवित निधि
- C) RBI Account / भारतीय रिजर्व बैंक का खाता
- D) Investors Protection Fund / निवेशक संरक्षण कोष

112) In November 2016, PM Narendra Modi inaugurated Asia's biggest man-made jungle safari in which of the following places? / नवंबर 2016 में, प्रधानमंत्री नरेंद्र मोदी ने निम्नलिखित स्थानों में से कहाँ एशिया के सबसे बड़े मानव निर्मित जंगल सफारी का उद्घाटन किया?

- A) Patna / पटना
- B) Bhopal / भोपाल
- C) Naya Raipur / नया रायपुर
- D) Allahabad / इलाहाबाद

113) The Moplah Peasants Movement was started and initiated from which region? / मोपला किसान आंदोलन को किस क्षेत्र से शुरू किया गया था?

- A) Oudh / अवध
- B) Malabar / मालाबार
- C) Champaran / चंपारण
- D) Bengal / बंगाल

114) The 'Unity and Integrity of the Nation' is a part of / राष्ट्र की एकता और अखंडता' किसका एक हिस्सा है?

- A) Justice / न्याय
- B) Equality / समानता
- C) Fraternity / बन्धुत्व
- D) Liberty / स्वतंत्रता

115) The Noble Gas which is most abundant in the atmosphere by volume is / आदर्श गैस जो आयतन के हिसाब से वायुमंडल में सबसे अधिक पाया जाता है, निम्न में से कौन सा है?

- A) Argon / आर्गन
- B) Xenon / जेनॉन
- C) Helium / हीलियम
- D) Neon / निऑन

116) A metal powder which can be used to extract silver metal from its salt solution can be / एक धातु चूर्ण जिसका इस्तेमाल सिल्वर धातु को इसके लवण घोल से निकालने में किया जा सकता है, यह निम्न में से कौन सा है?

- A) Gold / गोल्ड
- B) Potassium / पोटेशियम
- C) Aluminium / ऐल्युमीनियम
- D) Platinum / प्लैटिनम

117) Which of the following is an example of chemical change? / रासायनिक परिवर्तन का निम्न में से कौन सा एक उदाहरण है?

- A) Boiling of sugarcane juice to form sugar / चीनी बनाने के लिए गन्ने के रस को उबलना
- B) Boiling of sawdust in water / बुरादा पानी में उबलना
- C) Boiling of seawater to form salt / नमक बनाने के लिए समुद्री जल को उबलना
- D) Boiling of potato cubes in water / आलू के क्यूब्स पानी में उबलना

118) Which case is better known as the Mandal Commission case? / कौन सा मंडल आयोग मामले के रूप में बेहतर जाना जाता है?

- A) Romesh Thapar Vs State of Madras / रोमेश थापर बनाम मद्रास राज्य
- B) Indra Sawhney Vs Union of India / इन्द्रा साहनी बनाम भारतीय संघ
- C) Golaknath Vs State of Punjab / गोलकनाथ बनाम पंजाब राज्य
- D) Maneka Gandhi Vs Union of India / मेनका गाँधी बनाम भारतीय संघ

119) Which fatty acid is present in highest percentage in olive oil triacylglycerol? / ऑलिव तेल त्र्यासिलग्लिसरॉल में कौन सा फैटी एसिड सबसे अधिक प्रतिशत में मौजूद है?

- A) Palmitic acid / पामिटिक अम्ल
- B) Linoleic acid / लिनोलीक अम्ल
- C) Oleic acid / ओलीक अम्ल
- D) Stearic acid / स्टीयरिक अम्ल

120) Who among the following will constitute a Finance Commission in India? \ भारत में एक वित्त आयोग का गठन निम्नलिखित में से कौन करेगा?

- A) The President \ राष्ट्रपति
- B) The Speaker of the Lok Sabha \ लोक सभा अध्यक्ष
- C) The Chairman of Rajya Sabha \ राज्य सभा के सभापति
- D) The Prime minister \ प्रधानमंत्री

Section 3 – PART C

No. of Questions: 60

121) Which of the following is an uncountable noun?

- A) carriages
- B) cabinets
- C) chairs
- D) cheese

122) Choose the correct option to complete the sentence:

_____ you go the cooler it will be.

- A) High
- B) The highest
- C) The higher
- D) The high

123) Identify the compound sentence among the following:

- A) We locked the door and switched off the lights.
- B) We stayed in Mumbai for a year.
- C) That bag is mine.
- D) We stayed up all night.

124) Identify the antonym of the underlined word:

The rapid check of the bags failed to detect the bomb.

- A) precipitate
- B) leisurely
- C) thorough
- D) brisk

125) Choose the correct meaning of the phrase /idiom underlined in the sentence:

The two tribes had to bury the hatchet after the struggle for supremacy.

- A) to make peace
- B) to make friends with
- C) to obtain money
- D) to keep a secret

126) Identify the correct synonym: Severe

- A) Lenient
- B) Loose
- C) Tight
- D) Harsh

127) Fill in the blanks with the correct option.

The butterflies _____ to the branches of the tree.

- A) clings
- B) clung
- C) was clung
- D) clinging

128) Chose the word that is spelt correctly and fill the blanks:

Please tell me the postal _____ of the office.

- A) address
- B) adress
- C) adreass
- D) addres

129) Identify the antonym of the underlined word:

The commission is calling for a global ban on whaling industry.

- A) worldwide
 - B) local
 - C) regional
 - D) national
-

130) Fill in the blanks with the correct option:

Meena is bad _____ maths.

- A) by
 - B) for
 - C) at
 - D) in
-

131) Fill in the blanks with the correct option:

She is ashamed _____ her bad behaviour.

- A) in
 - B) by
 - C) of
 - D) to
-

132) Fill in the blanks with the correct verb:

Almost everyone _____ some musical ability.

- A) has
- B) have
- C) having
- D) are having

133) Read the sentence carefully and select the underlined part that is incorrect:

For the last fifty years of his life, Sam lived at his house in Wasteland, where he cultivated a renowned orchid farm.

A) where he cultivated

B) of his life

C) lived at

D) renowned

134) Fill in the blanks with the correct option:

They could buy all _____ food for _____ rupee.

A) a, a

B) a, an

C) a, the

D) the, a

135) Fill in the blanks with the correct option.

My friends _____ to spend time in cafe coffee day.

A) likes

B) like

C) were liking

D) liking

136) Fill in the blanks with the correct option:

King Lear _____ his favorite child Cordelia.

A) banishing.

B) banished

C) banishes

D) banish

137) Fill in the blanks with the correct option:

My will _____ my heart.

- A) liberate
- B) liberates
- C) was liberated
- D) liberating.

138) Identify the correct synonym: Flashy

- A) Famous
- B) Showy
- C) Fair
- D) Fresh

139) Read the sentence carefully and select the underlined part that is incorrect:

When she picked up the phone and a voice asked, " May I speak to Ms. Gardener?", Rosie answered, "This is her."

- A) up
- B) she
- C) may I speak
- D) this is her

140) Fill in the blanks with the correct option:

_____ computers are used in most offices.

- A) the
- B) a
- C) no Article
- D) an

141) Fill in the blanks with correct option:

She has no _____ the manager.

- A) acquaintance in
- B) acquaintance with
- C) acquaintance up
- D) acquaintance for

142) Fill in the blanks with the correct option:

Mohit is _____ engineer but his father is a business man.

- A) a
- B) the
- C) no article
- D) an

143) Fill in the blanks with the correct option:

His poor knowledge in English disqualifies him _____ the job of teaching.

- A) to
- B) from
- C) for
- D) with

144) Identify the antonym of the underlined word:

The red soil of India is friable in nature.

- A) not easily eroded
- B) not easily irrigated
- C) not easily cultivated
- D) not easily crumbled

145) Fill in the blanks with the correct option:

She _____ the piano for three years by the end of this year.

- A) shall learn
- B) will have been learning
- C) will have learnt
- D) will be learning

146) Change the given sentence into a simple sentence:

People who live in glass houses should not throw stones.

- A) People living in glass houses should not throw stones.
 - B) Those who are living in glass houses should not throw stones.
 - C) Those who live in glass houses should not throw stones.
 - D) People should not throw stones if they are living in glass houses.
-

147) Choose the Noun in the given sentence:

The audience was waiting for the curtain to rise.

- A) waiting
 - B) rise
 - C) audience
 - D) for
-

148) Fill in the blanks with the correct option:

Sneha has a craving _____ sweets.

- A) in
 - B) by
 - C) with
 - D) for
-

149) Chose the word that is spelt correctly and fill the blanks:

The seats in the new airbus were _____ making the long distance journey pleasant.

- A) comodios
- B) comodious
- C) commodious
- D) commodius

150) Fill in the blanks with the correct option:

Whale is _____ mammal.

- A) a
- B) an
- C) the
- D) No article required.

151) Fill in the blanks with the correct option:

She had _____ nightmare after which, she neither slept peacefully nor did she allow _____ others to sleep peacefully.

- A) the, a
- B) a, the
- C) an, a
- D) the, an

152) Identify the meaning of the underlined phrase/idiom:

In spite of all his brag he had to eat humble pie.

- A) apologise humbly
- B) order humbly
- C) talk humbly
- D) ask humbly

153) Fill in the blanks with correct option:

Kanpur is famous _____ its leather work.

- A) because
- B) by
- C) from
- D) for

154) Fill in the blanks with the correct form of verb:

The farther north they _____ the colder it became.

- A) goes
- B) went
- C) has gone
- D) go

155) Fill in the blanks with the correct option:

How _____ sugar do you want?

- A) any
- B) much
- C) some
- D) many

156) Fill in the blanks with the correct verb:

A package of economic sanctions _____ to be enacted against the country.

- A) are
- B) is
- C) were
- D) have

157) Change the compound sentence into a simple sentence:

She is not only pretty but also clever.

- A) She pretty but also clever.
- B) She is pretty but clever.
- C) Being pretty, she is clever.
- D) Besides being pretty, she is clever.

158) Identify the correct synonym:

Renounce

- A) Hire
- B) Disown
- C) Owe
- D) Possess

159) Chose the word that is spelt correctly and fill the blanks:

The parents applauded their _____ kids' pranks, though it annoyed others.

- A) mischevious
- B) mischievous
- C) mischevous
- D) misschivios

160) Choose the correct form of the verb in brackets:

The glass (fall) when the ball hit the table.

- A) falls
- B) has fallen
- C) fell
- D) can fall

161) Identify the Simple sentence from the following options:

- A) He worked hard, but he failed.
- B) In spite of his hard work, he failed.
- C) Even though he worked hard, he failed.
- D) Although he worked hard, he failed.

162) Identify the correct synonym: Crave

- A) Despise
- B) Renounce
- C) Desire
- D) Hate

163) Identify the correct synonym: Broach

- A) Conclude
- B) Close
- C) Introduce
- D) End

164) Choose the correct option to fill in the blanks:

When Rahul reached the station, the train _____ already _____.

- A) would have, left.
- B) has, left.
- C) had, left.
- D) could have, left.

165) Identify the correct synonym of the underlined word:

Each student has to write a concise outline of the book.

- A) Brief
- B) Extensive
- C) Interesting
- D) Lengthy

166) Identify the antonym of the underlined word:

The day was gloomy, and the sky was overcast with dark clouds

- A) bright
- B) dismal
- C) dark
- D) bleak

167) Chose the word that is spelt correctly and fill the blanks:

The teacher asked the prefect to distribute the _____ to the class.

- A) questionnair
- B) questionair
- C) questionnaire
- D) questionnaire

168) Read the sentence carefully and select the underlined part that is incorrect:

Both the manager and her assistant has been fired. Both of them have not been notified.

- A) has been
- B) both of
- C) been notified
- D) both the

169) Identify the antonym of the underlined word:

The President's speech was lengthy.

- A) inspiring
- B) interesting
- C) brief
- D) boring

170) Fill in the blanks with the correct form of verb:

He never _____ back on his word.

- A) went
- B) go
- C) is going
- D) goes

171) Choose the correct pronoun to complete the sentence:

The city _____ is not very populated.

- A) themselves
- B) himself
- C) itself
- D) herself

172) Read the sentence carefully and select the underlined part that is incorrect:

When Joe unplugged the wire from his television, he discovered it to be seriously damaged.

- A) when
- B) damaged
- C) it to be
- D) from

173) Choose the correct form of the verb in brackets :

I (write) a complaint letter to my manager.

- A) am writing
- B) write
- C) writes
- D) would write

174) Choose the correct option to complete the sentence:

He was so _____ that he almost fell asleep.

- A) bored
- B) excited
- C) interested
- D) eager

175) Identify the meaning of the underlined phrase/idiom:

He appears to have an old head on young shoulder.

- A) to be wise
- B) to be beyond his years
- C) to be over enthusiastic
- D) to be overaged

176) Choose the correct meaning of the phrase/idiom underlined in the sentence:

The agreement must be made in black and white.

- A) in court
- B) in black and white paper
- C) in writing
- D) in black and white file

177) Choose the correct option to complete the sentence:

One cannot choose freedom for _____ without choosing it for others.

- A) oneself
- B) one's
- C) oneself's
- D) one

178) What type of noun is the underlined word:

In winter the trees shed their leaves.

- A) proper
- B) collective
- C) uncountable
- D) countable

179) Choose the correct option to complete the sentence:

The property is ideally located with all local amenities close _____.

- A) at hand
- B) by hand on
- C) hand in
- D) at in hand

180) Identify the antonym of the underlined word:

The camel is wrongly called the ship of the desert.

- A) not
- B) incorrectly
- C) rightly
- D) mistakenly

Question Paper No: 31554_44

Answer Key

	24. C	48. C
1. A	25. A	49. D
2. D	26. A	50. B
3. B	27. D	51. A
4. D	28. C	52. A
5. B	29. A	53. A
6. A	30. D	54. C
7. C	31. B	55. A
8. A	32. C	56. C
9. C	33. C	57. D
10. C	34. B	58. C
11. D	35. B	59. D
12. B	36. B	60. A
13. D	37. D	61. D
14. D	38. A	62. D
15. B	39. B	63. C
16. B	40. A	64. B
17. C	41. B	65. C
18. A	42. B	66. A
19. B	43. C	67. A
20. D	44. B	68. C
21. C	45. C	69. D
22. C	46. C	70. C
23. A	47. D	71. C

72. A	99. C	126. D
73. D	100. B	127. B
74. B	101. A	128. A
75. C	102. B	129. B
76. B	103. A	130. C
77. A	104. D	131. C
78. B	105. A	132. A
79. D	106. D	133. C
80. B	107. B	134. D
81. A	108. B	135. B
82. B	109. A	136. B
83. A	110. B	137. B
84. D	111. B	138. B
85. D	112. C	139. D
86. B	113. B	140. C
87. B	114. C	141. B
88. D	115. A	142. D
89. C	116. C	143. C
90. A	117. D	144. D
91. C	118. B	145. B
92. B	119. C	146. A
93. D	120. A	147. C
94. D	121. D	148. D
95. B	122. C	149. C
96. D	123. A	150. A
97. B	124. B	151. B
98. A	125. A	152. A

153. D	163. C	173. A
154. B	164. C	174. A
155. B	165. A	175. B
156. B	166. A	176. C
157. D	167. C	177. A
158. B	168. A	178. D
159. B	169. C	179. A
160. C	170. D	180. C
161. B	171. C	
162. C	172. C	