

Section 1 - PART A

No. of Questions: 60

1) There are three words given here, The first two words are related in a certain manner. Select the proper word among the given four alternatives which bears the same relationship with the third word as in the manner first and second words are related.

Heart : Pump :: Kidneys : ?

/ यहाँ पर तीन शब्द दिए गए हैं। पहले दो शब्द एक निश्चित शैली से संबंधित हैं। दिए गए चार विकल्पों में से उस सही शब्द का चयन करें, जो तीसरे शब्द से वैसा ही संबंध रखता हो, जैसा कि पहले और दूसरे शब्द संबंध रखते हों।

हृदय : पंप :: गुर्दे : ?

- A) Filter / फ़िल्टर करना
- B) Dissolve / घोल देना
- C) Produce / उत्पादित करना
- D) Assimilate / पचाना

2) Among the given four options, three are related in a same way. Select the option that is odd one out. / दिए गए चार विकल्पों में तीन एक तरीके से आपस में संबंधित हैं। वह विकल्प चुनिए जो सबसे भिन्न हो।

- A) B2A1D4
- B) H8A1D4
- C) B2E5A1
- D) B2E4G6

Following are the eligibility criteria for applying for the post of Software Engineer in a Multinational company. The candidate should:	एक बहुराष्ट्रीय कंपनी में सॉफ्टवेयर इंजीनियर के पद के लिए आवेदन करने के लिए पात्रता मानदंड निम्नलिखित हैं। उम्मीदवार:
(i) be a graduate in engineering with atleast 75% aggregate marks.	(i) को कम से कम 75% कुल अंक के साथ इंजीनियरिंग में ग्रेजुएट होना चाहिए।
(ii) have a passport issued on his name.	(ii) के नाम पर एक पासपोर्ट जारी किया होना चाहिए।
(iii) have fluency in English and any one out of French, Spanish or German.	(iii) को अंग्रेजी और इन में से किसी भी एक फ्रेंच, स्पेनिश या जर्मन में वाक्पटु होना चाहिए।
(iv) should be ready to work anywhere in India or abroad.	(iv) को भारत में कहीं भी या विदेश में काम करने के लिए तैयार होना चाहिए।
(v) should have scored more than 65% marks in the selection interview.	(v) को सेलेक्शन इंटरव्यू में 65% अंक से अधिक प्राप्त किया होना चाहिए।
In the case of a candidate who satisfies all the conditions:	अगर एक उम्मीदवार सभी शर्तों को पूरा करता है:
(A) If NOT (i) above, but has scored more than 70% in Class XII, then the case may be referred to the Chief Executive Officer (CEO).	(A) सिवाय उपरोक्त (i) के, लेकिन बारहवीं कक्षा में 70% से अधिक प्राप्त किया है तो, मामला मुख्य कार्यपालन अधिकारी (CEO) को भेजा जाए।
(B) If NOT (v) above, but has a work experience of atleast 2 years, then the case may be referred to Managing Director.	(B) सिवाय उपरोक्त (v) के, लेकिन कम से कम 2 साल का कार्य अनुभव है तो, मामला प्रबंध संचालक को भेजा जाए।
Based on the above information and criteria given in each of the following questions, you have to take decision.	उपरोक्त जानकारी और नीचे दिए गए प्रत्येक प्रश्न में दिए गए मापदंडों के आधार पर आपको निर्णय लेना होगा।

3) These cases are given to you as on 31st March, 2016.

Candidate's Information : Naina Gandhi is a civil engineer with 78% marks in graduation and 79% marks in the interview. She holds a valid passport and is ready to work anywhere in India as well as abroad. She is 32 year old lady working in Pune and knows only English and Marathi in fluency./

ये सभी मामले आपको मार्च 31, 2016 की तारीख को दिए गए हैं।

उम्मीदवार की जानकारी: नैना गांधी ग्रेजुएशन में 78% अंक और इंटरव्यू में 79% अंक के साथ एक सिविल इंजीनियर है। उसके पास एक वैध पासपोर्ट है और वह भारत के साथ-साथ विदेश में कहीं भी काम करने के लिए तैयार है। वह पुणे में काम करने वाली 32 वर्षीय महिला है और वह वाक्पटुता के साथ केवल अंग्रेजी और मराठी जानती है। उसे

- A) selected / चयन करना चाहिए
- B) rejected / अस्वीकृत करना चाहिए
- C) referred to the Managing director / प्रबंध संचालक के पास भेजा जाना चाहिए
- D) referred to the CEO / CEO के पास भेजा जाना चाहिए

4) Which term of the given series would be the first one to be a four-digit number: 192, 288, 432, 648,? / दी गई श्रृंखला में चार अंकीय पहली संख्या कौन सी होगी: 192, 288, 432, 648,?

- A) 9th / 9वीं
- B) 10th / 10वीं
- C) 8th / 8वीं
- D) 6th / 6वीं

5) In a certain code language,

"time is precious" is written as "er ui af"

"time management is important" is written as "af jk op ui"

"management technique is used" is written as "cv af bn op"

What is the code for "technique" in the given code language? /

एक निश्चित कूट-भाषा में

"time is precious" को "er ui af" के रूप में लिखा जाता है

"time management is important" को "af jk op ui" के रूप में लिखा जाता है

"management technique is used" को "cv af bn op" के रूप में लिखा जाता है

दिए गए कूट-भाषा में "technique" के लिए कूट क्या होगा?

- A) bn
- B) cv
- C) er
- D) Either "cv" or "bn"

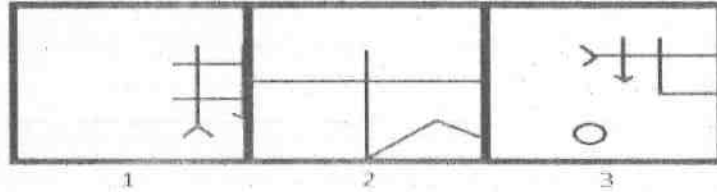
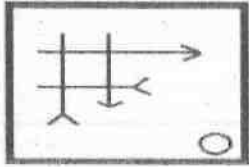
6) In how many different sets can the given set be classified if classification is done on the basis of number of odd digits at odd places in term: (327189, 278116, 492877, 100982, 387629)? / कितने विभिन्न समुच्चयों में दिए गए समुच्चय को वर्गीकृत किया जा सकता है यदि वर्गीकरण निम्नलिखित पद में विषम स्थानों पर विषम अंक की संख्या के आधार पर किया जाता है: (327189, 278116, 492877, 100982, 387629)?

- A) 5
- B) 2
- C) 4
- D) 3

7) In a certain code, FEKC is written as 50, then how is HGHY written in the same code? / एक निश्चित कूट में FEKC को 50 के रूप में लिखा जाता है, तो उसी कूट में HGHY को कैसे लिखा जाएगा?

- A) 75
- B) 96
- C) 35
- D) 164

8) A figure is given on the left with a pattern. Observe and find which of the three images on the right looks similar to the left half of this pattern? / बाईं ओर एक पैटर्न के साथ एक चित्र दी गई है। ध्यानपूर्वक देखिए और बताइए कि दाईं ओर की तीन चित्रों में से कौन इस पैटर्न के बाएँ अर्ध हिस्से के समान दिखाई पड़ती है?



- A) 3
- B) Both 1 and 2 / 1 और 2 दोनों
- C) 2
- D) 1

9) 30% of 65% of 120% of 16000 is equal to: / 16000 का 120% का 65% का 30% किसके बराबर है?

- A) 2796
- B) 5352
- C) 3744
- D) 4190

10) Find the next term in the series: 2, 8, 26, 80, 242, _____. / श्रृंखला में अगली संख्या ज्ञात करें: 2, 8, 26, 80, 242, _____.

- A) 730
- B) 733
- C) 728
- D) 257

11) Which of the given option will NOT share the same property as the elements of the given set (considering number of unique consonants in term): (MOISTURE, SUNDAY, BLOWER)? / दिए गए विकल्पों में से कौन सा विकल्प (पद में विशिष्ट व्यंजनों की संख्या को ध्यान में रखते हुए) उसी गुणस्वभाव को साझा नहीं करेगा जो दिए गए सेट के तत्व करते हैं: (MOISTURE, SUNDAY, BLOWER)

- A) STYLE
- B) FOLDER
- C) SWEETS
- D) CREATED

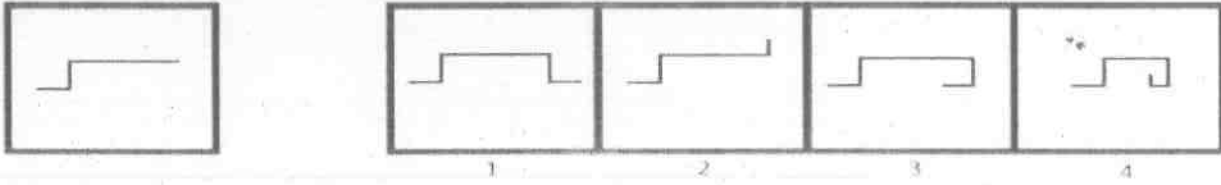
12) Rohit, Rohan and Rani are the three friends standing in a queue to pay their fees in the administrative office. Rohit stands 9th from the beginning of the queue. Rani is 14th from the end. Rohan and Rani have 4 students between them and Rohan and Rohit have 5 students between them. If Rani's position is 20th from the beginning, then the total number of students in the queue is / रोहित, रोहन और रानी प्रशासनिक कार्यालय में अपने फीस का भुगतान करने के लिए एक कतार में खड़े तीन दोस्त हैं। रोहित कतार की शुरुआत से 9 वीं जगह पर खड़ा है। रानी अंत से 14 वीं है। रोहन और रानी के बीच 4 छात्र हैं और रोहन और रोहित के बीच 5 छात्र हैं। अगर रानी का पोजिशन शुरुआत से 20 वाँ है तो, कतार में छात्रों की कुल संख्या है,

- A) 33
- B) 30
- C) 34
- D) 35

13) Keshav's brother is Madhav's brother in law. Madhav's sister's mother in law is Keshav's ____ / केशव का भाई, माधव का जीजा है। माधव की बहन की सास, केशव की ____

- A) sister / बहन है
- B) daughter / बेटी है
- C) mother-in-law / सास है
- D) mother / माँ है

14) A figure is given on the left with a pattern. In which of the four images on the right we CANNOT find this pattern as a part of that image? / बाई ओर एक पैटर्न के साथ एक चित्र दी गई है। दाई ओर की चार चित्रों में से किसमें हमें उस चित्र के हिस्से के रूप में यह पैटर्न नहीं मिल सकता?



- A) 1
B) 2
C) 4
D) 3

15) There are three words given here. The first two words are related in a certain manner. Select the proper word among the given four alternatives which bears the same relationship with the third word as in the manner first and second words are related.

Rectangle : 16 :: Hexagon : _____ /

यहाँ तीन शब्द दिए गए हैं। पहले दो शब्द एक निश्चित तरीके से संबंधित हैं। दिए गए चार विकल्पों में से उस उचित शब्द का चयन करें जो तीसरे शब्द के साथ उसी प्रकार से संबंधित हो जिस तरीके से पहला और दूसरा शब्द संबंधित हैं।

आयत : 16 :: षट्कोण : _____

- A) 56
B) 42
C) 22
D) 36

16) Here four codes are given. Out of these, three are alike in a certain manner but the rest one is different. Choose the one which is different from the rest three. / यहाँ चार कोड दिए गए हैं। इनमें से तीन एक निश्चित तरीके से एक जैसे हैं, पर शेष एक कोड भिन्न है। वह विकल्प चुनिए जो शेष तीनों से भिन्न हो।

- A) WX3
B) TV1
C) PT3
D) JO4

17) If in a certain code, "PICTURE" is coded as "QHDUTSD", then how is "SPECIAL" coded? / यदि एक निश्चित कूट में "PICTURE" को "QHDUTSD" के रूप में कूट बद्ध किया जाता है, तो "SPECIAL" को कैसे कूट बद्ध किया जाएगा?

- A) TQDDMHZ
- B) TQDDZHM
- C) TQDZDHM
- D) TQDDHZM

18) In the given sequence, one of the terms is different from others. Select that term. (B34E, C45F, D56H, E67H, F78I) / दिए गए क्रम में एक पद दूसरों से भिन्न है। उस पद का चयन करें। (B34E, C45F, D56H, E67H, F78I)

- A) C45F
- B) F78I
- C) D56H
- D) B34E

19) There are three words given here. The first two words are related in a certain manner. Select the proper word among the given four alternatives which bears the same relationship with the third word as in the manner first and second words are related.

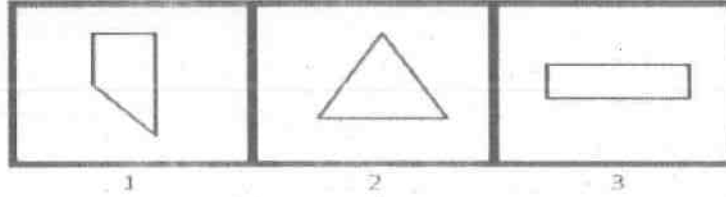
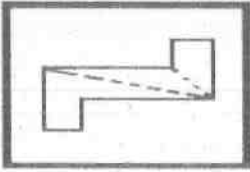
India : Asia :: Ecuador : _____ /

यहाँ तीन शब्द दिए गए हैं। पहले दो शब्द एक निश्चित तरीके से संबंधित हैं। दिए गए चार विकल्पों में से उस उचित शब्द का चयन करें जो तीसरे शब्द के साथ उसी प्रकार से संबंधित हो जिस तरीके से पहला और दूसरा शब्द संबंधित हैं।

भारत : एशिया :: इक्वेडोर : _____

- A) South America / दक्षिण अमेरिका
- B) Africa / अफ्रीका
- C) North America / उत्तर अमेरिका
- D) Europe / यूरोप

20) An image is given in the left and a set of three numbered images on the right. The figure on left is cut along the dotted lines to form some small figures. Out of three images on right, observe and find the image that will look similar to one of the small figures formed after cutting the figure on left. / बाई ओर एक चित्र दिया गया है और दाई ओर तीन संख्यांकित चित्रों का एक सेट दिया गया है। कुछ छोटी आकृतियाँ बनाने के लिए, बाई ओर दी गई आकृति को बिंदीदार रेखाओं के साथ काटा जाता है। ध्यान से देखें और बताएँ कि दाई ओर दी गई तीन चित्रों में से, वो चित्र कौन सी है जो बाई ओर दी गई आकृति को काटने के बाद प्राप्त छोटी आकृतियों में से एक के सदृश्य है।



- A) 1
B) Both 1 and 2 / दोनों 1 और 2
C) 2
D) 3

Following are the eligibility criteria for becoming a member of a XYZ Married Woman's club:

- (i) The applicant should be married.
(ii) The applicant should be able to pay one time membership fee of Rs.10,000.
(iii) The applicant should be an Indian citizen by birth.
(iv) The applicant should hold valid identification proof (i.e. any one out of the four viz Aadhar card, Electoral Voters ID, Driving License or PAN card).

In the case of an applicant who satisfies all the eligibility criteria:

- (a) EXCEPT (iii), but is an Indian Citizen by descent, then he is eligible under Section I.
(b) EXCEPT (iv), but has a Valid Ration card, then he is eligible under Section II.

In each of the questions below, information of an applicant is given. He/she may be eligible under one or more of the criteria. You have to take one of the following four decisions based on the information provided and the conditions given above.

निम्नलिखित एक XYZ विवाहित महिलाओं के क्लब का सदस्य बनने के लिए पात्रता मापदंड हैं:

- (i) आवेदक शादी शुदा होना चाहिए।
(ii) आवेदक 10,000 रुपये का एक बार सदस्यता शुल्क का भुगतान करने में सक्षम होना चाहिए।
(iii) आवेदक जन्म से भारतीय नागरिक होना चाहिए।
(iv) आवेदक के पास वैध पहचान प्रमाण होना चाहिए (अर्थात् चार में से कोई भी एक नामशः आधार पत्र, निर्वाचक मतदाता पहचान पत्र, चालन अनुज्ञप्ति या PAN कार्ड)।

अगर एक आवेदक सभी पात्रता मापदंडों को पूरा करता है:

- (a) सिवाय (iii) के, लेकिन वंशानुक्रम एक भारतीय नागरिक है तो, वह धारा I के तहत पात्र है।
(b) सिवाय (iv) के, लेकिन वैध राशन कार्ड है तो, वह धारा II के तहत पात्र है।

नीचे दिए गए प्रत्येक प्रश्न में एक आवेदक की जानकारी दी गई है। वह एक या एक से अधिक मापदंड के तहत पात्र हो सकता है। आपको उपलब्ध कराई गई जानकारी व उपरोक्त मापदंडों के आधार पर निम्नांकित चार फैसलों में से एक लेना होगा।

21) Sana is a married lady and willing to pay Rs. 10,000 in cash. She is a born Indian and holds Aadhar Card as a legal ID proof. She is

/ सना एक शादीशुदा महिला है और नकद में 10,000 रुपये अदा करने के लिए तैयार है। वह जन्म से एक भारतीय है और उसके पास कानूनी पहचान प्रमाण के रूप में आधार पत्र है। वह

- A) The information is inadequate to take the decision / फैसला लेने के लिए जानकारी अपर्याप्त है
- B) not eligible / पात्र नहीं है
- C) eligible under Section II / धारा II के तहत पात्र है
- D) eligible / पात्र है

22) A cube of side length 8 units is painted with yellow colour on all its faces and then cut into small cubes each of side length 2 units. How many small cubes will be painted with yellow colour on exactly one of their faces? / 8 यूनिट लंबाई की भुजा के एक घन से सभी पृष्ठों को पीले रंग से रंगा गया और फिर उसे 2 यूनिट वाली भुजा के घनों में काटा गया। ऐसे कितने घन बनेंगे जिनका केवल एक पृष्ठ पीले रंग से रंगा होगा?

- A) 48
- B) 24
- C) 36
- D) 16

23) There are three words given here. The first two words are related in a certain manner. Select the proper word among the given four alternatives which bears the same relationship with the third word as in the manner first and second words are related.

Clump : Trees :: Clique : ? /

यहाँ पर तीन शब्द दिए गए हैं। पहले दो शब्द एक निश्चित शैली से संबंधित हैं। दिए गए चार विकल्पों में से उस सही शब्द का चयन करें, जो तीसरे शब्द से वैसा ही संबंध रखता हो, जैसा कि पहले और दूसरे शब्द संबंध रखते हों।

पेड़ों का झुंमुट : पेड़ :: गिरोह : ?

- A) Eggs / अंडे
- B) Softwares / सॉफ्टवेयर
- C) Schemers / षड्यन्त्रकारी
- D) Angels / देवदूत

24) In each of the option, a set is given. Select the set that is different from the others. / प्रत्येक विकल्प में, एक सेट दिया गया है। उस सेट का चयन करें जो अन्यो से भिन्न है।

- A) (X, XX)
- B) (VIII, XVI)
- C) (XII, XXIV)
- D) (XI, XXIII)

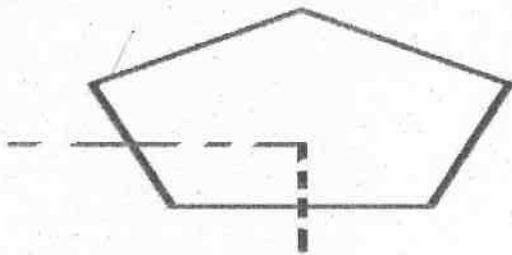
25) Which of these pair of figures CANNOT join together to form a parallelogram? / एक समानांतर चतुर्भुज बनाने के लिए इनमें से किन आकृतियों के जोड़ी को एकसाथ जोड़ा नहीं जा सकता है?

- A) Two triangles / दो त्रिकोण
- B) Two trapeziums / दो असमानांतरभुज
- C) Two circles / दो वृत्त
- D) Two parallelograms / दो समानांतर चतुर्भुज

26) Population of a village increases at the rate of 5% per year. What will be the population after 2 years, if its population is 10,000 at present? / गांव की आबादी प्रति वर्ष 5% की दर से बढ़ती है। यदि वर्तमान में इसकी आबादी 10,000 है, तो दो वर्ष बाद इसकी आबादी कितनी होगी?

- A) 9050
- B) 8250
- C) 10025
- D) 11025

27) The paper sheet given below is cut along the dotted line. How many corners will the resultant paper sheet on right have? / नीचे दी गई पेपर शीट को बिंदीदार रेखा के साथ काटा गया है। दाईं ओर परिणामी पेपर शीट में कितने कोने होंगे?



- A) 6
- B) 8
- C) 7
- D) 9

Following are the eligibility criteria for applying for the Green Health Card for free treatment in India. The applicant should:

(i) be a citizen of India only.

(ii) have a BPL (Below poverty line) ration card.

(iii) have a savings bank account in India on his/her name.

In the case of an applicant who satisfies all the criteria:

(A) If NOT (iii) above, but has a joint account with any other family member, the case may get the Yellow health card that enables 50% discount on the bill.

(B) If NOT (ii) above, but has an APL (Above Poverty Line) ration card, the applicant may get the Violet health card that enables only 30% discount on the bill.

Based on the above information and criteria given in each of the following questions, you have to take decision.

भारत में मुफ्त इलाज के लिए हरे स्वास्थ्य कार्ड के लिए आवेदन करने के लिए पात्रता मानदंड निम्नलिखित हैं। आवेदक को

(i) केवल भारत का नागरिक होना चाहिए।

(ii) BPL (गरीबी की सीमा रेखा के नीचे) राशन कार्ड धारक होना चाहिए।

(iii) अपने नाम पर भारत में एक बचत बैंक खाता होना चाहिए।

अगर एक आवेदक सभी मानदंडों को पूरा करता है:

(A) सिवाय उपरोक्त (iii) के, लेकिन किसी भी अन्य परिवार के सदस्य के साथ एक संयुक्त खाता है तो, इस मामले में उसे पीला स्वास्थ्य कार्ड मिल सकता है जो बिल पर 50% छूट सक्षम बनाता है।

(B) सिवाय उपरोक्त (ii) के, लेकिन APL (गरीबी की सीमा रेखा के ऊपर) राशन कार्ड है तो, आवेदक को बैंगनी स्वास्थ्य कार्ड मिल सकता है जो बिल पर केवल 30% छूट सक्षम बनाता है।

उपरोक्त जानकारी और नीचे दिए गए प्रत्येक प्रश्न में दिए गए मानदंडों के आधार पर आपको निर्णय लेना होगा।

28) Applicant's Information: Jojo Mathew is a Canadian person who has been staying/living in India since one year for an official purpose, has filled the form for the health card. He holds a savings bank joint account with his wife Edwina in Canadian nationalised bank. He should be :

/ आवेदक की जानकारी: जोजो मैथ्यू एक कैनैडियन व्यक्ति है जो एक आधिकारिक उद्देश्य के लिए पिछले एक साल से भारत में रह रहा/जीवन निर्वाह कर रहा है, उसने स्वास्थ्य कार्ड के लिए फार्म भरा है। उसके पास कैनैडियन राष्ट्रीयकृत बैंक में अपनी पत्नी एडविना के साथ एक बचत बैंक संयुक्त खाता है। उसे:

A) rejected / अस्वीकृत करना चाहिए

B) allotted green health card / हरा स्वास्थ्य कार्ड अलॉट करना चाहिए

C) allotted violet health card / बैंगनी स्वास्थ्य कार्ड अलॉट करना चाहिए

D) allotted yellow health card / पीला स्वास्थ्य कार्ड अलॉट करना चाहिए

Following are the eligibility criteria for applying for the post of Software Engineer in a Multinational company. The candidate should:

- (i) be a graduate in engineering with atleast 75% aggregate marks.
- (ii) have a passport issued on his name.
- (iii) have fluency in English and any one out of French, Spanish or German.
- (iv) should be ready to work anywhere in India or abroad.
- (v) should have scored more than 65% marks in the selection interview.

In the case of a candidate who satisfies all the conditions:

(A) If NOT (i) above, but has scored more than 70% in Class XII, then the case may be referred to the Chief Executive Officer (CEO).

(B) If NOT (v) above, but has a work experience of atleast 2 years, then the case may be referred to Managing Director.

Based on the above information and criteria given in each of the following questions, you have to take decision.

एक बहुराष्ट्रीय कंपनी में सॉफ्टवेयर इंजीनियर के पद के लिए आवेदन करने के लिए पात्रता मानदंड निम्नलिखित हैं। उम्मीदवार:

- (i) को कम से कम 75% कुल अंक के साथ इंजीनियरिंग में ग्रेजुएट होना चाहिए।
- (ii) के नाम पर एक पासपोर्ट जारी किया होना चाहिए।
- (iii) को अंग्रेजी और इन में से किसी भी एक फ्रेंच, स्पेनिश या जर्मन में वाक्पटु होना चाहिए।
- (iv) को भारत में कहीं भी या विदेश में काम करने के लिए तैयार होना चाहिए।
- (v) को सेलेक्शन इंटरव्यू में 65% अंक से अधिक प्राप्त किया होना चाहिए।

अगर एक उम्मीदवार सभी शर्तों को पूरा करता है:

(A) सिवाय उपरोक्त (i) के, लेकिन बारहवीं कक्षा में 70% से अधिक प्राप्त किया है तो, मामला मुख्य कार्यपालन अधिकारी (CEO) को भेजा जाए।

(B) सिवाय उपरोक्त (v) के, लेकिन कम से कम 2 साल का कार्य अनुभव है तो, मामला प्रबंध संचालक को भेजा जाएगा।

उपरोक्त जानकारी और नीचे दिए गए प्रत्येक प्रश्न में दिए गए मापदंडों के आधार पर आपको निर्णय लेना होगा।

29) These cases are given to you as on 31st March, 2016.

Candidate's Information : Akhil Pathan, is an Electrical Engineer with 79% marks and has studied German in detail during his graduation. He writes editorial for an English newspaper as a hobby. He visited Malaysia last week and has no problem in relocation to any place in India or abroad. He has scored 92% marks in the interview.

/ ये सभी मामले आपको मार्च 31, 2016 की तारीख को दिए गए हैं।

उम्मीदवार की जानकारी: अखिल पठान, 79% अंकों के साथ एक इलेक्ट्रिकल इंजीनियर है और उसके ग्रेजुएशन के दौरान विस्तार से जर्मन अध्ययन किया है। वह शौक के रूप में एक अंग्रेजी अखबार के लिए सम्पादकीय लेख लिखता है। उसने पिछले सप्ताह मलेशिया का दौरा किया और उसे भारत में कहीं भी या विदेश में स्थानांतरण में कोई समस्या नहीं है। उसने इंटरव्यू में 92% अंक प्राप्त किए हैं। उसे

- A) referred to the Managing director / प्रबंध संचालक के पास भेजा जाना चाहिए
- B) referred to the CEO / CEO के पास भेजा जाना चाहिए
- C) rejected / अस्वीकृत करना चाहिए
- D) selected / चयन करना चाहिए

30) Which term of the given series would be the first one to have three digits: 16, 23, 32, 43,? / दी गई श्रृंखला में तीन अंकीय पहली संख्या कौन सी होगी: 16, 23, 32, 43,?

- A) 9th/9वीं
- B) 10th/10वीं
- C) 7th/7वीं
- D) 8th/8वीं

31) Find the rate of simple interest per annum if the amount doubles in 10 years. / एक राशि 10 वर्षों में दोगुनी हो जाती है, तो प्रतिवर्ष साधारण ब्याज दर ज्ञात करें।

- A) 10%
- B) 8%
- C) 6%
- D) 12%

32) In a certain code, PASTTRAC is coded as TSAPCART. What will be the code of the word ABSOCKET? / एक निश्चित कूट में PASTTRAC को TSAPCART के रूप में कूट बदल दिया जाता है। शब्द ABSOCKET का कूट क्या होगा?

- A) OSBATEKC
- B) OSABTECK
- C) SOATECKB
- D) OBATECKS

33) Three of the four following expressions belong to the same group or class in a certain manner. Find the odd one out. / निम्नलिखित चार अभिव्यक्तियों में से तीन एक निश्चित तरीके से एक ही समूह या वर्ग से संबंधित हैं। विषम का ज्ञात करें।

- A) CAKE : EKAC
- B) FILE : EILF
- C) LOCK : KOCL
- D) MEAT : TEAM

34) Three out of the given four codes are similar. Find the odd one. / दिए गए चार कोडों में से तीन एक जैसे हैं। भिन्न कोड की पहचान करें।

- A) 3601@
- B) 2501@
- C) 1611@
- D) 4901@

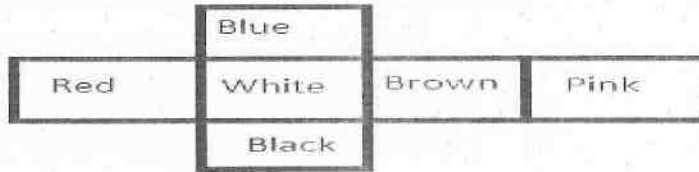
35) Among the given four options, three are related in a same way. Select the option that is odd one out. / दिए गए चार विकल्पों में तीन एक तरीके से आपस में संबंधित हैं। वह विकल्प चुनिए जो सबसे भिन्न हो।

- A) 9989
- B) 4444
- C) 5555
- D) 7777

36) In a certain code language, FDA is written as LLD, then how will JCD be written in that code language? / एक निश्चित कूट-भाषा में FDA को LLD के रूप में लिखा जाता है, तो उस कूट-भाषा में JCD को कैसे लिखा जाएगा?

- A) RTQ
- B) TIP
- C) RIQ
- D) PTI

37) Below is given the expanded view of a dice. Which colour would NOT be adjacent to pink? / नीचे एक पासे का विस्तृत दृश्य दिया गया है। कौन सा रंग गुलाबी रंग के सन्निकट नहीं होगा?



- A) Brown / भूरा
- B) Blue / नीला
- C) White / सफेद
- D) Black / काला

38) In each of the option, a set is given. Select the set that is different from the others. / प्रत्येक विकल्प में एक सेट दिया गया है। उस सेट का चयन करें जो दूसरों से अलग है।

- A) (51, 153)
- B) (34, 102)
- C) (43, 129)
- D) (54, 172)

39) A bag contains 3 red, 4 green and 2 white balls. If one ball at a time is drawn out of the bag, then what is the probability that it is a red ball? / एक बैग में 3 लाल, 4 हरी और 2 सफेद गेंद हैं। यदि एक समय में एक गेंद को बैग से बाहर निकाला जाता है, तो इसकी प्रायिकता क्या है कि यह एक लाल गेंद है?

- A) $\frac{1}{3}$
 B) $\frac{1}{2}$
 C) $\frac{1}{6}$
 D) $\frac{1}{9}$

For admission in College for MCA course, the following conditions apply. The applicant should:

- (i) be less than 30 year of age as on 11-11-2016.
 (ii) be a graduate in Bachelor of Computer Applications (BCA) with atleast 86% marks.
 (iii) have scored atleast 85% marks in the Common Entrance Test (CET).
 (iv) have scored atleast 65% marks in the interview.

In the case of a candidate who satisfies all the conditions:

- (a) If NOT (ii), but has a work experience of atleast 2 years and graduation score more than 70%, then be considered for admission in 2nd shift.
 (b) If NOT (iii), but has scored more than 60% in Common Entrance Test and more than 90% marks in class XII, then be considered for admission in night (shift) college.

In each of the questions below information of a candidate is given. You have to take one of the following four decisions based on the information provided and the conditions given above.

All the cases are given to you as on 11-11-2016. You have to indicate your decision by marking answers to each questions.

एक कॉलेज में MCA कोर्स के दाखिले के लिए, निम्न शर्तें लागू होती हैं। आवेदक:

- (i) की आयु 11-11-2016 की तारीख को 30 साल से कम होनी चाहिए।
 (ii) को कम से कम 86% अंकों के साथ बैचलर ऑफ कंप्यूटर एप्लीकेशन (BCA) में ग्रेजुएट होना चाहिए।
 (iii) को कॉमन एंट्रेंस टेस्ट (CET) में कम से कम 85% अंक प्राप्त किया होनी चाहिए।
 (iv) को इंटरव्यू में कम से कम 65% अंक प्राप्त किया होना चाहिए।

अगर एक उम्मीदवार सभी शर्तों को पूरा करता है:

- (a) सिवाय (ii) के, लेकिन कम से कम 2 साल का कार्य अनुभव है और ग्रेजुएशन स्कोर 70% से अधिक है तो, दूसरे शिफ्ट में दाखिले के लिए विचार किया जाना है।
 (b) सिवाय (iii) के, लेकिन कॉमन एंट्रेंस टेस्ट में 60% से अधिक और बारहवीं कक्षा में 90% अंक से अधिक स्कोर किया है तो, रात (शिफ्ट) कॉलेज में दाखिले के लिए विचार किया जाना है।

नीचे दिए गए प्रत्येक प्रश्न में एक उम्मीदवार की जानकारी दी गई है। आपको उपलब्ध कराई गई जानकारी व उपरोक्त शर्तों के आधार पर निम्नांकित चार फैसलों में से एक लेना होगा।

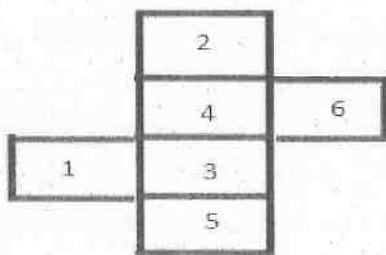
आपको सभी मामले 11-11-2016 की तारीख को दिए गए हैं। प्रत्येक प्रश्न के उत्तर अंकन द्वारा आपको अपना निर्णय सूचित करना होगा।

40) Candidate's Information : Gaurav Phule is a graduate in computer applications (BCA) with 68% marks. He has scored 86% marks in Common Entrance Test and 68% marks in the interview. He was born on 12-7-1990. He should be:

/ उम्मीदवार की जानकारी: गौरव फुले बैचलर ऑफ कंप्यूटर एप्लीकेशन (BCA) में 68% अंकों के साथ एक ग्रेजुएट है। उसने कॉमन एंट्रेंस टेस्ट में 86% अंक और इंटरव्यू में 68% अंक प्राप्त किया है। वह 12-7-1990 को पैदा हुआ था। उसे

- A) considered for admission in the 2nd shift / दूसरे शिफ्ट में दाखिले के लिए विचार किया जाना चाहिए
- B) admitted / दाखिला देना चाहिए
- C) not admitted / दाखिला नहीं देना चाहिए
- D) considered for admission in the night (shift) college / रात (शिफ्ट) कॉलेज में दाखिले के लिए विचार किया जाना चाहिए

41) A dice is opened up to represent its faces in a single view together. What number would be there opposite to 6 on the dice? / एक साथ एक ही दृश्य में अपने पक्षों को प्रस्तुत करने के लिए एक पासा (डाइस) खुला हुआ है। पासे पर 6 के विपरीत कौन सी संख्या होगी?



- A) 2
- B) 5
- C) 1
- D) 4

42) M, N, O, P and Q are the members of a family. P weighs 78 kg. M weighs 48 kg. O weighs 11 kg less than P and 12 kg more than N. Q is the lightest person in the family. What is the average of the weights of N, O and P? / M, N, O, P और Q एक परिवार के सदस्य हैं। P का वजन 78 किग्रा है। M का वजन 48 किग्रा है। O का वजन P से 11 किग्रा कम है और N से 12 किग्रा ज्यादा है। Q परिवार का सबसे कम वजन वाला व्यक्ति है। N, O और P का औसत वजन कितना है?

- A) 66.66 kg / 66.66 किग्रा
- B) 64.56 kg / 64.56 किग्रा
- C) 71.67 kg / 71.67 किग्रा
- D) 60.11 kg / 60.11 किग्रा

Following are the conditions for selecting a Cartoon Animator. The candidate must:

- (i) have completed an Animation course.
- (ii) be a graduate in any discipline with 65% marks.
- (iii) have a post qualification work experience of atleast 2 years in any multimedia company.
- (iv) be less than 30 years of age.

In the case of a candidate who satisfies all the conditions:

(A) If NOT (ii) above, but has scored more than 70% in Class X, the case may be referred to the General Manager.

(B) If NOT (iii) above, but has a post-graduation degree, the case may be referred to Chief Executive Officer (CEO).

(C) If NOT (iv) above, but has a work experience of atleast 4 years in any multimedia company, the case may be referred to the Managing Director.

Based on the above information and criteria given in each of the following questions, you have to take decision.

एक कार्टून एनिमेटर के चयन के लिए शर्तें निम्नलिखित हैं। उम्मीदवार को:

- (i) एनीमेशन कोर्स पूरा किया होना चाहिए।
- (ii) 65% अंकों के साथ किसी भी विषय में ग्रेजुएट होना चाहिए।
- (iii) क्वालिफिकेशन के बाद किसी भी मल्टिमीडिया कंपनी में कम से कम 2 साल का कार्यानुभव होना चाहिए।
- (iv) 30 साल से कम उम्र का होना चाहिए।

अगर एक उम्मीदवार सभी शर्तों को पूरा करता है:

- (A) सिवाय उपरोक्त (ii) के, लेकिन दसवीं कक्षा में 70% से अधिक प्राप्त किया है तो, मामला महाप्रबन्धक को भेजा जाए।
- (B) सिवाय उपरोक्त (iii) के, लेकिन एक पोस्ट-ग्रेजुएशन डिग्री है तो, मामला मुख्य कार्यपालन अधिकारी (CEO) को भेजा जाए।
- (C) सिवाय उपरोक्त (iv) के, लेकिन किसी भी मल्टिमीडिया कंपनी में कम से कम 4 साल का कार्यानुभव है तो, मामला प्रबंध संचालक को भेजा जाए।

उपरोक्त जानकारी और नीचे दिए गए प्रत्येक प्रश्न में दिए गए मापदंडों के आधार पर आपको निर्णय लेना होगा।

43) These cases are given to you as on 10th November, 2016.

Candidate's Information : Sunaina Talwar, 23 year old fresher, has secured 80% marks in graduation and 60% marks in post-graduation. She has completed a certificate course in animation technology. She should be:

/ ये सभी मामले आपको नवंबर 10, 2016 की तारीख को दिए गए हैं।

उम्मीदवार की जानकारी: सुनैना तलवार, 23 वर्षीय नवसिखुआ ने ग्रेजुएशन में 80% अंक और पोस्ट-ग्रेजुएशन में 60% अंक हासिल किए हैं। उसने एनीमेशन प्रौद्योगिकी के क्षेत्र में सर्टिफिकेट कोर्स पूरा किया है। उसे

- A) referred to the CEO / CEO के पास भेजा जाना चाहिए
- B) referred to the General Manager / महाप्रबन्धक के पास भेजा जाना चाहिए
- C) Selected / चयन करना चाहिए
- D) referred to the Managing Director / प्रबंध संचालक के पास भेजा जाना चाहिए

44) Weights of the two brothers Rohan and Ronit are in the ratio 6:9 and their combined weight is 150 kg. After following a diet plan, Rohan reduces by 6 kg and the new ratio of their weights is 3:4. So, Ronit has reduced his weight by / रोहन और रोनिट, दो भाइयों के वजन 6 : 9 के अनुपात में हैं और संयुक्त रूप से उनका कुल वजन 150 किग्रा है। एक डाइट प्लान का पालन करके रोहन अपना वजन 6 किग्रा कम करता है और अब उनके वजन का अनुपात 3 : 4 है। तो रोनिट ने अपना वजन कितना कम किया?

- A) 20 kg / 20 किग्रा
- B) 18 kg / 18 किग्रा
- C) 26 kg / 26 किग्रा
- D) 10 kg / 10 किग्रा

45) A dice is taken on which numbers from 6 to 11 are written on its six faces. The HCF of numbers written on all pairs of opposite faces is always 1. Based on this information, answer the questions that follow. Which of these numbers can be written on opposite faces? / एक पासा लिया गया जिसके छह पृष्ठों पर 6 से लेकर 11 तक की संख्याएं अंकित हैं। विपरीत पृष्ठों के सभी युग्मों पर अंकित संख्याओं के महत्तम समापवर्तक (HCF) हमेशा 1 होता है। इस जानकारी के आधार पर नीचे दिए गए प्रश्नों के उत्तर दें। विपरीत पृष्ठों पर इनमें से कौन सी संख्याएं लिखी जा सकती हैं?

- A) 8 and 10 / 8 और 10
- B) 12 and 6 / 12 और 6
- C) 12 and 9 / 12 और 9
- D) 6 and 7 / 6 और 7

46) A is B's sister. C is B's brother. W is J's father and J is A's brother. L is B's mother. How many sons do W and L have (minimum)? / A, B की बहन है। C, B का भाई है। W, J का पिता और J, A का भाई है। L, B की मां है। W और L के (कम से कम) कितने बेटे हैं?

- A) 4
- B) 1
- C) 2
- D) 3

47) There are some women and men in a meeting. The square of the number of men is less than the square of the number of women by 40. If there were four more men, the number of women would have been same as that of the men. The total number of the men and women in the meeting are: / एक बैठक में कुछ महिलाएं और पुरुष हैं। पुरुषों की संख्या का वर्गफल महिलाओं की संख्या के वर्गफल से 40 कम है। यदि वहाँ चार और पुरुष होते तो, महिलाओं की संख्या पुरुषों की संख्या के बराबर होता। बैठक में पुरुषों और महिलाओं की कुल संख्या है:

- A) 8
- B) 10
- C) 17
- D) 22

48) Find the code similar to the one given below

G : U

/ नीचे दिए गए कूट के समान कूट ज्ञात करें।

G : U

A) K : P

B) I : S

C) M : N

D) C : X

49) A,B,C,D,E and F are the six members of the family. There are two married couples in the family. Each of them like different ice-cream flavours viz Vanilla, Mango, Butterscotch, Strawberry, Blackcurrant and Chocolate. A's wife likes Vanilla. E's daughter-in-law likes Mango. F's daughter likes Strawberry and his son likes Chocolate. If the youngest boy in the family is B, then the youngest girl doesn't seem to be D. The eldest person in the family likes Butterscotch. If all of them are arranged according (ascending order) to their ages, then who will be the last female in the list ? / A, B, C, D, E और F एक परिवार के छः सदस्य हैं। परिवार में दो विवाहित जोड़े हैं। उनमें से हर एक को अलग अलग आइसक्रीम के स्वाद पसंद हैं नामशः वैनिला, मैंगो, बटरस्काँच, स्ट्रॉबेरी, ब्लैक करन्ट और चॉकलेट। A की पत्नी को वैनिला पसंद है। E की बहू को मैंगो पसंद है। F की बेटी को स्ट्रॉबेरी पसंद है और बेटे को चॉकलेट पसंद है। अगर परिवार में सबसे कम उम्र का लड़का B है तो, सबसे कम उम्र की लड़की D नहीं हो सकती है। परिवार में उम्र में सबसे बड़े व्यक्ति को बटरस्काँच पसंद है। अगर उन सभी को उनकी उम्र के हिसाब से क्रमित (आरोही क्रम) किया जाए तो, सूची में अंतिम महिला कौन होगी?

A) C

B) The one who likes Strawberry / वो जो स्ट्रॉबेरी पसंद करती है

C) D

D) The one who likes Vanilla / वो जो वैनिला पसंद करती है

50) Vinay, Anshul, Nitin and Gauri are the four children of Mr. Kapoor. Nitin is older than two brothers only. Who is the first child of Mr. Kapoor if Gauri is the only daughter of Mr.Kapoor? / विनय, अंशुल, नितिन और गौरी मिस्टर कपूर के चार बच्चे हैं। नितिन केवल दो भाइयों से बड़ा है। मिस्टर कपूर का पहला बच्चा कौन है यदि गौरी मिस्टर कपूर की इकलौती बेटी है।

A) Vinay / विनय

B) Nitin / नितिन

C) Gauri / गौरी

D) Anshul / अंशुल

51) What comes in place of question mark (?) in the series given below? / नीचे दिए गए श्रृंखला में प्रश्न चिह्न (?) के स्थान पर क्या आता है?

2, 1, 0, -3, -24, ?

- A) -273
- B) -267
- C) -270
- D) -264

52) M is the father of K who is a doctor. L is the daughter of T who is a housewife. N is the father of L's only brother who is a Lawyer. K's mother who is a Nurse is the wife of a Lawyer. There are two twin sisters X & Y whose father is M and their profession is Teaching and Tailoring respectively. L, is the Principal of a school, who is unmarried. There is only 1 lawyer in the family. How is the Tailor related to the Principal? / M, K का पिता है जो एक डॉक्टर है। L, T की बेटी है जो एक गृहिणी है। N, L के इकलौते भाई का पिता है जो एक वकील है। K की माँ जो एक नर्स है, एक वकील की पत्नी है। X और Y दो जुड़वां बहनें हैं जिनके पिता M है और उनके पेशे क्रमशः पढ़ाना और सिलाई है। L एक स्कूल के प्रिंसिपल हैं जो अविवाहित हैं। परिवार में केवल 1 वकील है। दर्जी, प्रिंसिपल से कैसे संबंधित है?

- A) Aunt / बुआ
- B) Nephew / भतीजा
- C) Niece / भतीजी
- D) Sister / बहन

53) In what way can this set be classified into two different sets: (17, 21, 289, 27, 729, 31, 441, 961)? / किस तरीके से यह समुच्चय दो अलग-अलग समुच्चय में वर्गीकृत किया जा सकता है: (17, 21, 289, 27, 729, 31, 441, 961)?

- A) (17, 21, 27, 31) and (289, 441, 729, 961) / (17, 21, 27, 31) और (289, 441, 729, 961)
- B) (17, 21, 961, 31) and (289, 441, 729, 27) / (17, 21, 961, 31) और (289, 441, 729, 27)
- C) (17, 441, 27, 31) and (289, 21, 729, 961) / (17, 441, 27, 31) और (289, 21, 729, 961)
- D) (729, 21, 27, 31) and (289, 441, 17, 961) / (729, 21, 27, 31) और (289, 441, 17, 961)

54) Which term of the given series would be the first one to have one digit: 98, 93, 88, 83, 78,? / दी गई श्रृंखला में एक अंकीय पहली संख्या कौन सी होगी: 98, 93, 88, 83, 78,?

- A) 21st / 21वीं
- B) 19th / 19वीं
- C) 18th / 18वीं
- D) 20th / 20वीं

Following are the conditions for selecting a Cartoon Animator. The candidate must:	एक कार्टून एनिमेटर के चयन के लिए शर्तें निम्नलिखित हैं। उम्मीदवार को:
(i) have completed an Animation course.	(i) एनीमेशन कोर्स पूरा किया होना चाहिए।
(ii) be a graduate in any discipline with 65% marks.	(ii) 65% अंकों के साथ किसी भी विषय में ग्रेजुएट होना चाहिए।
(iii) have a post qualification work experience of atleast 2 years in any multimedia company.	(iii) क्वालिफिकेशन के बाद किसी भी मल्टिमीडिया कंपनी में कम से कम 2 साल का कार्यानुभव होना चाहिए।
(iv) be less than 30 years of age.	(iv) 30 साल से कम उम्र का होना चाहिए।
In the case of a candidate who satisfies all the conditions:	अगर एक उम्मीदवार सभी शर्तों को पूरा करता है:
(A) If NOT (ii) above, but has scored more than 70% in Class X, the case may be referred to the General Manager.	(A) सिवाय उपरोक्त (ii) के, लेकिन दसवीं कक्षा में 70% से अधिक प्राप्त किया है तो, मामला महाप्रबन्धक को भेजा जाए।
(B) If NOT (iii) above, but has a post-graduation degree, the case may be referred to Chief Executive Officer (CEO).	(B) सिवाय उपरोक्त (iii) के, लेकिन एक पोस्ट-ग्रेजुएशन डिग्री है तो, मामला मुख्य कार्यपालन अधिकारी (CEO) को भेजा जाए।
(C) If NOT (iv) above, but has a work experience of atleast 4 years in any multimedia company, the case may be referred to the Managing Director.	(C) सिवाय उपरोक्त (iv) के, लेकिन किसी भी मल्टिमीडिया कंपनी में कम से कम 4 साल का कार्यानुभव है तो, मामला प्रबंध संचालक को भेजा जाए।
Based on the above information and criteria given in each of the following questions, you have to take decision.	उपरोक्त जानकारी और नीचे दिए गए प्रत्येक प्रश्न में दिए गए मापदंडों के आधार पर आपको निर्णय लेना होगा।

55) These cases are given to you as on 10th November, 2016.

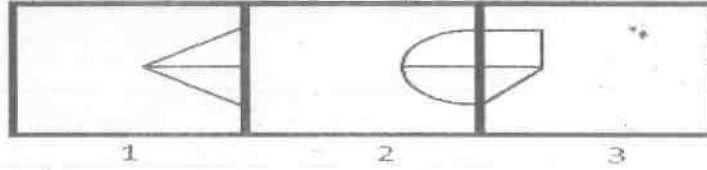
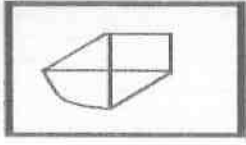
Candidate's Information : Mohit Deol, 24 year old fresher, has secured 72% marks in graduation and has completed a diploma in animation technology. His maximum qualification is graduation. He should be:

/ ये सभी मामले आपको नवंबर 10, 2016 की तारीख को दिए गए हैं।

उम्मीदवार की जानकारी: मोहित देओल, 24 वर्षीय नवसिखुआ ने ग्रेजुएशन में 72% अंक हासिल किया है और उसने एनीमेशन प्रौद्योगिकी के क्षेत्र में डिप्लोमा पूरा किया है। उसका अधिकतम क्वालिफिकेशन ग्रेजुएशन है। उसे

- A) referred to the General Manager / महाप्रबन्धक के पास भेजा जाना चाहिए
- B) referred to the Managing Director / प्रबंध संचालक के पास भेजा जाना चाहिए
- C) Rejected / चयन नहीं करना चाहिए
- D) Selected / चयन करना चाहिए

56) A figure is given on the left with a pattern. Observe and find out which of the three images on the right looks similar to the right half of this pattern? / बाई ओर एक पैटर्न के साथ एक चित्र दी गई है। ध्यानपूर्वक देखिए और बताइए कि दाई ओर की तीन चित्रों में से कौन इस पैटर्न के दाई अर्ध हिस्से के समान दिखाई पड़ती है?



- A) 1
B) 2
C) 3
D) Both 1 and 2 / 1 और 2 दोनों

57) What number should come next in the series given below? / नीचे दिए गए श्रृंखला में अगली संख्या कौनसी आनी चाहिए?
0, 1, 9, 36, 100, 225, ?

- A) 441
B) 400
C) 421
D) 484

58) In a certain code language, BOOK IS NICE is written as 425; BOOK AND PAPER is written as 267 and PAPER AND PENCIL is written as 768, then find code for BOOK. / एक निश्चित कूट-भाषा में BOOK IS NICE को 425 के रूप में लिखा जाता है; BOOK AND PAPER को 267 के रूप में लिखा जाता है और PAPER AND PENCIL को 768 के रूप में लिखा जाता है तो, BOOK के लिए कूट ज्ञात करें।

- A) 7
B) 6
C) 2
D) 4

59) A car is insured to the extent of $\frac{1}{5}$ th of its original value. If the premium on it at the rate of 2.5 % amounts to Rs. 1000, the original value of the car is / एक कार की बीमा उसके मूल राशि के $\frac{1}{5}$ गुना तक की जाती है। यदि उसकी प्रीमियम 2.5% की दर से रु. 1000 हो जाती है, तो कार का मूल मूल्य है

- A) Rs. 1,30,500
B) Rs. 4,50,000
C) Rs. 2,00,000
D) Rs. 1,00,000

60) In what way can this set be classified into two different sets(considering vowels and consonants): (B, H, T, E, O, A, M, U, P)? / किस तरीके से इस समुच्चय को दो विभिन्न सेटों में वर्गीकृत किया जा सकता है (स्वरोँ और व्यंजनों पर विचार करते हुए): (B, H, T, E, O, A, M, U, P)?

- A) (E, O, A, U) and (B, H, T, M, P) / (E, O, A, U) और (B, H, T, M, P)
- B) (E, T, A, U) and (B, H, O, M, P) / (E, T, A, U) और (B, H, O, M, P)
- C) (E, O, A, B) and (U, H, T, M, P) / (E, O, A, B) और (U, H, T, M, P)
- D) (H, O, A, U) and (B, E, T, M, P) / (H, O, A, U) और (B, E, T, M, P)

Section 2 - PART B

No. of Questions: 60

61) Union Minister of HRD, Government of India inaugurated the world's largest digital nation-building initiative in November 2016, what is the name of the initiative? / केन्द्रीय मंत्री HRD, भारत सरकार ने नवंबर 2016 में दुनिया के सबसे बड़े डिजिटल राष्ट्र-निर्माण की पहल का उद्घाटन किया, पहल का नाम क्या है?

- A) Innovative Digital Solutions 2017 / इनोवेटिव डिजिटल सोल्यूशन्स 2017
- B) India's Technology Talent 2017 / इंडिया'स टेक्नोलॉजी टैलेंट 2017
- C) Digital Nation Building 2017 / डिजिटल नेशन बिल्डिंग 2017
- D) Smart India Hackathon 2017 / स्मार्ट इंडिया हैकथॉन 2017

62) Which of the following terms in sports belongs to Golf? / खेलों में निम्नलिखित शब्दों में से कौन सा गोल्फ से संबंधित है?

- A) Trackrace / ट्रैकरेस
- B) Birdie / बर्डि
- C) Mallet / मैलेट
- D) Cocoa / कोकोआ

63) Which European power founded their first factory in Masaulipatam in Andhra Pradesh, in 1605? / किस यूरोपीय शक्ति ने 1605 में, आंध्र प्रदेश के मसौलीपट्टनम में अपना पहला कारखाना स्थापित किया गया था?

- A) The British / ब्रिटिश
- B) The French / फ्रांसीसी
- C) The Portuguese / पुर्तगाली
- D) The Dutch / डच

64) Burma was completely separated from India through / बर्मा को भारत से किस माध्यम से पूर्णतः अलग कर दिया गया था?

- A) Constitution of India, 1950 / भारतीय संविधान, 1950
- B) Government of India Act, 1919 / भारत सरकार अधिनियम, 1919
- C) Government of India Act, 1935 / भारत सरकार अधिनियम, 1935
- D) Constitutional amendment / संवैधानिक संशोधन

65) The enzyme pepsin present inside the stomach helps in digestion of / पेट के अंदर मौजूद एंजाइम पेप्सिन किसके पाचन में मदद करता है?

- A) Minerals / खनिज पदार्थ
- B) Carbohydrates / कार्बोहाइड्रेट्स
- C) Fats / वसा
- D) Proteins / प्रोटीन्स

66) Who is empowered to remove difficulties that may arise while implementing temporary or transitional provisions? / अस्थायी या संक्रमणकालीन प्रावधानों को लागू करते समय सामने आने वाली कठिनाइयों को दूर करने का अधिकार इनमें से किसे है?

- A) State Legislature / राज्य विधायिका
- B) Federal Court / संघीय न्यायालय
- C) Parliament / संसद
- D) President / राष्ट्रपति

67) What is animal husbandry? / पशुपालन क्या है?

- A) Practice of randomly breeding and raising farm animals by humans / मनुष्य द्वारा यादृच्छिक रूप से फार्म पशुओं का जनन तथा पालन करना
- B) Practice of selectively breeding and raising cows by humans / मनुष्य द्वारा चयन करके गायों का जनन तथा पालन करना
- C) Practice of selectively breeding and raising wild animals by humans / मनुष्य द्वारा चयन करके जंगली पशुओं का जनन तथा पालन करना
- D) Practice of selectively breeding and raising farm animals by humans / मनुष्य द्वारा चयन करके फार्म पशुओं का जनन तथा पालन करना

68) Exports means Goods and services that are sold abroad, and Imports means Goods and services purchased from abroad. Net exports are negative when \ निर्यात का अर्थ होता है माल और सेवाओं को विदेशों में बेचना और आयात का अर्थ होता है माल और सेवाओं को विदेश से खरीदना। शुद्ध निर्यात तब नकारात्मक होता है, जब

- A) exports are exceeded by imports \ निर्यात आयात को पार कर देता है
- B) net investment is positive \ शुद्ध निवेश सकारात्मक होता है
- C) imports are exceeded by exports \ आयात निर्यात को पार कर देता है
- D) exports exceed private transfers to foreigners \ निर्यात विदेशियों के लिए निजी स्थानान्तरण को पार कर देता है

69) When was the National Human Rights Commission (NHRC) set up by law in India? / भारत में राष्ट्रीय मानवाधिकार आयोग (एनएचआरसी) का गठन कानून द्वारा कब किया गया था?

- A) 1999
- B) 1989
- C) 1993
- D) 1990

70) Preparation of milk powder from milk is an example of : / दूध से दूध पाउडर को तैयार करना किसका एक उदाहरण है?

- A) Morphological change / आकृतिक परिवर्तन
- B) Physical change / भौतिक परिवर्तन
- C) Biological change / जैविक परिवर्तन
- D) Chemical change / रासायनिक परिवर्तन

71) What is the total area of the Andaman & Nicobar Island groups? / अंडमान एवं निकोबार द्वीप समूह का कुल क्षेत्र कितना है?

- A) 6,249 sq. km / 6,249 वर्ग किमी
- B) 7,449 sq. km / 7,449 वर्ग किमी
- C) 9,249 sq. km / 9,249 वर्ग किमी
- D) 8,249 sq. km / 8,249 वर्ग किमी

72) A devotional saint who was a cobbler by profession is / भक्तिपरक संत जो पेशे से एक मोची था, वो है

- A) Raidas / रैदास
- B) Surdas / मूरदास
- C) Tulsidas / तुलसीदास
- D) Mira Bai / मीरा बाई

73) The small scale industry with highest importance in India is \ भारत में सबसे अधिक महत्व वाले लघु उद्योग है

- A) Handloom \ हथकरघा
- B) Jute \ जूट
- C) Gems and jewellery \ रत्न और आभूषण
- D) Textile \ वस्त्र

74) National Handloom Day is celebrated on / राष्ट्रीय हैंडलूम दिवस किस दिन मनाया जाता है?

- A) 30th January / 30 जनवरी
- B) 2nd October / 2 अक्टूबर
- C) 7th August / 7 अगस्त
- D) 5th September / 5 सितम्बर

75) In the biggest consolidation deal in the telecom sector in September 2016, Reliance Communications Ltd merged its mobile phone services business with / सितंबर 2016 में दूरसंचार क्षेत्र में सबसे बड़े समेकन सौदे में रिलायंस कम्युनिकेशंस लिमिटेड ने किसके साथ अपना मोबाइल फोन सेवा कारोबार का विलय कर दिया?

- A) Telenor India / टेलीनॉर इंडिया
- B) Tata DoCoMo / टाटा डोकोमो
- C) Aircel / एयरसेल
- D) MTS India / MTS इंडिया

76) In November 2016, which Indian has been elected by the UN General Assembly to the UN International Law Commission (ILC)? / नवंबर 2016 में कौन सा/सी भारतीय, संयुक्त राष्ट्र अंतर्राष्ट्रीय विधि आयोग (ILC) के लिए संयुक्त राष्ट्र महासभा द्वारा निर्वाचित हुआ/ई है?

- A) Gopal Subramaniam / गोपाल सुब्रमण्यम
- B) Mahesh Jethmalani / महेश जेठमलानी
- C) Aniruddha Rajput / अनिरुद्ध राजपूत
- D) Pinky Anand / पिकी आनंद

77) A concave mirror of focal length 20 cm is to be used as a shaving mirror. Which of the following is the suitable object distance from the mirror? / 20 सेंटीमीटर फोकस दूरी वाले एक अवतल दर्पण को एक शेविंग दर्पण के रूप में इस्तेमाल किया जाना है। निम्न में से कौन सा दर्पण से उपयुक्त बिंब दूरी है?

- A) 30 cm / 30 सेंटीमीटर
- B) 10 cm / 10 सेंटीमीटर
- C) 20 cm / 20 सेंटीमीटर
- D) 40 cm / 40 सेंटीमीटर

78) Which Ministry of Govt. of India plans to set up a three-tier national network of Viral Research and Diagnostic Laboratories to handle around 30-35 viruses of public health importance? / भारत सरकार का कौन सा मंत्रालय सार्वजनिक स्वास्थ्य महत्व के लगभग 30-35 वायरस को संभालने के लिए विषाणु अनुसंधान और नैदानिक प्रयोगशालाओं की तीन स्तरीय राष्ट्रीय नेटवर्क स्थापित करने के लिए योजना बना रही है?

- A) Chemicals and Fertilizers / रसायन और उर्वरक
- B) Health and Family Welfare / स्वास्थ्य एवं परिवार कल्याण
- C) Department of Pharmaceuticals / औषधि विभाग
- D) Science and Technology / विज्ञान और तकनीक

79) Who has launched their first full-scale Cyber Security Engagement Center (CSEC) in India in October 2016? / अक्टूबर 2016 में भारत में किसने अपनी पहली व्यापक साइबर सेक्युरिटी एंगेजमेंट सेंटर (CSEC) शुरू की?

- A) Dell India / डेल इंडिया
- B) Yahoo India / याहू इंडिया
- C) Microsoft India / माइक्रोसॉफ्ट इंडिया
- D) Google India / गूगल इंडिया

80) Which of the following accounts for the high growth rate of population in India? \ निम्न में से कौन सा भारत में जनसंख्या की उच्च विकास दर में कारक है?

- A) The birth rate has grown while death rate has declined \ जन्म दर बढ़ी है जबकि मृत्यु दर में कमी आई है
- B) Growing birth rate \ बढ़ता जन्म दर
- C) The much slower decline in birth rate than the decline in death rate \ मृत्यु दर में गिरावट की तुलना में जन्म दर में धीमी गिरावट
- D) Declining death rate \ घटती मृत्यु दर

81) The Meerut Mutiny marked the beginning of which revolt in India? / भारत में मेरठ बगावत किस विद्रोह की शुरुआत मानी जाती है?

- A) The Kol Revolt / कोल विद्रोह
- B) The Santal Revolt / संथाल विद्रोह
- C) The Chuar Revolt / चुआर विद्रोह
- D) The Revolt of 1857 / 1857 का विद्रोह

82) In which state of India is the Mawsmi Caves situated? / माक्समाई गुफाएं भारत के किस राज्य में स्थित हैं?

- A) Assam / असम
- B) Meghalaya / मेघालय
- C) Mizoram / मिज़ोरम
- D) Himachal Pradesh / हिमाचल प्रदेश

83) In November 2016, who has tied up with Archaeological Survey of India (ASI) for 360 degree virtual tour of 280-odd monuments across the country? / नवंबर 2016 में किसने देश भर में 280 के करीब स्मारकों के 360 डिग्री वर्चुअल टूर के लिए भारतीय पुरातत्व सर्वेक्षण (ASI) के साथ करार किया है?

- A) Google / गूगल
- B) Facebook / फेसबुक
- C) Instagram / इंस्टाग्राम
- D) Yahoo / याहू

84) Under which category has the Indian Bison been listed in the IUCN Red List published in 2016? / 2016 में प्रकाशित IUCN रेड सूची में भारतीय बाइसन को किस श्रेणी के अंतर्गत सूचीबद्ध किया गया है?

- A) Vulnerable / चपेट में
- B) Near Threatened / खतरे के पास
- C) Critically Endangered / गंभीर खतरे में
- D) Endangered / लुप्तप्राय

85) Which of the following teams won the Duleep Trophy tournament for 2016? / निम्न में से किस टीम ने 2016 में दलीप ट्रॉफी टूर्नामेंट जीता है?

- A) India Blue / इंडिया ब्लू
- B) India Red / इंडिया रेड
- C) India Green / इंडिया ग्रीन
- D) India Yellow / इंडिया एल्लो

86) Jason McCracken, the Chief Executive Officer (CEO) of International Hockey Federation (FIH) belongs to which of the following countries? / जेसन मैक्रैकन, अंतर्राष्ट्रीय हॉकी महासंघ (FIH) के मुख्य कार्यपालन अधिकारी (CEO) निम्नलिखित देशों में से किससे संबंधित हैं?

- A) Australia / ऑस्ट्रेलिया
- B) England / इंग्लैंड
- C) New Zealand / न्यूजीलैंड
- D) Netherland / नीदरलैंड

87) Which of the following European Football clubs is based in United Kingdom? / निम्न में से कौन सा यूरोपीय फुटबॉल क्लब यूनाइटेड किंगडम में स्थित है?

- A) FC Barcelona / एफ सी बार्सिलोना
- B) Real Madrid / रियल मैड्रिड
- C) Manchester United / मैनचेस्टर यूनाइटेड
- D) Atletico Madrid / एटलेटिको मैड्रिड

88) One of the most important developments in the struggle for freedom was the formation of Indian National Army. Who was the first to think of forming such an army? / आजाद हिंद फौज का गठन स्वतंत्रता संघर्ष में सबसे महत्वपूर्ण प्रगतियों में से एक था। ऐसी सेना के गठन के बारे में सबसे पहले किसने सोचा था?

- A) Rash Behari Bose / रास बिहारी बोस
- B) Khudiram Bose / खुदीराम बोस
- C) Basant Kumar Biswas / बसंत कुमार बिस्वास
- D) Prafulla Chaki / प्रफुल्ल चाकी

89) Which script was used in Pakistan region, that is written mostly from right to left? / पाकिस्तान क्षेत्र में किस लिपि का प्रयोग किया जाता था, जिसे ज्यादातर दाईं से बाईं ओर लिखा जाता है?

- A) Devanagari / देवनागरी
- B) Gurmukhi / गुरुमुखी
- C) Kharoshthi / खरोष्ठी
- D) Brahmi / ब्राह्मी

90) "Where cases involving substantially the same questions of law pending before Supreme Court or in one or more High Courts then the former can withdraw such cases and dispose the same suo motu". Correlate the content to the relevant article. / "जहाँ उच्चतम न्यायालय या एक या अधिक उच्च न्यायालय में कानून के एक ही प्रश्न से संबंधित मामले लम्बित हैं, तो वहाँ पूर्ववर्ती ऐसे मामलों को वापस ले सकते हैं और स्वप्रेरणा से उनका निपटान कर सकते हैं"। इस कथन का संबंध परस्पर प्रासंगिक अनुच्छेद से बताइए।

- A) 141
- B) 140
- C) 142
- D) 139A / 139ए

91) At which of the following places was the first Winter Olympics held in 1924? / 1924 में निम्न स्थानों में से कहाँ सबसे पहला शीतकालीन ओलंपिक आयोजित किया गया था?

- A) Montreal, Canada / मॉन्ट्रियल, कनाडा
- B) Sochi, USSR / सोची, USSR
- C) Vancouver, Canada / वैंकूवर, कनाडा
- D) Chamonix, France / चेमोनिक्स, फ्रांस

92) Based on the cotyledons, which one of the following is odd? / बीजपत्र के आधार पर निम्नलिखित में से कौन सा विषम है?

- A) Gram / ग्राम
- B) Tomato / टमाटर
- C) Pea / मटर
- D) Wheat / गेहूँ

93) Who among the following have received the prestigious Ramon Magsaysay award for the year 2016? / निम्नलिखित में से किन्हें वर्ष 2016 के लिए प्रतिष्ठित रमन मैगसेसे पुरस्कार प्राप्त हुआ है?

- A) Sanjiv Chaturvedi and Anshu Gupta / संजीव चतुर्वेदी और अंशु गुप्ता
- B) Deep Joshi and Prakash Amte / दीप जोशी और प्रकाश आमटे
- C) Bezwada Wilson and T. M. Krishna / बेजवाड़ा विल्सन और T. M. कृष्णा
- D) Harish Hande and Nileema Mishra / हरीश हांडे और नीलिमा मिश्रा

94) What is DNS pertaining to Internet? / इंटरनेट से संबंधित DNS क्या है?

- A) Decimal Naming Structure / डेसिमल नेमिंग स्ट्रक्चर
- B) Digital Network System / डिजिटल नेटवर्क सिस्टम
- C) Domain Name System / डोमेन नेम सिस्टम
- D) Data Network System / डेटा नेटवर्क सिस्टम

95) Which of the following is the world's first vaccine developed by Indian Immunologicals Limited (IIL) to fight against Taenia solium Tapeworms in pigs? / निम्न में से कौन सा एक मुअरों में टाइनिया सोलियम टेपवार्म के खिलाफ लड़ने के लिए इंडियन इम्यूनोलॉजिकल्स लिमिटेड (IIL) द्वारा तैयार विश्व का पहला टीका है?

- A) Haemophilus influenzae type b (Hib) / हेमोफिलस इन्फ्लुएंजा टाइप b (Hib)
- B) Tapervax / टेपरवेक्स
- C) ZIKAVAC / ZIKAVAC
- D) CYSVAX / CYSVAX

96) The essential element which is present in proteins, but absent in fats or carbohydrates is / अत्यावश्यक तत्व जो प्रोटीन में मौजूद होता है, लेकिन वसा या कार्बोहाइड्रेट में नहीं पाया जाता है, यह निम्न में से कौन सा है?

- A) Phosphorous / फॉस्फोरस
- B) Sulphur / सल्फर
- C) Carbon / कार्बन
- D) Nitrogen / नाइट्रोजन

97) On which of the following rivers is the Tehri dam project constructed? / निम्न में से किस नदी पर टिहरी बांध परियोजना का निर्माण किया गया है?

- A) Yamuna / यमुना
- B) Ganga / गंगा
- C) Chambal / चंबल
- D) Bhagirathi / भागीरथी

98) Which of the following is the highest peak of the Satpura mountain range? / निम्नलिखित में से कौन सतपुरा पर्वत श्रृंखला की सबसे ऊँची चोटी है?

- A) Chembra Peak / चेम्ब्रा शिखर
- B) Meesapulimala / मीसापुलिमाला
- C) Banasura Hill / बनसुरा पर्वत
- D) Dhupgarh / धूपगढ़

99) How many times is Bihu celebrated in Assam during a calendar year? / कैलेंडर वर्ष के दौरान असम में बिहू कितनी बार मनाया जाता है?

- A) Two / दो
- B) Four / चार
- C) One / एक
- D) Three / तीन

100) Which of the following is a tributary of river Mahanadi? / निम्नांकित में से कौन सा महानदी की उपनदी है?

- A) Arkavathy / अर्कावती
- B) Kabini / कविनी
- C) Ghataprabha / घटप्रभा
- D) Seonath / शिओनाथ

101) Indian Railways won the World Railway Shooting Championship Cup held at which of the following location in the world? / भारतीय रेल ने दुनिया में निम्न स्थानों में से कहाँ आयोजित विश्व रेलवे शूटिंग चैम्पियनशिप कप जीता?

- A) Wellington, New Zealand / वेलिंगटन, न्यूजीलैंड
- B) Vancouver, Canada / वैंकूवर, कनाडा
- C) Saint Mandrier, France / सेंट मैनड्रियर, फ्रांस
- D) Melbourne, Australia / मेलबोर्न, ऑस्ट्रेलिया

102) Mansur and Manohar were the most famous painters in which Mughal Emperor's court? / किस मुगल साम्राज्य के दरबार में मंसूर और मनोहर सबसे प्रसिद्ध चित्रकार थे?

- A) Aurangzeb / औरंगजेब
- B) Jahangir / जहांगीर
- C) Humayun / हुमायूँ
- D) Babur / बाबर

103) Which was the last composition of Goswami Tulsidas? / गोस्वामी तुलसीदास की अंतिम रचना कौन सी थी?

- A) Parvati Mangal / पार्वती मंगल
- B) Ramcharitmanas / रामचरितमानस
- C) Gitavali / गीतावली
- D) Vinaya Patrika / विनय पत्रिका

104) During Maratha rule, "Chauth" was a/an / मराठा शासन के दौरान, "चौथ"

- A) Land Tax imposed by Shivaji on neighboring states / पड़ोसी राज्यों पर शिवाजी द्वारा लगाया गया भूमि कर था
- B) Toll Tax imposed by Shivaji / शिवाजी द्वारा लगाया गया पथ कर था
- C) Religious tax imposed by Shivaji / शिवाजी द्वारा लगाया गया धार्मिक कर था
- D) Irrigation tax imposed by Shivaji / शिवाजी द्वारा लगाया गया सिंचाई कर था

105) What is the time difference between IST and GMT? / IST और GMT के बीच का समय अंतर कितना है?

- A) 4:30 hrs / 4:30 घंटे
- B) 6 hrs / 6 घंटे
- C) 5 hrs / 5 घंटे
- D) 5:30 hrs / 5:30 घंटे

106) The GNP (Gross National Product) deflator is the ratio of \ GNP (मकल राष्ट्रीय उत्पाद) अपस्फीतिकारक किसका अनुपात है?

- A) nominal GNP to real GNP \ नाममात्र GNP से वास्तविक GNP
- B) real GNP to nominal GDP \ वास्तविक GNP से नाममात्र GDP
- C) nominal GNP to nominal GDP \ नाममात्र GNP से नाममात्र GDP
- D) real GNP to real GDP \ वास्तविक GNP से वास्तविक GDP

107) Under the Indian Constitution, the responsibility of the enforcement of Fundamental Rights lies with \ भारतीय संविधान के अंतर्गत मौलिक अधिकारों के प्रवर्तन का दायित्व किसमें निहित है

- A) The Attorney General \ अटॉर्नी जनरल
- B) The Solicitor General \ सॉलिसिटर जनरल
- C) The High Court and the Supreme Court \ उच्च न्यायालय और उच्चतम न्यायालय
- D) The Parliament \ संसद

108) Which of the following scientist coined the word "cybernetics"? / निम्न में से किस वैज्ञानिक ने "साइबरनेटिक्स" शब्द का आविष्कार किया था?

- A) Elmer A. Sperry / एल्मर ए. स्पेरी
- B) Emil von Behring / एमिल वॉन बेहरिंग
- C) Norbert Wiener / नोबर्ट वीनर
- D) Jacques-Yves Cousteau / जैक्स-यवेस काउस्टीयो

109) The primary lawyer of the Supreme Court of India is \ भारत के उच्चतम न्यायालय के प्राथमिक वकील कौन होते हैं

- A) Chief Justice of India \ भारत के मुख्य न्यायाधीश
- B) Secretary, Ministry of Law \ सचिव, कानून मंत्रालय
- C) Solicitor General of India \ भारत के सॉलिसिटर जनरल
- D) Attorney General of India \ भारत के अटॉर्नी जनरल

110) Which of the following is NOT one of the five physical symbols worn by Sikhs who have been initiated into the Khalsa? / निम्न में से कौन सा खालसा में दीक्षित सिखों द्वारा पहने जाने वाले पाँच शारीरिक चिन्हों में से एक नहीं है?

- A) Kirpan / कृपाण
- B) Kesh / केश
- C) Kajal / काजल
- D) Kangha / कंघा

111) Congress provincial ministers resigned in 1939, as / 1939 में कॉन्ग्रेस के प्रांतीय मंत्रियों ने क्यों त्यागपत्र दिया था?

- A) Defence and External affairs was reserved for centre / क्योंकि रक्षा और विदेशी मामलों को केंद्र के लिए आरक्षित किया गया था
- B) Moderate Nationalists support was not accorded / क्योंकि आधुनिक राष्ट्रवादियों का समर्थन अनुकूल नहीं था
- C) Viceroy declared that India was at war with Germany without consulting Indians / क्योंकि वायसराय ने यह घोषणा की थी कि भारत ने भारतीयों से परामर्श किए बिना जर्मनी के साथ युद्ध में था
- D) Viceroy's behaviour was constitutionally valid / क्योंकि वायसराय का व्यवहार संवैधानिक रूप से वैध था

112) Who acts as the Chairman of the National Integration Council? \ राष्ट्रीय एकता परिषद के अध्यक्ष के रूप में कौन कार्य करता है?

- A) The Prime Minister \ प्रधानमंत्री
- B) The Chief Justice of India \ भारत के मुख्य न्यायाधीश
- C) The Leader of opposition \ नेता विपक्ष
- D) The Union Home Minister \ केंद्रीय गृह मंत्री

113) The Council of Ministers remain in office as long as they enjoy the confidence of the / मंत्रिपरिषद तब तक पदामीन रहती है जब तक उसके पास

- A) President / राष्ट्रपति का विश्वास रहता है
- B) Lok Sabha / लोकसभा का विश्वास रहता है
- C) Prime Minister / प्रधान मंत्री का विश्वास रहता है
- D) Parliament / संसद का विश्वास रहता है

114) Which one of the following is known as the 'soul of the constitution and very heart of it'? / निम्न में से किसे 'संविधान की आत्मा और उसके मन' के रूप में जाना जाता है?

- A) The Preamble / प्रस्तावना
- B) The Right against exploitation / शोषण के विरुद्ध अधिकार
- C) The Right to Constitutional Remedies / संवैधानिक उपचारों का अधिकार
- D) The Fundamental Right to Freedom / स्वतंत्रता का मौलिक अधिकार

115) Narsi Mehta an exponent of Vaishnava poetry, wrote devotional songs in which language? / वैष्णव कविता के एक प्रतिपादक, नरसी मेहता ने किस भाषा में भक्ति गीत लिखा था?

- A) Punjabi / पंजाबी
- B) Marathi / मराठी
- C) Gujarati / गुजराती
- D) Bangla / बांग्ला

116) As per the economic theory, increase in demand of a good occurs due to \ आर्थिक सिद्धांत के अनुसार, वस्तु की मांग में वृद्धि किसके कारण होती है?

- A) an increase in the price of complementary goods \ पूरक वस्तुओं की कीमत में वृद्धि
- B) a reduction in the price of substitute goods \ स्थानापन्न वस्तुओं की कीमत में कमी
- C) a decrease in income \ आय में कमी
- D) an increase in income \ आय में वृद्धि

117) What is Article 31A of the Indian constitution? / भारतीय संविधान का अनुच्छेद 31ए क्या है?

- A) Saving of laws providing for acquisition of estates, etc. / सम्पदा आदि का अधिग्रहण उपलब्ध कराने के कानूनों के अपवाद के साथ
- B) Compulsory acquisition of property / संपत्ति का अनिवार्य अधिग्रहण
- C) Validation of certain Acts and Regulations / कुछ अधिनियमों और विनियमों का विधिमान्यकरण
- D) Saving of laws giving effect to certain directive principles / कुछ निर्देशक सिद्धांतों को प्रभावी करने के कानूनों के अपवाद के साथ

118) Which of the following has more resistivity - "A thick wire or a thin wire of the same material"? / निम्नलिखित में से किसमें अधिक प्रतिरोधकता है - "एक मोटी तार या एक ही सामग्री की एक पतली तार"?

- A) It depends up on the length of wires / यह तारों की लंबाई पर निर्भर करता है
- B) Thick wire / मोटी तार
- C) Thin wire / पतली तार
- D) Both have same resistivity / दोनों में एक ही प्रतिरोधकता है

119) Which of the following is the part of Concurrent List? \ समवर्ती सूची का भाग निम्न में से कौन सा है?

- A) Public health and sanitation \ लोक स्वास्थ्य और स्वच्छता
- B) Capitation taxes \ प्रतिव्यक्ति कर
- C) Treasure trove \ खजाना
- D) Population control and family planning \ जनसंख्या नियंत्रण और परिवार नियोजन

120) Which Indian state was the first to establish the Panchayati Raj System? / इनमें से कौन सा भारतीय राज्य पंचायती राज व्यवस्था को स्थापित करने में सबसे प्रथम था?

- A) West Bengal / पश्चिम बंगाल
- B) Kerala / केरल
- C) Rajasthan / राजस्थान
- D) Bihar / बिहार

Section 3 - PART C

No. of Questions: 60

121) Identify the error in the following sentence. The error, if any, will be in one part of the sentence, the number of that part is your answer. If there is no error, mark your answer as (D). (A) There are very/ (B) few fish on depths / (C) below 3000 meters. / (D) No Error.

- A) D
- B) B
- C) A
- D) C

122) Fill in the blanks with correct option:

Please send me the parcel _____ courier.

- A) by
- B) for
- C) to
- D) in

123) Choose the correct form of the verb given in brackets:

If I hadn't been in such a hurry, I (stay) to see your performance.

- A) should have stayed
- B) had stayed
- C) would have stayed
- D) stayed

124) Choose the Noun in the given sentence:

There is no hospital in the immediate vicinity.

- A) there
- B) no
- C) in
- D) vicinity

125) Choose the correct option to complete the sentence:

She won't listen to my advice so she'll have to learn the _____ way.

- A) easy
- B) simple
- C) hard
- D) difficult

126) Identify the antonym of the underlined word:

The long movie on Roman History was tedious.

- A) unexciting
- B) enthralling
- C) ramshackle
- D) monotonous

127) Choose the correct meaning of the phrase/idiom underlined in the sentence:

Many people are very clever in achieving their goal by hook or by crook.

- A) honest labour
- B) a curved tool for holding
- C) by any means
- D) hard work

128) Identify the correct synonym: Obtain

- A) Spin
- B) Roll
- C) Get
- D) Spread

129) Identify the antonym of the underlined word:

The knife has become sharp due to constant use.

- A) uneven
- B) blunt
- C) crooked
- D) rusted

130) Choose the correct option to complete the sentence:

Cars must not be parked _____ the gate.

- A) in addition to
- B) in front of
- C) by means of
- D) in regard to

131) Chose the word that is spelt correctly and fill the blanks:

The shopkeeper told her that the fridge had a five year _____.

- A) garranty
- B) guarantea
- C) guarantte
- D) guarantee

132) Fill in the blanks with the correct option:

The beat of ____ drum rose at ____ distance gradually and loudly.

- A) a, the
- B) the, the
- C) an, a
- D) the, a

133) Identify the correct synonym: Curtail

- A) Reduce
- B) Refurbish
- C) Attach
- D) Stitch

134) Chose the word that is spelt correctly and fill the blanks:

The floods _____ unexpectedly, causing huge loss to property.

- A) occured
- B) occurred
- C) occored
- D) occurred

135) Read the sentence carefully and select the underlined part that is incorrect:

Achieving heights of twelve feet, the African elephant is the taller of the two elephant species that exists.

- A) exists
- B) taller
- C) achieving
- D) is

136) Fill in the blanks with the correct verb:

He _____ the table until it gleamed.

- A) polishing
- B) have been polishing
- C) polished
- D) polish

137) Choose the correct meaning of the phrase / idiom underlined in the sentence:

Mother decided it was time to have a long heart-to-heart talk.

- A) health
- B) secret
- C) frank
- D) sentimental

138) Fill in the blanks with the correct verb:

We _____ in strange times indeed.

- A) live
- B) has lived
- C) lives
- D) living

139) Identify the error in the following sentence. The error, if any, will be in one part of the sentence, the number of that part is your answer. If there is no error, mark your answer as (D). (A) This report / (B) are full / (C) of flaws. / (D) No Error.

- A) A
- B) D
- C) B
- D) C

140) Identify the correct synonym: Pursue

- A) Train
- B) Benefit
- C) Chase
- D) Cancel

141) Choose the correct form of the verb in brackets:

He (forget) the incident by next week.

- A) forgets
- B) will have forgotten
- C) will be forgetting
- D) has forgotten

142) Identify the complex sentence:

- A) The president nodded to the crowd as he passed in the motorcade.
- B) His head nodded in agreement.
- C) He sat nodding in front of the fire.
- D) She nodded approval.

143) Read the sentence carefully and select the underlined part that is incorrect:

At 6 o'clock in the morning, Jake went to the river, to catch fish by his net.

- A) by his
- B) in the
- C) went
- D) at

144) Chose the word that is spelt correctly and fill the blanks:

The raw mangoes were _____ in the hot summer sun, for making pickle.

- A) dessiccated
- B) desiccated
- C) desicated
- D) dessicated

145) Fill in the blanks with correct option: Skill comes _____ experience.

- A) to
- B) in
- C) with
- D) for

146) Fill in the blanks with correct option:

He sold his car to tide _____ his period of unempolymnt.

- A) before
- B) over
- C) on
- D) after

147) Fill in the blanks with the correct option:

A fruit is good _____ you.

- A) for
- B) with
- C) in
- D) by

148) Fill in the blanks with the most suitable option:

She _____ the whole day.

- A) shall read
- B) was reading
- C) have read
- D) has reading

149) Fill in the blanks with the correct form of verb:

The streets _____ full of Christmas shoppers.

- A) were
- B) was
- C) is
- D) is being

150) Complete the sentence with a relative pronoun:

Uneasy lies the head _____ wears the crown.

- A) that
- B) which
- C) those
- D) who

151) Fill in the blanks with the correct option: I'm so _____ you; you deserve more.

- A) glad with
- B) glad for
- C) glad by
- D) glad in

152) Choose the correct option to complete the sentence:

Her show of grief was not genuine; she was weeping _____ tears.

- A) artificial
- B) crocodile
- C) hypocritical
- D) real

153) Fill in the blanks with the correct verb:

Each child _____ one pair of all-purpose shoes.

- A) was
- B) has
- C) have
- D) is

154) Fill in the blanks with the correct verb:

They _____ their defeat with good grace.

- A) accepted
- B) was accepting
- C) accepts
- D) accepting

155) Fill in the blanks with the correct option:

Parents never _____ their own mistakes.

- A) justified
- B) justifying
- C) justify
- D) justifies

156) Identify the meaning of the underlined phrase/idiom:

I know it's important not to get bogged down, so I decided not to study everything .

- A) slightly involved
- B) indirectly involved
- C) slowly involved
- D) totally involved

157) Change the simple sentence into a complex sentence: He admitted his guilt.

- A) He was guilty and is accepted.
- B) He admitted that he was guilty.
- C) He was guilty is accepted.
- D) He admitted and he was guilty.

158) Change the given sentence into a simple sentence:

Whatever he does, his parents will support him.

- A) He will not lose his parents'support, whatever he does.
- B) His parents will always support him, whatever he does.
- C) He will be supported by his parents, no matter what he does.
- D) All his actions will be supported by his parents.

159) Fill in the blanks with the correct option:

There was once _____ town in the heart of Karnataka.

- A) an
- B) the
- C) No article required.
- D) a

160) Fill in the blanks with the correct option: In spite of the rain, the match _____ place.

- A) was taking
- B) has taken
- C) had taken
- D) took

161) Fill in the blanks with correct option:

The money lender charges interest _____ 12 % per annum.

- A) on
- B) at
- C) in
- D) for

162) Fill in the blanks with the correct option:

Nature is ____ best teacher of life, ____ experienced person always agrees to ____ fact that nature is the best.

- A) a, an, the
- B) a, a, a
- C) the, the, an
- D) the, an, the

163) Choose the correct form of the verb in brackets:

She (go) for a walk everyday.

- A) went
- B) would go
- C) goes
- D) go

164) Fill in the blanks with the correct option:

_____ student must come for the assembly.

- A) every
- B) neither
- C) each
- D) either

165) Change the compound sentence into a complex sentence:

The boy stole the watch and he was caught.

- A) The boy stealing the watch was caught.
- B) Though the boy was caught, he was stealing the watch.
- C) The boy who stole the watch was caught.
- D) Stealing the watch the boy was caught.

166) Identify the correct synonym: Edible

- A) Poisonous
- B) Succulent
- C) Juicy
- D) Eatable

167) Identify the antonym of the underlined word:

I had to persuade her to exercise everyday.

- A) urge
- B) scold
- C) induce
- D) dissuade

168) Fill in the blanks with the correct option:

The designers _____ the dress meticulously.

- A) stitching
- B) has stiched
- C) stiched
- D) stichs

169) Identify the correct synonym of the underlined word:

She clamors to go home as soon as she gets to school.

- A) Likes
- B) Rejects
- C) Demands
- D) Refuses

170) Fill in the blanks with the correct option:

I don't want _____ tea.

- A) much
- B) many
- C) any
- D) some

171) Choose the correct option to complete the sentence:

According to a popular proverb "Birds of a _____ flock together."

- A) variety
- B) type
- C) place
- D) feather

172) Identify the correct synonym: Ebullient

- A) Melancholic
- B) Piercing
- C) Meticulous
- D) Jovial

173) Identify the antonym of the underlined word:

The females badgers slay close to their offsprings.

- A) litter
- B) parent
- C) brood
- D) lair

174) Choose the correct pronoun to complete the sentence:

The boys were not allowed to enter because _____ were wrongly attired.

- A) she
- B) he
- C) they
- D) them

175) Fill in the blanks with the correct option:

I have completed my Phd. in English and hope to be _____ University professor.

- A) an
- B) the
- C) a
- D) no article

176) Chose the word that is spelt correctly and fill the blanks:

He wrapped the child in a _____.

- A) mentle
- B) mental
- C) mantel
- D) mantle

177) Choose the Noun in the given sentence: They got through a sack of potatoes.

- A) got
- B) they
- C) sack
- D) through

178) Choose the correct meaning of the phrase / idiom underlined in the sentence:

He was cut off in the prime of life.

- A) in the best period of life
- B) in old age
- C) in childhood
- D) lost his job

179) Identify the antonym of the underlined word:

We would like to buy the house before leaving the city.

- A) purchase
- B) sell
- C) change
- D) decorate

180) Identify the antonym of the underlined word:

The amiable old man was always willing to let children play in his garden.

- A) disagreeable
- B) generous
- C) friendly
- D) ailing

Section 1 - PART A

No. of Questions: 60

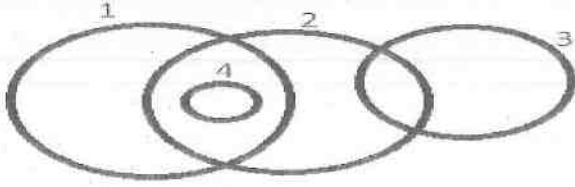
1) There are six friends with different professions viz Doctor, Architect, Engineer, Sailor, Teacher and Pilot. The sailor weighs 69 kg. The doctor weighs 7 kg less than the pilot. The pilot weighs 14 kgs more than the engineer. The engineer weighed 76 kg 2 years ago and he is gaining weight at the rate of 3 kg per year. The architect is 8 kg heavier than the pilot. Teacher weighs 21 kg less than the doctor. Four years hence, the weight of the engineer will be: / विभिन्न पेशे वाले छह दोस्त हैं नामशः डॉक्टर, वास्तुकार, इंजीनियर, नाविक, शिक्षक और पायलट। नाविक का वज़न 69 किलोग्राम है। डॉक्टर का वज़न पायलट की तुलना में 7 किलोग्राम कम है। पायलट का वज़न इंजीनियर की तुलना में 14 किलोग्राम अधिक है। इंजीनियर का वज़न 2 वर्ष पहले 76 किलोग्राम था और उसका प्रति वर्ष 3 किलोग्राम की दर से वज़न बढ़ता जा रहा है। वास्तुकार, पायलट से 8 किलोग्राम भारी है। शिक्षक का वज़न डॉक्टर की तुलना में 21 किलोग्राम कम है। अब से चार वर्ष के बाद इंजीनियर का वज़न होगा,

- A) 94 kg / 94 किलोग्राम
- B) 96 kg / 96 किलोग्राम
- C) 92 kg / 92 किलोग्राम
- D) 98 kg / 98 किलोग्राम

2) What should come in the blank space so that the series formed is in proper manner: 51, 63, 57, 69, 63, _____, 69? / रिक्त स्थान में क्या आना चाहिए ताकि श्रृंखला सही प्रारूप ले: 51, 63, 57, 69, 63, _____, 69?

- A) 69
- B) 75
- C) 72
- D) 78

3) An image is made from multiple geometric figures (marked with numbers). In the image, some regions are formed. In each of these regions, as many dots are to be placed as the number of geometric figures that has this as a part of it. In total, how many dots will be placed in the image? / एक चित्र को कई ज्यामितीय आकृतियों से बनाया गया है (संख्याओं से चिह्नित)। चित्र में, कुछ क्षेत्रों को बनाया गया है। इस प्रत्येक क्षेत्र में, उतने ही बिंदु स्थापित करने हैं, जितनी ज्यामितीय आकृतियों की संख्या, जो इसका हिस्सा है। कुल मिलाकर, चित्र में कितने बिंदु स्थापित करने होंगे?



- A) 10
- B) 14
- C) 8
- D) 12

4) Below is given a figure, formed by four straight lines each of length 4 cm. If this figure is to be made through dots such that distance between two consecutive dots is 1 cm, then how many dots will be required to do so? / नीचे एक आकृति दी गई है, जो प्रत्येक 4सेमी लंबी चार सीधी रेखाओं से बनी हुई है। यदि इस आकृति को बिंदुओं से ऐसे बनाना है कि दो क्रमागत बिंदुओं के बीच की दूरी 1 सेमी हो, तो ऐसा करने के लिए कितने बिंदुओं की आवश्यकता होगी?



- A) 18
- B) 15
- C) 17
- D) 16

5) Some terms are missing in between the sequence. The missing terms in the order from left to right. 61, 110, 174, 255, _____, 476, _____ are / श्रृंखला में कुछ संख्याएं लापता हैं। बाईं से दाईं ओर लापता संख्याएं हैं: 61, 110, 174, 255, _____, 476, _____

- A) 345 and 610 respectively/ क्रमशः 345 और 610
- B) 355 and 610 respectively/ क्रमशः 355 और 610
- C) 355 and 620 respectively/ क्रमशः 355 और 620
- D) 345 and 620 respectively/ क्रमशः 345 और 620

6) If in a certain code language, "LIFE" is written as "6294" and "DEATH" is written as "74018". What group of letters can be formed for the code "2106489"? / यदि एक निश्चित कूट-भाषा में "LIFE" को "6294" के रूप में लिखा जाता है और "DEATH" को "74018" के रूप में लिखा जाता है। "2106489" के लिए अक्षरों का क्या समूह गठित किया जा सकता है?

- A) ITALEHF
- B) ITALFHE
- C) ITAELHF
- D) ITALHEF

7) John had 49 parrots in the cage. All but 33 died. How many parrots remained alive? / जॉन के पास पिंजरे में 49 तोते थे। उनमें से 33 तोते मर गए। कितने तोते जीवित हैं?

- A) 16
- B) 49
- C) 0
- D) 33

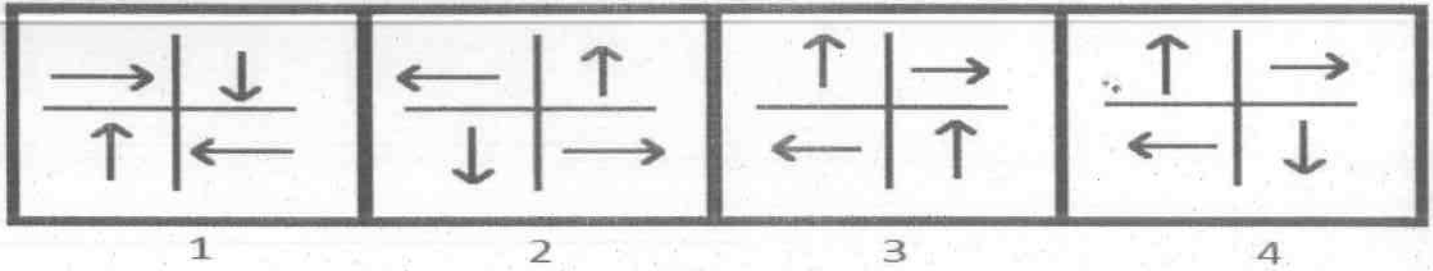
Following are the eligibility criteria for recruiting a Trekking guide by a company in Manali. The applicant should:	मनाली में एक कंपनी द्वारा ट्रेकिंग गाइड की भर्ती के लिए पात्रता मापदंड निम्नलिखित हैं। आवेदक को:
(i) be a citizen of India.	(i) भारत का नागरिक होना चाहिए।
(ii) have knowledge of the terrain of the region.	(ii) क्षेत्र के भू-भाग का ज्ञान होना चाहिए।
(iii) have work permit to work in India.	(iii) भारत में काम करने के लिए वर्क परमिट होना चाहिए।
(iv) have no criminal record.	(iv) कोई आपराधिक रिकॉर्ड नहीं होना चाहिए।
(v) have a valid first aid certificate.	(v) एक वैध प्राथमिक चिकित्सा प्रमाण पत्र धारक होना चाहिए।
(vi) be less than 30 years of age.	(vi) 30 साल से कम उम्र का होना चाहिए।
In the case of a candidate who satisfies all the conditions:	अगर एक उम्मीदवार सभी शर्तों को पूरा करता है:
(a) If NOT (i), but is a citizen of Bhutan or Nepal, then he will be referred to the Executive Director of the company.	(a) सिवाय (i) के, लेकिन भूटान या नेपाल का नागरिक है तो, उसे कंपनी के कार्यपालक निदेशक के पास भेजा जाएगा।
(b) If NOT (iii), but has a Valid Passport issued by the country to which he/she may belong, then he will be referred to the Chief Executive Officer of the company.	(b) सिवाय (iii) के, लेकिन उसके पास उसके संबंधित देश द्वारा जारी किया गया एक वैध पासपोर्ट है तो, उसे कंपनी के मुख्य कार्यपालन अधिकारी के पास भेजा जाएगा।
(c) If NOT (vi), but has an experience as a Trekking Guide of 2 years, then he will be referred to the Vice-President of the company.	(c) सिवाय (vi) के, लेकिन एक ट्रेकिंग गाइड के रूप में 2 साल का अनुभव है तो, उसे कंपनी के उपाध्यक्ष के पास भेजा जाएगा।
In each of the questions below information of a candidate is given. He/she may be eligible under one or more of the criteria.	नीचे दिए गए प्रत्येक प्रश्न में एक उम्मीदवार की जानकारी दी गई है। वह मापदंडों में से एक या एक से अधिक के तहत पात्र हो सकता/सकती है।
You have to take one of the following four decisions based on the information provided and the conditions given above.	आपको उपलब्ध कराई गई जानकारी व उपरोक्त शर्तों के आधार पर निम्नांकित चार फैसलों में से एक लेना होगा।

8) Candidate Information : Gurjeet Singh is a 26 year old man from Punjab. He has a valid first aid certificate and a passport. He has no criminal record and has done a detailed research of the terrain of North Indian - Himalayan ranges. He should be:

उम्मीदवार की जानकारी: गुरजीत सिंह पंजाब से एक 26 वर्षीय व्यक्ति है। उसके पास वैध प्राथमिक चिकित्सा प्रमाण पत्र और पासपोर्ट है। उसका कोई आपराधिक रिकॉर्ड नहीं है और उसने उत्तर भारत - हिमालय पर्वतमाला के भू-भाग का विस्तृत शोध किया है। उसे

- A) referred to the Chief Executive Officer . / मुख्य कार्यपालन अधिकारी के पास भेजा जाना चाहिए
- B) referred to the Vice-President / उपाध्यक्ष के पास भेजा जाना चाहिए
- C) Rejected / चयन नहीं करना चाहिए
- D) Selected / चयन करना चाहिए

9) Among the given group of 4 images, which set of images can be classified as a group? / दिए गए 4 चित्रों के समूह में से कितन समुच्चय चित्रों को एक समूह के रूप में वर्गीकृत किया जा सकता है?



- A) (2, 3, 4)
 B) (1, 2, 4)
 C) (1, 3, 4)
 D) (1, 2, 3)

10) A shopkeeper brought 8 chocolates for Rs.12 and sold 6 chocolates for Rs.8. Find his gain or loss percent. / एक दुकानदार ने 12रु में 8 चॉकलेट खरीदी हैं और 8रु में 6 चॉकलेट बेच दिए हैं। उसका लाभ या हानि प्रतिशत ज्ञात करें।

- A) 10.2% profit / 10.2% लाभ
 B) 12.6% profit / 12.6% लाभ
 C) 11.11% loss / 11.11% हानि
 D) 9.02% loss / 9.02% हानि

11) Joy is the elder brother of Pinky. Priya is the younger sister of Pinky. Priya is Nakul's daughter. How is Priya's son related to Joy? / जॉय पिंगी का बड़ा भाई है। प्रिया पिंगी का छोटी बहन है। प्रिया नकुल की बेटी है। प्रिया का बेटा का जॉय के साथ क्या रिश्ता है?

- A) Nephew / भतीजा
 B) Niece / भतीजी
 C) Brother / भाई
 D) Uncle / चाचा

12) There are three words given here. The first two words are related in a certain manner. Select the proper word among the given four alternatives which bears the same relationship with the third word as in the manner first and second words are related.

Kullu shawl : Himachal Pradesh :: Kani shawl : _____ /

यहाँ तीन शब्द दिए गए हैं। पहले दो शब्द एक निश्चित तरीके से संबंधित हैं। दिए गए चार विकल्पों में से उस उचित शब्द का चयन करें जो तीसरे शब्द के साथ उसी प्रकार से संबंधित हो जिस तरीके से पहला और दूसरा शब्द संबंधित हैं।

कुल्लू शाल : हिमाचल प्रदेश :: कनी शाल : _____

- A) Punjab / पंजाब
- B) Jammu and Kashmir / जम्मू-कश्मीर
- C) Uttarakhand / उत्तराखंड
- D) Delhi / दिल्ली

13) There are three words given here. The first two words are related in a certain manner. Select the proper word among the given four alternatives which bears the same relationship with the third word as in the manner first and second words are related.

Pressure : Pascal :: Sound : _____ /

यहाँ तीन शब्द दिए गए हैं। पहले दो शब्द एक निश्चित तरीके से संबंधित हैं। दिए गए चार विकल्पों में से उस उचित शब्द का चयन करें जो तीसरे शब्द के साथ उसी प्रकार से संबंधित हो जिस तरीके से पहला और दूसरा शब्द संबंधित हैं।

दबाव : पास्कल :: ध्वनि : _____

- A) Candela / कैंडेला
- B) Joule / जूल
- C) Erg / एर्ग
- D) Decibel / डेसिबल

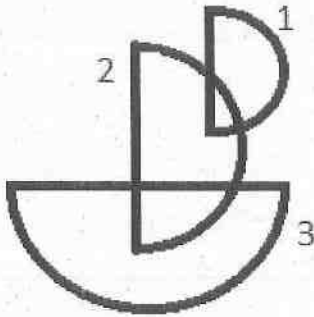
14) What should come in the blank space so that the series formed is in proper manner: 29791, 24389, 19683, _____, 12167? / रिक्त स्थान में क्या आना चाहिए ताकि श्रृंखला सही प्रारूप ले: 29791, 24389, 19683, _____, 12167?

- A) 17576
- B) 15625
- C) 17926
- D) 13824

15) At most how many parts are possible when an equilateral triangle is cut by 2 parallel lines parallel to the base and 1 line perpendicular to the base? / समभुज त्रिकोण को आधार के समानांतर, 2 समानांतर रेखाओं और आधार के लम्बवत 1 रेखा द्वारा काटने पर कितने भाग संभव हैं?

- A) 6
- B) 4
- C) 3
- D) 5

16) An image is made from multiple geometric figures (marked with numbers). In the image, some regions are formed. In each of these regions, as many dots are to be placed as the number of geometric figures that has this as a part of it. In total, how many dots will be placed in the image? / एक चित्र को कई ज्यामितीय आकृतियों से बनाया गया है (संख्याओं से चिह्नित)। चित्र में, कुछ क्षेत्रों को बनाया गया है। इस प्रत्येक क्षेत्र में, उतने ही बिंदु स्थापित करने हैं, जितनी ज्यामितीय आकृतियों की संख्या, जो इसका हिस्सा है। कुल मिलाकर, चित्र में कितने बिंदु स्थापित करने होंगे?



- A) 4
- B) 6
- C) 7
- D) 10

17) Here, four words are given. Out of these, three are alike in a certain manner but the rest one is different. Choose the one which is different from the rest three. / यहां चार शब्द दिए गए हैं। इनमें से तीन निश्चित तरीके से एक जैसे हैं, पर एक शब्द भिन्न है। वह विकल्प चुनिए जो शेष तीनों से भिन्न हो।

- A) ABE
- B) NOQ
- C) VWZ
- D) PQT

18) There are three words given here. The first two words are related in a certain manner. Select the proper word among the given four alternatives which bears the same relationship with the third word as in the manner first and second words are related.

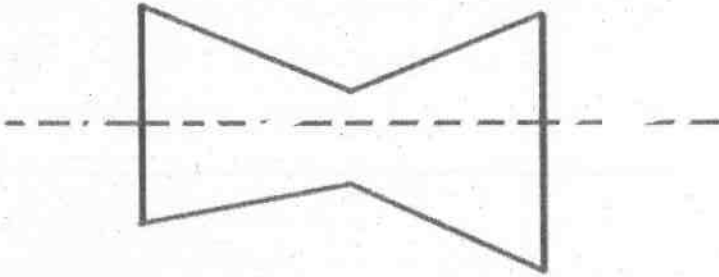
Mount Everest : Height :: Mariana Trench : ?

/ यहाँ पर तीन शब्द दिए गए हैं। पहले दो शब्द एक निश्चित शैली से संबंधित हैं। दिए गए चार विकल्पों में से उस सही शब्द का चयन करें, जो तीसरे शब्द से वैसा ही संबंध रखता हो, जैसा कि पहले और दूसरे शब्द संबंध रखते हों।

एवरेस्ट पर्वत : ऊँचाई :: मेरियाना गर्त : ?

- A) Depth / गहराई
- B) Width / चौड़ाई
- C) Rough / कठोर
- D) Shallow / उथला

19) The paper sheet given below is cut along the dotted line. How many corners will the resultant paper sheet on top have? / नीचे दी गई पेपर शीट को बिंदीदार रेखा के साथ काटा गया है। शीर्ष पर परिणामी पेपर शीट में कितने कोने होंगे?



- A) 5
- B) 4
- C) 3
- D) 6

20) Simon got one and a half times as many marks in Physics as in Geology. His total score in these two subjects is 160. What is his score in Physics? / साइमन को जियोलॉजी के मुकाबले भौतिकी में डेढ़ गुना अधिक अंक मिले। इन दोनों विषयों में उसके कुल अंक 160 हैं। भौतिकी में उसका अंक कितना है?

- A) 108
- B) 96
- C) 64
- D) 72

21) In a certain code, "PROCESSOR" is written as "RPTTFDPSP". How is "TREATMENT" written in the same code? / एक निश्चित कूट में "PROCESSOR" को "RPTTFDPSP" के रूप में लिखा जाता है। उसी कूट में "TREATMENT" को कैसे लिखा जाएगा?

- A) TOFUNBFST
- B) TOFNUFBST
- C) TOFNUBFST
- D) TFONUBFST

22) Rani and Sonali run a 10 km race on a round course of 800 m. If their speeds are in the ratio 10 : 9, the number of times, the winner passes the other, is / रानी और सोनाली 800 मी. के एक गोलाकार मैदान में 10 किमी की रेस दौड़ती हैं। यदि उनकी गतियाँ 10 : 9 के अनुपात में हैं तो, विजेता दूसरी धावक को कितनी बार पार करती है?

- A) never / कभी नहीं
- B) once / एक बार
- C) thrice / तीन बार
- D) twice / दो बार

23) There are five members in a family viz Neeta, Geeta, Rita, Tina and Sita. Neeta is half the age of Geeta and thrice the age of Rita. Sita is younger than Tina by 3 years. Tina is 8 years younger than Neeta and Sita is 16 year old studying in class X. Who is the youngest? / एक परिवार में पाँच सदस्य हैं नामशः नीता, गीता, रीटा, टीना और सीता। नीता का उम्र गीता के उम्र का आधा है और रीटा के उम्र का तिगुना है। सीता, टीना की तुलना में 3 साल छोटी है। टीना, नीता से 8 साल छोटी है और सीता का उम्र 16 साल है और वह दसवीं कक्षा में पढ़ रही है। उम्र में सबसे छोटा कौन है?

- A) Sita / सीता
- B) Tina / टीना
- C) Rita / रीटा
- D) Neeta / नीता

24) In a certain code language, BETTER is written as CFUUF5. How will DUTIES be written in that code language? / एक निश्चित कूट-भाषा में BETTER को CFUUF5 के रूप में लिखा जाता है। उस कूट-भाषा में DUTIES को कैसे लिखा जाएगा?

- A) EVUJFT
- B) EUUJFT
- C) EVUHFT
- D) EVVJFT

25) Among the given four options, three are related in a same way. Select the option that is odd one out. / दिए गए चार विकल्पों में तीन एक तरीके से आपस में संबंधित हैं। वह विकल्प चुनिए जो सबसे भिन्न हो।

- A) Octopus / ऑक्टोपस
- B) Frog / मेंढक
- C) Whale / व्हेल
- D) Fish / मछली

26) The 420 m long train running at 90 kmph crosses the stationary man in / 90 किमी प्रति घंटा की गति से दौड़ती हुई, 420 मी. लम्बी ट्रेन एक खड़े हुए आदमी को इनमें से कितनी देर में पार करेगी?

- A) 18 seconds / 18 सेकन्ड
- B) 20 seconds / 20 सेकन्ड
- C) 14.2 seconds / 14.2 सेकन्ड
- D) 16.8 seconds / 16.8 सेकन्ड

27) A set is given, (24, 36, 27). The sets given in options are similar to it considering the LCM of elements, EXCEPT one. Find the set that is different. / एक सेट (24, 36, 27) दिया गया है। विकल्प में दिए गए सेट्स में से एक को छोड़कर बाकी सभी तत्वों के LCM पर विचार करने पर समान हैं। भिन्न सेट ज्ञात करें।

- A) (25, 16, 32)
- B) (9, 18, 216)
- C) (54, 16, 9)
- D) (36, 8, 27)

Following are the conditions for selection of a Clerk in various departments of the Government of India.	भारत सरकार के विभिन्न विभागों में लिपिक के चयन के लिए निम्न शर्तें हैं। उम्मीदवार:
The candidate must :	(i) कम से कम 60% अंकों के साथ किसी भी विषय में स्नातक होना चाहिए।
(i) be a graduate in any discipline with atleast 60% marks.	(ii) हिंदी और अंग्रेजी पढ़ने, लिखने एवं बोलने में सक्षम होना चाहिए।
(ii) have the ability to read, write and speak Hindi and English.	(iii) आयु 28 से कम होनी चाहिए।
(iii) be less than 28 years of age.	(iv) किसी भी राष्ट्रीयकृत बैंक में खाता होना चाहिए।
(iv) must have a bank account in any of the nationalised banks.	इन सभी शर्तों को पूरा करने वाले उम्मीदवार के मामले में:
In the case of a candidate who satisfies all the conditions :	(A) उपरोक्त में से (i) को छोड़कर, उम्मीदवार के पास अर्हता के बाद 1 वर्ष का कार्य अनुभव है, उसके मामले को वरिष्ठ रोजगार अधिकारी को भेजा जा सकता है।
(A) Except (i) above, but has post qualification work experience of 1 years, his/her case may be referred to Senior Employment Officer.	(B) उपरोक्त में से (ii) को छोड़कर, उम्मीदवार ने स्नातक में कम से कम 80% अंक प्राप्त किए हैं, उसके मामले को कनिष्ठ रोजगार अधिकारी को भेजा जा सकता है।
(B) Except (iii) above, but has scored atleast 80% in graduation, his/her case may be referred to Junior Employment Officer.	उपरोक्त मानदंडों और नीचे दी गई जानकारी के आधार पर, आपको निर्णय लेना है।
Based on the above criteria and the information given below, you have to take decision.	

28) These cases are given to you as on 1st September, 2016. Jasmine Khan was born on 13-03-1992. She has secured 74% in graduation and has a one year work experience. She knows to read, write and speak English and Hindi very well. She holds a nationalised bank's savings account. She must be:

/ यह मामले 1 सितंबर 2016 की स्थिति के अनुसार आपको दिए गए हैं: जैस्मीन खान का जन्म 13-03-1992 को हुआ था। उसने स्नातक की पढ़ाई में 74% अंक प्राप्त किए हैं और उसे एक वर्ष का कार्य अनुभव है। वह बहुत अच्छे से अंग्रेजी और हिन्दी पढ़ना, लिखना और बोलना जानती है। राष्ट्रीयकृत बैंक में उसका बचत खाता है। तो उसको:

- A) selected / चयनित करना चाहिए
- B) referred to the Senior Employment Officer / वरिष्ठ रोजगार अधिकारी के पास भेजना चाहिए
- C) referred to the Junior Employment Officer / कनिष्ठ रोजगार अधिकारी के पास भेजना चाहिए
- D) rejected / अस्वीकृत करना चाहिए

29) Three out of the given four items are similar. Find the odd one. / दिए गए चार पदों में से तीन एक जैसे हैं। भिन्न पद की पहचान करें।

- A) 105
- B) 210
- C) 342
- D) 722

30) There are six members in a family. Abhishek is elder than Sachin and Snehal. Vishal is elder than Pavneet only. Arti is younger than Snehal. Sachin, Arti and Vishal are the siblings and none of them are married. If there is only one married couple in the family and they have a kid, then the mother is: / एक परिवार में छह सदस्य हैं। अभिषेक, सचिन और स्नेहल से उम्र में बड़ा है। विशाल केवल पवनीत से उम्र में बड़ा है। आरती, स्नेहल से उम्र में छोटी है। सचिन, आरती और विशाल समाभासी हैं और उनमें से कोई भी विवाहित नहीं है। यदि परिवार में केवल एक शादीशुदा जोड़ा है और उन्हें एक बच्चा है तो, माँ है:

- A) Either Arti or Snehal / य तो आरती या स्नेहल
- B) Snehal / स्नेहल
- C) Pavneet / पवनीत
- D) Arti / आरती

31) Find the missing term in the sequence: A, 24, D, 21, H, ____, L, 13. / क्रम में वर्ण संख्या ज्ञात करें: A, 24, D, 21, H, ____, L, 13.

- A) 18
- B) 17
- C) 16
- D) K

32) Three bells ring simultaneously at 1 p.m. They ring at regular intervals of 10 minutes, 20 minutes, 30 minutes respectively. The time when all the three ring together next is / दोपहर 1 बजे तीन घंटियाँ एक साथ बजती हैं। वे क्रमशः 10 मिनट, 20 मिनट और 30 मिनट के नियमित अंतरालों पर बजती हैं। वह समय कौन सा है जब वे सभी फिर से एक साथ बजेगी?

- A) 1. p.m. / दोपहर 1 बजे
- B) 1.30 p.m. / दोपहर 1.30 बजे
- C) 2 p.m. / दोपहर 2 बजे
- D) 3. 30 p.m. / दोपहर 3. 30 बजे

33) A dice is taken. Numbers from 1 to 6 are written on its faces. The faces with numbers 1 and 4 are adjacent to each other. Number 6 is on the face opposite to the face with number 3. Number 2 is not on the face opposite to face with number 4. Based on this information, answer the questions that follow. Which of these pairs of consecutive numbers are on adjacent faces?/ एक पांसा लिया जाता है। 1 से 6 तक की संख्या उसके फलक पर लिखे जाते हैं। संख्या 1 और 4 के फलक एक दूसरे के सन्निकट हैं। संख्या 3 वाला फलक फलक में संख्या 6 के विपरीत है। संख्या 2, संख्या 4 वाले फलक के विपरीत फलक में नहीं है। इस जानकारी के आधार पर, नीचे दिए गए प्रश्नों के उत्तर दें। इनमें से कौन से क्रमागत संख्या सन्निकट फलक पर हैं?

- A) 1 and 2 / 1 और 2
B) 6 and 3 / 6 और 3
C) 4 and 5 / 4 और 5
D) 3 and 2 / 3 और 2

For admission in College for MCA course, the following conditions apply. The applicant should:

- (i) be less than 30 year of age as on 11-11-2016.
(ii) should be a graduate in Bachelor of Computer Applications (BCA) with atleast 86% marks.
(iii) have scored atleast 85% marks in the Common Entrance Test (CET).
(iv) have scored atleast 65% marks in the interview.

In the case of a candidate who satisfies all the conditions:

- (a) If NOT (ii), but has a work experience of atleast 2 years and graduation score more than 70%, then be considered for admission in 2nd shift.
(b) If NOT (iii), but has scored more than 60% in Common Entrance Test and more than 90% marks in class XII, then be considered for admission in night (shift) college.

In each of the questions below information of a candidate is given. You have to take one of the following four decisions based on the information provided and the conditions given above.

All the cases are given to you as on 11-11-2016. You have to indicate your decision by marking answers to each questions.

एक कॉलेज में MCA कोर्स के दाखिले के लिए, निम्न शर्तें लागू होती हैं। आवेदक:

- (i) की आयु 11-11-2016 की तारीख को 30 साल से कम होनी चाहिए।
(ii) को कम से कम 86% अंकों के साथ बैचलर आफ कंप्यूटर एप्लीकेशन (BCA) में ग्रेजुएट होना चाहिए।
(iii) को कॉमन एंट्रेंस टेस्ट (CET) में कम से कम 85% अंक प्राप्त किया होना चाहिए।
(iv) को इंटरव्यू में कम से कम 65% अंक प्राप्त किया होना चाहिए।
अगर एक उम्मीदवार सभी शर्तों को पूरा करता है:
(a) सिवाय (ii) के, लेकिन कम से कम 2 साल का कार्य अनुभव है और ग्रेजुएशन स्कोर 70% से अधिक है तो, दूसरे शिफ्ट में दाखिले के लिए विचार किया जाना है।
(b) सिवाय (iii) के, लेकिन कॉमन एंट्रेंस टेस्ट में 60% से अधिक और बारहवीं कक्षा में 90% अंक से अधिक स्कोर किया है तो, रात (शिफ्ट) कॉलेज में दाखिले के लिए विचार किया जाना है।

नीचे दिए गए प्रत्येक प्रश्न में एक उम्मीदवार की जानकारी दी गई है। आपको उपलब्ध कराई गई जानकारी व उपरोक्त शर्तों के आधार पर निम्नांकित चार फैसलों में से एक लेना होगा।

आपको सभी मामले 11-11-2016 की तारीख को दिए गए हैं। प्रत्येक प्रश्न के उत्तर अंकन द्वारा आपको अपना निर्णय सूचित करना होगा।

34) Candidate's Information : Somesh Vaidya is a graduate in Bachelor of Computer Applications (BCA) with 88% marks. He missed the interview as he reached the venue after the reporting time had elapsed. He has scored 92% marks in the CET.

He was born on 2-4-1990. He should be:

/ उम्मीदवार की जानकारी: सोमेश वैद्य बैचलर ऑफ कंप्यूटर एप्लीकेशन (BCA) में 88% अंकों के साथ एक ग्रेजुएट है। वह इंटरव्यू देने से चूक गया क्योंकि वह वेन्यू पर रिपोर्टिंग समय के बीतने के बाद पहुँचा। उसने CET में 92% अंक प्राप्त किया है। वह 2-4-1990 को पैदा हुआ था। उसे

- A) not admitted / दाखिला नहीं देना चाहिए
- B) admitted / दाखिला देना चाहिए
- C) considered for admission in the 2nd shift / दूसरे शिफ्ट में दाखिले के लिए विचार किया जाना चाहिए
- D) considered for admission in the night (shift) college / रात (शिफ्ट) कॉलेज में दाखिले के लिए विचार किया जाना चाहिए

35) Among the given four options, three are related in a same way. Select the option that is odd one out. / दिए गए चार विकल्पों में तीन एक तरीके से आपस में संबंधित हैं। वह विकल्प चुनिए जो सबसे भिन्न हो।

- A) November / नवम्बर
- B) August / अगस्त
- C) June / जून
- D) April / अप्रैल

36) Among the given four options, three are related when the product of digits is taken. Select the option that is odd one out. / दिए गए चार विकल्पों में, अंकों का गुणनफल लेने पर तीन एक निश्चित तरीके से संबंधित हैं। उस विकल्प का चयन करें जो उनमें से भिन्न है।

- A) 9832
- B) 2223323
- C) 42843
- D) 4692

Following are the conditions for selection of a franchisee of XYZ Company.	XYZ कंपनी की फ्रैन्चाइज़ी के चयन के लिए निम्न शर्तें हैं। उम्मीदवार
The candidate must :	(i) कम से कम 60% अंकों के साथ स्नातक होना चाहिए।
(i) be a graduate with atleast 60% marks.	(ii) 10 करोड़ रुपये या इससे अधिक मूल्य की संपत्ति होनी चाहिए।
(ii) have assets of worth Rs. 10 Crore or more .	(iii) 35 वर्ष से कम उम्र का होना चाहिए।
(iii) be less than 35 years of age.	(iv) अपना स्वयं का या किराए का शोरूम होना चाहिए।
(iv) must have a showroom of his own or rented.	इन सभी शर्तों को पूरा करने वाले उम्मीदवार के मामले में:
In the case of a candidate who satisfies all the conditions :	(A) उपरोक्त में से (i) को छोड़कर, उम्मीदवार के पास 65% अंकों के साथ स्नातकोत्तर की डिग्री है, उसके मामले को मुख्य कार्यकारी अधिकारी (CEO) को भेजा जा सकता है।
(A) Except (i) above, but has a post graduation degree with 65% marks, his/her case may be referred to Chief Executive Officer (CEO).	(B) उपरोक्त में से (iii) को छोड़कर, व्यापार में कम से कम 2 वर्ष का कार्य अनुभव है, उसके मामले को प्रबंध निदेशक को भेजा जा सकता है।
(B) Except (iii) above, but work experience of at least 2 years in business, his/her case may be referred to Managing Director.	उपरोक्त मानदंडों और नीचे दी गई जानकारी के आधार पर आपको निर्णय लेना है।
Based on the above criteria and the information given below, you have to take decision.	

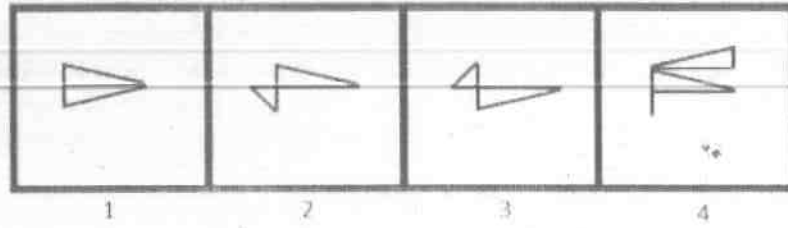
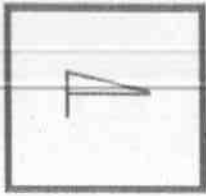
37) These cases are given to you as on 10-12-2016. Mohan kher was born on 10-03-1986. He has secured 78% marks in graduation and has assets of net worth more than Rs. 30 Crores. He has his own showroom on Club road, Delhi. He must be / यह मामले 10-12-2016 की स्थिति के अनुसार आपको दिए गए हैं: मोहन खेर का जन्म 10-03-1986 को हुआ था। उसने स्नातक में 78% अंक प्राप्त किए हैं और उसके पास 30 करोड़ से अधिक मूल्य की संपत्ति है। क्लब रोड, दिल्ली में उसका अपना खुद का शोरूम है। तो उसको:

- A) rejected / अस्वीकृत करना चाहिए
 B) referred to the Managing director / प्रबंधक निदेशक के पास भेजना चाहिए
 C) selected / चयनित करना चाहिए
 D) referred to the CEO / CEO के पास भेजना चाहिए

38) If $p @ q = (p+q) \div p$, then the value of $5 @ (6 @ 4)$ / यदि $p @ q = (p+q) \div p$ है, तो $5 @ (6 @ 4)$ का मान है:

- A) 3 / 8
 B) 4 / 3
 C) 5 / 6
 D) 2 / 5

39) A figure is given on the left with a pattern. In which of the four images on the right we CANNOT find this pattern as a part of that image? / बाईं ओर एक पैटर्न के साथ एक चित्र दी गई है। दाईं ओर की चार चित्रों में से किसमें हमें उस चित्र के हिस्से के रूप में यह पैटर्न नहीं मिल सकता?



- A) 2
B) 3
C) 1
D) 4

40) Directions: - Given below are two matrices, each containing two classes of letters. The columns and rows of Matrix I are from 0 to 4 and that of Matrix II from 5 to 9. A word is represented by only one set of numbers as given in anyone of the options. The set of numbers given in the options are represented by two classes of alphabets as in the two matrices given below. A letter can be represented first by its row and next by its column number. For example, W can be represented by 03, 11, 30, etc. L can be represented by 65, 87, 98, etc. Similarly, you have to identify the correct set for the word given in the question. / निदेश: नीचे दो आव्यूह दिए गए हैं, प्रत्येक में अक्षरों के दो वर्ग हैं। आव्यूह I के कॉलम और रो 0 से 4 तक हैं और आव्यूह II के 5 से 9 तक। एक शब्द को संख्या के केवल एक सेट से निरूपित किया गया है जैसे कोई भी विकल्प में दिया गया है। विकल्पों में दिए गए संख्याओं के सेट को नीचे दिए गए दो आव्यूह के अक्षरों के दो वर्गों द्वारा निरूपित किया गया है। एक अक्षर को पहले उसके रो संख्या और फिर अगला उसके कॉलम संख्या के द्वारा निरूपित किया जा सकता है। उदाहरण के लिए, W को 03, 11, 30, इत्यादि के द्वारा निरूपित किया जा सकता है। L को 65, 87, 98, इत्यादि के द्वारा निरूपित किया जा सकता है। इसी तरह आपको प्रश्न में दिए गए शब्द के लिए सही सेट को पहचानना होगा।

Matrix I / आव्यूह I					
	0	1	2	3	4
0	D	R	A	W	N
1	A	W	R	N	D
2	N	D	W	R	A
3	W	A	N	D	R
4	R	N	D	A	W

Matrix II / आव्यूह II					
	5	6	7	8	9
5	S	L	E	V	O
6	L	V	S	O	E
7	V	E	O	S	L
8	O	S	L	E	V
9	E	O	V	L	S

ANSWER

- A) 20, 20, 78, 11, 86, 23
B) 24, 32, 67, 44, 57, 23
C) 10, 41, 44, 67, 69, 40
D) 31, 04, 55, 03, 01, 95

41) A cube of side length 6 units is taken. On all its faces, Red paint is done. Now, it is cut into identical small cubes of side length 2 units by cutting it along its length, width and height. Based on this information, answer the questions that follow.

On a dice with numbers written from 1 to 6 on its faces, 4 is written adjacent to 1, 2, 3 and 6. What number is written opposite to number 4? / 6 यूनिट भुजा लंबाई वाला एक घन लिया जाता है। उसके सभी फलक को लाल रंग से रंगा जाता है। अब इसे उसकी लंबाई, चौड़ाई और ऊँचाई के समानांतर काटते हुए 2 यूनिट भुजा लंबाई वाले समरूप छोटे घनों में काटा जाता है। इस जानकारी के आधार पर, नीचे दिए गए प्रश्नों के उत्तर दें। एक पांसे पर उसके फलक पर 1 से 6 तक की लिखी हुई संख्या, संख्या 4, संख्या 1, 2, 3 और 6 के सन्निकट लिखी गई है। कौन सी संख्या संख्या 4 के विपरीत लिखी गई है?

- A) 15
- B) 8
- C) 18
- D) 12

42) In a certain code, LIYT is written as 54000, then how is KEJD written in the same code? / एक निश्चित कूट में LIYT को 54000 के रूप में लिखा जाता है, तो उसी कूट में KEJD को कैसे लिखा जाएगा?

- A) 1542
- B) 5722
- C) 2200
- D) 3541

43) A girl introduces a boy as the son of the brother of her father. How is the boy related to the girl? / एक लड़की एक लड़के का परिचय अपने पिता के भाई के बेटे के रूप में देती है। उस लड़के का उस लड़की के साथ क्या रिश्ता है?

- A) Uncle / चाचा
- B) Nephew / भतीजा
- C) Cousin / चचेरा भाई
- D) Son / बेटा

44) What would be the sum of first 7 terms of this sequence: 13, 91, 637, 4459,? / इस श्रृंखला की पहली 7 संख्याओं का योग क्या होगा: 13, 91, 637, 4459,?

- A) 1774341
- B) 1784341
- C) 1984341
- D) 1784441

45) Which of the given option will NOT share the same property as the elements of the given set: (Algebra, Calculus, Geometry) / दिए गए विकल्प में से कौन सा विकल्प उसी गुणस्वभाव को साझा नहीं करेगा जो दिए गए सेट (बीजगणित, कैल्क्युलस, ज्यामिति) के तत्व करते हैं?

- A) Numerical Methods / संख्यात्मक विधि
- B) Complex Numbers / सम्मिश्र संख्याएँ
- C) Optics / ऑप्टिक्स
- D) Quadratic Equations / द्विघाती समीकरण

46) A cube of side length 12 units is painted with Black colour on all its faces and then cut into small cubes each of side length 4 units. How many small cubes will be painted with Black colour on at least two of their faces? / 12 यूनिट लंबाई की भुजा के एक घन से सभी पृष्ठों को काले रंग से रंगा गया और फिर उसे 4 यूनिट वाली भुजा के घनों में काटा गया। ऐसे कितने घन बनेंगे जिनका कम से कम दो पृष्ठ काले रंग के हों?

- A) 20
- B) 27
- C) 12
- D) 8

Following are the conditions for selection of a franchisee of XYZ Company.

The candidate must :

- (i) be a graduate with atleast 60% marks.
- (ii) have assets of worth Rs. 10 Crore or more .
- (iii) be less than 35 years of age.
- (iv) must have a showroom of his own or rented.

In the case of a candidate who satisfies all the conditions :

(A) Except (i) above, but has a post graduation degree with 65% marks, his/her case may be referred to Chief Executive Officer (CEO).

(B) Except (iii) above, but work experience of at least 2 years in business, his/her case may be referred to Managing Director.

Based on the above criteria and the information given below, you have to take decision.

XYZ कंपनी की फ्रैन्चाइज़ी के चयन के लिए निम्न शर्तें हैं। उम्मीदवार

- (i) कम से कम 60% अंकों के साथ स्नातक होना चाहिए।
- (ii) 10 करोड़ रुपये या इससे अधिक मूल्य की संपत्ति होनी चाहिए।
- (iii) 35 वर्ष से कम उम्र का होना चाहिए।
- (iv) अपना स्वयं का या किराए का शोरूम होना चाहिए।

इन सभी शर्तों को पूरा करने वाले उम्मीदवार के मामले में:

(A) उपरोक्त में से (i) को छोड़कर, उम्मीदवार के पास 65% अंकों के साथ स्नातकोत्तर की डिग्री है, उसके मामले को मुख्य कार्यकारी अधिकारी (CEO) को भेजा जा सकता है।

(B) उपरोक्त में से (iii) को छोड़कर, व्यापार में कम से कम 2 वर्ष का कार्य अनुभव है, उसके मामले को प्रबंध निदेशक को भेजा जा सकता है।

उपरोक्त मानदंडों और नीचे दी गई जानकारी के आधार पर आपको निर्णय लेना है।

47) These cases are given to you as on 10-12-2016. Dayanand Khot, was born on 10-01-1959. He has secured 59% marks in graduation. He has assets of net worth more than Rs. 2 Crores only. He has a rented flat to stay in Jaipur. He must be / यह मामले 10-12-2016 की स्थिति के अनुसार आपको दिए गए हैं: दयानंद खोट का जन्म 10-01-1959 को हुआ था। उसने स्नातक में 59% अंक प्राप्त किए हैं। उसके पास 2 करोड़ से अधिक मूल्य की ही संपत्ति है। जयपुर में रहने के लिए उसका किराए का फ्लैट है। तो उसको:

- A) referred to the Managing director / प्रबंधक निदेशक के पास भेजना चाहिए
- B) rejected / अस्वीकृत करना चाहिए
- C) selected / चयनित करना चाहिए
- D) referred to Chief Executive Officer (CEO) / मुख्य कार्यपालक अधिकारी (CEO) के पास भेजना चाहिए

Following are the conditions for selection of translator in various departments of the government in India. The candidate must:

- (i) be a graduate in any discipline with atleast 65% marks.
- (ii) have the ability to read, write and speak Hindi and English besides the regional language of the state to which he/she belongs.
- (iii) be less than 30 years of age.
- (iv) must have Indian Passport.

In the case of a candidate who satisfies all the conditions:

- (A) EXCEPT (i) above, but has a post graduation degree, then his/her case may be referred to State Employment Officer.
- (B) EXCEPT (iii) above, but has experience of 3 years after post-graduation, then the case may be referred to Personal assistant, State Employment Officer.

Based on the above information and criteria given in each of the following questions, you have to take decision. These cases are given to you as on 1st September, 2016.

निम्नलिखित भारत सरकार के विभिन्न विभागों में अनुवादक के चयन के लिए शर्तें हैं। उम्मीदवार को:

- (i) कम से कम 65% अंकों के साथ किसी भी विषय में ग्रेजुएट होना चाहिए।
- (ii) अपने राज्य के क्षेत्रीय भाषा के अलावा हिंदी और अंग्रेजी पढ़ने, लिखने और बोलने की क्षमता होनी चाहिए।
- (iii) 30 वर्ष से कम आयु होना चाहिए।
- (iv) भारतीय पासपोर्ट होना आवश्यक है।

अगर एक उम्मीदवार सभी शर्तों को पूरा करता है:

- (A) सिवाय उपरोक्त (i) के, लेकिन एक पोस्ट-ग्रेजुएशन की डिग्री है तो, उसके मामले को राज्य रोजगार अधिकारी को भेजा जाए।
- (B) सिवाय उपरोक्त (iii) के, लेकिन पोस्ट-ग्रेजुएशन के बाद 3 साल का अनुभव है तो, मामले को निजी सहायक, राज्य रोजगार अधिकारी को भेजा जाए।

उपरोक्त जानकारी और नीचे दिए गए प्रत्येक प्रश्न में दिए गए मापदंडों के आधार पर आपको निर्णय लेना होगा। ए सभी मामले आपको सितंबर 1, 2016 की तारीख को दिए गए हैं।

48) Avrel Jolie, who is 25 years old, belongs to Tamil Nadu and has secured 64% marks in her graduation and 71% marks in her post-graduation. She knows to read, write and speak English, Tamil and Hindi. She has an Indian Passport. She must be :

/ अवरेल जूली जिसकी आयु 25 वर्ष है, तमिलनाडु की रहने वाली है और उसने अपने ग्रेजुएशन में 64% अंक और पोस्ट-ग्रेजुएशन में 71% अंक हासिल किए हैं। वह अंग्रेजी, तमिल और हिन्दी पढ़ता, लिखता और बोलना जानती है। उसके पास भारतीय पासपोर्ट है। उसे

- A) referred to State Employment Officer. / राज्य रोजगार अधिकारी के पास भेजा जाना चाहिए
- B) referred to Personal Assistant, State Employment Officer / निजी सहायक, राज्य रोजगार अधिकारी के पास भेजा जाना चाहिए
- C) selected / चुना जाना चाहिए
- D) rejected / नहीं चुना जाना चाहिए

An Automobile company decided to recruit management trainees for its Manufacturing Plant. The company laid down the following criteria for selecting the candidates.

- A. should be automobile engineering graduate with minimum 60% marks.
- B. should have done atleast a diploma in automobile engineering.
- C. should be more than 21 year of age.
- D. should have scored atleast 70% in Common Entrance Test (CET).

In the case of a candidate who satisfies all the criteria:

- (i) EXCEPT (A) above, but has secured marks above 55% and below 60% and also have a working experience of 2 years, then his/her case may be referred to the Chief Executive Officer (CEO).
- (ii) EXCEPT (B) above, but has secured more than 90% in CET, then his/her case may be referred to the President.

Based on the above information and the criteria given in each of the following questions, you have to take decision. These cases are given to you as on 1st October, 2016.

एक ऑटोमोबाइल उद्योग ने अपने निर्माण संयंत्र के लिए प्रबंधन प्रशिक्षार्थियों को भर्ती करने का निर्णय लिया। कंपनी ने उम्मीदवारों के चयन के लिए निम्नलिखित मापदंड निर्धारित किए।

- A. कम से कम 60% अंकों के साथ ऑटोमोबाइल इंजीनियरिंग ग्रेजुएट होना चाहिए।
- B. ऑटोमोबाइल इंजीनियरिंग में कम से कम एक डिप्लोमा किया होना चाहिए।
- C. आयु 21 वर्ष से अधिक होनी चाहिए।
- D. सामान्य प्रवेश परीक्षा (CET) में कम से कम 70% प्राप्त किया होना चाहिए।

अगर एक उम्मीदवार सभी मापदंडों को पूरा करता है:

- (i) सिवाय उपरोक्त (A) के, लेकिन 55% से अधिक और 60% से कम अंक हासिल किया है और उसे 2 साल का कार्यानुभव भी है तो, उसका मामला मुख्य कार्यपालन अधिकारी (CEO) को भेजा जाए।
 - (ii) सिवाय उपरोक्त (B) के, लेकिन CET में 90% से अधिक हासिल किया है तो, उसका मामला अध्यक्ष को भेजा जाए।
- उपरोक्त जानकारी और नीचे दिए गए प्रत्येक प्रश्न में दिए गए मापदंडों के आधार पर आपको निर्णय लेना होगा। ए सभी मामले आपको अक्टूबर 1, 2016 की तारीख को दिए गए हैं।

49) Ali Khan is a graduate in mechanical engineering passed out in 2011, with 61% marks. He was born on 11-1-1989. He has scored 77% in CET. He has secured 81% marks in diploma in mechanical engineering. He should be :

/ अली खान 61% अंकों के साथ 2011 में उत्तीर्ण मैकेनिकल इंजीनियरिंग में एक ग्रेजुएट है। वह 11-1-1989 को पैदा हुआ था। उसने CET में 77% प्राप्त किया है। उसने मैकेनिकल इंजीनियरिंग में डिप्लोमा में 81% अंक हासिल किए हैं। उसे

- A) rejected / नहीं चुना जाना चाहिए
- B) referred to the President / अध्यक्ष के पास भेजा जाना चाहिए
- C) referred to the Chief Executive Officer / मुख्य कार्यपालन अधिकारी के पास भेजा जाना चाहिए
- D) selected / चुना जाना चाहिए

50) Which of the following words is different from others? / निम्नलिखित शब्दों में से कौन सा दूसरों से अलग है?

- A) Immerse /तल्लीन
- B) Emerge /ऊपर
- C) Dip /डूब जाना
- D) Douse /भिगोना

51) M is the father of K who is a doctor. L is the daughter of T who is a housewife. N is the father of L's only brother who is a Lawyer. K's mother who is a Nurse is the wife of a Lawyer. There are two twin sisters' X & Y whose father is M and their profession is Teaching and Tailoring respectively. L, is the Principal of a school, who is unmarried. There is only 1 lawyer in the family. Find the FALSE statement if K gets married to a businessman. / M, K का पिता है जो एक डॉक्टर है। L, T की बेटी है जो एक गृहिणी है। N, L के इकलौते भाई का पिता है जो एक वकील है। K की माँ जो एक नर्स है, एक वकील की पत्नी है। X और Y दो जुड़वां बहनें हैं जिनके पिता M है और उनके पेशे क्रमशः पढ़ाना और सिलाई है। L एक स्कूल के प्रिंसिपल हैं जो अविवाहित हैं। परिवार में केवल 1 वकील है। गलत कथन जात करें अगर K एक व्यापारी से शादी करती है?

- A) K will be the daughter of N / K, N की बेटी होगी
- B) K will be the granddaughter of T / K, T की पोती होगी
- C) K will be the sister of the tailor / K, दर्जी की बहन होगी
- D) K will be the niece of the Principal / K, प्रिंसिपल की भतीजी होगी

52) What comes in place of question mark (?) in the following number series? / निम्नलिखित संख्या श्रृंखला में प्रश्न चिह्न (?) के स्थान पर क्या आता है? 3, 27, 9, 135, 15, ?, 21

- A) 300
- B) 325
- C) 315
- D) 320

53) Three out of the given four items are similar. Find the odd one. / दिए गए चार आयटमों में से तीन एक जैसे हैं। भिन्न आयटम की पहचान करें

- A) 2311414132
- B) 923
- C) 416416
- D) 5141

54) Select the option that is odd one out among the given four options. / दिए गए चार विकल्पों में से उस विकल्प का चयन करें जो बिलकुल बेमेल है।

- A) 7025
- B) 4225
- C) 1225
- D) 5625

55) There are three words given here. The first two words are related in a certain manner. Select the proper word among the given four alternatives which bears the same relationship with the third word as in the manner first and second words are related.

Incorporeal : Material :: Majestic : _____ /

यहाँ तीन शब्द दिए गए हैं। पहले दो शब्द एक निश्चित तरीके से संबंधित हैं। दिए गए चार विकल्पों में से उस उचित शब्द का चयन करें जो तीसरे शब्द के साथ उसी प्रकार से संबंधित हो जिस तरीके से पहला और दूसरा शब्द संबंधित हैं।

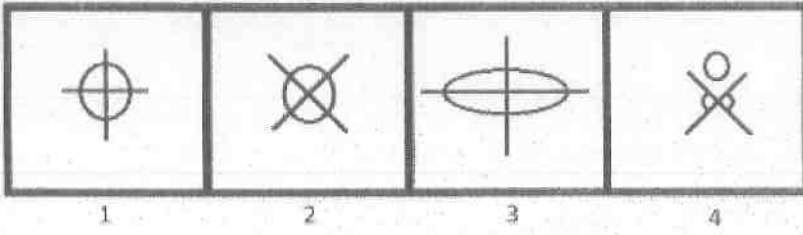
अभौतिक : भौतिक :: आलीशान : _____

- A) Royalty / राजसी
- B) Noble / मज्जन
- C) Splendor / चमक
- D) Paltry / मामूली

56) In what way can this set be classified into two different sets: (8, 36, 27, 81, 125, 49)? / किस तरीके से इस समुच्चय को दो विभिन्न सेटों में वर्गीकृत किया जा सकता है: (8, 36, 27, 81, 125, 49)?

- A) (8, 81, 49) and (36, 27, 125) / (8, 81, 49) और (36, 27, 125)
- B) (36, 27, 49) and (8, 81, 125) / (36, 27, 49) और (8, 81, 125)
- C) (36, 81, 125) and (8, 27, 49) / (36, 81, 125) और (8, 27, 49)
- D) (36, 81, 49) and (8, 27, 125) / (36, 81, 49) और (8, 27, 125)

57) Among the given group of 4 images, which set of images can be classified as a group? / दिए गए 4 चित्रों में से, चित्रों के किस समुच्चय को एक समूह में वर्गीकृत किया जा सकता है?



- A) (2, 3, 4)
B) (1, 3, 4)
C) (1, 2, 4)
D) (1, 2, 3)

58) A rectangle is drawn on a sheet of paper. A circle is drawn over this rectangle such that the diameter of circle is greater than the breadth of rectangle but lesser than the length of rectangle. In how many parts would rectangle be divided into at most? / एक शीट पेपर पर एक आयत बनाया गया है। इस आयत पर वृत्त को ऐसे बनाया गया है कि वृत्त का व्यास आयत की चौड़ाई की तुलना में अधिक है, लेकिन आयत की लंबाई की तुलना में कम है। आयत अधिकतम कितने भागों में विभाजित होगा?

- A) 6
B) 3
C) 4
D) 5

59) A \$ B means B is the sister of A, A @ B means B is the brother of A, A # B means B is the father of A, A * B means B is the mother of A. Which of the following means N is the father of M? / A \$ B का अर्थ B, A की बहन है, A @ B का अर्थ B A का भाई है, A # B का अर्थ B, A का पिता है, A * B का अर्थ B, A की मां है। निम्नांकित में से किसका अर्थ N, M का पिता है?

- A) M @ T # R \$ Q © N
B) P # M @ O # N
C) P \$ M @ T \$ O # N
D) M @ R © Q # T \$ N

60) In a certain code language, HKROG is written as JNWVR, then find the code for RDOCF. / एक निश्चित कूट-भाषा में HKROG को JNWVR के रूप में लिखा जाता है तो, RDOCF के लिए कूट ज्ञात करें।

- A) TEYTD
- B) TGTJQ
- C) THYGR
- D) YTTRG

Section 2 - PART B

No. of Questions: 60

61) Which among the following is an Indian academy of dance, drama and music? / निम्न में से कौन सी एक नृत्य, नाटक और संगीत की भारतीय अकादमी है?

- A) Sahitya Academy / साहित्य अकादमी
- B) National School of Drama / नेशनल स्कूल ऑफ ड्रामा
- C) Lalit Kala Academy / ललित कला अकादमी
- D) Sangeet Natak Academy / संगीत नाटक अकादमी

62) Protection of environment is incorporated as / पर्यावरण की सुरक्षा को किस रूप में शामिल किया गया है

- A) international convention / अंतर्राष्ट्रीय संविद
- B) directive principle / निदेशक सिद्धांत
- C) human right / मानवाधिकार
- D) fundamental right / मौलिक अधिकार

63) Which of the following is the full form of SIDBI? / निम्नांकित में से कौन SIDBI का पूर्ण रूप है?

- A) State Industries Development Board of India / स्टेट इंडस्ट्रीज डेवलपमेंट बैंक ऑफ इंडिया
- B) Small Industries Development Bank of India / स्मॉल इंडस्ट्रीज डेवलपमेंट बैंक ऑफ इंडिया
- C) Standard Industries Development Bank of India / स्टैंडर्ड इंडस्ट्रीज डेवलपमेंट बैंक ऑफ इंडिया
- D) Special Industrial Development Bank of India / स्पेशल इंडस्ट्रियल डेवलपमेंट बैंक ऑफ इंडिया

64) Bread and Butter, printer and ink cartridge illustrate the type of inter related demand known as \ जीविकोपार्जन (बटर एंड ब्रेड), प्रिंटर एंड इंक कार्टेज नामक परस्पर संबंधित मांग किस प्रकार की व्याख्या करता है।

- A) Rival demand \ प्रतिद्वंद्वी मांग
- B) Joint Demand \ संयुक्त मांग
- C) Competitive demand \ प्रतिस्पर्धात्मक मांग
- D) Composite demand \ संमिश्र मांग

65) 'No part of our Constitution is unamendable'. This judgment was declared by / 'हमारे संविधान का कोई भी हिस्सा अविचलनीय नहीं है'। यह निर्णय किसके द्वारा घोषित किया गया था?

- A) Allahabad High Court / इलाहाबाद उच्च न्यायालय
- B) Punjab and Haryana High Court / पंजाब और हरियाणा उच्च न्यायालय
- C) Delhi High Court / दिल्ली उच्च न्यायालय
- D) Supreme Court of India / भारत का सर्वोच्च न्यायालय

66) Zinc metal is extracted from its ore zincite by reduction with carbon monoxide. It is an example of / जिंक धातु कार्बन मोनोऑक्साइड के साथ लघुकरण द्वारा उसके अयस्क जिंकाइट से निकाला जाता है। यह किसका एक उदाहरण है?

- A) Acid-base neutralization reaction / अम्ल-क्षार निष्प्रभावीकरण अभिक्रिया का उदाहरण है
- B) Single displacement reaction / एकल विस्थापन अभिक्रिया का उदाहरण है
- C) Combustion reaction / दहन अभिक्रिया का उदाहरण है
- D) Redox reaction / रेडॉक्स अभिक्रिया का उदाहरण है

67) Which one of the following states is granted special autonomous status by Article 370 of the Indian constitution? / भारत के संविधान की धारा 370 के तहत निम्नलिखित में से किस राज्य को विशेष दर्जा दिया गया है?

- A) Manipur / मणिपुर
- B) Madhya Pradesh / मध्य प्रदेश
- C) Mizoram / मिजोरम
- D) Jammu and Kashmir / जम्मू और कश्मीर

68) Mahatma Phule dedicated himself to the cause of the oppressed sections of society and women's upliftment. For this reason he founded the / महात्मा फुले ने स्वयं को समाज के दीन वर्गों के हितों और महिलाओं के उत्थान के लिए समर्पित किया था। इस कारण, उन्होंने किसकी स्थापना की थी?

- A) Satyashodhak Samaj / सत्यशोधक समाज
- B) Prathna Samaj / प्रार्थना समाज
- C) Vedic Samaj / वैदिक समाज
- D) Arya Samaj / आर्य समाज

69) What is INCORRECT with regard to Territory of the Union? / क्या संघ के केंद्र शासित प्रदेश के संबंध में इनमें से क्या गलत है?

- A) Union Territories specified in second schedule / दूसरी अनुसूची में विनिर्दिष्ट केंद्र शासित प्रदेश
- B) Article 1(2) of the Indian Constitution / भारतीय संविधान का अनुच्छेद 1 (2)
- C) State Territories specified in first schedule / पहली अनुसूची में विनिर्दिष्ट केंद्र शासित प्रदेश
- D) Territories acquired / अधिगृहीत प्रदेश

70) Which of the following fetched the Nobel Prize for Rabindranath Tagore? / निम्न में से किसने रबींद्रनाथ टैगोर को नोबेल पुरस्कार दिलवाया था?

- A) Gora / गोरा
- B) Gitanjali / गीतांजलि
- C) Shesher Kobita / शेषेर कोबिता
- D) Chaturanga / चतुरंग

71) Which of the following states have jointly topped the 'Ease of Doing Business Reforms Ranking 2015-16'? / निम्नांकित में से किन राज्यों ने संयुक्त रूप से 'ईज ऑफ डूइंग बिजनेस रिफॉर्म्स रैंकिंग' 2015-16 में शीर्ष स्थान पाया है?

- A) Andhra Pradesh and Telangana / आंध्र प्रदेश और तेलंगाना
- B) Manipur and Rajasthan / मणिपुर और राजस्थान
- C) Andhra Pradesh and Tamil Nadu / आंध्र प्रदेश और तमिलनाडु
- D) Jharkhand and Karnataka / झारखंड और कर्नाटक

72) In November 2016, India and which country agreed to set up a Joint Working Group (JWG) on the vexed fishermen's issue? / नवंबर 2016 में, भारत और कौनसे देश ने विवादास्पद मछुआरों के मुद्दे पर एक संयुक्त कार्य समूह (JWG) स्थापित करने पर सहमति दी?

- A) Sri Lanka / श्रीलंका
- B) Nepal / नेपाल
- C) China / चीन
- D) Bangladesh / बांग्लादेश

73) Who bagged India's first ever Olympic silver medal in Badminton at Rio Olympics 2016? / किसने रियो ओलंपिक 2016 में बैडमिंटन में भारत का सर्वप्रथम ओलंपिक रजत पदक जीता?

- A) P. V. Sindhu / P. V. सिंधू
- B) Jwala Gutta / ज्वाला गुट्टा
- C) Saina Nehwal / साइना नेहवाल
- D) Ashwini Ponnappa / अश्विनी पोनप्पा

74) Which of the following is an example of physical change? / भौतिक परिवर्तन का निम्न में से कौन सा एक उदाहरण है?

- A) Boiling of vegetables / सब्जियों का उबलना
- B) Boiling of rice / चावल का उबलना
- C) Boiling of sugar syrup / चाशनी का उबलना
- D) Boiling of an egg / अंडे का उबलना

75) Who was the First Flag bearer of independent India's first contingent at the Olympic Games in London 1948? / लंदन में 1948 में ओलंपिक खेलों में स्वतंत्र भारत के पहले दल का पहला ध्वज वाहक कौन था?

- A) Sam Jones / सैम जोन्स
- B) Khashaba Jadhav / कशाबा जाधव
- C) Milkha Singh / मिल्खा सिंह
- D) Talimeran Ao / तालिमेरान एओ

76) Who among the following has been elected Chairman of the International Chamber of Commerce (ICC) on 15 June 2016? / निम्नलिखित में से किसे 15 जून 2016 को इंटरनेशनल चैम्बर ऑफ कॉमर्स (ICC) के चेयरमैन के रूप में चुना गया है?

- A) Rakesh Bharti Mittal / राकेश भारती मित्तल
- B) Sunil Bharti Mittal / सुनील भारती मित्तल
- C) Jethabhai Patel / जेठाभाई पटेल
- D) Rajmohan Gandhi / राजमोहन गांधी

77) Alfred Nobel, the inventor of dynamite belonged to which country? / डायनामाइट के आविष्कारक, अल्फ्रेड नोबेल किस देश से थे?

- A) United Kingdom / यूनाइटेड किंगडम
- B) Norway / नॉर्वे
- C) Denmark / डेनमार्क
- D) Sweden / स्वीडन

78) Who has been named for 2016 "Lata Mangeshkar Award for Lifetime Achievement" instituted by the Maharashtra government? / महाराष्ट्र सरकार द्वारा स्थापित "लता मंगेशकर लाइफटाइम अचीवमेंट पुरस्कार" 2016 के लिए किसे नामित किया गया है?

- A) Sajid-Wajid / साजिद-वाजिद
- B) Ismail Darbar / इस्माइल दरबार
- C) Anand Bakshi / आनंद बख्शी
- D) Uttam Singh / उत्तम सिंह

79) Who was appointed as the captain of the Indian women hockey team for the Rio Olympics? / रियो ओलंपिक के लिए भारतीय महिला हॉकी टीम के कप्तान के रूप में किसे नियुक्त किया गया था?

- A) Ritu Rani / रितु रानी
- B) P. Harika / पी. हरिका
- C) Sushila Chanu / सुशीला चानू
- D) Deepika Kumari / दीपिका कुमारी

80) It is a writ issued with a view to restrain a person from holding a public office to which he is not entitled. Which writ is this? / यह रिट उस व्यक्ति को पद धारण करने से रोकता है जो ऐसे पद पर काम कर रहा होता है जिसका वह अधिकारी न हो। यह कौन सा रिट है?

- A) Certiorari / उत्प्रेषण-लेख
- B) Habeas Corpus / बंदी प्रत्यक्षीकरण
- C) Quo Warranto / अधिकार पृच्छा
- D) Mandamus / परमादेश

81) Which of the following properties of light change during the phenomenon of reflection? / प्रकाश का कौन सा गुण परावर्तन की घटना के दौरान बदलता है?

- A) Wavelength / तरंगदैर्घ्य
- B) Intensity / तीव्रता
- C) Frequency / आवृत्ति
- D) Velocity / वेग

82) The team Patna Pirates belongs to which sports league? / टीम पटना पाइरेट्स किस खेल लीग से जुड़ी हुई है?

- A) Hockey India League / हॉकी इंडिया लीग
- B) Pro Kabaddi League / प्रो कबड्डी लीग
- C) Indian Premier League/ इंडियन प्रीमियर लीग
- D) Indian Super League / इंडियन सुपर लीग

83) Tansen, considered as one of the greatest musicians in India, was chief musician in the court of / भारत में सबसे बड़े संगीतकारों में से एक के रूप में माने जाने वाले तानसेन किस के दरबार में मुख्य संगीतकार थे?

- A) Jahangir / जहांगीर
- B) Bahadur Shah / बहादुर शाह
- C) Shahjahan / शाहजहाँ
- D) Akbar / अकबर

84) What is economic botany? / आर्थिक वनस्पतिशास्त्र क्या है?

- A) Commercial usefulness of plants / वनस्पतियों की व्यापारिक उपयोगिता
- B) Commercial exploitation of plants to improve world economy /विश्व अर्थव्यवस्था में सुधार लाने के लिए वनस्पतियों का वाणिज्यिक लाभ उठाना
- C) Destruction of plants by people for their own use / निजी इस्तेमाल के लिए लोगों द्वारा वनस्पतियों का विनाश
- D) Commercial exploitation of plants by people / वनस्पतियों का लोगों द्वारा वाणिज्यिक लाभ उठाना

85) Which of the following are the two types of Vaccines that protect people against Polio? / निम्न में से कौन से पोलियो के खिलाफ लोगों की रक्षा करने वाले टीके के दो प्रकार हैं?

- A) Injectable Polio Vaccine and Inactivated Polio Vaccine / इंजेक्टेबल पोलियो वैक्सीन और इनएक्टिवेटेड पोलियो वैक्सीन
- B) Encapsulated Poliovirus Vaccine and Edible Polio Vaccine / एनकेप्सुलेटेड पोलियोवाइरस वैक्सीन और एडिबल पोलियो वैक्सीन
- C) Ingestible Polio Vaccine and Convulse Polio Vaccine / इंजेस्टिबल पोलियो वैक्सीन और कंवलस पोलियो वैक्सीन
- D) Inactivated Polio vaccine and Oral Polio vaccine / इनएक्टिवेटेड पोलियो वैक्सीन और ओरल पोलियो वैक्सीन

86) Who among the following won the Quidditch World Cup 2016? / निम्न में से किसने क्विडडिच विश्व कप 2016 जीता?

- A) New Zealand / न्यूजीलैंड
- B) Switzerland / स्विट्जरलैंड
- C) Australia / ऑस्ट्रेलिया
- D) Denmark / डेनमार्क

87) Where among the following does the confluence of rivers Mandakini and Alaknanda take place? / मंदाकिनी और अलकनंदा नदियों का संगम किस स्थान पर होता है?

- A) Rudra Prayag / रुद्र प्रयाग
- B) Manasarovar / मानसरोवर
- C) Rajmahal Hills / राजमहल की पहाड़ियां
- D) Ladakh / लद्दाख

88) Which Maratha ruler had made Raigarh as his capital? / किस मराठा शासक ने रायगढ़ को अपनी राजधानी बनाया था?

- A) Chhatrapati Shahu / छत्रपति शाहू
- B) Chhatrapati Rajaram / छत्रपति राजाराम
- C) Sambhaji Maharaj / संभाजी महाराज
- D) Chhatrapati Shivaji / छत्रपति शिवाजी

89) In November 2016, PM Narendra Modi inaugurated the 1st International Agro-Biodiversity Congress 2016 in which of the following places? / नवंबर 2016 में, प्रधानमंत्री नरेंद्र मोदी ने निम्नलिखित स्थानों में से कहाँ पहला अंतर्राष्ट्रीय कृषि-जैव विविधता कांग्रेस 2016 का उद्घाटन किया?

- A) Kolkata / कोलकाता
- B) Chennai / चेन्नई
- C) Mumbai / मुंबई
- D) New Delhi / नई दिल्ली

90) Malik Muhammad Jayasi wrote the famous epic "Padmavat" in which language? / मलिक मोहम्मद जायसी ने किस भाषा में प्रसिद्ध महाकाव्य "पद्मावत" लिखा था?

- A) Urdu / उर्दू
- B) Hindi / हिंदी
- C) Brajbhasha / ब्रजभाषा
- D) Bhojpuri / भोजपुरी

91) The concept of the controversial Uniform Civil Code throughout the territory of India, emanates from / भारत के राज्यक्षेत्र भर में विवादास्पद समान नागरिक संहिता की अवधारणा कहाँ से उत्पन्न हुई?

- A) The Preamble which provides for the unity and integrity of the Indian Union / प्रस्तावना जो भारतीय संघ की एकता और अखंडता के लिए प्रदान करता है
- B) The Fundamental Rights which provides Right to Equality under Article 14 / मौलिक अधिकार जो अनुच्छेद 14 के तहत समानता का अधिकार प्रदान करता है
- C) The Directive Principles of State Policy laid down in Article 44 / अनुच्छेद 44 में निर्धारित राज्य के नीति निर्देशक सिद्धांत
- D) The concept of Socialism and Secularism as mentioned in our Constitution / हमारे संविधान में उल्लिखित समाजवाद और धर्मनिरपेक्षता की अवधारणा

92) Who was the Greek representative who was sent as an ambassador to Pataliputra during Mauryan dynasty? / मौर्य वंश के दौरान पाटलिपुत्र के लिए एक राजदूत के रूप में भेजा गया ग्रीक प्रतिनिधि कौन था?

- A) Megasthenes / मेगास्थेनेस
- B) Plato / प्लेटो
- C) Aristotle / एरिस्टोटल
- D) Socrates / सोक्रेटस

93) Which among the following is the largest inland salt lake of India? / निम्न में से कौन सी एक भारत का सबसे बड़ा अंतर्देशीय साल्ट लेक (तमक की झील) है?

- A) Wular / वूलर
- B) Chilika / चिल्का
- C) Pushkar / पुष्कर
- D) Sambhar / सांभर

94) Which is the brackish water lake in Odisha? / निम्नांकित में कौन सा उड़ीसा की खारे पानी की झील है?

- A) Chilika lake / चिल्का झील
- B) Burudi lake / बुरुडी झील
- C) Dimna lake / दिम्ना झील
- D) Ansupa lake / अंसुपा झील

95) Which of the following technique is used to estimate the quantity and quality of groundwater present inside the rock? /

निम्न में से किस तकनीक का प्रयोग शिला के अंदर मौजूद भूजल की मात्रा एवं गुणवत्ता का अनुमान लगाने के लिए प्रयोग किया जाता है?

- A) Hydro Mapping / हाइड्रो मैपिंग
- B) Hydroponics / हीड्रोपोनिक्स
- C) Aqua refining / एक्वा रिफाइनिंग
- D) Aquifer mapping / एक्वीफर मैपिंग

96) In relation to sports fraternity, what does IPC stand for? / खेल श्रेणी के संबंध में IPC का क्या अर्थ है?

- A) Indian Polo Council / इंडियन पोलो काउंसिल
- B) International Paralympic Committee / इंटरनेशनल पैरालम्पिक कमिटी
- C) Indian Paralympic Committee / इंडियन पैरालम्पिक कमिटी
- D) International Paragliders Committee / इंटरनेशनल पैराग्लाइडर्स कमिटी

97) Which Kakatiya ruler shifted his capital to Anamakonda near Warangal and took the title "Tribhuvanamalla"? / किस

काकतीय शासक ने अपनी राजधानी को वारंगल के पास अनामाकोंडा स्थानांतरित किया था और शीर्षक "त्रिभुवनामल्ल" लिया था?

- A) Rudradeva / रुद्रदेव
- B) Prataparudra / प्रतापरुद्र
- C) Mahadeva / महादेव
- D) Prola I / प्रोला I

98) What is the age of retirement of a High Court judge in India as of April 2016? / अप्रैल 2016 के अनुसार भारत के उच्च न्यायालय के

न्यायाधीश की सेवानिवृत्ति आयु क्या है?

- A) No age limit / कोई आयु सीमा नहीं है
- B) 65 years / 65 वर्ष
- C) 62 years / 62 वर्ष
- D) 60 years / 60 वर्ष

99) What is the rank of India in 2016-17 Global Competitiveness Index, prepared by the World Economic Forum Global Competitiveness Report? / वर्ल्ड इकोनॉमिक फोरम ग्लोबल कम्पिटिविटीव रिपोर्ट द्वारा तैयार किये गए ग्लोबल कम्पिटिविटीव इंडेक्स 2016-17 में भारत का क्या स्थान है?

- A) 76
- B) 115
- C) 39
- D) 58

100) The work done in moving a unit positive test-charge across two points in an electric circuit is a measure of / एक परिपथ में दो पॉइन्ट के पार यूनिट सकारात्मक परीक्षा-चार्ज को मूव करने में किया गया कार्य किस का माप है?

- A) current / करन्ट
- B) potential difference / विभावांतर
- C) power / शक्ति
- D) resistance / प्रतिरोध

101) In which of the following states of India is there an availability of resources of in situ monazite, established by AMD as of September 2014? / भारत के निम्नलिखित किस राज्य में मूल स्थान पर मोनाजाइट संसाधनों की उपलब्धता है, जिसे सितंबर 2014 में AMD द्वारा स्थापित किया गया?

- A) Rajasthan / राजस्थान
- B) Bihar / बिहार
- C) West Bengal / पश्चिम बंगाल
- D) Haryana / हरियाणा

102) From which of the following trees can quinine be economically extracted? / निम्नलिखित पेड़ों में किसमें से कुनैन आर्थिक रूप से निकाला जा सकता है?

- A) Coconut tree / नारियल का पेड़
- B) Cinchona tree / सिन्कोना पेड़
- C) Mango tree / आम का पेड़
- D) Horse chestnut tree / हॉर्स चेस्टनट पेड़

103) Where was the first meeting of National Committee on Trade Facilitation (NCTF) held in October 2016? / अक्टूबर 2016 में नेशनल कमिटी ऑन ट्रेड फैसिलिटेशन (NCTF) की पहली बैठक का आयोजन कहाँ किया गया था?

- A) New Delhi / नई दिल्ली
- B) Mumbai / मुम्बई
- C) Hyderabad / हैदराबाद
- D) Indore / इंदौर

104) In respect of introduction and passing of bills, identify the INCORRECT statement. / विधेयक लाने और इसे पारित करने के बारे में इनमें से गलत कथन की पहचान कीजिए।

- A) Bill pending in the parliament shall lapse by reason of the prorogation of the houses / संसद में लंबित विधेयक सदनों के सत्रावसान के कारण समाप्त हो जाता है
- B) Bill may be introduced in either houses of the Legislature / विधेयक विधानसभा के किसी भी सदन में पेश किया जा सकता है
- C) Bill pending in the legislative council shall not lapse which has not passed by the legislative assembly prior to its dissolution / विधान परिषद में लंबित विधेयक, जो उसके भंग होने से पहले विधान सभा द्वारा पारित नहीं किया गया है, समाप्त नहीं होगा।
- D) Bill is deemed to be passed if agreed to by both the houses / दोनों सदनों द्वारा सहमति दिए जाने पर विधेयक पारित हुआ माना जाता है

105) From where was India's latest communication satellite launched in October 2016? / अक्टूबर 2016 में भारत के सबसे बड़े संचार उपग्रह को कहाँ से लॉन्च किया गया था?

- A) Bangalore / बैंगलोर
- B) French Guiana / फ्रेंच गुयाना
- C) Sriharikota / श्रीहरिकोटा
- D) Thumba / थुम्बा

106) Which of the following is NOT an island of the Lakshadweep islands? / निम्नलिखित में से कौन सा लक्षद्वीप द्वीप समूह का द्वीप नहीं है?

- A) Baratang / बारातंग
- B) Amini / अमिनि
- C) Agatti / अगत्ती
- D) Kiltan / किलतन

107) The ancient inscriptions are generally classified according to their content and purpose. The Lumbini pillar inscription of Ashok is what type of inscription? / प्राचीन शिलालेखों को आमतौर पर उनकी अंतर्वस्तु और उद्देश्य के अनुसार वर्गीकृत किया गया है। अशोक के लुम्बिनी स्तंभ शिलालेख किस प्रकार का शिलालेख है?

- A) Commemorative / स्मरणीय
- B) Both donative and dedicative / दोनों दातव्य और समर्पित
- C) Dedicative / समर्पित
- D) Donative / दातव्य

108) Who first discovered a direct sea route to India? / भारत के लिए सबसे पहले किसने एक सीधे समुद्री मार्ग की खोज की थी?

- A) Germans / जर्मन
- B) Dutch / डच
- C) French / फ्रेंच
- D) Portuguese / पुर्तगाली

109) What was the capital of the earliest Badami Chalukya dynasty? / आरम्भिक बादामी चालुक्य वंश की राजधानी क्या थी?

- A) Kalinga / कलिंग
- B) Vatapi / वातापी
- C) Mysore / मैसूर
- D) Anga / अंगा

110) Who lifted the 1st BRICS U-17 Football Tournament 2016 held at Goa? / गोवा में आयोजित पहला BRICS U-17 फुटबॉल टूर्नामेंट 2016 किसने जीता?

- A) China / चीन
- B) Brazil / ब्राजील
- C) Russia / रूस
- D) South Africa / दक्षिण अफ्रीका

111) The citizens in India have been given the Right to Vote on the basis of their \ भारत में नागरिकों को इनमें से किस आधार पर वोट करने का अधिकार प्रदान किया गया है

- A) Education \ शिक्षा
- B) Health \ स्वास्थ्य
- C) Property \ संपत्ति
- D) Age \ आयु

112) If the president dies, resigns or is removed, the vacancy created has to be filled within / यदि राष्ट्रपति की मृत्यु हो जाती है, वे त्यागपत्र दे देते हैं या हटा दिए जाते हैं, तो रिक्ति इनमें से कितने दिन में भरी जानी होती है?

- A) 12 Months / 12 माह
- B) 6 Months / 6 माह
- C) 9 Months / 9 माह
- D) 3 Months / 3 माह

113) "The Scientific Method is a step-by-step method for performing experiments and other scientific research", this theory was developed by which of the following scientists? / "वैज्ञानिक विधि, प्रयोगों और अन्य वैज्ञानिक अनुसंधानों को क्रियान्वित करने का कदम-दर-कदम विधि है", यह सिद्धांत निम्नलिखित वैज्ञानिकों में से किसने विकसित किया था?

- A) Francis Bacon and Rene Descartes / फ्रांसिस बेकन और रेने देस्कार्त
- B) Robert Koch and John Curtis / रॉबर्ट कोच और जॉन कर्टिस
- C) Melville R. Bissell and George Eastman / मेलविल आर. बिसेल और जॉर्ज ईस्टमैन
- D) Joseph Aspdin and William Lear / जोसेफ एस्पिडिन और विलियम लेअर

114) Which of the following is the longest natural cave in India? / निम्नलिखित में कौन भारत का सबसे लंबा प्राकृतिक गुफा है?

- A) Krem Mawjymbuin cave/ क्रेम माजिम्बुन गुफा
- B) Ellora cave / ऐलोरा की गुफा
- C) Krem Liat Prah cave/ क्रेम लियत प्राह गुफा
- D) Mawsmmai cave / मास्मयी गुफा

115) In August 2016, who was sworn in as the new Chief Minister of Gujarat? / अगस्त 2016 में किसने गुजरात के नए मुख्यमंत्री के रूप में शपथ ली थी?

- A) Keshubhai Patel / केशुभाई पटेल
- B) Anandiben Patel / आनंदीबेन पटेल
- C) Dilip Parikh / दिलीप पारिख
- D) Vijay Rupani / विजय रूपानी

116) Absence of Arbitrary Power, Equality before Law, and Individual Liberties are / स्वेच्छा शक्ति की अनुपस्थिति, कानून के समक्ष समानता, और व्यक्तिगत स्वतंत्रता

- A) Concepts of Separative of Powers by Montesquieu / मॉन्टेस्क्यू द्वारा शक्तियों के पृथकीकरण की अवधारणाएँ हैं
- B) Features of unwritten constitution / अलिखित संविधान की विशेषताएँ हैं
- C) Basic features of Rule of Law by Dicey / डाइसी द्वारा कानूनी नियम की बुनियादी विशेषताएँ हैं
- D) Basis of Discretionary Powers / विवेकाधीन शक्तियों का मूल हैं

117) These two played a vital role in the integration of princely states in India. Who are they? \ इन दोनों ने भारत की रियासतों के एकीकरण में महत्वपूर्ण भूमिका निभाई थी। वे कौन हैं?

- A) Sardar Patel and Pt. Jawaharlal Nehru \ सरदार पटेल और पं. जवाहर लाल नेहरू
- B) Sardar Patel and V.P. Menon \ सरदार पटेल और वी.पी. मेनन
- C) Sardar Patel and Dr. Rajendra Prasad \ सरदार पटेल और डॉ. राजेंद्र प्रसाद
- D) Sardar Patel and K.M. Munshi \ सरदार पटेल और के. एम. मुंशी

118) Who among the following has taken charge as the first CEO of Board of Control for Cricket in India (BCCI) in June 2016? / निम्न में से किसने जून 2016 में भारतीय क्रिकेट कंट्रोल बोर्ड (BCCI) के पहले CEO के रूप में प्रभार संभाला है?

- A) Rahul Johri / राहुल जौहरी
- B) Anurag Thakur / अनुराग ठाकुर
- C) Ajay Shirke / अजय शिर्के
- D) Rajeev Shukla / राजीव शुक्ला

119) The normal term of Lok Sabha is five years but it may be dissolved under certain conditions by \ लोक सभा की सामान्य अवधि पांच वर्ष है, लेकिन यह कुछ शर्तों द्वारा भंग की जा सकती है, वह है

- A) The President on the recommendation of the Vice President \ उपराष्ट्रपति की सिफारिश पर राष्ट्रपति द्वारा
- B) The President on the recommendation of the Cabinet Ministers \ कैबिनेट मंत्रियों की सिफारिश पर राष्ट्रपति द्वारा
- C) The President on the recommendation of the Speaker \ अध्यक्ष की सिफारिश पर राष्ट्रपति द्वारा
- D) The President on the recommendation of the Prime minister \ प्रधानमंत्री की सिफारिश पर राष्ट्रपति द्वारा

120) Breeding between unrelated animals which may be between individuals of the same breed (but having no common ancestors) is / असंबंधित जानवरों के बीच प्रजनन जो कि एक ही नस्ल के व्यक्तियों के बीच हो सकता है (लेकिन समान पूर्वजों वाले नहीं), वह है

- A) Artificial insemination / आर्टिफिशियल इन्सेमिनेशन
- B) Inbreeding / इनब्रीडिंग
- C) Outbreeding / आउटब्रीडिंग
- D) Crossbreeding / क्रॉसब्रीडिंग

Section 3 - PART C

No. of Questions: 60

121) Fill in the blanks with the correct option:

We have to hurry up, there is very _____ time for the show to begin.

- A) a little
- B) few
- C) a few
- D) little

122) Choose the correct pronoun to complete the sentence:

Sheila was praised because _____ did the job herself.

- A) it
- B) he
- C) they
- D) she

123) Chose the word that is spelt correctly and fill the blanks:

The little child was full of _____ at the thought of going to the water kingdom.

- A) ebulliance
- B) ebullianse
- C) ebullience
- D) ebulience

124) Identify the correct synonym: Proficient

- A) Adept
- B) Rich
- C) Inept
- D) Unskilled

125) Choose the Pronoun in the given sentence: To whom should I write?

- A) should
- B) to
- C) write
- D) whom

126) Choose the correct option to complete the sentence:

Fans _____ the hump when the team loses.

- A) cut
- B) net
- C) put
- D) get

127) Identify the antonym of the underlined word:

The cheerful girl was called to the Principal's office.

- A) naughty
- B) disobedient
- C) happy
- D) gloomy

128) Choose the correct form of the verb in brackets:

While getting off the bus she (slip).

- A) is slipping
- B) have slip
- C) slipped
- D) was slipping

129) Identify the antonym of the underlined word:

Unwise expenditure makes us bankrupt.

- A) indifferent
- B) lavish
- C) ruined
- D) solvent

130) Fill in the blanks with the correct option: I know _____ boy sitting beside me.

- A) these
- B) this
- C) those
- D) that

131) Identify the correct synonym: Lucid

- A) Unclear
- B) Clear
- C) Dark
- D) Cloudy

132) Read the sentence carefully and select the underlined part that is incorrect:

A decade in making, the documentary on penguins is both a response to widespread misinformation with their mating habits and an investigation into their behaviour.

- A) in making
- B) investigation
- C) with
- D) both a response

133) Read the sentence carefully and select the underlined part that is incorrect:

The common housefly is capable of abrupt changes in direction that help it elude capture.

- A) capable
- B) help it
- C) changes
- D) in

134) Choose the correct option to complete the sentence:

The speech was intended to answer the charges levelled _____ him by his opponents.

- A) within
- B) against
- C) beside
- D) besides

135) Fill in the blanks with correct option:

You should value honour _____ life.

- A) to
- B) above
- C) since
- D) by

136) Chose the word that is spelt correctly and fill the blanks:

The doctors told the parents that there has been a ____ improvement in their child's health.

- A) noticebal
- B) noticable
- C) notisable
- D) noticeable

137) Fill in the blanks with the correct option:

God _____ the truth.

- A) sees
- B) seeing
- C) see
- D) seen

138) Identify the error in the following sentence. The error, if any, will be in one part of the sentence, the number of that part is your answer. If there is no error, mark your answer as (D). (A) Fifty people / (B) helped to put / (C) out an fire. / (D) No Error.

- A) A
- B) D
- C) B
- D) C

139) Fill in the blanks with correct option:

Rahul was born _____ 4th December.

- A) in
- B) on
- C) to
- D) during

140) Identify the antonym of the underlined word:

Pollution has begun to endanger the wild life in the Sunderbans

- A) imperil
- B) secure
- C) risk
- D) jeopardise

141) Identify the meaning of the underlined phrase/idiom:

Although much remains to be done in this direction, the gradual increase in the number of schools clearly shows that the school master is abroad.

- A) education is gradual
- B) education is free
- C) education is abroad
- D) education is spreading

142) Fill in the blanks with correct option:

Is a son liable _____ his father's debts?

- A) for
- B) from
- C) about
- D) of

143) Fill in the blanks with the correct option:

The trekkers walked back to _____ tents wearily

- A) his
- B) her
- C) their
- D) my

144) Choose the correct option to complete the sentence:

Safety standards have gone _____ the drain.

- A) down
- B) beneath
- C) up
- D) underneath

145) Fill in the blanks with the correct option:

A visionary always _____ the reality of the future.

- A) visualizes
- B) visualising
- C) visualize
- D) visualized

146) Fill in the blanks with the correct option:

This shop has a large _____ coffee mugs.

- A) choice on
- B) choice in
- C) choice up
- D) choice of

147) Chose the word that is spelt correctly and fill the blanks:

The _____ shows us the direction of the wind.

- A) wane
- B) vane
- C) vein
- D) vain

148) Fill in the blanks with the correct form of verb:

Breakfast cereals _____ with vitamins.

- A) is enriching
- B) enrich
- C) are enriched
- D) has been enriched

149) Fill in the blanks with the correct verb:

Military spending _____ a huge drain on the country's resources.

- A) is
- B) have been
- C) were
- D) has

150) Fill in the blanks with the correct option:

John always called himself _____ symbol of love, _____ love that stands for purity with _____ ever lasting faith in love.

- A) a, an, the
- B) a, a, an
- C) the, the, a
- D) a, an, an

151) Complete the sentence with an indefinite pronoun:

The show is very popular; _____ likes it.

- A) everyone
- B) none
- C) anybody
- D) Few

152) Fill in the blanks with the correct option:

Mark dubious chained himself to _____ boulder

- A) the
- B) a
- C) No article required.
- D) an

153) Identify the Simple sentence from the following options:

- A) My father was pleased when he saw my results.
- B) They ran for shelter when it started raining.
- C) Start early, or else you will be late.
- D) We heard about the accident.

154) Fill in the blanks with the correct option:

He _____ at the university for three years when he gets his degree next month.

- A) was studying
- B) will have studied
- C) will have been studying
- D) has studied

155) Fill in the blanks with the correct option:

She _____ a high price for the land.

- A) bid
- B) bids
- C) bade
- D) biden

156) Fill in the blanks with the correct option:

He shouted _____ the pupil angrily.

- A) in
- B) at
- C) on
- D) for

157) Fill in the blanks with the correct form of verb:

The island _____ by a coral reef.

- A) were encircling
- B) encircles
- C) encircle
- D) is encircled

158) Identify the antonym of the underlined word:

Being adventurous, he took the narrow track down the steep mountain side.

- A) daring
- B) cautious
- C) unafraid
- D) obstinate

159) Identify the correct synonym of the underlined word:

She flew into a fury when I refused.

- A) Fascination
- B) Surprise
- C) Rage
- D) Scheme

160) Choose the correct meaning of the phrase /idiom underlined in the sentence:

Tina and Mohan have been on good terms since they have been involved in this work.

- A) agreeable
- B) disputable
- C) friendly
- D) on vacation

161) Identify the complex sentence:

- A) I'll stay and help you.
- B) I stayed three nights at my cousin's place.
- C) She stayed at home while the children were young.
- D) He never stays angry for long.

162) Identify the meaning of the underlined phrase/idiom:

He seemed to be out of spirits.

- A) unhappy
- B) unsatisfied
- C) unresolved
- D) unconcerned

163) Identify the correct synonym: Nurture

- A) Ignore
- B) Foster
- C) Insult
- D) Neglect

164) What type of noun is the underlined word:

The candidate was chosen for his intelligence.

- A) proper
- B) collective
- C) common
- D) abstract

165) Chose the word that is spelt correctly and fill the blanks:

He told her that he would _____ attend her birthday party.

- A) definitely
- B) dafinately
- C) definately
- D) difinately

166) Change the simple sentence into a complex sentence:

He was punished for his disobedience.

- A) He was disobedient and he was punished.
- B) His disobedience punished him.
- C) He was punished to his disobedience.
- D) He was punished because he was disobedient.

167) Choose the correct form of the verb given in brackets:

We (sit) on the verandah when the postman came.

- A) had been sitting
- B) were sitting
- C) have been sitting
- D) sat

168) Fill in the blanks with the correct option:

Pandavas are _____ example of obedience, where as kavravas are _____ representation of _____ malefic.

- A) a, a, an
- B) a, an, a
- C) an, the, the
- D) a, an, the

169) Fill in the blanks with the correct form of verb:

There _____ all kinds of thoughts running through my mind.

- A) was
- B) is
- C) were
- D) would be

170) Fill in the blanks with the correct verb:

The next train _____ due in ten minutes.

- A) is
- B) will have been
- C) have
- D) were

171) Identify the correct synonym: Imperious

- A) Horrible
- B) Garrulous
- C) Domineering
- D) Hasty

172) Choose the correct option to complete the sentence:

Thousands of small businesses _____ the dust every year.

- A) see
- B) bite
- C) hit
- D) wipe

173) Fill in the blanks with the correct verb:

I _____ these reality TV shows.

- A) was hating
- B) hate
- C) hates
- D) am hating

174) Change the given sentence into a simple sentence:

He was overjoyed when he heard the news.

- A) Hearing the news, he was overjoyed.
- B) He felt overjoyed when he heard the news.
- C) After he heard the news, he was overjoyed.
- D) He heard the news and he was overjoyed.

175) Read the sentence carefully and select the underlined part that is incorrect:

Priti was hardworking and a prolific lecturer until a mysterious illness caused her to fall asleep, sometimes in the middle of a lecture.

- A) until
- B) in the middle
- C) to fall
- D) hardworking

176) Identify the antonym of the underlined word:

The death toll due to the consumption of spurious liquor rose to two hundred and sixteen.

- A) counterfeit
- B) authentic
- C) fake
- D) country

177) Identify the antonym of the underlined word:

He kept the tone of the letter formal and businesslike.

- A) official
- B) casual
- C) ceremonious
- D) serious

178) Fill in the blanks with correct option:

He began to work forgetful _____ everything else.

- A) of
- B) in
- C) to
- D) off

179) Identify the correct synonym: Eloquence

- A) Fluency
- B) Attention
- C) Delusion
- D) Conceit

180) Choose the correct meaning of the phrase / idiom underlined in the sentence:

Raju was on edge as he sat waiting for the announcement of his results.

- A) sick
- B) nervous
- C) excited
- D) confident

Section 1 - PART A

No. of Questions: 60

1) The average age of three boys is 15 years. If their ages are in the ratio 1:4:5, the age of the second youngest boy is / तीन लड़कों की औसत आयु 15 वर्ष है। यदि उनकी आयु का अनुपात 1:4:5 है, तो दूसरे सबसे कम उम्र के लड़के की आयु क्या है?

- A) 22 years / 22 वर्ष
- B) 18 years / 18 वर्ष
- C) 16 years / 16 वर्ष
- D) 20 years / 20 वर्ष

2) In a certain code, QNKLW is written as FUFUO, then how is UGLNE written in the same code? / एक निश्चित कूट में QNKLW को FUFUO के रूप में लिखा जाता है, तो उसी कूट में UGLNE को कैसे लिखा जाएगा?

- A) OLIOU
- B) KJHHJ
- C) JNGQC
- D) LOIUU

3) Which of the given option will NOT share the same property as the elements of the given set : (JKM, QRT, WXZ, BCE)? / दिए गए विकल्प में से कौन सा विकल्प उसी गुणस्वभाव को साझा नहीं करेगा जो दिए गए सेट (JKM, QRT, WXZ, BCE) के तत्व करते हैं?

- A) NOQ
- B) GHJ
- C) FGI
- D) RSV

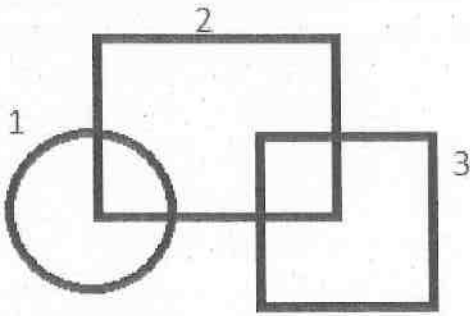
4) Among the given four options, three are related in a way. Select the option that is odd one out. / दिए गए चार विकल्पों में, तीन एक निश्चित तरीके से संबंधित हैं। उस विकल्प का चयन करें जो उनमें भिन्न है।

- A) Square / समकोण चतुर्भुज
- B) Rhombus / विषमकोण
- C) Rectangle / आयत
- D) Ellipse / दीर्घवृत्त

5) If Q% of Q is 25, then Q is equal to / यदि Q का Q% 25 है, तब Q किसके के बराबर है?

- A) 25
- B) 125
- C) 100
- D) 50

6) An image is made from multiple geometric figures (marked with numbers). In the image, some regions are formed. In each of these regions, as many dots are to be placed as the number of geometric figures that has this as a part of it. In total, how many dots will be placed in the image? / एक चित्र को कई ज्यामितीय आकृतियों से बनाया गया है (संख्याओं से चिह्नित)। चित्र में, कुछ क्षेत्रों को बनाया गया है। इस प्रत्येक क्षेत्र में, उतने ही बिंदु स्थापित करने हैं, जितनी ज्यामितीय आकृतियों की संख्या, जो इसका हिस्सा है। कुल मिलाकर, चित्र में कितने बिंदु स्थापित करने होंगे?



- A) 7
- B) 4
- C) 6
- D) 9

Following are the eligibility criteria for applying for the post of Special Officer (SO) in a bank. The candidate should:

- (i) be a graduate in any discipline with atleast 70% aggregate marks.
- (ii) have atleast 65% marks in Full time MBA degree.
- (iii) have minimum 3-year Post-qualification experience in banking.
- (iv) should be less than 30 years of age.

According to the details of the candidate, he/she may be eligible under one or more of the criteria given above.

एक बैंक में विशेष अधिकारी (SO) के पद के लिए आवेदन करने के लिए पात्रता मापदंड निम्नलिखित हैं। उम्मीदवार:

- (i) को कम से कम 70% कुल अंक के साथ किसी भी विषय में ग्रेजुएट होना।
- (ii) को पूर्णकालिक MBA की डिग्री में कम से कम 65% अंक प्राप्त किए होने चाहिए।
- (iii) को क्वालिफिकेशन के बाद बैंकिंग में कम से कम 3 साल का कार्य अनुभव होना चाहिए।
- (iv) की आयु 30 वर्ष से कम होनी चाहिए।

उम्मीदवार के विवरण के अनुसार वह उपरोक्त एक या एक से अधिक मापदंडों के तहत पात्र हो सकता/सकती है।

Read the information given in the question and which all conditions the candidate will satisfy.

प्रश्न में दी गई जानकारी पढ़ें और पता लगाएं कि किन शर्तों को उम्मीदवार पूरा करेगा।

7) These cases are given to you as on 30th January, 2016.

Candidate's information : Gauri is a graduate in Political Science with 75% marks and has scored 62% marks in full time MBA course. She has been working in a bank as a cashier since last 4 years after post graduation. She was born on 14th September, 1987.

/ ये मामले आपको 30 जनवरी, 2016 की तारीख के तहत दिए गए हैं।

उम्मीदवार की जानकारी: गौरी 75% अंकों के साथ राजनीति विज्ञान में ग्रेजुएट है और पूर्णकालिक MBA कोर्स में 62% अंक प्राप्त किया है। वह पोस्ट-ग्रेजुएशन के बाद पिछले 4 साल से एक बैंक में कैशियर के रूप में काम कर रही है। वह 14 सितंबर, 1987 को पैदा हुई थी।

- A) (i), (iii) and (iv) only / केवल (i), (iii) और (iv)
- B) Not eligible / पात्र नहीं है
- C) (i), (ii) and (iii) / (i), (ii) और (iii)
- D) (i) and (ii) only / केवल (i) और (ii)

8) What number should come next in the series given below? / नीचे दिए गए श्रृंखला में अगली संख्या कौनसी आनी चाहिए?

51, 74, 101, 132, 167, 206, ?

- A) 247
- B) 249
- C) 251
- D) 245

9) Which of the following words is different from others? / निम्नलिखित शब्दों में से कौन सा दूसरों से अलग है?

- A) Adroitness/कुशलता
- B) Ability/क्षमता
- C) Clumsiness/अदक्ष
- D) Prowess/भुजबल

10) There are three words given here. The first two words are related in a certain manner. Select the proper word among the given four alternatives which bears the same relationship with the third word as in the manner first and second words are related.

Noble gas : Argon :: Halogen : _____ /

यहाँ तीन शब्द दिए गए हैं। पहले दो शब्द एक निश्चित तरीके से संबंधित हैं। दिए गए चार विकल्पों में से उस उचित शब्द का चयन करें जो तीसरे शब्द के साथ उसी प्रकार से संबंधित हो जिस तरीके से पहला और दूसरा शब्द संबंधित हैं।

नोबल गैस : आर्गन :: हलोजन : _____

- A) Neon / नियॉन
- B) Bromine / ब्रोमीन
- C) Ozone / ओज़ोन
- D) Xenon / ज़ीनॉन

11) There are three words given here. The first two words are related in a certain manner. Select the proper word among the given four alternatives which bears the same relationship with the third word as in the manner first and second words are related.

Light : Darkness :: Medicine : _____ /

यहाँ तीन शब्द दिए गए हैं। पहले दो शब्द एक निश्चित तरीके से संबंधित हैं। दिए गए चार विकल्पों में से उस उचित शब्द का चयन करें जो तीसरे शब्द के साथ उसी प्रकार से संबंधित हो जिस तरीके से पहला और दूसरा शब्द संबंधित हैं।

प्रकाश : अंधेरा :: औषधि : _____

- A) Hospital / अस्पताल
- B) Tablets / टैबलेट
- C) Disease / रोग
- D) Treatment / इलाज

Following are the conditions for selection of translator in various departments of the government in India. The candidate must:	निम्नलिखित भारत सरकार के विभिन्न विभागों में अनुवादक के चयन के लिए शर्तें हैं। उम्मीदवार को:
(i) be a graduate in any discipline with atleast 65% marks.	(i) कम से कम 65% अंकों के साथ किसी भी विषय में ग्रेजुएट होना चाहिए।
(ii) have the ability to read, write and speak Hindi and English besides the regional language of the state to which he/she belongs.	(ii) अपने राज्य के क्षेत्रीय भाषा के अलावा हिंदी और अंग्रेजी पढ़ने, लिखने और बोलने की क्षमता होनी चाहिए।
(iii) be less than 30 years of age.	(iii) 30 वर्ष से कम आयु होना चाहिए।
(iv) must have Indian Passport.	(iv) भारतीय पासपोर्ट होना आवश्यक है।
In the case of a candidate who satisfies all the conditions:	अगर एक उम्मीदवार सभी शर्तों को पूरा करता है:
(A) EXCEPT (i) above, but has a post graduation degree, then his/her case may be referred to State Employment Officer.	(A) सिवाय उपरोक्त (i) के, लेकिन एक पोस्ट-ग्रेजुएशन की डिग्री है तो, उसके मामले को राज्य रोजगार अधिकारी को भेजा जाए।
(B) EXCEPT (iii) above, but has experience of 3 years after post-graduation, then the case may be referred to Personal assistant, State Employment Officer.	(B) सिवाय उपरोक्त (iii) के, लेकिन पोस्ट-ग्रेजुएशन के बाद 3 साल का अनुभव है तो, मामले को निजी सहायक, राज्य रोजगार अधिकारी को भेजा जाए।
Based on the above information and criteria given in each of the following questions, you have to take decision. These cases are given to you as on 1st September, 2016.	उपरोक्त जानकारी और नीचे दिए गए प्रत्येक प्रश्न में दिए गए मापदंडों के आधार पर आपको निर्णय लेना होगा। ए सभी मामले आपको सितंबर 1, 2016 की तारीख को दिए गए हैं।

12) Romila Khanna, who is 36 years old, belongs to Kerala and secured 69% marks in her graduation. She knows to read, write and speak Hindi, English and Malayalam. She has an Indian Passport. She has a work experience of 2 years after her graduation. She should be :

/ रोमिला खन्ना जिसकी आयु 36 वर्ष है, केरल की रहने वाली है और उसने अपने ग्रेजुएशन में 69% अंक हासिल किए हैं। वह हिन्दी, अंग्रेजी और मलयालम पढ़ना, लिखना और बोलना जानती है। उसके पास भारतीय पासपोर्ट है। उसके पास उसके ग्रेजुएशन के बाद 2 साल का कार्यानुभव है। उसे

- A) rejected / नहीं चुना जाना चाहिए
- B) referred to Personal Assistant, State Employment Officer / निजी सहायक, राज्य रोजगार अधिकारी के पास भेजा जाना चाहिए
- C) selected / चुना जाना चाहिए
- D) referred to State Employment Officer. / राज्य रोजगार अधिकारी के पास भेजा जाना चाहिए

13) Three out of the given four items are similar. Find the odd one. / दिए गए चार आयटमों में से तीन एक जैसे हैं। भिन्न आयटम की पहचान करें

- A) A
- B) I
- C) Z
- D) D

14) What replaces the question mark (?) in the following number series? / निम्नलिखित संख्या श्रृंखला में प्रश्न चिह्न (?) का स्थान कौन लेगा?

-8, -1, 0, 1, 8, 27, 64, ?

- A) 144
- B) 100
- C) 81
- D) 125

Following are the eligibility criteria for applying for the post of Special Officer (SO) in a bank. The candidate should:

- (i) be a graduate in any discipline with atleast 70% aggregate marks.
- (ii) have atleast 65% marks in Full time MBA degree.
- (iii) have minimum 3-year Post-qualification experience in banking.
- (iv) should be less than 30 years of age.

According to the details of the candidate, he/she may be eligible under one or more of the criteria given above.

Read the information given in the question and find out which all conditions the candidate will satisfy.

एक बैंक में विशेष अधिकारी (SO) के पद के लिए आवेदन करने के लिए पात्रता मापदंड निम्नलिखित हैं। उम्मीदवार:

- (i) को कम से कम 70% कुल अंक के साथ किसी भी विषय में ग्रेजुएट होना।
- (ii) को पूर्णकालिक MBA की डिग्री में कम से कम 65% अंक प्राप्त किए होने चाहिए।
- (iii) को क्वालिफिकेशन के बाद बैंकिंग में कम से कम 3 साल का कार्य अनुभव होना चाहिए।
- (iv) की आयु 30 वर्ष से कम होनी चाहिए।

उम्मीदवार के विवरण के अनुसार वह उपरोक्त एक या एक से अधिक मापदंडों के तहत पात्र हो सकता/सकती है।

प्रश्न में दी गई जानकारी पढ़ें और पता लगाएं कि किन शर्तों को उम्मीदवार पूरा करेगा।

15) These cases are given to you as on 30th January, 2016.

Candidate's information : Ketan Anand, who is working as an accountant in a private bank since 2012, secured 82% marks in graduation. He completed full-time MBA degree course in 2011 with 76% marks. He was born on 20th March, 1987.

/ ये मामले आपको 30 जनवरी, 2016 की तारीख के तहत दिए गए हैं।

उम्मीदवार की जानकारी: केतन आनंद जो 2012 से एक निजी बैंक में एक लेखाकार के रूप में काम कर रहा है, अपने ग्रेजुएशन में 82% अंक हासिल किए हैं। उसने 76% अंकों के साथ 2011 में पूर्णकालिक MBA डिग्री कोर्स पूरा किया। वह 20 मार्च, 1987 को पैदा हुआ था।

- A) Ketan is not eligible / केतन पात्र नहीं है
- B) All / सभी
- C) (i) only / केवल (i)
- D) (i) and (iii) only / केवल (i) और (iii)

16) If the income of company X in 2005 was Rs. 750 crore gaining 20%, then its expenditure was: / अगर 2005 में कंपनी X की आय 20% बढ़ोतरी के साथ रु. 750 करोड़ था तो, उसका व्यय था:

- A) Rs. 750 crore / रु. 750 करोड़
- B) Rs. 860 crore / रु. 860 करोड़
- C) Rs. 625 crore / रु. 625 करोड़
- D) Rs. 950 crore / रु. 950 करोड़

17) Among the given four options, three are related in a way. Select the option that is odd one out. / दिए गए चार विकल्पों में, तीन एक निश्चित तरीके से संबंधित हैं। उस विकल्प का चयन करें जो उनमें भिन्न है।

- A) Square of 100 - Cube of 10 / 100 का वर्ग - 10 का घन
- B) Number of unique 4 digit numbers / अद्वितीय 4 अंकीय संख्या की संख्या
- C) One fifth of square of 60 / 60 के वर्ग का पांचवां हिस्सा
- D) 10 times square of 30 / 30 के वर्ग का 10 गुणा

18) Which of the given option will NOT share the same property as the elements of the given set: (4, 8, 16, 32, 64)? / दिए गए सेट (4, 8, 16, 32, 64) के तत्वों में दिए गए गुणस्वभाव के अनुसार निम्नलिखित में से कौन सा विकल्प उसी गुणस्वभाव को साझा नहीं करेगा?

- A) 128
- B) 512
- C) 1014
- D) 256

19) Among the given four options, three are related in a same way. Select the option that is odd one out. / दिए गए चार विकल्पों में तीन एक तरीके से आपस में संबंधित हैं। वह विकल्प चुनिए जो सबसे भिन्न हो।

- A) 123
- B) 119
- C) 105
- D) 101

20) What number should replace the question mark (?) in the series given below? / नीचे दिए गए श्रृंखला में प्रश्न चिह्न (?) का स्थान कौनसी संख्या को लेना चाहिए?

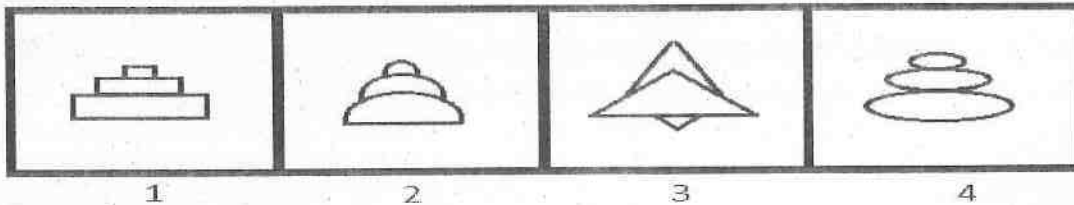
22, 110, 440, 1320, 2640, ?

- A) 2750
- B) 2700
- C) 2650
- D) 2640

21) The price of 30 doors is equal to that of 12 tables. The price of 9 doors and 6 tables together is Rs.60000. The total price of 35 doors and 8 tables is / 30 दरवाजों का मूल्य 12 मेज के मूल्य के बराबर है। एकसाथ 9 दरवाजों और 6 मेज का मूल्य 60000 रु है। 35 दरवाजों और 8 मेज का कुल मूल्य है

- A) Rs.137500 / 137500 रु
- B) Rs.162552 / 162552 रु
- C) Rs.932215 / 932215 रु
- D) Rs.292219 / 292219 रु

22) Among the given group of 4 images, which set of images can be classified as a group? / दिए गए 4 चित्रों में से, चित्रों के किस समुच्चय को एक समूह में वर्गीकृत किया जा सकता है?



- A) (1, 3, 4)
- B) (1, 2, 3)
- C) (1, 2, 4)
- D) (2, 3, 4)

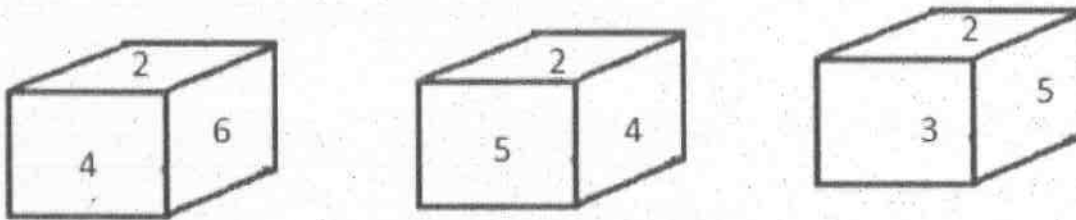
23) In how many different sets can the given set be classified if classification is done on the basis of number of unique consonants in term: (FLOWER, ELABORATE, PATHWAY, METRO, COASTAL, SNIPER)? / कितने विभिन्न समुच्चयों में दिए गए समुच्चय को वर्गीकृत किया जा सकता है यदि वर्गीकरण निम्नलिखित पद में अनोखे नियतांक की संख्या के आधार पर किया जाता है: (FLOWER, ELABORATE, PATHWAY, METRO, COASTAL, SNIPER)?

- A) 4
- B) 6
- C) 2
- D) 3

24) Father says to his youngest son, "I was as old as you are at present at the time of your birth." If the father's age is 70 years now, the age of his daughter 10 years ago, who is 2 years elder than the youngest son was: / पिता अपने सबसे छोटे बेटे से कहता है, "तुम्हारे जन्म के समय मेरा उतना उम्र था जितना तुम्हारा अब है"। अगर अब पिता की उम्र 70 साल है तो, सबसे छोटे बेटे से 2 साल बड़ी उसकी बेटी की उम्र 10 साल पहले कितनी थी?

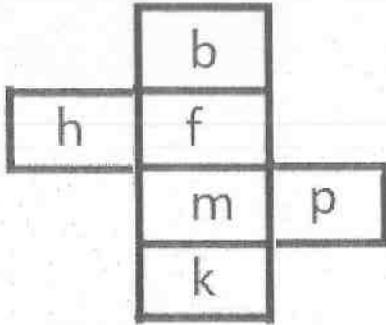
- A) 25 years / 25 साल
- B) 30 years / 30 साल
- C) 32 years / 32 साल
- D) 27 years / 27 साल

25) Below are given three different views of a dice on which numbers from 1 to 6 are written on its faces. Which number should be there on opposite face of face having number 5? / नीचे एक पासे के तीन अलग अलग दृश्य (व्यू) दिए गए हैं जिसके हर तरफ 1 से 6 तक संख्या लिखी गई है। 5 संख्या वाले पक्ष के विपरीत पक्ष पर कौन सी संख्या होनी चाहिए?



- A) 6
- B) 3
- C) 4
- D) 1

26) Given is opened view of a dice. Among the positions of which of the pairs of alphabets on opposite faces, difference in the alphabetical series will be least? / नीचे पासे का एक खुला दृश्य दिया गया है। विपरीत पक्षों पर बर्णों की किस जोड़ी की स्थितियों में न्यूनतम अंतर होगा?



- A) b and m / b और m
- B) p and h / p और h
- C) f and k / f और k
- D) f and h / f और h

27) There are five members in a family viz Neeta, Geeta, Rita, Tina and Sita. Neeta is half the age of Geeta and thrice the age of Rita. Sita is younger than Tina by 3 years. Tina is 8 years younger than Neeta and Sita is 16 year old studying in class X. Whose age is more than 50 year? / एक परिवार में पाँच सदस्य हैं नामशः नीता, गीता, रीटा, टीना और सीता। नीता का उम्र गीता के उम्र का आधा है और रीटा के उम्र का तिगुना है। सीता, टीना की तुलना में 3 साल छोटी है। टीना, नीता से 8 साल छोटी है और सीता का उम्र 16 साल है और वह दसवीं कक्षा में पढ़ रही है। किसकी उम्र 50 साल से अधिक है?

- A) Neeta / नीता
- B) Tina / टीना
- C) Geeta / गीता
- D) Rita / रीटा

28) There are three words given here. The first two words are related in a certain manner. Select the proper word among the given four alternatives which bears the same relationship with the third word as in the manner first and second words are related.

Taj Mahal : Agra :: Statue of Liberty : _____ /

यहाँ तीन शब्द दिए गए हैं। पहले दो शब्द एक निश्चित तरीके से संबंधित हैं। दिए गए चार विकल्पों में से उस उचित शब्द का चयन करें जो तीसरे शब्द के साथ उसी प्रकार से संबंधित हो जिस तरीके से पहला और दूसरा शब्द संबंधित हैं।

ताजमहल : आगरा :: स्टेचू ऑफ़ लिबर्टी : _____

- A) New York / न्यूयार्क
- B) Paris / पेरिस
- C) Moscow / मास्को
- D) Ontario / ओंटारियो

29) Three of the four following words belong to the same group or class in a certain manner. Find the odd one out. /

निम्नलिखित चार शब्दों में से तीन एक निश्चित तरीके से एक ही समूह या वर्ग से संबंधित हैं। विषम का ज्ञात करें।

- A) Lagoon / अनूप झील
- B) Island / द्वीप
- C) Pond / तालाब
- D) Sea / समुद्र

30) Sana is shorter than Gopi. Govind is shorter than Nisha, Gopi is Shorter than Govind. Sana is taller than Rama. If all of them stand in descending order of their heights, then who among them is at the fourth position from the beginning? / सना, गोपी की तुलना में कद में छोटी है। गोविंद, निशा की तुलना में कद में छोटा है, गोपी, गोविंद की तुलना में कद में छोटा है। सना, रामा की तुलना में लम्बी है। अगर सभी अपने उंचाई के अवरोही क्रम में खड़े होते हैं तो, उनमें से कौन शुरुआत से चौथे स्थान पर है?

- A) Rama / रामा
- B) Govind / गोविंद
- C) Gopi / गोपी
- D) Sana / सना

31) Virat scored 150 runs including 11 sixes and 5 boundaries. What percent of total score did he make by hitting sixes ? / 11 छक्के और 5 बाउंडरी सहित विराट ने 150 रन बनाए। छक्के लगाने के बाद उसके कुल स्कोर का प्रतिशत क्या था?

- A) 39%
- B) 44%
- C) 25%
- D) 62%

32) There are three words given here. The first two words are related in a certain manner. Select the proper word among the given four alternatives which bears the same relationship with the third word as in the manner first and second words are related.

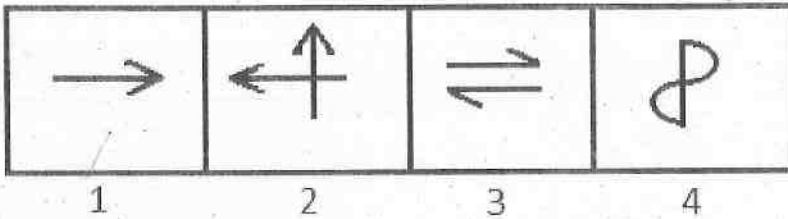
Island : Water :: Lake : ?

/ यहाँ पर तीन शब्द दिए गए हैं। पहले दो शब्द एक निश्चित शैली से संबंधित हैं। दिए गए चार विकल्पों में से उस सही शब्द का चयन करें, जो तीसरे शब्द से वैसा ही संबंध रखता हो, जैसा कि पहले और दूसरे शब्द संबंध रखते हों।

द्वीप : पानी :: झील : ?

- A) Pond / तालाब
- B) Fresh-Water / ताजा पानी
- C) Salt / नमक
- D) Land / भूमि

33) In which of the four images the symbol '=' can be found as a part of that image? / इन चार चित्रों में से किस चित्र में चिह्न '=' को उस चित्र के एक भाग के रूप में पाया जा सकता है?



- A) 1
- B) 2
- C) 4
- D) 3

34) What comes in place of question mark (?) in the series given below? / नीचे दिए गए श्रृंखला में प्रश्न चिह्न (?) के स्थान पर क्या आता है?

1, 11, 42, 249, 1542, ?

- A) 16970
- B) 16973
- C) 16971
- D) 16972

35) Disha ranks 6th from the top and 16th from the bottom. Find the number of students in the class. / दिशा का रैंक ऊपर से छठवां (6th) है और नीचे से सोलहवां (16th) है। कक्षा में विद्यार्थियों की संख्या ज्ञात करें।

- A) 22
- B) 26
- C) 21
- D) 20

36) If in a certain code language, "SET" is written as "41" and "FLAT" is written as "35", then what should be the code for the word "PENCIL"? / यदि एक निश्चित कूट-भाषा में "SET" को "41" के रूप में लिखा जाता है और "FLAT" को "35" के रूप में लिखा जाता है, तो शब्द "PENCIL" के लिए कूट क्या होना चाहिए?

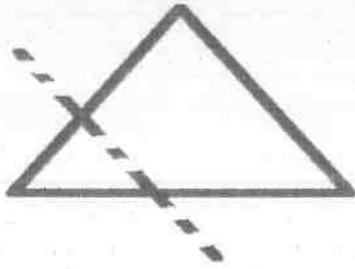
- A) 53
- B) 59
- C) 54
- D) 55

37) What comes in place of question mark (?) in the following number series? / निम्नलिखित संख्या श्रृंखला में प्रश्न चिह्न (?) के स्थान पर क्या आता है?

15, 63, 255, ?, 4095

- A) 1023
- B) 1100
- C) 853
- D) 769

38) The paper sheet given below is folded along the dotted line. How many corners will the resultant paper sheet on right have? / नीचे दी गई पेपर शीट को बिंदीदार रेखा के साथ फोल्ड किया गया है। दाईं ओर परिणामी पेपर शीट में कितने कोने होंगे?



- A) 4
- B) 3
- C) 5
- D) 6

Following are the eligibility criteria for applying for the post of Finance officer in a company. The applicant should:

- (i) be a commerce graduate with 60% marks.
- (ii) have knowledge of computers.
- (iii) be more than 21 but less than 34 years of age.
- (iv) have minimum 2 years of work experience in finance department.

In the case of a candidate who satisfies all the conditions:

(a) If NOT (i), but has a full-time MBA degree with 65% marks, the case may be referred to the Senior Manager.

(b) If NOT (iv), but has a minimum 2 years experience in treasury operations, the case may be referred to the Director.

In each of the questions below information of a candidate is given. You have to take one of the following four decisions based on the information provided and the conditions given above.

All the cases are given to you as on 10-11-2016. You have to indicate your decision by marking answers to each question.

एक कंपनी में वित्त अधिकारी के पद के लिए आवेदन करने के लिए पात्रता मानदंड निम्नलिखित हैं। आवेदक को:

- (i) 60% अंक के साथ एक वाणिज्य ग्रेजुएट होना चाहिए।
- (ii) कंप्यूटर का ज्ञान होना चाहिए।
- (iii) 21 से अधिक लेकिन 34 वर्ष से कम आयु होनी चाहिए।
- (iv) वित्त विभाग में कम से कम 2 साल का कार्य अनुभव होना चाहिए।

अगर एक उम्मीदवार सभी शर्तों को पूरा करता है:

(a) सिवाय (i) के, लेकिन 65% अंक के साथ एक पूर्णकालिक MBA की डिग्री है तो, मामला वरिष्ठ प्रबंधक के पास भेजा जाएगा।

(b) सिवाय (iv) के, लेकिन ट्रेजरी ऑपरेशन में कम से कम 2 साल का अनुभव है तो, मामला संचालक के पास भेजा जाएगा।

नीचे दिए गए प्रत्येक प्रश्न में एक उम्मीदवार की जानकारी दी गई है। आपको उपलब्ध कराई गई जानकारी व उपरोक्त शर्तों के आधार पर निम्नांकित चार फैसलों में से एक लेना होगा।

आपको सभी मामले 10-11-2016 की तारीख को दिए गए हैं।

प्रत्येक प्रश्न के उत्तर अंकन द्वारा आपको अपना निर्णय सूचित करना होगा।

39) Candidate's information : Kushal Lehri is 22 years old fresher graduate in commerce with 74% marks and has done basic computers' course from XYZ institution. He should be :

/ उम्मीदवार की जानकारी: कुशल लहरी 74% अंकों के साथ वाणिज्य में 22 वर्षीय नवसिखुआ ग्रेजुएट है और XYZ संस्था से बेसिक कंप्यूटर कोर्स किया है। उसे

- A) referred to the director / संचालक के पास भेजा जाना चाहिए
- B) rejected / अस्वीकृत करना चाहिए
- C) selected / चयन करना चाहिए
- D) referred to the senior manager / वरिष्ठ प्रबंधक के पास भेजा जाना चाहिए

40) Nitin says that his mother is the only daughter of Anand's mother. How is Anand related to Nitin? / नितिन कहता है कि उसकी मां, आनंद की मां की इकलौती बेटी है। आनंद का नितिन से क्या रिश्ता है?

- A) Uncle / मामा
- B) Brother-in-law / साला
- C) Grandfather / दादा
- D) Father / पिता

41) In a certain code language,

"time is precious" is written as "er ui af"

"time management is important" is written as "af jk op ui"

"management technique is used" is written as "cv af bn op"

In the given code language, what does the code "jk" stand for?

/ एक निश्चित कूट-भाषा में

"time is precious" को "er ui af" के रूप में लिखा जाता है

"time management is important" को "af jk op ui" के रूप में लिखा जाता है

"management technique is used" को "cv af bn op" के रूप में लिखा जाता है

दिए गए कूट-भाषा में कूट "jk" का क्या अर्थ है?

- A) management
- B) technique
- C) important
- D) time

Following are the conditions for selection of translator in various departments of the government in India. The candidate must:

- (i) be a graduate in any discipline with atleast 65% marks.
- (ii) have the ability to read, write and speak Hindi and English besides the regional language of the state to which he/she belongs.
- (iii) be less than 30 years of age.
- (iv) must have Indian Passport.

In the case of a candidate who satisfies all the conditions:

(A) EXCEPT (i) above, but has a post graduation degree, then his/her case may be referred to State Employment Officer.

(B) EXCEPT (iii) above, but has experience of 3 years after post-graduation, then the case may be referred to Personal assistant, State Employment Officer.

Based on the above information and criteria given in each of the following questions, you have to take decision. These cases are given to you as on 1st September, 2016.

निम्नलिखित भारत सरकार के विभिन्न विभागों में अनुवादक के चयन के लिए शर्तें हैं। उम्मीदवार को:

- (i) कम से कम 65% अंकों के साथ किसी भी विषय में ग्रेजुएट होना चाहिए।
- (ii) अपने राज्य के क्षेत्रीय भाषा के अलावा हिंदी और अंग्रेजी पढ़ने, लिखने और बोलने की क्षमता होनी चाहिए।
- (iii) 30 वर्ष से कम आयु होना चाहिए।
- (iv) भारतीय पासपोर्ट होना आवश्यक है।

अगर एक उम्मीदवार सभी शर्तों को पूरा करता है:

(A) सिवाय उपरोक्त (i) के, लेकिन एक पोस्ट-ग्रेजुएशन की डिग्री है तो, उसके मामले को राज्य रोजगार अधिकारी को भेजा जाए।

(B) सिवाय उपरोक्त (iii) के, लेकिन पोस्ट-ग्रेजुएशन के बाद 3 साल का अनुभव है तो, मामले को निजी सहायक, राज्य रोजगार अधिकारी को भेजा जाए।

उपरोक्त जानकारी और नीचे दिए गए प्रत्येक प्रश्न में दिए गए मापदंडों के आधार पर आपको निर्णय लेना होगा। ए सभी मामले आपको सितंबर 1, 2016 की तारीख को दिए गए हैं।

42) Miss Kiran from Pune, secured 80% marks in her graduation. She will be celebrating her 25th birthday on next Saturday. She knows to read, write and speak Hindi, English and Marathi. She will be applying for Passport this year. She must be :
/ पुणे से कुमारी किरण ने अपने ग्रेजुएशन में 80% अंक हासिल किए। वह अगले शनिवार को अपना 25 वां जन्मदिन मनाएंगी। वह हिंदी, अंग्रेजी और मराठी पढ़ना, लिखना और बोलना जानती है। वह इस साल पासपोर्ट के लिए आवेदन देगी। उसे

- A) selected / चुना जाना चाहिए
- B) referred to State Employment Officer. / राज्य रोजगार अधिकारी के पास भेजा जाना चाहिए
- C) referred to Personal Assistant, State Employment Officer / निजी सहायक, राज्य रोजगार अधिकारी के पास भेजा जाना चाहिए
- D) rejected / नहीं चुना जाना चाहिए

43) A cube of side length 15 cm is taken. It is coloured with Yellow colour on all its faces. Now, it is cut into identical small cubes of side length 3 units by cutting it along its length, width and height. Based on this information, answer the questions that follow.

How many small cubes would be there that are coloured on none of its faces?

15 सेंटीमीटर भुजा लंबाई वाला एक घन लिया जाता है। उसके सभी फलक को पीले रंग से रंगा जाता है। अब इसे उसकी लंबाई, चौड़ाई और ऊँचाई के समानांतर काटते हुए 3 यूनिट भुजा लंबाई वाले समरूप छोटे घनों में काटा जाता है। इस जानकारी के आधार पर, नीचे दिए गए प्रश्नों के उत्तर दें।

कितने छोटे घन होंगे जिनके कोई भी फलक रंगे नहीं होंगे?

- A) 36
- B) 20
- C) 32
- D) 27

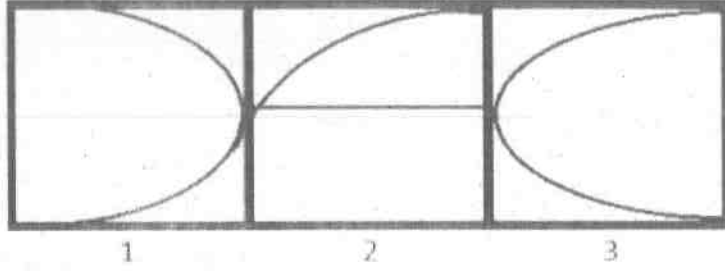
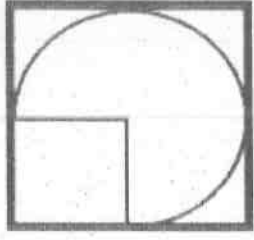
44) A, B, C, D, E and F are the six members of the family. There are two married couples in the family. Each of them like different ice-cream flavours viz Vanilla, Mango, Butterscotch, Strawberry, Blackcurrant and Chocolate. A's wife likes Vanilla. E's daughter-in-law likes Mango. F's daughter likes Strawberry and his son likes Chocolate. If the youngest boy in the family is B, then the youngest girl doesn't seem to be D. The eldest person in the family likes Butterscotch. If the flavours liked by the married couples and siblings are swapped in between each other, then which flavor does B like now ? / A, B, C, D, E और F एक परिवार के छः सदस्य हैं। परिवार में दो विवाहित जोड़े हैं। उनमें से हर एक को अलग अलग आइसक्रीम के स्वाद पसंद हैं नामशः वैनिला, मैंगो, बटरस्कॉच, स्ट्रॉबेरी, ब्लैक करन्ट और चॉकलेट। A की पत्नी को वैनिला पसंद है। E की बहू को मैंगो पसंद है। F की बेटी को स्ट्रॉबेरी पसंद है और बेटे को चॉकलेट पसंद है। अगर परिवार में सबसे कम उम्र का लड़का B है तो, सबसे कम उम्र की लड़की D नहीं हो सकती है। परिवार में उम्र में सबसे बड़े व्यक्ति को बटरस्कॉच पसंद है। अगर विवाहित जोड़ों और समाभासी (सिब्लिंग) के पसंदीदे स्वादों को एक दूसरे के बीच अदला-बदली कर दिया जाए तो, B को अब कौनसा स्वाद पसंद है?

- A) Strawberry / स्ट्रॉबेरी
- B) Vanilla / वैनिला
- C) Black current / ब्लैक करन्ट
- D) Chocolate / चॉकलेट

45) If "COURT" is coded as "LVZUU", then how is the word "FRONT" coded? / यदि "COURT" को "LVZUU" के रूप में कूट बद्ध किया जाता है, तो शब्द "FRONT" को कैसे कूट बद्ध किया जाएगा?

- A) OYUQT
- B) OYQTU
- C) OYTUQ
- D) OYTQU

46) A figure is given on the left with a pattern. Observe and find out which of the three images on the right looks similar to the left half of this pattern? / बाई ओर एक पैटर्न के साथ एक चित्र दी गई है। ध्यानपूर्वक देखिए और बताइए कि दाई ओर की तीन चित्रों में से कौन इस पैटर्न के बाएँ अर्ध हिस्से के समान दिखाई पड़ती है?



- A) 1
B) 2
C) 3
D) Both 1 and 2 / 1 और 2 दोनों

Following are the eligibility criteria for recruiting a Trekking guide by a company in Manali. The applicant should:

- (i) be a citizen of India.
- (ii) have knowledge of the terrain of the region.
- (iii) have work permit to work in India.
- (iv) have no criminal record.
- (v) have a valid first aid certificate.
- (vi) be less than 30 years of age.

In the case of a candidate who satisfies all the conditions:

(a) If NOT (i), but is a citizen of Bhutan or Nepal, then he will be referred to the Executive Director of the company.

(b) If NOT (iii), but has a Valid Passport issued by the country to which he/she may belong, then he will be referred to the Chief Executive Officer of the company.

(c) If NOT (vi), but has an experience as a Trekking Guide of 2 years, then he will be referred to the Vice-President of the company.

In each of the questions below information of a candidate is given. He/she may be eligible under one or more of the criteria.

You have to take one of the following four decisions based on the information provided and the conditions given above.

मनाली में एक कंपनी द्वारा ट्रेकिंग गाइड की भर्ती के लिए पात्रता मापदंड निम्नलिखित हैं। आवेदक को:

- (i) भारत का नागरिक होना चाहिए।
- (ii) क्षेत्र के भू-भाग का ज्ञान होना चाहिए।
- (iii) भारत में काम करने के लिए वर्क परमिट होना चाहिए।
- (iv) कोई आपराधिक रिकॉर्ड नहीं होना चाहिए।
- (v) एक वैध प्राथमिक चिकित्सा प्रमाण पत्र धारक होना चाहिए।
- (vi) 30 साल से कम उम्र का होना चाहिए।

अगर एक उम्मीदवार सभी शर्तों को पूरा करता है:

- (a) सिवाय (i) के, लेकिन भूटान या नेपाल का नागरिक है तो, उसे कंपनी के कार्यपालक निदेशक के पास भेजा जाएगा।
- (b) सिवाय (iii) के, लेकिन उसके पास उसके संबंधित देश द्वारा जारी किया गया एक वैध पासपोर्ट है तो, उसे कंपनी के मुख्य कार्यपालन अधिकारी के पास भेजा जाएगा।
- (c) सिवाय (vi) के, लेकिन एक ट्रेकिंग गाइड के रूप में 2 साल का अनुभव है तो, उसे कंपनी के उपाध्यक्ष के पास भेजा जाएगा।

नीचे दिए गए प्रत्येक प्रश्न में एक उम्मीदवार की जानकारी दी गई है। वह मापदंडों में से एक या एक से अधिक के तहत पात्र हो सकता/सकती है।

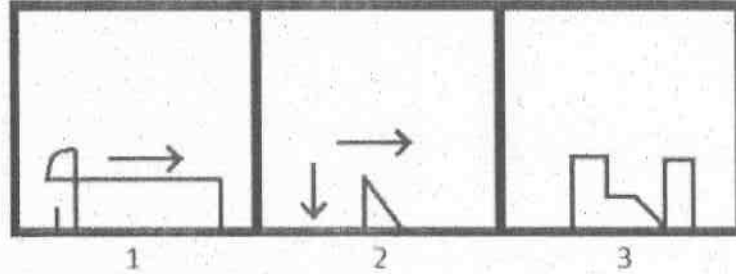
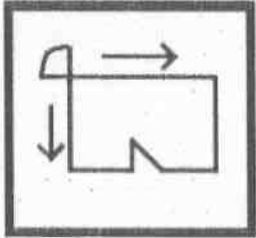
आपको उपलब्ध कराई गई जानकारी व उपरोक्त शर्तों के आधार पर निम्नांकित चार फैसलों में से एक लेना होगा।

47) Candidate Information : Rakesh Hiremath is a 32 year old man from Uttar Pradesh. He was imprisoned under the charges of robbery for a term of 1 yr, six years ago. He should be:

/ उम्मीदवार की जानकारी: राकेश हिरेमठ उत्तर प्रदेश से एक 32 वर्षीय व्यक्ति है। उसे छह साल पहले 1 साल की अवधि के लिए डकैती के आरोप के तहत कैद किया गया था। उसे

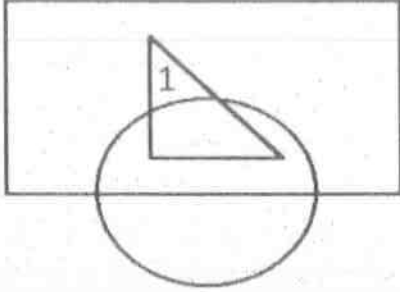
- A) Selected / चयन करना चाहिए
- B) be referred to the Vice - President / उपाध्यक्ष के पास भेजना चाहिए
- C) be referred to the Chief Executive Officer / मुख्य कार्यपालन अधिकारी के पास भेजना चाहिए
- D) Rejected / चयन नहीं करना चाहिए

48) Given below is a figure on the left with a pattern. Observe and find which of the three images on the right looks similar to the top half of this pattern? / नीचे एक पैटर्न के साथ बाईं ओर एक आकृति दी गई है। ध्यान से देखें और बताएँ कि दाईं ओर की तीन में से कौन सा एक चित्र इस पैटर्न के शीर्ष अर्ध जैसा दिखता है?



- A) 3
- B) 2
- C) Both 1 and 2 / दोनों 1 और 2
- D) 1

49) An image is made from some geometric figures. In the image, some regions are formed. In each of these regions, as many dots are to be placed as the number of geometric figures that has this as a part of it. One of these regions is marked with number 1. How many dots will be placed in region 1? / एक चित्र को कई ज्यामितीय आकृतियों से बनाया गया है। चित्र में, कुछ क्षेत्रों को बनाया गया है। इस प्रत्येक क्षेत्र में, उतने ही बिंदु स्थापित करने हैं, जितनी ज्यामितीय आकृतियों की संख्या, जो इसका हिस्सा है। इनमें से एक क्षेत्र को 1 से चिह्नित किया गया है। क्षेत्र 1 में कितने बिंदु स्थापित करने होंगे?



- A) 3
B) 2
C) 1
D) region 1 have 3 regions / क्षेत्र 1 में 3 क्षेत्र हैं

50) A,B,C,D,E,F,G & H are the eight members of a family. A & D are the grandsons of B. H is the mother of F and wife of E. G is the grandfather of C. C & F are sisters. There are only 2 married couples in the family. How many male members will be there in the family if both the sons of H get married? / A, B, C, D, E, F, G और H एक परिवार के आठ सदस्य हैं। A और D, B के पोते हैं। H, F की माँ और E की पत्नी है। G, C का दादा है। C और F बहनें हैं। परिवार में केवल 2 विवाहित जोड़े हैं। यदि H के दोनों बेटे शादी करते हैं तो, परिवार में कितने पुरुष सदस्य होंगे?

- A) 4 or 6 only / केवल 4 या 6
B) 4 only / केवल 4
C) 2 only / केवल 2
D) 5 only / केवल 5

51) I is the sister of H. O is the nephew of H. M is the aunt of O. S is the father of M. S has three children. Then which of the following is definitely FALSE? / I, H की बहन है। O, H का नेफ्यू है। M, O की आन्ट है। S, M का पिता है। S के तीन बच्चे हैं। निम्न में से कौन सा निश्चित रूप से गलत है?

- A) M is the paternal aunt of O / M, O की बुआ है
B) H is the uncle of O / H, O का अंकल है
C) H is the brother of I / H, I का भाई है
D) H is the son of S / H, S का बेटा है

52) Which of the given option will NOT share the same property as the elements of the given set (considering the property is perfect cubes): (9261, 15625, 17576)? / दिए गए विकल्पों में से कौन सा विकल्प (यह ध्यान में रखते हुए कि गुणस्वाभाव पूर्ण घन हैं) उसी गुणस्वभाव को साझा नहीं करेगा जो दिए गए सेट के तत्व करते हैं: (9261, 15625, 17576)

- A) 35917
- B) 21952
- C) 27000
- D) 29791

53) The cost price of 20 apples is Rs.300. The selling price of 10 apples is Rs.140. What is the loss percent? / 20 सेबों का लागत मूल्य 300रु है। 10 सेबों का विक्रय मूल्य 140रु है। हानि प्रतिशत क्या है?

- A) 6.67%
- B) 8.21%
- C) 9.6%
- D) 7.81%

Following are the eligibility criteria for applying for the post of Special Officer (SO) in a bank. The candidate should:

- (i) be a graduate in any discipline with atleast 70% aggregate marks.
- (ii) have atleast 65% marks in Full time MBA degree.
- (iii) have minimum 3-year Post-qualification experience in banking.
- (iv) should be less than 30 years of age.

According to the details of the candidate, he/she may be eligible under one or more of the criteria given above.

Read the information given in the question and find out which all conditions the candidate will satisfy.

एक बैंक में विशेष अधिकारी (SO) के पद के लिए आवेदन करने के लिए पात्रता मापदंड निम्नलिखित हैं। उम्मीदवार:

- (i) को कम से कम 70% कुल अंक के साथ किसी भी विषय में ग्रेजुएट होना।
- (ii) को पूर्णकालिक MBA की डिग्री में कम से कम 65% अंक प्राप्त किए होने चाहिए।
- (iii) को क्वालिफिकेशन के बाद बैंकिंग में कम से कम 3 साल का कार्य अनुभव होना चाहिए।
- (iv) की आयु 30 वर्ष से कम होनी चाहिए।

उम्मीदवार के विवरण के अनुसार वह उपरोक्त मापदंडों में से एक या एक से अधिक के तहत पात्र हो सकता/सकती है।

प्रश्न में दी गई जानकारी पढ़ें और पता लगाएं कि किन शर्तों को उम्मीदवार पूरा करेगा।

54) These cases are given to you as on 30th January, 2016.

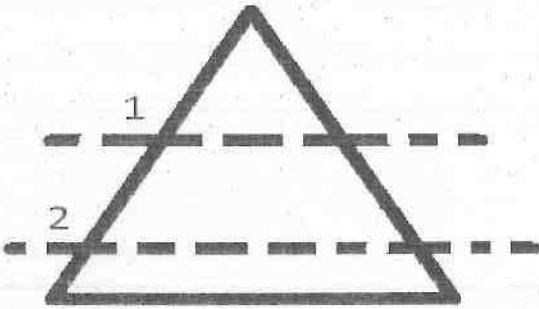
Candidate's information: Karthik Ojha is a graduate in English literature with 85% marks. He completed post-graduation in English literature with 78% marks from Delhi University. He is a 24 year old fresher.

/ ये मामले 30 जनवरी, 2016 की तारीख को दिए गए हैं।

उम्मीदवार की जानकारी: कार्तिक ओझा 85% अंकों के साथ अंग्रेजी साहित्य में ग्रेजुएट है। उसने दिल्ली विश्वविद्यालय से 78% अंकों के साथ अंग्रेजी साहित्य में पोस्ट-ग्रेजुएशन पूरा किया है। वह एक 24 वर्षीय नवसिखुआ है।

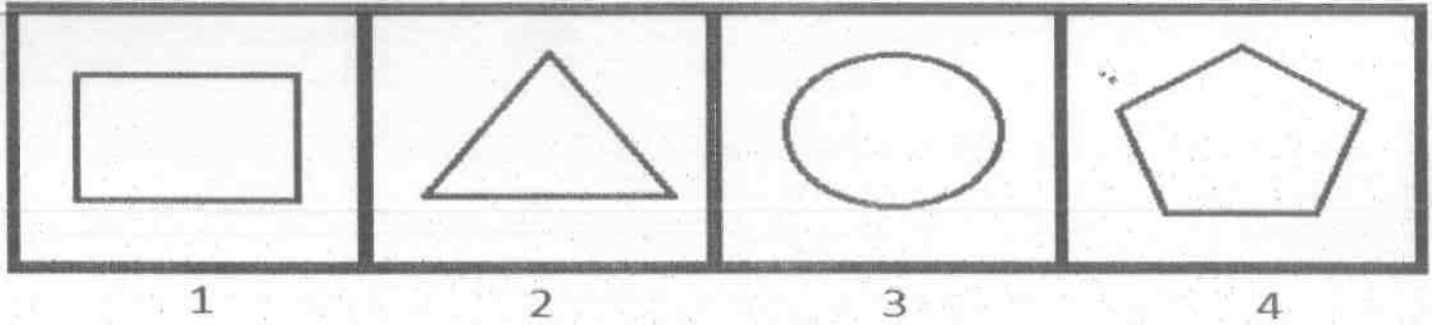
- A) (iii) only / केवल (iii)
 B) (i) only / केवल (i)
 C) He is not eligible at all / वह बिल्कुल पात्र नहीं है
 D) (i) and (iv) only / केवल (i) और (iv)

55) The paper sheet given below is folded along the given dotted line(s) in the sequence as mentioned. First fold is made along the dotted line 1, then along the dotted line 2. How many edges would the resultant paper sheet have, after the folds? / नीचे दिए गए पेपर शीट को उल्लिखित अनुक्रम में दिए गए बिन्दुओं की रेखा(ओं) के समानांतर मोड़ा जाता है। पहला मोड़ बिन्दुओं की रेखा 1 के समानांतर किया जाता है, फिर बिन्दुओं की रेखा 2 के समानांतर। मोड़ के बाद परिणामी पेपर शीट में कितने किनारे होंगे?



- A) 5
 B) 6
 C) 7
 D) 8

56) Among the given group of 4 images, which set of images can be classified as a group? / दिए गए 4 चित्रों के समूह में से किन समुच्चय चित्रों को एक समूह के रूप में वर्गीकृत किया जा सकता है?



- A) (2, 3, 4)
- B) (1, 2, 4)
- C) (1, 2, 3)
- D) (1, 3, 4)

57) Which term of the given series would be the first one to be negative: 156, 144, 153, 141, 150, 138,? / दी गई श्रृंखला में पहला ऋणात्मक पद कौन सा होगा: 156, 144, 153, 141, 150, 138,?

- A) 25th/25वां
- B) 50th/50वां
- C) 100th/100वां
- D) 75th/75वां

58) In a certain code language, if "UNFAITHFUL" is coded as "NATFLUFIHU", then in the same way, how is "TOPOLOGIST" coded in that language? / एक निश्चित कूट-भाषा में यदि "UNFAITHFUL" को "NATFLUFIHU" के रूप में कूट बद्ध किया जाता है, तो उसी तरह से उस भाषा में "TOPOLOGIST" को कैसे कूट बद्ध किया जाएगा?

- A) OOOITTPGLS
- B) OOOITTLPGS
- C) OOOITPTLGS
- D) OOOITTPGLS

59) Find the code similar to the one given below / नीचे दिए गए कोड जैसा एक कोड खोजें।

L 1 I 2 O 2 N 1

- A) T2I1G2E1R2
- B) P2E2A1C1O1C1K2
- C) M2O1N1K2E1Y1
- D) Z1E2B1R1A2

60) If "purple" is called "yellow", "yellow" is called "white", "white" is called "blue", "blue" is called "pink" and "pink" is called "orange", then which of the following is the color of copper sulphate? / यदि "बैंगनी" को "पीला" कहा जाता है, "पीला" को "सफेद" कहा जाता है, "सफेद" को "नीला" कहा जाता है, "नीला" को "गुलाबी" कहा जाता है और "गुलाबी" को "नारंगी" कहा जाता है, तो निम्न में से कौन सा कॉपर सल्फेट का रंग है?

- A) Blue / नीला
- B) Purple / बैंगनी
- C) Pink / गुलाबी
- D) Orange / नारंगी

Section 2 - PART B

No. of Questions: 60

61) Lewis Hamilton winner of 'British Grand Prix 2016' belongs to which of the following teams? / ब्रिटिश ग्रांड प्रिक्स 2016 के विजेता लुईस हैमिल्टन निम्नलिखित टीमों में से किससे संबंधित हैं?

- A) Renault / रेनॉल्ट
- B) Mercedes / मर्सिडीज़
- C) Ferrari / फेरारी
- D) Jordan / जॉर्डन

62) The special property due to which manganese steel is used to make "safes" is because they are: / वह विशेष गुण जिसकी वजह से मैंगनीज़ इस्पात को "तिजोरी" बनाने के लिए इस्तेमाल किया जाता है, वह कौन सा है?

- A) They can be easily moulded to any shape / क्योंकि उन्हें आसानी से किसी भी आकार के लिए ढाला जा सकता है
- B) attractive to look and do not get corroded / क्योंकि वे बिल्कुल भी कoroड नहीं होते हैं और उनका आकर्षक रूप है
- C) Very tough and hard to be cut with ordinary explosives / क्योंकि वे बहुत ही सख्त हैं और साधारण विस्फोटकों के साथ उन्हें काटना मुश्किल है
- D) Light weight and can be machined / क्योंकि वे हल्के हैं और उन्हें मशीनीकृत किया जा सकता है

63) In which name is the river Brahmaputra known in Arunachal Pradesh? / अरुणाचल प्रदेश में ब्रह्मपुत्र नदी को किस नाम से जाना जाता है?

- A) Padma / पद्म
- B) Lohit / लोहित
- C) Dihang / दिहांग
- D) Dhubri / धुबरी

64) Which of following refers to measurement and data activities that provide quantitative characterization of biology? / निम्न में से कौन सा माप और डेटा गतिविधियों को संदर्भित करता है जो जीव विज्ञान के मात्रात्मक लक्षण-वर्णन प्रदान करता है?

- A) Biotechnology / बाइओटेक्नालॉजी
- B) Biometrology / बयोमेट्रोलॉजी
- C) Cybernetics / साइबरनेटिक्स
- D) Ergonomics / एर्गोनॉमिक्स

65) The interpretation of Hindutva was given by the Supreme Court of India in which of the following cases? \ भारत के उच्चतम न्यायालय द्वारा निम्नलिखित में से कौन से मामले में हिंदुत्व की व्याख्या दी गई थी?

- A) Babri Masjid case \ बावरी मस्जिद मामला
- B) Gujarat Riots case \ गुजरात दंगों का मामला
- C) Manohar Joshi case \ मनोहर जोशी मामला
- D) Minerva Mills case \ मिनरवा मिल्स मामला

66) Name the first Indian public sector bank which has opened a branch in Yangon, Myanmar? / पहले भारतीय सार्वजनिक क्षेत्र के बैंक का नाम बताएं जिसने यांगून, म्यांमार में अपनी शाखा खोली है?

- A) Bank of Baroda / बैंक ऑफ बड़ोदा
- B) Central Bank of India / भारतीय सेंट्रल बैंक
- C) State Bank of India / भारतीय स्टेट बैंक
- D) Canara Bank / कैनरा बैंक

67) Identify the INCORRECT statement, among the following that are related with the succession of rulers of Pallava Dynasty. / निम्नलिखित में से गलत कथन की पहचान करें जो पल्लव वंश के शासकों के पदारोहण से जुड़ा है।

- A) Mahendravarman I was the son and successor of Aparajita Pallava. / महेंद्रवर्मन I अपराजिता पल्लव का पुत्र तथा उत्तराधिकारी था।
- B) Mahendravarman was succeeded by his son Narasimhavarman I who was the most successful and distinguished king of this dynasty. / महेंद्रवर्मन के बाद उसका पुत्र नरसिंहवर्मन I ने राज संभाला जो इस वंश का सर्वाधिक सफल और विशिष्ट राजा हुआ था।
- C) Paramesvaravarman succeeded his father Narasimhavarman II in 728 and ruled till 731. / परमेश्वरवर्मन को उसके पिता नरसिंहवर्मन II की वर्ष 728 में मृत्यु के बाद उत्तराधिकार मिला और उसने वर्ष 731 तक शासन किया।
- D) Nandivarman III was an Indian monarch of the Nandivarman II who ruled the Pallava kingdom from 846 to 869. / नंदिवर्मन III, नंदीवर्मन II के वंश का एक भारतीय शासक था, जिसने 846 से 869 तक पल्लव साम्राज्य पर शासन किया।

68) Identify among the following, the guardian and interpreter of Indian Constitution / निम्नलिखित में से भारतीय संविधान के संरक्षक और दुभाषिया को पहचानें।

- A) Executive / कार्यकारी
- B) Legislature / विधानमंडल
- C) Law Commission / विधि आयोग
- D) Judiciary / न्यायपालिका

69) In September 2016, the Colombian government and left-wing Farc rebels have signed a historic agreement that formally brings an end to / सितंबर 2016 में कोलंबिया सरकार और वामपंथी फार्क विद्रोहियों ने एक ऐतिहासिक समझौते पर हस्ताक्षर किया जिससे औपचारिक रूप से कितने सालों से चला आ रहा गृह युद्ध समाप्त हो जाएगा?

- A) 42 years of civil war / 42 साल
- B) 52 years of civil war / 52 साल
- C) 62 years of civil war / 62 साल
- D) 32 years of civil war / 32 साल

70) Who won the 2016 Wimbledon women's singles championship? / 2016 विंबलडन का महिला एकल चैम्पियनशिप किसने जीता?

- A) Serena Williams / सेरेना विलियम्स
- B) Elena Vesnina / एलेना वेसनीना
- C) Angelique Kerber / एंजेलिक केर्बर
- D) Venus Williams / वीनस विलियम्स

71) Who were the champions of UEFA Euro 2016? / UEFA यूरो 2016 के चैम्पियन कौन थे?

- A) Germany / जर्मनी
- B) France / फ्रांस
- C) Portugal / पुर्तगाल
- D) Wales / वेल्स

72) Where was the All India Kisan Congress/Sabha founded? / अखिल भारतीय किसान कांग्रेस/सभा को कहाँ स्थापित किया गया था?

- A) Lucknow / लखनऊ
- B) Kanpur / कानपुर
- C) Faizababad / फैजाबाद
- D) Meerut / मेरठ

73) Which of the following elements possess the anti-bacterial properties and hence is an important aspect of healthcare? / निम्नलिखित तत्वों में से कौन सा प्रतिजीवाणु गुण धारण करता है और इसलिए स्वास्थ्य सेवा का महत्वपूर्ण पहलू है?

- A) Sulphur / सल्फर
- B) Sodium / सोडियम
- C) Mercury / मर्क्युरी
- D) Silver / सिल्वर

74) In case a State legislature has two houses, then the members in the Legislative council shall NOT exceed the members in the legislative assembly by / यदि किसी राज्य की विधानसभा में दो सदन हैं, तो विधान परिषद में सदस्यों की संख्या विधान सभा के इनमें से कितने सदस्यों से अधिक नहीं होगी?

- A) One-third / एक-तिहाई
- B) One-half / आधे
- C) One-fourth / एक-चौथाई
- D) One-fifth / एक में पाँचवां भाग

75) Mulla Daud wrote the oldest poem "Chandayana" in which language? / मुल्ला दाउद ने सबसे पुरानी कविता "चंदायन" को किस भाषा में लिखा है?

- A) Urdu / उर्दू
- B) Braj Bhasha / ब्रज भाषा
- C) Khari Boli / खड़ी बोली
- D) Awadhi / अवधी

76) At the state level, which of the following political parties formed the first non-congress government in India? \ निम्न में से किस राजनीतिक दल ने भारत में पहली गैर - कांग्रेसी सरकार का राज्य स्तर पर गठन किया?

- A) Lok Dal in Uttar Pradesh \ उत्तर प्रदेश में लोकदल
- B) CPI in Kerala \ केरल में CPI
- C) Akalis in Punjab \ पंजाब में अकाली
- D) DMK in Tamil Nadu \ तमिलनाडु में DMK

77) Which is the correct expansion of LBW in Cricket? / क्रिकेट में LBW का सही विस्तार क्या है?

- A) Leg Between Wicket / लेग बिटवीन विकेट
- B) Leg Behind Wicket / लेग बिहाइंड विकेट
- C) Lagged Before Wicket / लैग्ड बिफोर विकेट
- D) Leg Before Wicket / लेग बिफोर विकेट

78) Which of the following is the only place in Kerala that has the natural growth of sandalwood trees? / केरल में ऐसा कौन सा एकमात्र स्थान है जहां चंदन के पेड़ों का प्राकृतिक विकास किया जाता है?

- A) Kottayam / कोट्टायम
- B) Varkala / वर्कला
- C) Alappuzha / अलाप्पुझा
- D) Marayoor / मरायूर

79) Who among the following is the inventor of improved version of LCD or Liquid Crystal Display? / LCD या लिक्विड क्रीस्टल डिस्प्ले के उन्नत संस्करण का आविष्कारक निम्न में से कौन है?

- A) Clifford Berry / क्लिफोर्ड बेरी
- B) John Vincent / जॉन विंसेंट
- C) James Fergason / जेम्स फर्गसन
- D) Blaise Pascal / ब्लेज पास्कल

80) What is dealt under 'Third Schedule' of the Indian Constitution? / भारतीय संविधान की 'तीसरी अनुसूची' में किसे संबोधित किया गया है?

- A) Allocation of seats in Council of States / राज्य सभा में सीटों का आवंटन
- B) The Union Territories / केंद्र शासित प्रदेश
- C) The States / राज्य
- D) Forms of Oaths or Affirmations / शपथ या प्रतिज्ञान के प्रपत्र

81) Which raag is sung to invite rains? / वर्षा को बुलाने के लिए कौन सा राग गाया जाता है?

- A) Megh Malhar / मेघ मल्हार
- B) Gaud-Sarang / गौड़ सारंग
- C) Bhopali / भोपाली
- D) Khamaj / खमज

82) What is chapter 1 of Part XII (Finance, Property, Contracts and Suits) of Indian Constitution? / भारतीय संविधान के भाग XII (वित्त, संपत्ति, संविदा और वाद) का अध्याय 1 क्या है?

- A) Finance / वित्त
- B) Borrowing / उधार लेना
- C) Right to Property / संपत्ति का अधिकार
- D) Property, Contracts, Rights, Liabilities, Obligations and Suits / संपत्ति, संविदा, अधिकार, देयताएं, दायित्व और वाद

83) Protection of environment, forests and wildlife, gets constitutional support from / पर्यावरण, वन और वन्य जीवों के संरक्षण को संवैधानिक समर्थन किससे मिलता है?

- A) Article 48-A / अनुच्छेद 48-A
- B) Article 21 / अनुच्छेद 21
- C) Concurrent list / समवर्ती सूची
- D) Preamble of the Constitution / संविधान की प्रस्तावना

84) What type of subjects are included in the Residuary Powers list? / अवशिष्ट अधिकारों की सूची में किस प्रकार के विषय शामिल हैं?

- A) Subjects of common interest of centre and state both / केंद्र एवं राज्य दोनों के रुचि के विषय
- B) Subjects of state importance / राज्यकीय महत्व के विषय
- C) Subjects which are not included in any of the three lists / वे विषय जो इन तीन में से किसी भी सूची में शामिल नहीं हैं
- D) Subjects of national importance / राष्ट्रीय महत्व के विषय

85) Janalakshmi Financial Services, the largest Micro Finance Institution (MFI) in India has tied up with which of the following sporting body as associate sponsors? / जनलक्ष्मी फाइनेंशियल सर्विस, भारत में सबसे बड़ा माइक्रो फाइनेंस इंस्टीट्यूशन (MFI) ने सहयोगी प्रायोजक के रूप में निम्नलिखित खेल-कूद संबंधी निकायों में से किसके साथ करार किया है?

- A) Sports Authority of India / भारतीय खेल प्राधिकरण
- B) Hockey India / हॉकी इंडिया
- C) BCCI
- D) AIBA

86) 'Unbreakable', is the autobiography of which of the following sportspersons? / 'अनब्रेकेबल', निम्नलिखित में से किस खिलाड़ी की आत्मकथा है?

- A) Wasim Akram / वसीम अकरम
- B) P.T. Usha / पी. टी. उषा
- C) Mary Kom / मेरी कॉम
- D) Rahul Dravid / राहुल द्रविड़

87) What does "Sikh" literally mean in Sikhism? / सिख धर्म में 'सिख' का शाब्दिक अर्थ क्या है?

- A) Leader / नेता
- B) Disciple / शिष्य
- C) Prudence / बुद्धिमान
- D) Pious / धार्मिक

88) When is the International Day of the Girl Child celebrated? / अंतरराष्ट्रीय बालिका दिवस कब मनाया जाता है?

- A) 1 October / 1 अक्टूबर
- B) 11 October / 11 अक्टूबर
- C) 1 November / 1 नवंबर
- D) 11 November / 11 नवंबर

89) Who is selected for the prestigious 2016 Sangita Kalanidhi Award? / किसे प्रतिष्ठित संगीता कलानिधि पुरस्कार 2016 के लिए चयन किया गया?

- A) Avasarala Kanyakumari / अवसारला कन्याकुमारी
- B) M. Chandrasekaran / M. चंद्रशेखरन
- C) M. S. Gopalakrishnan / M. S. गोपालकृष्णन
- D) K. S. Venkataramiah / K. S. वेंकटरामय्या

90) Who launched the "Shuddhi movement" to reconvert the Hindus who were converted to other religions? / अन्य धर्मों में परिवर्तित किए गए हिंदुओं को पुनः परिवर्तित करने के लिए "शुद्धि आंदोलन" किसने शुरू किया था?

- A) Arya Samaj / आर्य समाज
- B) Brahmo Samaj / ब्रह्मो समाज
- C) Prarthana Samaj / प्रार्थना समाज
- D) Radha Swamis / राधा स्वामी

91) Hoogeveen Chess Tournament 2016 won by Abhijeet Gupta was held at which of the following places? / हूज्वीत शतरंज टूर्नामेंट 2016 जिसका विजेता अभिजीत गुप्ता था, वह निम्नलिखित जगहों में से कहाँ आयोजित किया गया था?

- A) France / फ्रांस
- B) Norway / नॉर्वे
- C) Netherland / नीदरलैंड
- D) Finland / फ़िनलैंड

92) How many medals did India win in the 2016 Commonwealth Wrestling Championship in Singapore? / भारत ने सिंगापुर में 2016 राष्ट्रमंडल कुश्ती चैंपियनशिप में कितने पदक जीते?

- A) 36
- B) 10
- C) 17
- D) 29

93) Which river's tributaries are the Subansiri, Jia Bhareli, Dhansiri, Puthimari, Pagladiya and Manas? / सुबनसिरी, जिया भरेली, धनसिरी, पुथिमरी, पगलदिया तथा मानस किस नदी की सहायक नदिया हैं?

- A) Narmada / नर्मदा
- B) Ganga / गंगा
- C) Godavari / गोदावरी
- D) Brahmaputra / ब्रह्मपुत्र

94) In a chemical reaction a catalyst: / रासायनिक प्रतिक्रिया में एक उत्प्रेरक:

- A) Does not change the rate of the reaction / प्रतिक्रिया की दर परिवर्तित नहीं करता है
- B) Only increases the rate of the reaction / केवल प्रतिक्रिया की दर बढ़ता है
- C) Increases or decreases the rate of the reaction / प्रतिक्रिया की दर बढ़ता है या कम करता है
- D) Only decreases the rate of the reaction / केवल प्रतिक्रिया की दर कम करता है

95) Badshahi Mosque was built by Aurangzeb in the year 1674 at which of the following places? / औरंगजेब द्वारा बादशाही मस्जिद का निर्माण 1674 में निम्नलिखित किस स्थान पर किया गया था?

- A) Agra / आगरा
- B) Jaunpur / जौनपुर
- C) Delhi / दिल्ली
- D) Lahore / लाहौर

96) Name the instrument used to limit current in an electric circuit. / एक परिपथ में करन्ट सीमित करने के लिए प्रयुक्त उपकरण का नाम बताएं।

- A) Cell / सेल
- B) Rheostat / रियोस्टैट
- C) Ammeter / एम्मीटर
- D) Plug key / प्लग की

97) No religious instruction shall be provided in any educational institution wholly maintained out of / किसी भी उस शिक्षण संस्थान में, जिसका प्रबंधन पूरी तरह से इनमें से किससे किया जाता है, कोई धार्मिक शिक्षा प्रदान नहीं की जाएगी

- A) State funds / राज्य निधि
- B) Trust funds / न्यास निधि
- C) NRI funds / अनिवासी भारतीय निधि
- D) Foreign funds / विदेशी निधि

98) Which one of the following players was named '2015 footballer of the year' by the Football Writers' Association? / निम्नलिखित में से किस खिलाड़ी को फुटबॉल राइटर्स एसोसिएशन द्वारा वर्ष '2015 का फुटबॉलर' नामित किया गया था ?

- A) Lionel Messi / लियोनेल मेसी
- B) Cristiano Ronaldo / क्रिस्टियानो रोनाल्डो
- C) David Luiz / डेविड लुइज़
- D) Eden Hazard / ईडन हेज़ार्ड

99) Which of the following canals is constructed to provide water in the desert districts of Rajasthan and is also the longest canal in India? / निम्नलिखित किस नहर का निर्माण राजस्थान के मरुस्थलीय जिलों में पानी पहुंचाने के लिए किया गया है और भारत की सबसे लंबी नहर है?

- A) Indira Gandhi Canal / इंदिरा गांधी नहर
- B) Tajewala Canal / ताजेवाला नहर
- C) Upper Ganges Canal / ऊपरी गंगा नहर
- D) Buckingham Canal / बकिंघम नहर

100) If the demand curve remains unchanged and supply increases, the equilibrium price will \ यदि मांग वक्र रेखा अपरिवर्तित रहती है और आपूर्ति बढ़ जाती है, समतोल मूल्य

- A) first increase then decrease \ पहले बढ़ेगा फिर घटेगा
- B) rise \ बढ़ेगा
- C) remain the same \ समान रहेगा
- D) fall \ घटेगा

101) The function of a negative catalyst is to: / एक नकारात्मक उत्प्रेरक का कार्य क्या है:

- A) Increases the rate of a chemical reaction which occurs spontaneously / सहजता से होने वाली एक रासायनिक प्रतिक्रिया की दर को बढ़ा देना
- B) Slow down the rate of a chemical reaction which occurs spontaneously / सहजता से होने वाली एक रासायनिक प्रतिक्रिया की दर को धीमा करना
- C) Make a reversible reaction completely unidirectional / एक प्रतिवर्ती प्रतिक्रिया को पूरी तरह से दिशाहीन बनाना
- D) Reverse the natural direction of a chemical reaction which occurs in nature spontaneously / प्रकृति में अनायास होने वाली रासायनिक प्रतिक्रिया की प्राकृतिक दिशा को प्रतिकूल करना

102) Which book was written by Raja Rammohan Roy, among the following? / राजा राम मोहनराय, निम्नलिखित किस पुस्तक के लेखक थे?

- A) Vedanta philosophy: lectures on Jnana Yoga (1902) / वेदांत फिलॉसफी : लेक्चर्स ऑन ज्ञानयोग (1902)
- B) India of my dreams / इंडिया ऑफ माय ड्रीम्स
- C) Tattvabodhah / तत्त्वबोध
- D) Gift to Monotheists / गिफ्ट टु मोनोथेस्ट्स

103) Cherrapunjee known as one of the wettest places on earth is located on which hill of Meghalaya? / धरती का सबसे नम कहे जाने वाला स्थान चेरापूंजी मेघालय के किस पर्वत पर स्थित है?

- A) Lushai Hills / लुशाई हिल
- B) Jaintia Hills / जैन्तिया हिल
- C) Garo Hills / गारो हिल
- D) Khasi Hills / खासी हिल

104) A rightward shift in the supply curve indicates \ आपूर्ति वक्र रेखा में दाहिनी ओर स्थानांतरण क्या संकेत करता है?

- A) increase in supply \ आपूर्ति में वृद्धि
- B) decrease in supply \ आपूर्ति में कमी
- C) no change in supply \ आपूर्ति में कोई बदलाव नहीं
- D) fluctuation in supply \ आपूर्ति में उतार-चढ़ाव

105) When there is an electric current passing through a wire, the particles moving through the wire are / जब एक तार के माध्यम से विद्युत धारा प्रवाह होता है, तार के माध्यम से बह रहे कण

- A) atoms / परमाणु हैं
- B) electrons / इलेक्ट्रॉन हैं
- C) ions / आयन हैं
- D) protons / प्रोटॉन हैं

106) In which of the following states is the first Titanium Project of India being established by Saraf Group, which has started its test production? / निम्नांकित में से किस राज्य में सराफ समूह द्वारा पहली टाइटेनियम प्रोजेक्ट की स्थापना की जा रही है, जिसने अपना टेस्ट उत्पादन करना आरंभ कर दिया है?

- A) Gujarat / गुजरात
- B) Odisha / ओडीशा
- C) Tamil Nadu / तमिलनाडु
- D) Rajasthan / राजस्थान

107) Which was the first garden-tomb on the Indian subcontinent and the first structure to use red sandstone on a very large scale? / निम्न में से कौन सा एक भारतीय उपमहाद्वीप पर पहला उद्यान-कब्र और बहुत बड़े पैमाने पर लाल बलुआ पत्थर का उपयोग करने वाली पहली संरचना थी?

- A) Akbar's Tomb / अकबर का मकबरा
- B) Tomb of Salim Chishti / सलीम चिश्ती का मकबरा
- C) Tomb of Sikandar Lodi / सिकंदर लोदी का मकबरा
- D) Tomb of Humayun / हुमायूँ का मकबरा

108) Which of the following is one of the objectives of 'Project Saksham'? / निम्नांकित में से कौन प्रॉजैक्ट सक्षम का एक उद्देश्य है?

- A) Self-reliance / आत्म-निर्भर बनना
- B) Create employment in Micro and Medium Level / माइक्रो तथा मध्यम स्तर पर रोजगार सृजन करना
- C) Make Infrastructure Safer and Stronger / बुनियादी ढांचे को सुरक्षित तथा मजबूत बनाना
- D) Integration of CBEC's IT systems with the Goods and Services Tax Network / सीबीईसी (CBEC) के आईटी सिस्टम्स का वस्तु एवं सेवा कर नेटवर्क के साथ संयोजन

109) Elasticity of demand for a product will be higher when \ उत्पाद के लिए मांग की लोचता तब अधिक होगी जब

- A) more substitutes of a product are available \ उत्पाद के अधिक विकल्प उपलब्ध होंगे
- B) the product is less important as a part of total expenditure \ उत्पाद कुल व्यय के एक भाग के रूप में कम महत्वपूर्ण होगा
- C) the product is a necessity \ उत्पाद एक आवश्यकता होगी
- D) more is buyer's demand loyalty / buyers demand loyalty is more \ खरीदारों की अधिक मांग वफादारी होगी / खरीदारों की मांग वफादारी अधिक होगी

110) Which one is the most appropriate reason for the statement- "Lok Sabha is more powerful than the Rajya Sabha" ? \ निम्नलिखित कथन के लिए इनमें से कौन सा कारण सबसे उपयुक्त है - "लोक सभा राज्य सभा की तुलना में अधिक शक्तिशाली है"?

- A) Members of Lok Sabha are directly elected by the people \ लोक सभा के सदस्य सीधे जनता द्वारा चुने जाते हैं
- B) Lok Sabha controls the Budget \ लोकसभा के बजट को नियंत्रित करती है
- C) Council of Ministers is accountable to Lok Sabha \ मंत्री परिषद लोकसभा के प्रति जवाबदेह है
- D) Lok Sabha has more members than the Rajya Sabha \ लोक सभा में राज्य सभा से अधिक सदस्य हैं

111) Which among the following voting methods are used for the elections to the Lok Sabha and the Legislative Assemblies?

\ लोकसभा और विधान सभाओं के चुनाव के लिए निम्नलिखित में से मतदान का कौन सा तरीका प्रयुक्त किया जाता है?

- A) Single transferable vote \ एकल संक्रमणीय मत
- B) Universal Adult Suffrage \ सार्वभौमिक वयस्क मताधिकार
- C) Limited suffrage \ सीमित मताधिकार
- D) Proportional representation \ अनुपातिक प्रतिनिधित्व

112) In which of the following states of India is the Jog falls located? / जोग जल प्रपात भारत के किस राज्य में स्थित है?

- A) Assam / असम
- B) Karnataka / कर्नाटक
- C) Maharashtra / महाराष्ट्र
- D) Kerala / केरल

113) Which is a four day long harvest festival celebrated in Tamil Nadu? / तमिलनाडु में किस चार दिवसीय फसल कटाई त्यौहार को मनाया जाता है?

- A) Baisakhi / बैसाखी
- B) Onam / ओणम
- C) Pongal / पोंगल
- D) Ugadi / उगादि

114) Find out the INCORRECT statement regarding Economic reforms of Alauddin Khilji. / अलाउद्दीन खिलजी के आर्थिक सुधारों के बारे में गलत कथन की पहचान करें।

- A) Ala-ud-din's aim of revenue system was to fund the royal treasury and to save poor villagers from the hands of middle earners. / अलाउद्दीन का लक्ष्य राजस्व प्रणाली के जरिए शाही खजाने में धन जमा करना और गरीब ग्रामीणों को बिचौलियों के हाथों से बचाना था।
- B) Khut, Mukaddam, Chowdhury, etc. were made powerful. / खुत, मुकद्दम चौधरी इत्यादि शक्तिशाली बन गए।
- C) He introduced tax for cattle grazing, taxes for buildings, etc. / उसने मवेशियों को चारा खिलाना, भवनों के लिए करों इत्यादि की शुरुआत की।
- D) He was the first king to make survey of land to determine land revenue. / वह पहला राजा था जिसने भू-राजस्व के निर्धारण के लिए भूमि का सर्वेक्षण किया।

115) Which of the following is the first hydroelectric project of Kerala? / निम्नलिखित में से कौन केरल की पहली जलविद्युत परियोजना है?

- A) Sabarigiri hydroelectric project / सबरीगिरी जलविद्युत परियोजना
- B) Kallada hydroelectric project / कल्लाडा जलविद्युत परियोजना
- C) Penna Ahobilam hydroelectric project / पेन्ना अहोबिलम जलविद्युत परियोजना
- D) Pallivasal hydroelectric project / पल्लिवसल जलविद्युत परियोजना

116) As per Article 267, of Constitution of India, Contingency Fund is a fund for emergencies kept in reserve for use during economic crises. Who can authorise advances from this fund? / भारत के संविधान की धारा 267 के अनुसार आकस्मिक निधि वह आपातकालीन कोष है जिसे आर्थिक संकट के समय इस्तेमाल के लिए सुरक्षित रखा जाता है। इस कोष से अग्रिम किसके द्वारा अधिकृत किया जा सकता है?

- A) Constitution / संविधान
- B) Reserve Bank / रिजर्व बैंक
- C) President / राष्ट्रपति
- D) Prime Minister / प्रधानमंत्री

117) Under the Constitution of India, who does the real executive power rest with? / भारत के संविधान के तहत वास्तविक कार्यकारी शक्ति किसके पास रहती है?

- A) The President of India, who is the executive head of the Union / भारत के राष्ट्रपति, जो संघ के कार्यकारी प्रमुख हैं
- B) The Independent Judiciary / स्वतंत्र न्यायपालिका
- C) The Lok Sabha and the Rajya Sabha / लोक सभा और राज्य सभा
- D) The Prime Minister and the Council of Ministers / प्रधानमंत्री और मंत्रिपरिषद्

118) Which of the following is a root crop? / निम्न में से कौन सा मूल फसल है?

- A) Celery / सेलरी
- B) Potato / आलू
- C) Beans / बीन्स
- D) Lettuce / लेटिस

119) In which of the following countries was the first widespread PC virus known as Brain Virus written? / निम्नलिखित देशों में से किसमें पहली बार दूर दूर तक फैला हुआ ब्रेन वायरस नामक PC वायरस लिखा गया था?

- A) Russia / रूस
- B) China / चीन
- C) Philippines / फिलीपींस
- D) Pakistan / पाकिस्तान

120) The dress of the fire-fighters for making them fire proof are heavily lined with / अग्निरোধी बनाने के लिए फायर-फाइटर का पोशाक निम्नलिखित किस के साथ भारी रूप से रेखित किया जाता है?

- A) Asbestos / ऐस्बेस्टर
- B) Iron / लोहा
- C) Fire clay / फायर क्ले
- D) Lead / लीड

Section 3 - PART C

No. of Questions: 60

121) Fill in the blanks with correct option:

The crisis will soon blow _____.

- A) away
- B) on
- C) in
- D) over

122) Choose the correct meaning of the phrase/idiom underlined in the sentence:

Everything about the history of the freedom struggle is at his finger tips.

- A) ready and thorough knowledge of
- B) at the end of his finger
- C) ignorant of
- D) little knowledge of

123) Choose the word that is spelt correctly and fill the blanks:

Bind the bundle with a _____.

- A) chord
- B) cord
- C) chored
- D) card

124) Fill in the blanks with the correct verb:

The ploughed earth _____ rich and dark and fertile.

- A) have looked
- B) looked
- C) looking
- D) look

125) Identify the antonym of the underlined word:

These earrings are very expensive.

- A) dear
- B) rare
- C) cheap
- D) costly

126) Choose the word that is spelt correctly and fill the blanks:

He lacked the _____ to take up the project.

- A) confidense
- B) confidence
- C) confidance
- D) confidanse

127) Choose the correct form of the verb given in brackets:

What would you have done if you (miss) the train.

- A) have missed
- B) would have missed
- C) missed
- D) had missed

128) Choose the Noun in the given sentence:

She shows great diligence in her schoolwork.

- A) in
- B) diligence
- C) great
- D) shows

129) Fill in the blanks with the correct verb: Their yacht _____ high and dry on a sandbank.

- A) left
- B) were leaving
- C) was left
- D) have been left

130) Read the sentence carefully and select the underlined part that is incorrect:

While visiting New York, the Indian tourist group thought that the city's smog problem was worse than Delhi.

- A) was worse
- B) group thought
- C) Delhi
- D) while

131) Read the sentence carefully and select the underlined part that is incorrect:

The girl saw that her sick cat was becoming more healthier, with a higher activity level and more energy for playing, fetching and chasing rats.

- A) more healthier
- B) playing, fetching
- C) higher
- D) was becoming

132) Fill in the blanks with the correct option:

Mohan and Sohan went together. The former was my friend and the _____ my cousin.

- A) latest
- B) last
- C) later
- D) latter

133) Fill in the blanks with the correct option:

Bangaloreans _____ the marathon for a good cause.

- A) runs
- B) ran
- C) running
- D) run

134) Choose the Noun in the given sentence: The next train is due in five minutes.

- A) due
- B) next
- C) train
- D) the

135) Fill in the blanks with the correct form of verb:

She _____ from school at 15.

- A) expelled
- B) was expelled
- C) expelling
- D) expels

136) Identify the antonym of the underlined word:

The old housekeeper was gentle with the guests.

- A) wellbred
- B) charming
- C) placid
- D) intractable

137) Fill in the blanks with correct option:

She arrived _____ four o'clock.

- A) at
- B) since
- C) till
- D) within

138) Change the given sentence into a complex sentence:

The gymnast was injured, so he could not take part in the event.

- A) The gymnast was injured and could not take part in the event.
- B) The gymnast could not take part in the event because he was injured.
- C) His injury prevented the gymnast from taking part in the event.
- D) Being injured, the gymnast could not take part in the event.

139) Fill in the blanks with the correct verb:

I feel like an intruder, when I _____ their home.

- A) has visited
- B) visits
- C) visiting
- D) visit

140) Complete the sentence with an indefinite pronoun:

This paper is easy; _____ can solve it.

- A) every
- B) anyone
- C) nobody
- D) each

141) Fill in the blanks with the correct option:

She has bought _____ gifts to be distributed among the orphans.

- A) any
- B) many
- C) each
- D) much

142) Identify the antonym of the underlined word:

He is callous to the suffering of the aged people placed in his care.

- A) uncharitable
- B) insensitive
- C) compassionate
- D) indifferent

143) Identify the antonym of the underlined word: he custom officials boarded the ship.

- A) disembarked
- B) sailed
- C) dismounted
- D) got on

144) Identify the antonym of the underlined word:

The farmers have to gather the grains, while the good weather lasts.

- A) bundle
- B) amass
- C) scatter
- D) accumulate

145) Fill in the blanks with correct option: He is finally _____ smoking.

- A) to
- B) in
- C) of
- D) off

146) Fill in the blanks with the correct option: My work is poor _____ yours.

- A) beside
- B) beneath
- C) after
- D) between

147) Fill in the blanks with the correct option: There wasn't _____ art to see in the gallery as it was poorly maintained.

- A) some
- B) many
- C) much
- D) any

148) Read the sentence carefully and select the underlined part that is incorrect:

Because the blueberry is loaded with tannins, they are even better than the cranberry at preventing infections.

- A) they are
- B) because
- C) loaded with
- D) the cranberry

149) Fill in the blanks with the correct option: He _____ English.

- A) was knowing
- B) knowing
- C) knows
- D) known

150) Fill in the blanks with the correct option:

"I have just corrected _____ books and I am taking them back to the class."

- A) those
- B) this
- C) these
- D) that

151) Fill in the blanks with the correct option:

Sita has been _____ Ram since 10 years.

- A) waiting by
- B) waiting for
- C) waiting to
- D) waiting in

152) Read the sentence carefully and select the underlined part that is incorrect:

The farmers were horrified when they walked through the fields of corn plants and discovered that crows had been eating them.

- A) discovered
- B) they
- C) had been
- D) them

153) Change the given sentence into a simple sentence: He was thrown into jail and was heavily fined.

- A) He was thrown into jail, but was heavily fined.
- B) He was thrown into jail and so was heavily fined.
- C) He was being thrown into jail and was heavily fined.
- D) Besides being thrown into jail, he was heavily fined.

154) Choose the correct option to complete the sentence:

She wiped _____ her makeup.

- A) off
- B) of
- C) by
- D) to

155) Fill in the blanks with the correct option:

Satya was _____ root cause of _____ great Mahabharath.

- A) an, the
- B) a, an
- C) a, the
- D) the, the

156) Identify the meaning of the underlined phrase/idiom:

I gave him a piece of my mind.

- A) angered him
- B) appreciated him
- C) admired him
- D) scolded him

157) What type of noun is the underlined word:

They were admiring the paintings in the art gallery.

- A) proper
- B) countable
- C) uncountable
- D) abstract

158) Fill in the blanks with the correct option: We can go _____ foot.

- A) with
- B) in
- C) at
- D) on

159) Fill in the blanks with the correct form of verb:

We _____ roughly halfway between here and the coast.

- A) live
- B) lives
- C) living
- D) has lived

160) Identify the correct synonym: Perturb

- A) Trouble
- B) Complain
- C) Degrade
- D) Pacify

161) Choose the correct option to complete the sentence:

She had to take rest, because she was _____ after the climb.

- A) excited
- B) bored
- C) elated
- D) exhausted

162) Fill in the blanks with the correct form of verb:

The town _____ its best in the spring.

- A) have looked
- B) looking
- C) looks
- D) look

163) Change the complex sentence into a compound sentence:

My student who is a journalist wrote this article.

- A) My student is a journalist and she wrote this article.
- B) My student is a journalist when she wrote this article.
- C) My student is a journalist because she wrote this article.
- D) My student is a journalist for having written this article.

164) Identify the correct synonym: Bustle

- A) Rush
- B) Creep
- C) Crawl
- D) Drag

165) Identify the meaning of the underlined phrase/Idiom:

Mr. X first introduced the system of payments by instalments, and shortly afterwards others took a leaf out of his book.

- A) chased him
- B) went against him
- C) imitated him
- D) annoyed him

166) Choose the word that is spelt correctly and fill the blanks:

Many explorers have _____ to climb Mount Everest and have been successful.

- A) aesayed
- B) assayed
- C) asayed
- D) ascayed

167) Choose the correct form of the verb in brackets:

He (take) his mother's advice.

- A) took
- B) had took
- C) was taking
- D) take

168) Identify the correct synonym: Crucial

- A) Critical
- B) Beautiful
- C) Civil
- D) Bold

169) Identify the correct synonym: Massive

- A) Less
- B) Single
- C) Narrow
- D) Enormous

170) Identify the correct synonym: Heinous

- A) Luxurious
- B) Frightful
- C) Gaudy
- D) Odious

171) Identify the correct synonym of the underlined word:

Sugar producers have been crippled by plummeting prices.

- A) Falling
- B) Fluctuating
- C) Developing
- D) Rising

172) Choose the word that is spelt correctly and fill the blanks:

A _____ screen was put up to enjoy the one day cricket match.

- A) panaoromic
- B) panaramic
- C) panoramic
- D) panormic

173) Fill in the blanks with the correct option:

_____ story do you like the most in this book?

- A) whose
- B) what
- C) where
- D) which

174) Fill in the blanks with the correct form of verb:

His dog generally _____ everywhere with him.

- A) go
- B) goes
- C) shall go
- D) have gone

175) Change the simple sentence into a compound sentence:

Newton saw the apple falling to the ground.

- A) The apple falls to the ground when Newton saw it.
- B) The apple was falling to the ground though Newton saw it.
- C) The apple was falling to the ground and Newton saw it.
- D) The apple falling to the ground so Newton saw it.

176) Identify the antonym of the underlined word:

Don't rush down the staircase.

- A) dart
- B) tumble
- C) speed
- D) dawdle

177) Choose the correct option to complete the sentence: She was not dismissed; she gave up the job _____.

- A) easily
- B) slowly
- C) voluntarily
- D) quickly

178) Choose the correct option to complete the sentence:

The accountant _____ after he was accused of fraud.

- A) rejoiced
- B) resigned
- C) receded
- D) remained

179) Fill in the blanks with the correct verb:

He _____ the disease bravely for three years.

- A) were fighting
- B) fighting
- C) fight
- D) fought

180) Choose the correct meaning of the phrase / idiom underlined in the sentence:

He got his finger badly burnt when he invested all his money in the share market.

- A) suffered
- B) injured
- C) scalded
- D) profited