

DO NOT OPEN THIS BOOKLET UNTIL TOLD TO DO SO  
इस पुस्तिका को आदेश मिलने पर ही खोलें

Time Allowed : 2 Hours 30 Minutes

अनुमत समय : 2 घंटे 30 मिनट

Roll No. : \_\_\_\_\_

अनुक्रमांक : \_\_\_\_\_

Total No. Questions : 160

प्रश्नों की कुल संख्या : 160

Total No. of printed pages : 24

मुद्रित पृष्ठों की कुल संख्या : 24

Name of the Candidate (in capital letters) : \_\_\_\_\_  
अभ्यर्थी का नाम :

Candidate's Signature

अभ्यर्थी के हस्ताक्षर

Invigilator's Signature

कक्ष निरीक्षक के हस्ताक्षर

READ THE FOLLOWING INSTRUCTIONS CAREFULLY BEFORE USING THIS BOOKLET		इस पुस्तिका को प्रयोग करने से पहले निम्नलिखित निर्देश ध्यानपूर्वक पढ़ें	
1.	This booklet contains 24 pages including the blank. As soon as you open the booklet, please ensure that all the pages are intact and printed correctly.	1.	इस प्रश्न-पुस्तिका में खाली पृष्ठों सहित 24 पृष्ठ हैं। जैसे ही आप प्रश्न-पुस्तिका खोलते हैं, यह सुनिश्चित करें कि सभी पृष्ठ मौजूद हैं एवं सही तरह से मुद्रित हैं।
2.	Candidates are allowed to take the Question booklet after the Examination is over.	2.	परीक्षा समाप्ति के उपरान्त अभ्यर्थी प्रश्न-पुस्तिका अपने साथ ले जा सकते हैं।
3.	All candidates have to answer all questions in Part-I, Part-II, Part-III and Part-IV- Hindi Language. All questions carry equal marks.	3.	सभी अभ्यर्थियों को भाग-I, भाग-II, भाग-III एवं भाग-IV- हिन्दी भाषा के सभी प्रश्नों के उत्तर देने हैं। सभी प्रश्नों के अंक समान हैं।
4.	Each question carries four options i.e., A, B, C and D. You have to mark the most appropriate option. You are advised not to devote more than 50 seconds to answer a question.	4.	प्रत्येक प्रश्न के चार विकल्प A, B, C एवं D हैं। आपको इनमें से एक सही विकल्प चुनना है। आपको प्रत्येक प्रश्न के लिए 50 सेकेंड से ज्यादा समय नहीं लगाने की सलाह दी जाती है।
5.	There would be negative marking of the value of 0.25 marks for each wrong answer.	5.	प्रत्येक गलत उत्तर के लिये 0.25 का ऋणात्मक अंकन होगा।
6.	All rough work should be done only on the blank pages provided for this purpose at the end of this Booklet. No extra page will be provided.	6.	सभी कच्चे कार्य इस प्रश्न-पुस्तिका के अन्त में दिये गये खाली पृष्ठों पर ही केवल किया जाना है। कोई भी अतिरिक्त पृष्ठ प्रदान नहीं किया जायेगा।
7.	No candidate will be allowed to leave the examination hall during the exam. Candidates are allowed to leave the hall only after the OMR Sheets from all have been collected and accounted for.	7.	परीक्षा के दौरान किसी भी अभ्यर्थी को परीक्षा कक्ष छोड़ने की अनुमति प्रदान नहीं की जायेगी। अभ्यर्थी को सभी OMR उत्तर पत्रिका कक्ष निरीक्षक द्वारा वापस ले लिये जाने एवं इसकी गणना पूरी हो जाने पर ही परीक्षा कक्ष छोड़कर जाने के लिए अनुमति प्रदान की जाती है।
8.	Questions in this booklet span across the following parts:	8.	इस पुस्तिका में प्रश्न निम्न भागों में विभाजित हैं:

		Marks			अंक
Part-I	General Intelligence (Questions 1-40)	40	भाग-I	सामान्य बुद्धिमत्ता (प्रश्न 1-40)	40
Part-II	General Awareness (Questions 41-80)	40	भाग-II	सामान्य ज्ञान (प्रश्न 41-80)	40
Part-III	English Language (Questions 81-120)	40	भाग-III	अंग्रेजी भाषा (प्रश्न 81-120)	40
Part-IV	Hindi Language (Questions 121-160)	40	भाग-IV	हिन्दी भाषा (प्रश्न 121-160)	40
TOTAL		160	योग		160

9.		9.	
Total Marks allotted	160	कुल अंक	160
No. of Questions	160	प्रश्नों की कुल संख्या	160
Time allotted	2 Hours 30 Minutes	अनुमत समय	2 घंटे 30 मिनट
Sectional time limit	No	खण्ड समय सीमा	नहीं
Sectional cut off	No	खण्ड कट ऑफ	नहीं
Negative marking	Yes	ऋणात्मक अंकन	हाँ

10014



## PART-I / भाग - I (General Intelligence / सामान्य बुद्धिमत्ता)

**DIRECTIONS:** (Question No. 1 to 6) Study the following information and answer the questions.

Seven people namely Ashok, Babloo, Chandu, Deewakar, Eashwar, Fakir and Guddu have a meeting on seven different days of the same week namely Monday, Tuesday, Wednesday, Thursday, Friday, Saturday and Sunday but not necessarily in the same order. Each person also likes seven different colors namely Green, Grey, White, Black, Orange, Pink and Blue but not necessary in the same order.

Chandu likes grey and has a meeting on Monday. Only one person has meeting between Chandu and the one who likes Black. The person in between these two likes green. Only three people have their meeting between Deewakar and Babloo. Babloo has a meeting on Saturday. The one who likes orange has a meeting on Thursday. Eshwar likes black and has his meeting immediately after Deewakar.

Neither Guddu nor Fakir likes blue. Fakir likes white and has a meeting on one of the days after Eshwar. Guddu likes pink colour and has a meeting on Sunday.

1. Which of the following combination is definitely correct:

- (A) Saturday – Ashok – Black
- (B) Tuesday – Deewakar – Green
- (C) Tuesday – Guddu – Pink
- (D) Monday – Babloo – Black

2. Which of the following represents the day on which Ashok has the meeting:

- (A) Monday
- (B) Wednesday
- (C) Thursday
- (D) Saturday

3. Based on the given arrangement which of the following statements is true?

- (A) Ashok has a meeting on Tuesday
- (B) Chandu has a meeting on Wednesday
- (C) Ashok likes black color
- (D) Babloo likes blue color

4. Which of the following color does Ashok like?

- (A) White
- (B) Blue
- (C) Orange
- (D) Grey

5. Who amongst the following has a meeting on Tuesday?

- (A) Ashok
- (B) Eshwar
- (C) Deewakar
- (D) Guddu

6. Which of the following group has a combination liking of color similar to Indian national flag of tricolor?

- (A) Ashok, Fakir, Eshwar
- (B) Ashok, Babloo, Fakir
- (C) Chandu, Guddu, Eashwar
- (D) Ashok, Fakir, Deewakar

7. If  $63+25=16$ ,  $12+18=12$  and  $23+17=13$ , then  $54+22 = \underline{\hspace{1cm}}$

- (A) 13
- (B) 17
- (C) 19
- (D) 20

निर्देश: (प्रश्न संख्या 1 से 6) निम्नलिखित सूचनाओं को पढ़ें एवं प्रश्नों के उत्तर दें।

सात व्यक्ति जिनके नाम अशोक, बबलू, चन्दू, दीवाकर, ईश्वर, फकीर एवं गुड्डू एक ही सप्ताह - सोमवार, मंगलवार, बुधवार, बृहस्पतिवार, शुक्रवार, शनिवार एवं रविवार, सात विभिन्न दिनों में एक बैठक करते हैं जो कि आवश्यक नहीं कि उसी क्रम में हो। प्रत्येक व्यक्ति सात विभिन्न रंगों हरा, भूरा, सफेद, काला, नारंगी, गुलाबी, एवं नीला पसन्द करते हैं जो कि आवश्यक नहीं कि उसी क्रम में हो।

चन्दू भूरा पसन्द करता है एवं उसकी बैठक सोमवार को है। केवल एक व्यक्ति की बैठक चन्दू एवं जो काला पसन्द करता है, उसके मध्य है। इन दोनों के मध्य वाला व्यक्ति हरा पसन्द करता है। केवल तीन व्यक्तियों की बैठक दीवाकर और बबलू के मध्य है। बबलू की बैठक शनिवार को है। व्यक्ति जो नारंगी पसन्द करता है उसकी बैठक बृहस्पतिवार को है। ईश्वर काला पसन्द करता है एवं उसकी बैठक दीवाकर के तुरन्त बाद है।

न तो गुड्डू न ही फकीर नीला पसन्द करते हैं। फकीर सफेद पसन्द करता है एवं उसकी बैठक ईश्वर के बाद किसी दिन है। गुड्डू गुलाबी रंग पसन्द करता है और उसकी बैठक रविवार को है।

1. निम्नलिखित में से कौन-सा संयुग्म निश्चित रूप से सही है:

- (A) शनिवार - अशोक - काला
- (B) मंगलवार - दीवाकर - हरा
- (C) मंगलवार - गुड्डू - गुलाबी
- (D) सोमवार - बबलू - काला

2. निम्नलिखित में से कौन-सा दिन प्रतिनिधित्व करता है जिस दिन अशोक की बैठक है:

- (A) सोमवार
- (B) बुधवार
- (C) बृहस्पतिवार
- (D) शनिवार

3. दिये गए व्यवस्थाओं के आधार पर निम्नलिखित में से कौन-सा कथन सत्य है?

- (A) अशोक की बैठक मंगलवार को है
- (B) चन्दू की बैठक बुधवार को है
- (C) अशोक काला रंग पसन्द करता है
- (D) बबलू नीला रंग पसन्द करता है

4. निम्नलिखित में से कौन-सा रंग अशोक पसन्द करता है?

- (A) सफेद
- (B) नीला
- (C) नारंगी
- (D) भूरा

5. निम्नलिखित में से किसकी बैठक मंगलवार को है?

- (A) अशोक
- (B) ईश्वर
- (C) दीवाकर
- (D) गुड्डू

6. निम्नलिखित में से किस संयुग्म की पसन्द भारतीय राष्ट्रीय तिरंगे झंडे के रंगों का प्रतिनिधित्व करती है?

- (A) अशोक, फकीर, ईश्वर
- (B) अशोक, बबलू, फकीर
- (C) चन्दू, गुड्डू, ईश्वर
- (D) अशोक, फकीर, दीवाकर

7. यदि  $63+25=16$ ,  $12+18=12$  and  $23+17=13$ , तो  $54+22 = \dots$

- (A) 13
- (B) 17
- (C) 19
- (D) 20

DIRECTIONS: (Question No. 8 & 9) In the following questions, each question is followed by two statements labelled I and II in which certain data is given. You have to decide whether the data given in the statements are sufficient to answer the question. Using the data given, together with our everyday knowledge, choose.

- A. If statement I alone is sufficient to answer the question but statement II alone is not sufficient to answer the question.
- B. If statement II alone is sufficient to answer the question but statement I alone is not sufficient to answer the question
- C. If both statements I and II together are sufficient to answer the question but neither alone is sufficient to answer the question
- D. If I and II are not sufficient to answer the question and more data is required

8. What marks have been obtained by Ramesh?

- I. Ramesh's marks are average of marks of Namita and Anita
- II. Namita obtained 80 marks and this is 33% more than the marks obtained by Anita

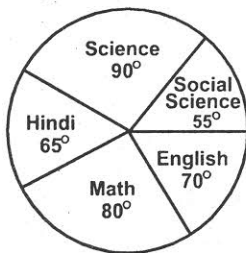
- (A) A (B) B
- (C) C (D) D

9. A certain bookshop sold, 92 copies of "Geet Gata Chal" by Atal Bihari Vajpayee during the first day. What percentage of stock of this book did he sell on that day:

- I. The total number of books with this title on stock is 230.
- II. There are a total of 1000 books in his store.

- (A) A (B) B
- (C) C (D) D

DIRECTIONS: The following graph gives the marks scored by a student in different subjects – English, Hindi, Mathematics, Science and Social Science in an examination. Assuming that the total marks obtained for the examination are 540, answer the question given below.



10. The difference of marks between Social Science and Mathematics as the same as between:

- (A) English and Science (B) Science and Hindi
- (C) Hindi and English (D) None of these

11. If 'PERFECT' is coded as 'RGUIHFW' Then 'BROWN' in that code is written as:

- (A) CSQYP (B) PSRZQ
- (C) CTRYQ (D) DTRZQ

निर्देश: (प्रश्न संख्या 8 एवं 9) निम्नलिखित प्रश्नों में, प्रत्येक प्रश्न के बाद दो कथन I एवं II दिये गए हैं जिसमें कुछ आँकड़े दिये गए हैं। आपको रण्य करना है कि कथनों में दिये गए आँकड़े प्रश्नों का उत्तर देने के लिये पर्याप्त है। अपने प्रतिदिन ज्ञान का प्रयोग करते हुए दिये हुए आँकड़ों से चयन करें।

- A. यदि कथन I अकेले पर्याप्त है लेकिन कथन II अकेले उत्तर देने के लिये पर्याप्त नहीं है।
- B. यदि कथन II उत्तर देने के लिए अकेले पर्याप्त है लेकिन कथन I अकेले उत्तर देने के लिये पर्याप्त नहीं है।
- C. यदि दोनों कथन I एवं II एक साथ उत्तर देने के लिये पर्याप्त है लेकिन कोई एक अकेले उत्तर देने के लिये पर्याप्त नहीं है।
- D. यदि दोनों कथन I एवं II उत्तर देने के लिये पर्याप्त नहीं है एवं अधिक आँकड़ों की आवश्यकता है।

8. रमेश द्वारा कितने अंक अर्जित किये गए?

- I. रमेश के अंक नमिता एवं अनिता के अंकों का औसत है
- II. नमिता द्वारा अर्जित अंक 80 हैं एवं यह अनिता द्वारा अर्जित अंकों से 33% ज्यादा है

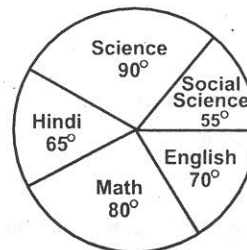
- (A) A
- (B) B
- (C) C
- (D) D

9. एक किताब की दुकान ने अटल बिहारी वाजपेयी द्वारा रचित "गीत गाता चल" की 92 प्रतियाँ पहले दिन बेची। इस किताब के स्टॉक की कितने प्रतिशत उसने उस दिन बेची:

- I. इस शीर्षक की कुल किताब की संख्या स्टॉक में 230 है।
- II. उसके स्टोर में कुल 1000 किताब हैं।

- (A) A (B) B
- (C) C (D) D

निर्देश: एक विद्यार्थी द्वारा विभिन्न विषयों-अंग्रेजी, हिन्दी, गणित, विज्ञान एवं सामाजिक विज्ञान में अर्जित अंक को निम्नलिखित ग्राफ द्वारा दर्शाया गया है। यह मानते हुए कि परीक्षा में कुल अर्जित अंकों की संख्या 540 है तो निम्नलिखित प्रश्न का उत्तर दें।



10. सामाजिक विज्ञान एवं गणित के मध्य अंकों में अन्तर उतना ही है जितना निम्न के मध्य:

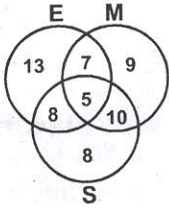
- (A) अंग्रेजी एवं विज्ञान (B) विज्ञान एवं हिन्दी
- (C) हिन्दी एवं अंग्रेजी (D) इनमें से कोई नहीं

11. यदि 'PERFECT' को 'RGUIHFW' कोड किया जाता है, तो उसी कोड में 'BROWN' को कैसे लिखा गया है:

- (A) CSQYP (B) PSRZQ
- (C) CTRYQ (D) DTRZQ



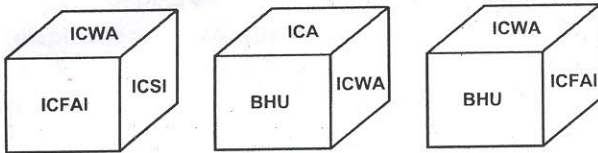
**DIRECTIONS:** 120 candidates appeared for examination in three subjects, name English (E), Maths (M) and Science (S). The number of candidates who failed in E, M and S as shown in the diagram given below.



12. The number of candidates who failed in at least one subject is:

- (A) 25 (B) 30  
(C) 60 (D) None of these


**DIRECTIONS:** Given below are three positions of the same dice having names of six institutions inscribed on six faces. The names of these institutions are, ICA, ICWA, ICSI, ICFAI, IIT, BHU.



13. Which name occurs on the face opposite to that of ICA?


- (A) ICSI (B) ICFAI  
(C) IIT (D) None of these

14. Find the missing number in figure:



- (A) 39 (B) 45  
(C) 47 (D) None of these

15. Which is next in series?



- (A) (B)   
(C) (D)

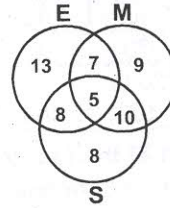
16. Given that.

1. A is the brother of B 2. C is the father of A  
3. D is the brother of E 4. E is the daughter of B

Then the uncle of 'D' is:

- (A) E (B) B  
(C) C (D) A

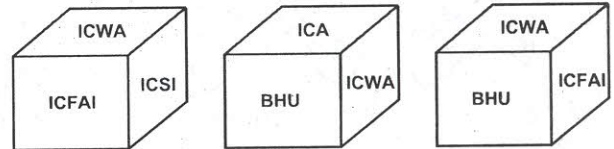
निर्देश: 120 विद्यार्थी तीन विषयों जिनके नाम अंग्रेजी (E), गणित (M) एवं विज्ञान (S) की परीक्षा में बैठे। E, M एवं S में असफल अभ्यर्थियों की संख्या जैसा कि नीचे दिये गए रेखाचित्र में दर्शाया गया है।



12. कम से कम एक विषय में असफल अभ्यर्थियों की संख्या है:

- (A) 25  
(B) 30  
(C) 60  
(D) इनमें से कोई नहीं

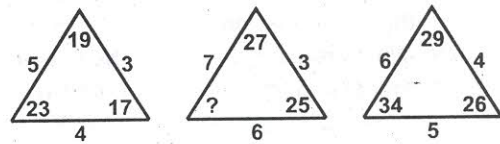
निर्देश: एक ही पासे के तीन स्थितियों जिसमें छः संस्थानों के नाम छः आमुखों पर दिये गए हैं। ये नाम हैं ICA, ICWA, ICSI, ICFAI, IIT, BHU



13. ICA के ठीक विपरीत (उल्टे) मुख पर कौन-सा नाम होगा?

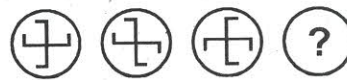
- (A) ICSI  
(B) ICFAI  
(C) IIT  
(D) इनमें से कोई नहीं

14. चित्र में प्रश्नवाचक चिन्ह के स्थान पर क्या आयेगा:



- (A) 39 (B) 45  
(C) 47 (D) इनमें से कोई नहीं

15. श्रेणी में कौन-सा आगे आयेगा?



- (A) (B)   
(C) (D)

16. दिया है।

1. B का भाई A है 2. A का पिता C है  
3. E का भाई D है 4. B की पुत्री E है  
तो 'D' का चाचा कौन है?

- (A) E (B) B  
(C) C (D) A

17. Consider the following information regarding the performance of a class of 1000 students in four different tests.

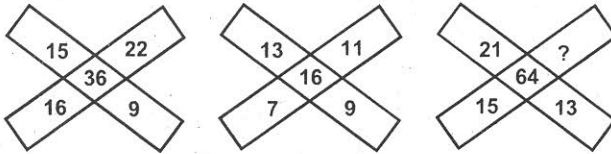
Tests	I	II	III	IV
Average Marks	60	60	70	80
Range of Marks	30 to 90	45 to 75	20 to 100	0 to 100

If a student scores 74 Marks in each of the four tests, in which of the following tests is his performance the best comparatively?

- (A) Test - I (B) Test - II  
(C) Test - III (D) Test - IV

DIRECTIONS: Select the question mark (?) number from the given responses.

18.



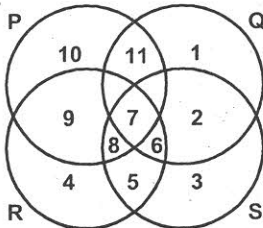
- (A) 21 (B) 23  
(C) 19 (D) 28

19. Complete the following series.

9, 11, 15, 23, 39, ?

- (A) 71 (B) 64  
(C) 42 (D) 56

20. In the below figure, circle P represents hardworking people, circle Q represents intelligent people, circle R represents truthful people, and circle S represents honest people. Which region represents the people who are intelligent, honest and truthful but not hardworking:



- (A) 6 (B) 7  
(C) 8 (D) 11

21. In certain code 'INTERCHANGE' is written as 'NITRECAHNEG'. How is 'CONDITIONAL' written in that code?

- (A) OCNDIOTNILA (B) ONCIDTOINLA  
(C) OCNIDTOINLA (D) OCIDNTOILNA

DIRECTIONS: Choose the most appropriate option in the following?

22. Detective : Information :: Reporter : ?

- (A) Essay (B) Books  
(C) News (D) Management

17. 1000 विद्यार्थियों वाले कक्षा के चार विभिन्न परीक्षाओं के प्रदर्शन से सम्बन्धित नीचे दी गई सूचनाओं का अवलोकन करें।

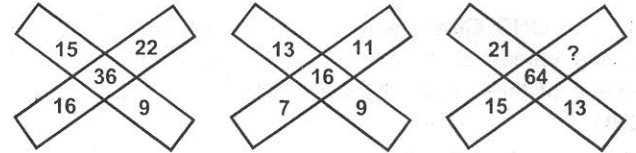
परीक्षा	I	II	III	IV
औसत अंक	60	60	70	80
अंको का परास	30 to 90	45 to 75	20 to 100	0 to 100

यदि एक विद्यार्थी प्रत्येक चारों परीक्षाओं में 74 अंक प्राप्त करता है, तो निम्नलिखित किस परीक्षा में उसका तुलनात्मक प्रदर्शन सर्वश्रेष्ठ रहा है?

- (A) परीक्षा - I (B) परीक्षा - II  
(C) परीक्षा - III (D) परीक्षा - IV

निर्देश: दिये गए विकल्पों में से प्रश्नवाचक चिन्ह (?) संख्या को चुनें।

18.



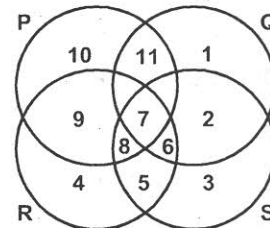
- (A) 21 (B) 23  
(C) 19 (D) 28

19. श्रेणी को पूर्ण करें।

9, 11, 15, 23, 39, ?

- (A) 71 (B) 64  
(C) 42 (D) 56

20. निम्नलिखित चित्र में वृत्त P परिश्रमी व्यक्तियों को दर्शाता है, वृत्त Q बुद्धिमान व्यक्तियों को दर्शाता है, वृत्त R सच्चे व्यक्तियों को दर्शाता है एवं वृत्त S ईमानदार व्यक्तियों को दर्शाता है। कौन-सा क्षेत्र उन व्यक्तियों का दर्शाता है जो बुद्धिमान, ईमानदार एवं सच्चे हैं परन्तु परिश्रमी नहीं हैं:



- (A) 6 (B) 7  
(C) 8 (D) 11

21. यदि किसी निश्चित कोड में 'INTERCHANGE' को 'NITRECAHNEG' तो उसी कोड में 'CONDITIONAL' को क्या लिखेंगे?

- (A) OCNDIOTNILA (B) ONCIDTOINLA  
(C) OCNIDTOINLA (D) OCIDNTOILNA

निर्देश: निम्नलिखित विकल्पों में से सर्वाधिक उपयुक्त विकल्प चुनें-

22. जासूस : सूचना :: रिपोर्टर : ?

- (A) निबन्ध (B) किताबें  
(C) समाचार (D) प्रबंधन



**DIRECTIONS:** Answer the following question according to the instructions given.

A\$B means A is not smaller than B  
A#B means A is not greater than B  
A@B means A is neither smaller nor equal to B  
A\*B means A is neither greater than nor smaller than B  
A%B means A is neither greater than nor equal to B

**23. STATEMENT:**

M@J, J\$T, T\*N

**CONCLUSION:**

I. N#J      II. T%M      III. M@N

- (A) Only I and II are true  
(B) Only II is true  
(C) Only I and III are true  
(D) All are true

**24. In a certain code language,**

'cro te na' stands for 'elephants are huge';  
'mee cro da' stands for 'animals are dark' and 'mee cro te dana' stands for 'huge animals are lovable'. How is 'elephants are lovable' written in this code language?

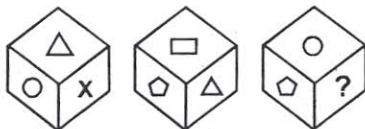
- (A) mee dana cro      (B) na mee dana  
(C) na dana cro      (D) te da mee

**25. In this question, which number should be in place of 'x'? The numbers in the figures follow some rule:**



- (A) 4      (B) 6  
(C) 7      (D) 8

**26. Three views of the same cube are shown below.**



The figure on the face opposite the triangle is:

- (A) Pentagon  
(B) Circle  
(C) Question mark  
(D) Rectangle

**27. 'C' is a place which is located 2 km away in the north-west direction from the capital Z. R is another place that is located 2 km away in the south-west direction from 'C'. 'M' is another place and that is located 2 km away in the north-west direction from 'R'. 'T' is yet another place that is located 2 km away in the south-west direction from 'M'. In which direction is 'T' located in relation to 'Z'?**

- (A) South-West      (B) West  
(C) North      (D) None of these

निर्देश: दिये गए निर्देशों के अनुसार निम्न प्रश्न का उत्तर दें।

A\$B का तात्पर्य है A, B से छोटा नहीं है  
A#B का तात्पर्य है A, B से बड़ा नहीं है  
A@B का तात्पर्य है A, न तो B से छोटा और न ही B के बराबर है  
A\*B का तात्पर्य है A, न तो B से बड़ा और न ही B से छोटा है  
A%B का तात्पर्य है A, न तो B से बड़ा और न ही B के बराबर है

**23. कथन:**

M@J, J\$T, T\*N

**निष्कर्ष:**

I. N#J      II. T%M      III. M@N

- (A) केवल I एवं II सत्य है  
(B) केवल II सत्य है  
(C) केवल I एवं III सत्य है  
(D) सभी सत्य हैं

**24. एक निश्चित कोड भाषा में,**

'cro te na' का तात्पर्य है 'elephants are huge';  
'mee cro da' का तात्पर्य है 'animals are dark' एवं  
'mee cro te dana' का तात्पर्य है 'huge animals are lovable'.  
'elephants are lovable' को इस कोड भाषा में कैसे लिखा जाएगा?

- (A) mee dana cro      (B) na mee dana  
(C) na dana cro      (D) te da mee

**25. इस प्रश्न में 'x' के स्थान पर कौन-सी संख्या आनी चाहिए। चित्र में दी गई संख्या कुछ नियम का अनुसरण करती है:**



- (A) 4      (B) 6  
(C) 7      (D) 8

**26. एक ही घन के तीन दृश्य नीचे दर्शाए गए हैं।**



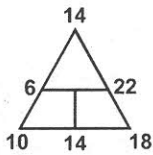
त्रिभुज के विपरीत तरफ वाला चित्र क्या है:

- (A) पंचभुज  
(B) वृत्त  
(C) प्रश्नवाचक चिन्ह  
(D) आयताकार

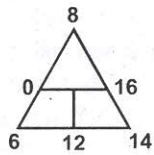
**27. राजधानी Z से उत्तर-पश्चिम दिशा में 2 किमी. की दूरी पर 'C' का स्थान स्थित है। 'R' एक दूसरा स्थान, 'C' से दक्षिण-पश्चिम दिशा में 2 किमी. की दूरी पर है। 'M' एक दूसरा स्थान, जो कि 'R' से उत्तर-पश्चिम दिशा में 2 किमी. की दूरी पर है। 'T' एक और अन्य स्थान, 'M' से दक्षिण पश्चिम दिशा में 2 किमी. की दूरी पर है। Z से, 'T' किस दिशा की ओर है?**

- (A) दक्षिण-पश्चिम      (B) पश्चिम  
(C) उत्तर      (D) इनमें से कोई नहीं


28. Find the missing number in place of question mark?



- (A) 10  
(C) 12



- (B) 8  
(D) 14



29. Five friends are sitting in a row. 'T' is on the right of 'Z'. 'N' is on the left of 'Z' but is on the right of 'L'. 'T' is on the left of 'K'. Who is sitting first from the left?

- (A) T (B) L  
(C) K (D) N

30. Ramesh is twice as old as Shyam but twice younger than Rajesh, Brijesh is half the age of Shyam but twice the age of Nagesh. Which two persons form the pair of oldest and youngest?

- (A) Ramesh and Brijesh  
(B) Rajesh and Shyam  
(C) Rajesh and Nagesh  
(D) Ramesh and Nagesh

31. Which one of the given responses would be a meaningful order of the following words?

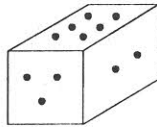
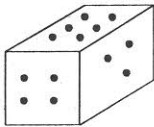
- Doctor, Headache, Medicine, Medical Shop.  
(A) Headache, Doctor, Medical Shop, Medicine  
(B) Doctor, Headache, Medical Shop, Medicine  
(C) Headache, Doctor, Medicine, Medical Shop  
(D) Headache, Medicine, Doctor, Medical Shop

DIRECTIONS: In the following number series only one number is wrong. Find out the wrong number.

32. 1, 4, 27, 256, 3125, 46658

- (A) 4  
(B) 46658  
(C) 27  
(D) 3125

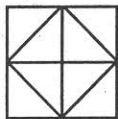
33. Given two positions of the dice as being.



When 4 is at the top which number is at the bottom:

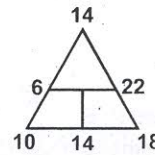
- (A) 5 (B) 2  
(C) 1 (D) 3

34. The total number of triangles in the figure below are:

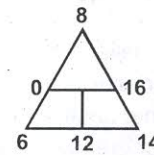


- (A) 8 (B) 10  
(C) 12 (D) 14


28. प्रश्नवाचक चिन्ह के स्थान पर विलुप्त संख्या बताएं?



- (A) 10  
(C) 12



- (B) 8  
(D) 14



29. पाँच मित्र एक कतार में बैठे हैं। 'T', Z के दायीं ओर है। 'N', Z के बायीं ओर है किन्तु 'L' के दायीं ओर है। 'T', K के बाएँ ओर है। बाएँ से प्रथम स्थान पर कौन बैठा है?

- (A) T (B) L  
(C) K (D) N

30. रमेश, श्याम से दुगुना बड़ा है लेकिन राजेश से दुगुना छोटा। ब्रिजेश श्याम की उम्र का आधा है लेकिन नागेश की आयु का दुगुना। कौन-से दो व्यक्तियों का जोड़ा, सबसे बड़ा एवं सबसे छोटे का है?

- (A) रमेश एवं ब्रिजेश  
(B) राजेश एवं श्याम  
(C) राजेश एवं नागेश  
(D) रमेश एवं नागेश

31. निम्नलिखित शब्दों का एक अर्थपूर्ण क्रम दिये गए विकल्पों में से कौन-सा होगा?

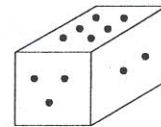
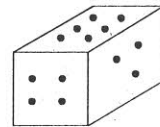
- डॉक्टर, सिर दर्द, दवा, दवा की दुकान  
(A) सिरदर्द, डॉक्टर, दवाई की दुकान, दवाई  
(B) डॉक्टर, सिरदर्द, दवाई की दुकान, दवाई  
(C) सिरदर्द, डॉक्टर दवाई, दवाई की दुकान  
(D) सिरदर्द, दवाई, डॉक्टर, दवाई की दुकान

निर्देश: निम्नलिखित संख्या श्रृंखला में एक संख्या गलत है। गलत संख्या को ज्ञात करें।

32. 1, 4, 27, 256, 3125, 46658

- (A) 4  
(B) 46658  
(C) 27  
(D) 3125

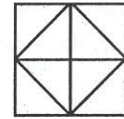
33. पासे की दो स्थितियाँ इस प्रकार दी गई हैं:



जब 4 शीर्ष पर होगा तो कौन-सी संख्या तल पर होगी:

- (A) 5 (B) 2  
(C) 1 (D) 3

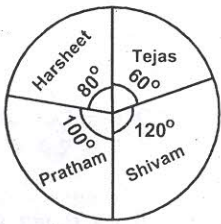
34. नीचे दिये गये चित्र में त्रिभुजों की दी हुई कुल संख्या कितनी है:



- (A) 8 (B) 10  
(C) 12 (D) 14



**DIRECTIONS:** The pie chart, given here, represents the number of valid votes obtained by four students who contested election for school leadership. The total number of valid votes polled was 720. Observe the chart and answer the question based on it.



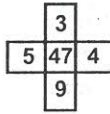
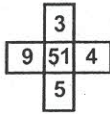

35. By how many votes did the winner defeat his nearest rival?  
(A) 35 (B) 45 (C) 40 (D) 50
36. Consider the following figure and answer the item given below:



What is the minimum number of different colours required to paint the figure given above such that no two adjacent regions have same colours.

- (A) 4 (B) 7 (C) 3 (D) 8

37. Find the missing number in place of question mark (?) from given alternatives:



- (A) 87 (B) 83  
(C) 55 (D) 60

**DIRECTIONS:** In the following question, Select the choice of letters which completes the first word and begins the second. The letters in the bracket end the first word and begin the second. Number of dots in bracket indicate number of letters required.

38. APR ( . . ) ION:

- (A) IL (B) ON  
(C) IT (D) CO

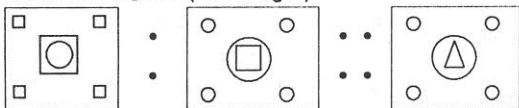
39. Pick the odd one out.

- (A) Hear (B) Smell  
(C) Taste (D) Talk

**DIRECTIONS:** Select the suitable alternative to satisfy the relationship in the following question.

निर्देश: निम्नलिखित प्रश्न में उनके सम्बन्धों को सन्तुष्ट करने वाले सही विकल्प को चुनिए।

40. Question figure (प्रश्न आकृति)

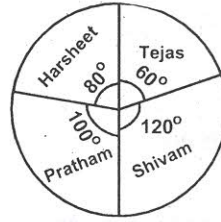


- Answer figure (उत्तर आकृति)



- (A) (B) (C) (D)

निर्देश: दिये गए पाई चार्ट में चार विद्यार्थियों द्वारा प्राप्त वैध मतों की संख्या दर्शायी गई है जिन्होंने स्कूल के नेतृत्व के लिये चुनाव लड़ा। डाले गये कुल वैध मतों की संख्या 720 थी। चार्ट का अवलोकन करें एवं इस पर आधारित प्रश्न का उत्तर दें।



35. विजेता ने अपने निकटतम प्रतिद्वन्दी को कितने मतों से हराया?

- (A) 35 (B) 45  
(C) 40 (D) 50

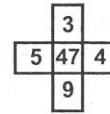
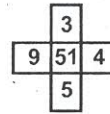
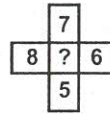
36. निम्नलिखित चित्र का अवलोकन करें एवं प्रश्न का उत्तर दें।



रंगों से उपरोक्त रेखा चित्र रंगने के लिये न्यूनतम कितने विभिन्न रंगों की संख्या की आवश्यकता है ताकि दो सटे हुए क्षेत्रों का रंग एक सा ना हो।

- (A) 4 (B) 7  
(C) 3 (D) 8

37. दिये गए विकल्पों में से प्रश्नवाचक चिन्ह (?) के स्थान पर विलुप्त संख्या ज्ञात करें:



- (A) 87 (B) 83  
(C) 55 (D) 60

निर्देश: निम्नलिखित प्रश्न में पहले शब्द को पूर्ण करने के लिये और दूसरे शब्द को शुरू करने के लिये सही अक्षरों का चुनाव करें। अक्षर जो पहले शब्द को पूर्ण और दूसरे शब्द को शुरू करेंगे वह कोष्ठक में आयेगें। कोष्ठक में दर्शायी गई बिन्दुओं की संख्या अक्षरों की संख्या बताती है।

38. APR ( . . ) ION:

- (A) IL (B) ON  
(C) IT (D) CO

39. निम्नलिखित में से असंगत को चुनिए:

- (A) सुनना (B) सूँघना  
(C) स्वाद लेना (D) बातचीत करना

41. Chengalikodan is a variety of:

- (A) Banana (B) Apple  
(C) Pokkali Rice (D) Mango

42. Ten Degree Channel is situated between:

- (A) North and South Andaman  
(B) Middle and South Andaman  
(C) Little Andaman and Nicobar Islands  
(D) India and Sri Lanka

43. Article 243 B(1) of the constitution provides for constitution of Panchayat in every state. The level of Panchayats referred under this is:

- (A) Village and District level  
(B) Village, intermediate and District Level  
(C) Village level only  
(D) District level only

44. Match the following (Item-I to Item-II):

**ITEM-I**

- A. Siachin Glacier  
B. Rohtang Pass  
C. Nathu la  
D. Khyber Pass

- (A) A4, B2, C3, D1  
(C) A3, B2, C4, D1

**ITEM-II**

1. Sikkim  
2. Karakoram Range  
3. Pakistan  
4. Himachal Pradesh

- (B) A4, B2, C1, D3  
(D) A2, B4, C1, D3

45. Find the mismatch:

- (A) Gagan Narang – Shooting  
(B) Achanta Sharath Kamal – Table Tennis  
(C) PV Sindhu – Badminton  
(D) Sakshi Malik – Weight Lifting

46. As per Indus Water treaty, control over which three rivers were given to Pakistan:

- (A) Ravi, Jhelum and Sutlej  
(B) Ravi, Beas and Sutlej  
(C) Indus, Jhelum & Chenab  
(D) Indus, Jhelum & Sutlej

47. PAVA shells stands for?

- (A) Pelargonic Acid Vanillyl Amide  
(B) Pellet Attack Vamide Amide  
(C) Parrallel attack Via Amide  
(D) Priority Acid Via Amide

48. The earth rotates on its axis from:

- (A) West to East (B) East to West  
(C) South to North (D) North to South

49. Which country has initiated "One Belt and One Road initiative":

- (A) Nepal  
(B) India  
(C) China  
(D) Japan

41. चेनालिकोडन किसकी एक प्रजाति है:

- (A) केला (B) सेब  
(C) पोक्कली चावल (D) आम

42. टेन डिग्री चैनल किसके मध्य स्थित है?

- (A) उत्तर और दक्षिण अण्डमान  
(B) मध्य और दक्षिण अण्डमान  
(C) छोटा अण्डमान और निकोबार द्वीप  
(D) भारत और श्री-लंका

43. संविधान के अनुच्छेद 243 B(1) प्रत्येक राज्य में एक पंचायत के गठन का प्रावधान करता है। इस अनुच्छेद में पंचायत का स्तर जो संदर्भित किया गया है:

- (A) गाँव एवं जिला स्तर  
(B) गाँव, मध्यवर्ती एवं जिला स्तर  
(C) केवल गाँव स्तर  
(D) केवल जिला स्तर

44. निम्नलिखित को सुमेलित करें (मद-I से मद-II):

**मद-I**

- A. सियाचिन ग्लेशियर  
B. रोहतांग पास  
C. नाथू ला  
D. खायबर पास

- (A) A4, B2, C3, D1  
(C) A3, B2, C4, D1

**मद-II**

1. सिक्किम  
2. कराकोरम रेंज  
3. पाकिस्तान  
4. हिमाचल-प्रदेश

- (B) A4, B2, C1, D3  
(D) A2, B4, C1, D3

45. गैर सुमेलित को ज्ञात करें।

- (A) गगन नारंग - शूटिंग  
(B) अचन्ता शरथ कमल - टेबल टेनिस  
(C) पी.वी. सिंधू - बैडमिन्टन  
(D) साक्षी मलिक - भारत्तोलन

46. सिन्धु जल समझौते के अनुसार किन तीन नदियों पर पाकिस्तान को नियंत्रण दिया गया-

- (A) रावी, झेलम एवं सतलज  
(B) रावी, व्यास एवं सतलज  
(C) सिन्धु, झेलम एवं चेनब  
(D) सिन्धु, झेलम एवं सतलज

47. PAVA सेल्स का तात्पर्य है?

- (A) Pelargonic Acid Vanillyl Amide  
(B) Pellet Attack Vamide Amide  
(C) Parrallel attack Via Amide  
(D) Priority Acid Via Amide

48. पृथ्वी अपनी धूरी पर घूमती है:

- (A) पश्चिम से पूरब (B) पूरब से पश्चिम  
(C) दक्षिण से उत्तर (D) उत्तर से दक्षिण

49. किस देश ने "एक बेल्ट एवं एक रोड इनिशिएटिव (OBOR)" की पहल की है:

- (A) नेपाल  
(B) भारत  
(C) चीन  
(D) जापान



### Match List-I with List-II

#### List-I (Dance forms)

- Kathkali
- Kuchipudi
- Bharat Natyam

- (A) A-2, B-4, C-1  
(C) A-2, B-3, C-1

#### List-II (State)

- Tamilnadu
- Kerala
- Andhra Pradesh
- Odisha
- Karnataka

- (B) A-5, B-3, C-2  
(D) A-5, B-4, C-2

### 51. Match the following items I & II.

#### Item-I

- Bank rate
- Repo rate
- Statutory liquidity ratio
- Cash Reserve Ratio

- (A) A4, B3, C1, D2  
(C) A1, B2, C3, D4

#### Item-II

- RBI lends money to commercial bank for their short term needs.
- To be maintained by commercial bank with RBI
- To be maintained by commercial bank with themselves
- RBI lends money to commercial banks for their long term needs

- (B) A1, B3, C2, D4  
(D) A4, B1, C3, D2

### 52. Match List-I (Sea) with List-II (Country) and select the correct answer using codes given below the lists.

#### List-I (Sea)

- Black Sea
- Red Sea
- Yellow Sea
- Caspian Sea

- (A) A1, B4, C2, D3  
(B) A2, B3, C1, D4  
(C) A1, B3, C2, D4  
(D) A2, B4, C1, D3

#### List-II (Country)

- Bulgaria
- China
- Eritrea
- Kazakhstan

### 53. The resolution for removing the vice president of India can be moved in the:

- Lok Sabha alone
- Either house of parliament
- Joint Sitting of parliament
- Rajya Sabha alone

### 54. Which profession represents highest percentage of members in the sixteenth Lok Sabha?

- Advocate
- Agriculturists
- Social Worker
- Business Person

### 50. सूची-I को सूची-II से सुमेलित करें।

#### सूची-I (नृत्य स्वरूप)

- कथकली
- कुच्चीपुडी
- भारतनाट्यम

- (A) A-2, B-4, C-1  
(C) A-2, B-3, C-1

#### सूची-II (राज्य)

- तमिलनाडू
- केरल
- आन्ध्र-प्रदेश
- ओडिशा
- कर्नाटक

- (B) A-5, B-3, C-2  
(D) A-5, B-4, C-2

### 51. मद-I से मद-II को सुमेलित करें:

#### मद-I

- बैंक दर
- रेपो दर
- वैधानिक तरलता अनुपात
- नकद संचित अनुपात

- (A) A4, B3, C1, D2  
(C) A1, B2, C3, D4

#### मद-II

- RBI दूसरे वाणिज्यिक बैंको को उनके अल्पकालिक आवश्यकताओं के लिये मुद्रा उधार देता है
- वाणिज्य बैंको द्वारा रिजर्व बैंक में रखा जाता है
- वाणिज्यिक बैंकों द्वारा अपने साथ रखा जाता है
- RBI दूसरे वाणिज्यिक बैंको को उनके दीर्घकालिक आवश्यकताओं के लिये मुद्रा उधार देता है

- (B) A1, B3, C2, D4  
(D) A4, B1, C3, D2

### 52. सूची-I (समुद्र) को सूची-II (देश) से मेल कराएं एवं नीचे दिये गए कोडों का प्रयोग करते हुए सही उत्तर चुनें।

#### सूची-I (समुद्र)

- ब्लैक सी
- रेड सी
- येलो सी
- कैस्पियन सी

- (A) A1, B4, C2, D3  
(B) A2, B3, C1, D4  
(C) A1, B3, C2, D4  
(D) A2, B4, C1, D3

#### सूची-II (देश)

- बुल्गारिया
- चीन
- एरिट्रिया
- कजाकस्तान

### 53. भारत के उप-राष्ट्रपति को हटाने का प्रस्ताव कहाँ लाया जा सकता है:

- केवल लोक-सभा में
- संसद के किसी भी सदन में
- संसद के संयुक्त बैठक में
- केवल राज्य-सभा में

### 54. सोलहवीं लोक-सभा में किस पेशे के सदस्यों का सबसे ज्यादा प्रतिशत है:

- एडवोकेट
- कृषक
- समाजसेवी
- व्यवसायी

55. Match the following (List-I and List-II):

List-I (Year)	List-II (Nobel Prize in Literature Awardee)
A. 2016	1. Patrick Modiano
B. 2015	2. Alice Munro
C. 2014	3. Bob Dylan
D. 2013	4. Svetiana Alexievich
(A) A3, B2, C4, D1	(B) A3, B4, C1, D2
(C) A3, B1, C2, D4	(D) A3, B2, C1, D4

56. Vice President of India who served for two consecutive terms:

- (A) K.R. Narayanan  
(B) Zakir Hussain  
(C) V.V. Giri  
(D) Dr. Sarvapalli Radha Krishnan

57. The Wallace's line refers to:

- (A) A faunal boundary line between Asia & Australia  
(B) A biogeographic boundary between landscape patches in the Amazon  
(C) A mountain range that represents different species on either side of Himalayas  
(D) An altitude zonation between two vegetation communities

58. The branch of biology that deals with the study of fungi is called:

- (A) Algology (B) Phycology  
(C) Mycology (D) Microbiology

59. A solar eclipse occurs when:

- (A) The Moon comes between the Earth and Sun  
(B) The Sun, Moon and Earth are in triangular formation  
(C) The Earth shadow falls on the moon  
(D) All of these

60. India's Devendra Jhajharia won gold medal in the men's ..... event held at the 2016 Rio Paralympics –

- (A) Shot put – F53  
(B) Wrestling  
(C) High Jump T-42  
(D) Javelin Throw – F46

61. A cyclist while turning around a curved road leans inwards. By doing so which force he is providing himself which enables to take a turn:

- (A) Centrifugal Force  
(B) Centripetal force  
(C) Angular Velocity  
(D) None of these

62. On the basis of area which one of the following is correct descending order?

- (A) Asia, North America, Africa, South America  
(B) Africa, Asia, North America, South America  
(C) Asia, Africa, North America, South America  
(D) Asia, Africa, South America, North America

55. निम्नलिखित को सुमेलित करें (सूची-I एवं सूची-II)

सूची-I (वर्ष)	सूची-II (नोबेल साहित्य पुरस्कार विजेता)
A. 2016	1. पैट्रिक मोडियानो
B. 2015	2. एलिस मूनरो
C. 2014	3. बॉब डायलन
D. 2013	4. स्वेतियाना एलेक्सीविच
(A) A3, B2, C4, D1	(B) A3, B4, C1, D2
(C) A3, B1, C2, D4	(D) A3, B2, C1, D4

56. भारत के कौन-से एक मात्र उप-राष्ट्रपति हैं जिन्होंने दो लगातार कार्यकालों की सेवा की है:

- (A) के.आर. नारायणन  
(B) ज़ाकिर हुसैन  
(C) वी.वी. गिरी  
(D) डॉ. सर्वपल्ली राधा कृष्णन

57. वालेस रेखा संदर्भित करती है:

- (A) एशिया एवं ऑस्ट्रेलिया के बीच एक फौनल सीमा रेखा  
(B) अमेज़न में लैण्डस्केप पट्टियों के मध्य एक बायोजियोग्राफिक सीमा रेखा  
(C) एक पर्वत विस्तार जो कि हिमालय के किसी तरफ विभिन्न प्रजातियों का प्रतिनिधित्व करता है  
(D) दो वानस्पतिक समुदायों के मध्य एक तुंगता अनुक्षेत्र वर्गीकरण

58. जीवविज्ञान की शाखा, जो कि फफूंद के अध्ययन से संबंधित है, कहलाता है:

- (A) एल्गोलॉजी (B) फिकोलॉजी  
(C) माइक्रोलॉजी (D) माइक्रोबायोलॉजी

59. सूर्य ग्रहण कब होता है:

- (A) जब चन्द्रमा पृथ्वी एवं सूर्य के मध्य आ जाता है  
(B) जब सूर्य, चन्द्रमा एवं पृथ्वी त्रिकोणीय स्वरूप में बनाते हैं  
(C) जब पृथ्वी की छाया चन्द्रमा पर पड़ती है  
(D) उपर्युक्त सभी

60. भारत के देवेन्द्र झझरिया ने 2016 रियो पैरालिम्पिक्स में किस खेल में पुरुषों के ..... में स्वर्ण मेडल जीता-

- (A) शॉटपुट-F53  
(B) कुश्ती  
(C) हाई जम्प-T42  
(D) जैवेलिन थ्रो-F46

61. एक साइकिल सवार एक घुमावदार सड़क पर मुड़ते हुए अन्दर की ओर झुकता है। इस तरह अपने को मुड़ने में समर्थ बनाने के लिए वह कौन-सा बल लगा रहा है:

- (A) अपकेन्द्री बल  
(B) केन्द्राभिसारी बल  
(C) कोणीय वेग  
(D) इनमें से कोई नहीं

62. क्षेत्रफल के आधार पर निम्नलिखित में से कौन-सा सही अवरोही क्रम है:

- (A) एशिया, उत्तरी अमेरिका, अफ्रीका, दक्षिणी अमेरिका  
(B) अफ्रीका, एशिया, उत्तरी अमेरिका, दक्षिणी अमेरिका  
(C) एशिया, अफ्रीका, उत्तरी अमेरिका, दक्षिणी अमेरिका  
(D) एशिया, अफ्रीका, दक्षिणी अमेरिका, उत्तरी अमेरिका



62. Match the United Nations Agency with its headquarter and find the incorrect match?
- (A) UNESCO- Paris, France  
(B) UNIDO- Vienna, Austria  
(C) ILO- Geneva, Switzerland  
(D) FAO- Montreal, Canada
63. युनाइटेड नेशन्स एजेन्सी को इसके मुख्यालय से सुमेलित करें एवं गलत मेल को पहचानें?
- (A) UNESCO - पेरिस, फ्रांस  
(B) UNIDO - वियना, ऑस्ट्रिया  
(C) ILO - जेनेवा, स्वीट्ज़रलैण्ड  
(D) FAO - मॉन्ट्रियल, कनाडा
64. In which of the following groups of hemispheres is India located?
- (A) Northern & Eastern Hemisphere  
(B) Eastern & western Hemisphere  
(C) Southern & Northern Hemisphere  
(D) Eastern & Southern Hemisphere
65. S.D.R with reference to IMF stands for:
- (A) Special Dollor Rights  
(B) Special Drawing Rights  
(C) Single Drawing Rights  
(D) Sunk Drawing Rights
66. A writ, which is in the nature of command issued by the court asking a public authority to perform a public duty which it is bound to perform or to refrain from performing a particular act which it should not perform, is called:
- (A) Certiorari (B) Habeas corpus  
(C) Mandamus (D) Quo warranto
67. Electoral disputes arising out of Presidential and Vice-Presidential elections are settled by:
- (A) Central Election Tribunal  
(B) Joint Committee of Parliament  
(C) Election Commission of India  
(D) Supreme Court of India
68. 1 diopetre of power of a lens:
- (A) Whose focal length is 10 meters  
(B) Whose focal length is 100 meters  
(C) Whose focal length is 1 meter  
(D) Whose focal length is 0.01 meter
69. LIBOR, a term used in banking and financial sector:
- (A) Local Indian Bank Offered rate  
(B) London Inter bank Offered rate  
(C) London India bureau of Regulations  
(D) Liberal International Bank Official Ratio
70. National remote sensing center (NRSC) is located in:
- (A) Delhi (B) Hyderabad  
(C) Gwalior (D) Benqaluru
71. Which of the following is a credit rating agency:
- (A) BSE  
(B) ICRA  
(C) NSE  
(D) SEBI
63. युनाइटेड नेशन्स एजेन्सी को इसके मुख्यालय से सुमेलित करें एवं गलत मेल को पहचानें?
- (A) UNESCO - पेरिस, फ्रांस  
(B) UNIDO - वियना, ऑस्ट्रिया  
(C) ILO - जेनेवा, स्वीट्ज़रलैण्ड  
(D) FAO - मॉन्ट्रियल, कनाडा
64. गोलार्ध के किस समुदाय में भारत स्थित है:
- (A) उत्तरी एवं पूर्वी गोलार्ध  
(B) पूर्वी एवं पश्चिमी गोलार्ध  
(C) दक्षिणी एवं उत्तरी गोलार्ध  
(D) पूर्वी एवं दक्षिणी गोलार्ध
65. IMF के संदर्भ में S.D.R का तात्पर्य है:
- (A) विशेष डॉलर अधिकार  
(B) विशेष आहरण अधिकार  
(C) एकल आहरण अधिकार  
(D) डूबत आहरण अधिकार
66. न्यायालय द्वारा निर्गमित एक समादेश जो एक कंमांड की तरह किसी सार्वजनिक प्राधिकारी को सार्वजनिक कार्य करने को बाध्य है तथा किसी कार्य को नहीं करने को जो उसे नहीं करना चाहिए, कहा जाता है:
- (A) सर्टियोरारी (B) हैबियस कॉर्पस  
(C) मंडमस (D) क्वो वारन्टो
67. राष्ट्रपति एवं उप-राष्ट्रपति चुनाव में हुई मतदान विवादों का निस्तारण किसके द्वारा किया जाता है:
- (A) केन्द्रीय चुनाव ट्रिबुनल  
(B) संसद की संयुक्त समिति  
(C) भारत का चुनाव आयोग  
(D) भारत का सर्वोच्च न्यायालय
68. लेंस की शक्ति का 1 डायोप्टर का आशय है:
- (A) जिसकी नाभिय लम्बाई 10 मीटर होती है  
(B) जिसकी नाभिय लम्बाई 100 मीटर होती है  
(C) जिसकी नाभिय लम्बाई 1 मीटर होती है  
(D) जिसकी नाभिय लम्बाई 0.01 मीटर होती है
69. LIBOR एक पद है जो कि बैंकिंग एवं वित्तीय क्षेत्रों में प्रयुक्त होता है:
- (A) लोकल इंडियन बैंक ऑफर्ड रेट  
(B) लंदन इंटर बैंक ऑफर्ड रेट  
(C) लंदन इंडिया ब्यूरो ऑफ रेगुलेशन्स  
(D) लीबरल इंटरनेशनल बैंक ऑफिशियल रेशियो
70. नेशनल रीमोट सेन्सिंग सेन्टर (NRSC) कहाँ स्थित है:
- (A) दिल्ली (B) हैदराबाद  
(C) ग्वालियर (D) बेंगलूरु
71. निम्नलिखित में से कौन-सी एक साख मूल्यांकन संस्था है:
- (A) BSE  
(B) ICRA  
(C) NSE  
(D) SEBI

72. Which one of the following is the correct chronological order?
- (A) Khilji Dynasty – Tughlaq Dynasty – Sayyid Dynasty – Lodhi Dynasty  
(B) Lodhi Dynasty – Sayyid Dynasty – Khilji Dynasty – Tughlaq Dynasty  
(C) Khilji Dynasty – Sayyid Dynasty – Lodhi Dynasty – Tughlaq Dynasty  
(D) Lodhi Dynasty – Tughlaq Dynasty – Khilji Dynasty – Sayyid Dynasty
73. Which is the nodal department under the aegis of union ministry of communications and information technology that deals with cyber security threats like hacking and Phishing in India?
- (A) National Cyber Coordination Centre  
(B) Grid Security Expert System of India  
(C) NETRA of India  
(D) CERT-IN
74. In case of reflection it is well known that when a mirror turned through an angle the reflected ray turns through:
- (A) Same angle (B) Twice the angle  
(C) Thrice the angle (D) Half the angle
75. "Swachh Indhan, Behtar Jeevan" is the tagline for which scheme of union government:
- (A) Pradhan Mantri Awas Yojana  
(B) Pradhan Mantri Ujjwala Yojana  
(C) The Ujala Scheme  
(D) Swachh Bharat Abhiyan
76. Which of the following is wrongly matched:
- (A) Hirakud - Mahanadi  
(B) Pochampad - Godavari  
(C) Nagarjun Sagar - Cauvery  
(D) Bhakra Nagal - Sutlej
77. FIFA World Cup 2018 will be organised in which of the following countries?
- (A) Russia (B) Germany  
(C) Brazil (D) France
78. Which is generally known as United Nations Refugee Agency?
- (A) UNODC (B) UNHSP  
(C) UNHCR (D) UNFIP
79. Select the smallest (computer) memory size?
- (A) Terabyte (B) Gigabyte  
(C) Kilobyte (D) Megabyte
80. Which one of the following four Vedas is divided in Taittiriya and Vajasaneyi:
- (A) Rig ved (B) Yajurved  
(C) Atharva ved (D) Sama ved
72. निम्नलिखित में से कौन-सा कालक्रमानुसार सही है:
- (A) खिलजी राजवंश - तुगलक राजवंश - साईद राजवंश - लोधी राजवंश  
(B) लोधी राजवंश - साईद राजवंश - खिलजी राजवंश - तुगलक राजवंश  
(C) खिलजी राजवंश - साईद राजवंश - लोधी राजवंश - तुगलक राजवंश  
(D) लोधी राजवंश - तुगलक राजवंश - खिलजी राजवंश - साईद राजवंश
73. संवहन एवं सूचना प्रौद्योगिकी के संरक्षण में आने वाला कौन-सा ग्रन्थिल विभाग है जो साईबर सुरक्षा खतरों जैसे कि भारत में हैकिंग एवं फिशिंग से निपटता है?
- (A) नेशनल साईबर कोआर्डिनेशन सेन्टर  
(B) ग्रिड सिक्योरिटी एक्स्पर्ट सिस्टम ऑफ इंडिया  
(C) NETRA of India  
(D) CERT-IN
74. परावर्तन के संदर्भ में यह भलीभाँति ज्ञातव्य है कि जब एक दर्पण को एक कोण में घुमाया जाता है तो परावर्तित किरण घूमती है:
- (A) उसी कोण में (B) कोण का दुगुना  
(C) कोण का तिगुना (D) कोण का आधा
75. "स्वच्छ ईंधन, बेहतर जीवन" संघ सरकार की कौन-सी योजना का टैगलाइन है:
- (A) प्रधानमंत्री आवास योजना  
(B) प्रधानमंत्री उज्ज्वला योजना  
(C) उजाला (Ujala) योजना  
(D) स्वच्छ भारत अभियान
76. निम्नलिखित में से कौन-सा गलत जोड़ा है:
- (A) हीराकुड - महानदी  
(B) पोचम्पाद - गोदावरी  
(C) नागार्जुन सागर - कावेरी  
(D) भाखरा नांगल - सतलज
77. FIFA विश्वकप 2018 किस देश में आयोजित किया जायेगा?
- (A) रूस (B) जर्मनी  
(C) ब्राज़ील (D) फ्रांस
78. निम्नलिखित में से किसे संयुक्त राष्ट्र शरणार्थी एजेंसी के रूप में जाना जाता है?
- (A) UNODC (B) UNHSP  
(C) UNHCR (D) UNFIP
79. स्मृति आकार (कम्प्यूटर) के हिसाब से सबसे छोटे का चयन करें:
- (A) टेराबाइट (B) गिगाबाइट  
(C) किलोबाइट (D) मेगाबाइट
80. निम्नलिखित चार वेदों में से कौन-सा वेद तैत्तिरिया एवं वजासनेई में विभक्त है:
- (A) ऋग्वेद (B) यजुर्वेद  
(C) अथर्ववेद (D) सामवेद



### PART-III / भाग - III (English Language / अंग्रेजी भाषा)

DIRECTIONS: (Question No. 81 to 85) Read the following passage carefully. The questions following it are based on its contents. Select the best answer to each question based on the contents of the passage.

We must build a world of peace and we cannot do so unless we secure for it a truly moral foundation. We may hold different metaphysical views, adopt different modes of worship and there are millions today who do not desire to place their faith in any God at all. But every one of us will feel highly offended if he is pronounced destitute of any moral sense, if he is said to be untruthful or unloving. All religions and systems of morality are agreed that respect for life, respect for intangible possessions, good name and honour, constitute morality and justice. 'Do not do to others what you would not like to be done to you'. Even primitive sages accept this principle. Only for them its appreciation is limited to their own tribe and race and those outside are not regarded as human beings. As our horizon expands, as our moral sense deepens, we feel that these moral precepts are valid for all human beings. Today the world is like a ship with no captain heading for the rocks. It is swept by passion and folly. We do not know whether it is passing through birth pangs or death throes. If we adopt the path of greed, hatred and self-interest, we will become something less than human. If we take the other path of fortitude, un-selfish service and sacrifice we will reach height of splendour in body, mind and spirit of which we can hardly dream. Non-religion is our malady and religion as an adventure of spirit and as a tool radical transformation of human nature is the cure for it.

81. To build a world of peace it is essential to:

- (A) Respect all religions
- (B) Cultivate moral values in human beings
- (C) Serve society
- (D) Have faith in God

82. In spite of diversity of views, there is a general agreement on what constitutes .....

- (A) Decency and goodness
- (B) Grace and gentlemanliness
- (C) Morality and justice
- (D) Kindness and compassion

83. The principle, "Do not do to others what you would not like to be done to you", means:

- (A) Treat others the same way you want them to treat you
- (B) Treat all with kindness and compassion
- (C) If you want a thing done well, do it yourself
- (D) To be just and fair to others

84. To which flaw of ancient sages does the writer refer?

- (A) They are prejudiced against everyone
- (B) They are culturally backward
- (C) They are extremely conservative
- (D) They do not regard non tribals as human beings

85. Our moral sense deepens when we:

- (A) View society in a broader perspective
- (B) Develop an understanding of morality
- (C) Practise religion
- (D) Pursue our goal with single-minded devotion

DIRECTIONS: A sentence has been given with a blank space. Pick the suitable choice to fill the blank according to good usage of the English language.

86. His mother ..... last year:

- |                 |                |
|-----------------|----------------|
| (A) Pass off    | (B) Passed for |
| (C) Passed away | (D) Passed on  |

DIRECTIONS: A phrase or idea is described in each question followed by four single word choices. Select the choice which best explains the idea/phrase.

87. A child of unusual or remarkable talent:

- |               |             |
|---------------|-------------|
| (A) Diligent  | (B) Prodigy |
| (C) Brilliant | (D) Freak   |

DIRECTIONS: In each of the following sentences a word or phrase is underlined and given a number. Pick a choice of number where the error lies.

88. If my teacher will advise , I will join the part time course  
1 2 3 4

(A) 1 (B) 2 (C) 3 (D) 4

DIRECTIONS: The following sentence a portion has been underlined. There are four choices of phrasing the portion including the original. Select the best usage version from (A), (B), (C) and (D).

89. If Ram would have worked hard, he would have been selected for the job:

(A) Had Ram worked harder  
(B) If Ram had worked hard  
(C) Had Ram worked hardly  
(D) If Ram would have worked hard

90. Change the sentence into indirect speech.

Ram said to the boy, "why will you not play with me?"

(A) Ram said the boy why he will not play with me?  
(B) Ram asked the boy why he would not play with him.  
(C) Ram told the boy to play with him.  
(D) Ram asked the boy why will not play with me.

91. Correct the following sentence.

The teacher said that honesty was the best policy.

(A) The teacher told that Honesty was the best policy  
(B) The teacher said about the honesty.  
(C) The teacher said that honesty is the best policy.  
(D) The teacher advised the honesty as the best policy.

92. Combine the following sentence by using an Adverb Clause.

He is poor. He is honest.

(A) He is poor and honest. (B) He is both poor and honest.  
(C) Although he is poor, he is honest. (D) He is poor as well as honest.

93. Fill in the blanks with the correct form of verbs given in bracket.

We \_\_\_\_ (wait) for the train for nearly two hours, but it \_\_\_\_ (not arrive) yet so I don't think we \_\_\_\_ (be able to) attend the meeting on time.

(A) have been waiting, hasn't arrived, will be able to  
(B) waited, did not arrive, will  
(C) have waited, hasn't arrived, will be able to  
(D) are waiting, isn't arrived, would be able to

94. Fill in the blanks with the correct form of verbs/tenses given in bracket.

When the old woman \_\_\_\_ (hear) that her grandson \_\_\_\_ (arrest) for robbery, she \_\_\_\_ (get) a big shock.

(A) heard, had been arrested, got (B) heard, was arrested, gets  
(C) hears, is arrested, got (D) will hear, is arrested, gets

95. The question consists of a sentence with four underlined parts, one of which is incorrect as per standard use of English language. Identify the incorrect part.

Scarcely we had , reached the office , when it started , raining cats and dogs  
(A) (B) (C) (D)

96. Given below are four substitutions for the underlined part. Choose the correct alternative to make the sentence grammatically correct.

Make haste lest you should not be caught in the storm:

(A) You should be (B) You could be  
(C) You might be (D) Otherwise you can be



**DIRECTIONS:** In the following each passage consists of six sentences. The first (S1) and the sixth (S6) sentence are given in the beginning. The middle four sentences in each have been removed and jumbled up. These are labeled P, Q, R and S. You are required to find out the proper sequence of the four sentences and mark accordingly in the OMR sheet.

97.

- S1. Large part of Karnataka are located in the drought prone rain shadow of the Western Ghats characterized by low and unreliable rainfall.  
S6. Once water is made available for irrigation, the economic picture of the area would be transformed.  
P. The project occupies a triangular area lying between Krishna and Bheema rivers.  
Q. The upper Krishna project is being executed in the drought prone north eastern part of Karnataka about 456 kilometers from Bangalore in the district of Gulburga, Raichur, Bagalkot and Bijapur.  
R. The area though being subjected to vagaries of the monsoons has high fertile land.  
S. The population in this area subsists mainly on agriculture.

The proper sequence should be:

- (A) RSQP                      (B) PQSR                      (C) QPRS                      (D) PSQR

**DIRECTIONS:** In the following each passage consists of six sentences. The first (S1) and the sixth (S6) sentence are given in the beginning. The middle four sentences in each have been removed and jumbled up. These are labeled P, Q, R and S. You are required to find out the proper sequence of the four sentences and mark accordingly in the OMR sheet.

98.

- S1. In democratic countries men are equal before law, and have a voice in deciding how and by whom they shall be governed.  
S6. And they live like this not for fun, but because they are too poor to afford another room.  
P. While some few people live in luxury, many have not even enough to drink and wear.  
Q. But with respect to sharing of money- which means the sharing of the food and clothing, and houses and books and so on the system is still very unfair.  
R. There are many families of five or six persons who live in a single: they sleep and dress and wash and eat their meals; in this same room they are born; and in this same they die.  
S. Even in the finest of World's cities thousands of people live in dreadful surroundings.

The proper sequence should be:

- (A) QRSP                      (B) SRPQ                      (C) QPSR                      (D) PQRS

**DIRECTIONS:** In the following each passage consists of six sentences. The first (S1) and the sixth (S6) sentence are given in the beginning. The middle four sentences in each have been removed and jumbled up. These are labeled P, Q, R and S. You are required to find out the proper sequence of the four sentences and mark accordingly in the OMR sheet.

99.

- S1. Einstein was very simple in his ways of life and indifferent to his astounding fame  
S6. So they went back to the Queen and informed her that he had not come by the train.  
P. They could never imagine that this shabby man would be Einstein himself.  
Q. Once the queen of Belgium invited him to Brussels.  
R. The officials also expected to see somebody who would appear to be rich and aristocratic before them.  
S. When he got down from the train at Brussels, he could not think that there were actually many gorgeously dressed officials to receive him at the station.

The proper sequence should be:

- (A) PRSQ                      (B) RQPS                      (C) QSRP                      (D) SPRQ

**DIRECTIONS:** In the following question, an idiomatic expression/a proverb has been given followed by some alternative. Choose the one which best expresses the meaning of the given idiom or proverb.

100. A bull in a china shop:

- (A) A person who becomes too excited where no excitement is warranted  
(B) A person who is rough and clumsy where skill and care are required  
(C) A person who is very ugly but loves the beautiful things of life  
(D) A person who takes a sadistic delight in harming innocent people

101. Find out the correctly spelt word.

- (A) Controvercial                      (B) Contraversial  
(C) Controversial                      (D) Contriverial

102. There is a certain relation between two words on one side of sign :: Choose the suitable option that has the closest similar relation from the following alternatives.

Sculptor : Chisel ::

- (A) Pathology : Disease
- (B) Time : Seconds
- (C) Tailor : Needle
- (D) Engineer : Site

103. There is a certain relation between two words on one side of sign :: Choose the suitable option that has the closest similar relation from the following alternatives.

Soap : Cleanse ::

- (A) Confession : Purity
- (B) Medicine : Disinfectant
- (C) Towel : Absorbent
- (D) Cream : Smooth

104. Complete the sentence using the word or set of words for blank that best fits the meaning of the sentence as a whole.

I wish I ..... a king.

- (A) Was
- (B) Were
- (C) Am
- (D) Should be

105. Identify the incorrect sentence among the alternatives.

- (A) He has been in bed since 6 a.m.
- (B) The movement had gained popularity during 1984.
- (C) The Prince got on his horse and went towards the palace.
- (D) He worked in the morning till evening.

106. Choose the correct word to fill up the following sentence.

The officials have a habit of fawning ..... ministers.

- (A) Above
- (B) At
- (C) With
- (D) On

107. Choose the option that reports the following sentence in indirect speech.

He said to her, "Are you coming to the party?"

- (A) He asked her whether she was coming to the party.
- (B) He asked her if she will be coming to the party.
- (C) He asked her if she was coming to the party.
- (D) He told her if she was coming to the party.

108. Identify the incorrect sentence among the alternatives.

- (A) I wish he was my son.
- (B) He is a man of great courage.
- (C) Nobody can stop me from winning the gold medal.
- (D) What have you done to your moustaches?

109. Identify the incorrect sentence among the alternatives.

- (A) What is the time by your watch?
- (B) He will get a license at the age of eighteen.
- (C) After tea we went for a walk.
- (D) It is five minutes to be 10 o'clock.

DIRECTIONS: This question consists of a capitalized word followed by four alternatives. Select the alternative that is opposite in meaning to the capitalized word.

110. Hyperbole:

- (A) Understatement
- (B) Undue
- (C) Lessen
- (D) Climax

DIRECTIONS: This question consists of a capitalized word followed by four alternatives. Select the alternative that is opposite in meaning to the capitalized word.

111. Fragrance

- (A) Perfume
- (B) Stink
- (C) Smell
- (D) Aroma



DIRECTIONS: In the following question, identify the correct reported speech from the given alternatives.

112. He said to his wife "How many people were coming to dinner tonight."

- (A) He asked his wife how many people were coming to dinner tonight
- (B) He asked his wife how many people were coming to dinner that night
- (C) He called his wife how many people were coming to dinner that night
- (D) He narrated his wife how many people are coming to dinner that night

113. Find out the sentence in Passive Voice

- (A) The judge convicted the culprit for his offence
- (B) The culprit apologised to the judge for his offence
- (C) The judge scolded the culprit for his offence
- (D) The culprit was punished for his offence by the judge

DIRECTIONS: Mark, out of the four given choices, the correct meaning of the bold idioms phrases—

114. Dip one's pen in gall—

- (A) Seek support from others by one's writings
- (B) Take decisive action to put an end to an undesirable situation
- (C) Write spitefully
- (D) Stay calm despite provocations

DIRECTIONS: Mark, out of the four given choices, the correct meaning of the bold idioms phrases—

115. A Judas Kiss—

- (A) Affirmation of friendship despite differences
- (B) Neutralized propaganda
- (C) A day dream
- (D) Act of betrayal especially one disguised as a gesture of friendship

DIRECTIONS: Choose the correct preposition, out of four options, to be filled in the blank of the following sentence.

116. He should not be covetous ..... others riches.

- (A) on
- (B) off
- (C) of
- (D) for

DIRECTIONS: Choose the correct preposition, out of four options, to be filled in the blank of the following sentence.

117. Satish's errors may be ascribed ..... his carelessness.

- (A) at
- (B) with
- (C) for
- (D) to

DIRECTIONS: Against key word is given four suggested meanings. Choose the word or phrase which is opposite in meaning to the key word.

118. Judicious

- (A) Ambitious
- (B) Confident
- (C) Sober
- (D) Imprudent

DIRECTIONS: Fill in the blank with correct preposition.

119. I have been living ..... Panipat ..... twenty years.

- (A) In, since
- (B) at, for
- (C) in, for
- (D) at, from

DIRECTION: In the following question, fill in the gap with correct preposition.

120. The property was divided \_\_\_\_\_ the twins.

- (A) Among
- (B) Between
- (C) In
- (D) Into

निर्देश: निम्नलिखित शब्द के लिए उपयुक्त वाक्य का चयन विकल्पों में से कीजिए।

121. दुराराध्य -

- (A) दुराग्रह करने वाला व्यक्ति (B) जिसको प्रसन्न करना कठिन हो  
(C) प्रिय के चिरवियोग से उत्पन्न मनोभाव (D) इनमें से कोई नहीं

निर्देश: निम्नलिखित प्रश्न में मुहावरे के लिए चार विकल्प दिए गए हैं। इनमें से एक उचित विकल्प का चयन कीजिए।

122. सिर से तिनका उतारना -

- (A) अहं का विसर्जन करना (B) जरा सा उपकार करना  
(C) अहसान का बदला चुकाना (D) थोड़ा सा कर्ज उतारना

निर्देश: नीचे दिए गए प्रश्न में रेखांकित शब्द के चार संभावित तात्पर्य दिए गए हैं। सही विकल्प चुनिए।

123. जिगीषा -

- (A) जीतने की इच्छा (B) जानने की इच्छा  
(C) काम की इच्छा (D) पढ़ने की इच्छा

निर्देश: निम्नलिखित वाक्य में किस प्रकार की अशुद्धि है।

124. प्रत्येक नवयुवक को देश रक्षा का संकल्प लेना है:

- (A) क्रिया सम्बन्धी अशुद्धि (B) क्रिया विशेषण सम्बन्धी अशुद्धि  
(C) सर्वनाम सम्बन्धी अशुद्धि (D) लिंग सम्बन्धी अशुद्धि

125. निम्नलिखित में सूची I को सूची II से सुमेलित करें।

सूची I (शब्द)

- A. अपव्ययी  
B. पंचानन  
C. मनोवृत्ति  
D. मितव्ययी  
(A) A4, B3, C2, D1  
(C) A3, B4, C1, D2

सूची II (सम्भावित तात्पर्य)

1. मन की रुझान  
2. जो फिजूल खर्ची न करता हो  
3. जो फिजूल खर्ची करता हो  
4. पाँच मुख वाला  
(B) A2, B1, C3, D4  
(D) A4, B3, C1, D2

126. सूची I (वाक्य) को सूची II (वाक्य के लिए एक शब्द) से सुमेलित करें।

सूची I (वाक्य)

- A. जिस तक न पहुँचा जा सके  
B. जिसके बारे में कोई जानकारी न हो  
C. जिस शब्द के दो अर्थ हों  
D. वह जिसके नाम कोई वस्तु भेजी जाए  
(A) A3, B2, C1, D4  
(C) A4, B1, C2, D3

सूची II (शब्द)

1. अज्ञात  
2. श्लिष्ट  
3. प्रेषिती  
4. अगम्य  
(B) A4, B2, C1, D3  
(D) A2, B1, C3, D4

निर्देश: निम्नलिखित शब्द के लिए उपयुक्त वाक्य का चयन विकल्पों में से कीजिए।

127. जिजीविषा

- (A) जिसका जीवन विष से भरा हो (B) जीने की प्रबल इच्छा  
(C) जीने की इच्छा न होना (D) जो अपना जीवन विष पीकर समाप्त करे

निर्देश: निम्नलिखित शब्द के लिए उपयुक्त वाक्य का चयन विकल्पों में से कीजिए।

128. अप्रमेय

- (A) जो प्रेम के योग्य नहीं हो (B) जो किसी प्रमाण से सिद्ध न हो  
(C) जिसकी कोई सीमा न हो (D) जो कभी पराजित न हो

129. निम्नलिखित वाक्यों में से शुद्ध वाक्य बताएँ-

- (A) मुझे स्टेशन पहुँचने से पहले ही गाड़ी आ चुकी थी।  
(B) मेरे स्टेशन पहुँचने से पहले ही गाड़ी आ चुकी थी।  
(C) मुझको स्टेशन पहुँचने से पहले ही गाड़ी आ चुकी थी।  
(D) मेरे स्टेशन को पहुँचने से पहले ही गाड़ी आ चुकी थी।



निर्देश: निम्नलिखित शब्द के पर्यायवाची उसके नीचे दिए गए विकल्पों से उचित विकल्प द्वारा बताएँ-

130. चंद्रमा

- (A) भूप  
(C) प्रभजन

- (B) भुंग  
(D) हिमांशु

निर्देश: निम्नलिखित शब्द का विलोम बताए-

131. अज्ञ

- (A) दीर्घ  
(C) पुण्य

- (B) विज्ञ  
(D) अभद्र

निर्देश: नीचे दिए गए प्रश्न में रेखांकित शब्द के चार सम्भावित तात्पर्य दिए गए हैं। सही विकल्प चुनिए।

132. नेपथ्य -

- (A) जीवन का लक्ष्य  
(B) लक्ष्य तक पहुँचने का मार्ग  
(C) जहाँ रंग कमी अपना वेश बदलते हैं  
(D) इनमें से कोई नहीं

133. प्रेममय में कौन-सा प्रत्यय है-

- (A) मय  
(C) अ

- (B) य  
(D) अय

निर्देश: नीचे दिए गए प्रश्न में तीन वर्तनी की दृष्टि से शुद्ध है एक अशुद्ध। अशुद्ध वर्तनी को चिन्हित करें।

134.

- (A) सार्मथ्य  
(C) सूक्ष्म

- (B) नीरोग  
(D) कर्कश

निर्देश: निम्नलिखित प्रश्न में दिए गए शब्द के समानार्थी शब्द का चयन नीचे दिए गए विकल्पों में से कीजिए।

135. क्षपा -

- (A) गोपनीय  
(C) रजनी

- (B) विभावरी  
(D) यामिनी

निर्देश: निम्नलिखित प्रश्न में विकल्पों में से सही शब्द का चयन करें।

136. बाण बड़ा उपयोगी ..... है -

- (A) शस्त्र  
(C) अस्त्र शस्त्र

- (B) अस्त्र  
(D) हथियार

137. कारागार का सन्धि विच्छेद होगा:

- (A) कार+अगर  
(C) कारा+अगर

- (B) कार+आगार  
(D) कारा+आगर

138. रचनाओं (सूची I) को उनके लेखकों (सूची II) से सुमेलित करें।

सूची I (रचनाएँ)

- A. गीतांजली  
B. अर्द्धनारीश्वर  
C. कामायनी  
D. पंचतन्त्र

- (A) A1, B2, C3, D4  
(C) A3, B2, C4, D1

सूची II (लेखक)

1. विष्णु शर्मा  
2. रविन्द्र नाथ टैगोर  
3. रामधारी सिंह दिनकर  
4. जयशंकर प्रसाद

- (B) A2, B3, C1, D4  
(D) A2, B3, C4, D1

निर्देश: निम्नलिखित प्रश्न में प्रत्येक मुहावरे के लिए चार विकल्प दिए गए हैं। इनमें से एक उचित विकल्प का चयन करें।

139. बछिया का ताऊ:

- (A) मूर्ख  
(C) भीरु

- (B) साहसी  
(D) इनमें से कोई नहीं

निर्देश: नीचे प्रत्येक वर्ग में दिए गए विकल्पों में से तत्सम शब्द का चयन कीजिए।

140.

- |          |          |
|----------|----------|
| (A) जीभ  | (B) भगत  |
| (C) कोटि | (D) अंधा |

निर्देश: निम्नलिखित प्रश्न में मुहावरे के लिए चार विकल्प दिए गए हैं। इनमें से उचित विकल्प का चयन कीजिए।

141. रंगा सियार होना

- |                |                 |
|----------------|-----------------|
| (A) मित्र होना | (B) शत्रु होना  |
| (C) धूर्त होना | (D) वश में होना |

142. पानी-पानी होना

- |                                      |                        |
|--------------------------------------|------------------------|
| (A) बर्फ से पानी बनना                | (B) चारों ओर पानी होना |
| (C) सभी लोग पानी की माँग एक साथ करें | (D) बहुत लज्जित होना   |

निर्देश: निम्नलिखित प्रश्न में दिए गए शब्द में प्रयुक्त सन्धि के प्रकार का चयन उसके नीचे दिए गए विकल्पों में से करें।

143. नाविक

- |                 |                |
|-----------------|----------------|
| (A) अयादि संधि  | (B) दीर्घ संधि |
| (C) वृद्धि संधि | (D) गुण संधि   |

निर्देश: निम्नलिखित शब्द के लिए उसके नीचे दिए गए विकल्पों में से उपयुक्त समास बताएँ।

144. मरणासन्न

- |              |              |
|--------------|--------------|
| (A) कर्मधारय | (B) द्विगु   |
| (C) तत्पुरुष | (D) द्वन्द्व |

निर्देश: निम्नलिखित प्रश्न में दिए गए शब्द के नीचे चार वाक्यांश दिए गए हैं जो मेल खाता है उसे चुनिए-

145. कल्पनातीत

- (A) जिसे गुप्त रखा जाए  
(B) जो कल्पना से परे हो  
(C) जिसका अतीत कल्पना से भरा हो  
(D) कल्पना या गुप्त विचारों का ज्ञाता

146. भारत सरकार ने हिन्दी को राजभाषा के रूप में कब स्वीकार किया?

- |                     |                     |
|---------------------|---------------------|
| (A) 14 सितम्बर 1948 | (B) 14 सितम्बर 1949 |
| (C) 14 सितम्बर 1950 | (D) 14 सितम्बर 1951 |

147. 'तरणि तनूजा तट-तमाल तरुवर बहु छाए' - पंक्ति में प्रयुक्त अलंकार का नाम बताएँ

- |                 |                     |
|-----------------|---------------------|
| (A) रूपक अलंकार | (B) श्लेष अलंकार    |
| (C) यमक अलंकार  | (D) अनुप्रास अलंकार |

148. 'देख लो साकेत नगरी है यही, स्वर्ग से मिलने गगन में जा रही' - पंक्ति में प्रयुक्त अलंकार का दिए गए विकल्पों में से चयन करें।

- |                |          |
|----------------|----------|
| (A) अतिशयोक्ति | (B) यमक  |
| (C) श्लेष      | (D) रूपक |

निर्देश: निम्नलिखित लोकोक्तियों के अर्थ दिए गए विकल्पों में से चयन करें।

149. तेते पाँव पसरिए जेती लांबी सौर

- (A) आमदनी के अनुसार कार्य करना चाहिए  
(B) पाँव जब तक न थके तब तक सैर करनी चाहिए  
(C) आमदनी से अधिक व्यय करना चाहिए  
(D) इनमें से कोई नहीं

150. नीचे प्रत्येक वर्ग में दिए विकल्पों में से तद्भव शब्द का चयन कीजिए-

- |            |           |
|------------|-----------|
| (A) अँधेरा | (B) सर्प  |
| (C) दधि    | (D) चंद्र |



151. निम्नलिखित विकल्पों में चार वैकल्पिक वर्तनियाँ दी गई हैं। सही वर्तनी वाले शब्द का चयन कीजिए-

- (A) उत्साह
- (B) उद्धृत
- (C) ऊदघाटन
- (D) उद्घोस

152. निर्देश:- रचनाओं (सूची I) को उनके लेखकों (सूची II) से सुमेलित करें।

सूची I (रचनाएँ)

- A. मंगलसूत्र
- B. स्मृति की रेखाएँ
- C. वरुण के बेटे
- D. मधुकलश

- (A) A1, B3, C2, D4
- (C) A4, B1, C2, D3

सूची II (लेखक)

- 1. हरिवंश राय बच्चन
- 2. नागार्जुन
- 3. प्रेमचंद
- 4. महादेवी वर्मा

- (B) A2, B3, C1, D4
- (D) A3, B4, C2, D1

153. 'सञ्ज्ञा' शब्द में कौन-सी संज्ञा है:

- (A) व्यक्तिवाचक
- (B) भाववाचक
- (C) जातिवाचक
- (D) समूहवाचक

154. निम्नलिखित विकल्पों में चार वाक्य दिए गए हैं, अशुद्ध वाक्य बताएँ।

- (A) जंगली हाथी से डरे हुए लोग भयभीत हैं।
- (B) मधुर वाणी अमृत के समान काम करती है।
- (C) लोग चिलम के अभ्यस्त हो गए थे।
- (D) अपने विचारों को उच्च बनाए रखना चाहिए।

155. 'भुलकड़' शब्द में मूल शब्द तथा प्रत्यय है-

- (A) भुलक+अकड़
- (B) भूल+अकड़
- (C) भू+लकड़
- (D) भूला+कड़

निर्देश: निम्नलिखित शब्द के नीचे दिए गए विकल्पों में से उपयुक्त वर्ण-विच्छेद का चयन करें।

156. अध्यापक

- (A) अ + ध् + य् + अ + प् + अ + क् + अ
- (B) अ + ध् + अ + य् + आ + प् + अ + क् + अ
- (C) अ + ध् + अ + य् + आ + प् + क् + अ
- (D) अ + ध् + य् + आ + प् + अ + क् + अ

157. 'अध्ययन' संज्ञा शब्द का उपयुक्त विशेषण है-

- (A) अध्यात्म
- (B) अध्येता
- (C) अध्याय
- (D) आध्यात्मिक

निर्देश: निम्नलिखित प्रश्न में दिए गए शब्दों का उचित सन्धि विच्छेद चुनिए।

158. नाविक

- (A) न+अविक
- (B) नौ+इक
- (C) नाव+इक
- (D) नावि+क

निर्देश: हिन्दी में ऐसे अनेक शब्द हैं जो अनेकार्थी होते हैं। निम्नलिखित प्रश्नों में दिए गए शब्दों के विकल्पों में अनेकार्थी शब्द दिए गए हैं जो उस शब्द का अर्थ नहीं हो सकता उसे चुनिए-

159. कनक

- (A) सोना
- (B) धतूरा
- (C) गेहूँ
- (D) कान

160. 'दीपशिखा' किसकी रचना है?

- (A) जयशंकर प्रसाद
- (B) महादेवी वर्मा
- (C) सूर्यकान्त त्रिपाठी
- (D) मुंशी प्रेमचंद

2000



SE



**Answer Keys of 21.06.2017 Examination**

Q.No.	Ans	Q.No.	Ans	Q.No.	Ans	Q.No.	Ans
1	B	41	A	81	B	121	B
2	C	42	C	82	C	122	B
3	D	43	B	83	A	123	A
4	C	44	D	84	D	124	A
5	C	45	D	85	B	125	C
6	D	46	C	86	C	126	C
7	A	47	A	87	B	127	B
8	C	48	A	88	B	128	B
9	A	49	C	89	B	129	B
10	B	50	C	90	B	130	D
11	D	51	D	91	C	131	B
12	C	52	C	92	C	132	B
13	B	53	D	93	A	133	A
14	B	54	B	94	A	134	A
15	D	55	B	95	A	135	A
16	D	56	D	96	A	136	B
17	B	57	A	97	A	137	B
18	B	58	C	98	C	138	D
19	A	59	A	99	C	139	A
20	A	60	D	100	B	140	C
21	C	61	B	101	C	141	C
22	C	62	C	102	C	142	D
23	D	63	D	103	B	143	A
24	C	64	A	104	B	144	C
25	D	65	B	105	D	145	B
26	C	66	C	106	D	146	B
27	B	67	D	107	C	147	D
28	B	68	C	108	A	148	A
29	B	69	B	109	D	149	A
30	C	70	B	110	A	150	A
31	A	71	B	111	B	151	B
32	B	72	A	112	B	152	D
33	B	73	D	113	D	153	D
34	C	74	B	114	C	154	A
35	C	75	B	115	D	155	B
36	C	76	C	116	C	156	D
37	B	77	A	117	D	157	B
38	B	78	C	118	D	158	B
39	D	79	C	119	C	159	D
40	A	80	B	120	B	160	B

**अनुवाद**  
**Translation**

**समयावधि : दो घंटे**

**Time: 2 Hours**

**पूर्णांक : 100**

**Full Marks : 100**

**निर्देश : सभी प्रश्न अनिवार्य हैं। उनके लिए निर्धारित अंक यथास्थान निर्दिष्ट हैं।**

**Instruction: All questions are compulsory. Marks allocated are indicated in right hand margin.**

**1. Translate the following passage in Hindi:**

**25**

**Union Budget: Fiscally Pragmatic**

The budget is a major component of the fiscal policy. The objective of any macroeconomic policy is steady growth, which can be achieved through implementation of fiscal policy and monetary policy. The aim of fiscal policy is enhancing employment and ensuring sustainable growth while the monetary policy, through controlling inflation aims to create a conducive environment for the economy to flourish. Given the objectives of promoting growth and employment, fiscal policy uses various instruments to ensure good education and skill formation, healthy workforce through efficient public health institutions, robust infrastructure to facilitate commerce, and security of assets through dedicated security forces, administration and judiciary. To finance this essential expenditure for meeting its basic responsibilities, the government has to raise resources through direct and indirect taxes, collect dividend and profits from public sector enterprises, and as a final resort, undertake long and short term borrowing, from domestic and external sources. The raising and spending of financial resources by the Government have implications for work, consumption, savings, leisure and investment in the domain of fiscal policy.

**2. निम्नलिखित अवतरण का अँग्रेजी में अनुवाद कीजिए :**

**25**

**विशेष निदेश**

प्रत्येक व्यक्ति किसी परिवेदना के निवारण के लिए संघ या राज्य के किसी अधिकारी या प्राधिकारी को, यथास्थिति संघ में या राज्य में प्रयुक्त किसी भाषा में अभ्यावेदन देने का अधिकारी होगा।



प्रत्येक राज्य और राज्य के भीतर प्रत्येक स्थानीय प्राधिकारी, भाषाई अल्पसंख्यक-वर्गों के बालकों को शिक्षा के प्राथमिक स्तर पर मातृभाषा में शिक्षा प्रदान करने की पर्याप्त सुविधाओं की व्यवस्था करने का प्रयास करेगा और राष्ट्रपति किसी राज्य को ऐसे निदेश दे सकेंगे जो वह ऐसी सुविधाओं का उपबंध सुनिश्चित कराने के लिए आवश्यक या उचित समझते हैं।

संघ का यह कर्तव्य होगा कि वह हिन्दी भाषा का प्रसार बढ़ाए, उसका विकास करे जिससे वह भारत की सामासिक संस्कृति के सभी तत्त्वों की अभिव्यक्ति का माध्यम बन सके और उसकी प्रकृति में हस्तक्षेप किए बिना हिंदुस्तानी में और आठवीं अनुसूची में विनिर्दिष्ट भारत की अन्य भाषाओं में प्रयुक्त रूप, शैली और पदों को आत्मसात करते हुए और जहाँ आवश्यक या वांछनीय हो वहाँ उसके शब्द-भंडार के लिए मुख्यतः संस्कृत से और गौणतः अन्य भाषाओं से शब्द ग्रहण करते हुए उसकी समृद्धि सुनिश्चित करे।

**3. Provide the meaning of the following parliamentary expressions in Hindi:**

10

- i) Covenant
- ii) Terms of reference
- iii) Treasury Benches
- iv) Divisions
- v) Guillotine
- vi) To name a member
- vii) To cross the floor
- viii) To catch the chair's eye
- ix) To clear the galleries
- x) To raise a point of order

**4. Write the Hindi equivalent of each of the following:**

5X1

- i) Vis Major
- ii) Rule Pleading
- iii) Retrieved
- iv) Chaotic irregularity
- v) In conformity with

**5. निम्नलिखित वाक्यांशों के लिए उचित हिन्दी शब्द लिखिए :**

5X1

- i) सर्वाधिकार सम्पन्न शासक
- ii) जारी किया गया आधिकारिक आदेश

- iii) जो पहले कभी सुना नहीं गया
- iv) जो घबराहट के कारण अपने कर्तव्य का निश्चय न कर सके
- v) अगहन और पूस में पड़ने वाली ऋतु

6. निम्नलिखित के विलोम लिखिए :

5X1

- i) अनभिज्ञ
- ii) अनीश
- iii) पाश्चात्य
- iv) उपमान
- v) नश्वर

7. यदि निम्नलिखित वाक्य अशुद्ध प्रतीत हों तो अशुद्धि सम्बन्धी कारण का संकेत देते हुए उनके शुद्ध रूप लिखिए अन्यथा उन्हें पूर्व रूप में रहने दें।

5X1

- i) प्रेम करना तलवार की नौक पर चलना है।
- ii) मेरे आँसू से रुमाल भीग गया।
- iii) जो सोवेगा वह खोवेगा।
- iv) मुझे बड़ी भूख लगी है।
- v) माली जल से पौधों को सींच रहा था।

8. भाषा की अभिव्यंजना-शक्ति को ध्यान में रखकर निम्नांकित मुहावरेदार वाक्यों का अँग्रेजी में अनुवाद कीजिए :

10

काठ के उल्लू से असली उल्लू ही अच्छा है क्योंकि असली उल्लू को तो सिर्फ रात में नहीं दिखाई देता, किन्तु काठ के उल्लू को तो कभी भी नहीं दिखाई पड़ता। लोग समझते हैं कि वह मनमानी करता है, परन्तु तथ्य यह है कि उसे करणीय और अकरणीय का ज्ञान ही नहीं होता। वस्तुतः सभी काठ के उल्लू एक ही साँचे में ढले होते हैं। सभी के सिर पर भूत ही सवार रहता है। समझदारों को चाहिए कि काठ के उल्लूओं को मुँह न लगाएँ।

9. Differentiate between following words by giving meanings and examples in English:

2X5

- i) Sensible: Sensitive
- ii) Piety : Pity
- iii) Official: Officious
- iv) Bona fide : Bona fides
- v) Canon : Cannon